

社 会

注 意 事 項

- 1 試験開始の合図があるまで、この問題冊子の中及び解答用紙を見てはいけません。
- 2 問題の内容に関する質問には、一切答えられません。ただし、試験中に問題冊子の印刷不鮮明、ページの落丁・乱丁、解答用紙の汚れ等に気付いた場合は、静かに手をあげて試験監督に知らせてください。
- 3 この問題冊子も回収するため、試験開始前に試験監督の指示に従い表紙下の受験番号欄に、受験番号（数字）を記入してください。
- 4 解答用紙には、次の欄があります。

①受験番号欄

試験開始後すぐに、受験番号を記入してください。

②解答欄


解答は、解答欄をはみ出さずにていねいに記入してください。
はみ出すと採点されない場合があります。

③シール貼り付け欄

試験監督の指示に従い、QRコードシールを1枚貼り付けてください。

受 験 番 号			

- 1 次の文章を読んで、あとの問に答えなさい。
著作権の関係上、非表示にしています。



問1 下線部①について、次の表は2018年度の埼玉県の主要作物の作付面積の収穫量^{さくつけめんせき}をあらわしたものである。(X)に入る農作物の名前を答えなさい。

農作物	作付面積	収穫量
(X)	2,380ha	55,500t
ほうれんそう	2,020ha	24,200t
ブロッコリー	1,240ha	14,000t

(参考資料：関東農政局「埼玉農林水産統計年報」, 「関東農林水産統計年報」)

問2 下線部②について、群馬県について説明した文として、誤っているものを次のア～エの中から1つ選び、記号で答えなさい。

ア. 北関東工業地域では工業団地がつくられ、電気機械工場や自動車工場が進出している。

イ. 高原野菜の促成栽培が行われ、嬭恋村ではキャベツの生産がさかんである。

ウ. 昔は養蚕業がさかんで、富岡製糸場は2014年に世界文化遺産に登録された。

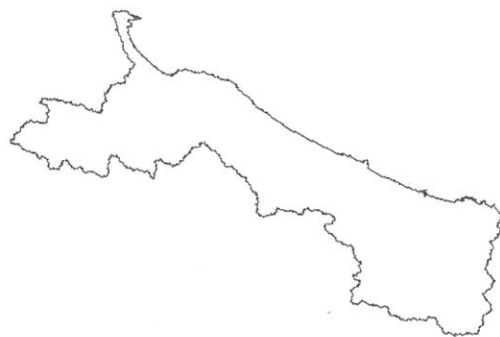
エ. 冬に北西から吹く「からっ風」とよばれる季節風を防ぐため、防風林が多くみられる。

問3 下線部③について、次の図のア～エから京都府の地図を1つ選び、記号で答えなさい。

ア.



イ.



ウ.




エ.




問4 下線部④について、静岡県の製造品出荷額の割合グラフとして正しいものを、次のア～エから1つ選び、記号で答えなさい。

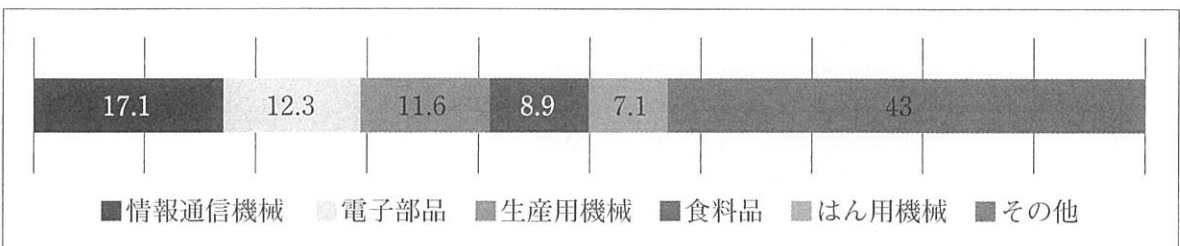
ア.



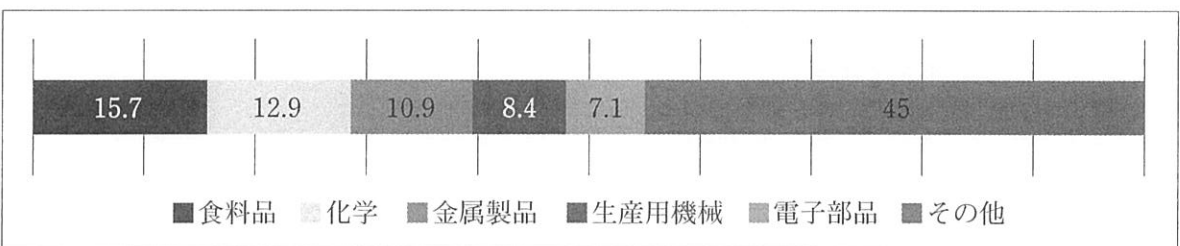
イ.



ウ.



エ.

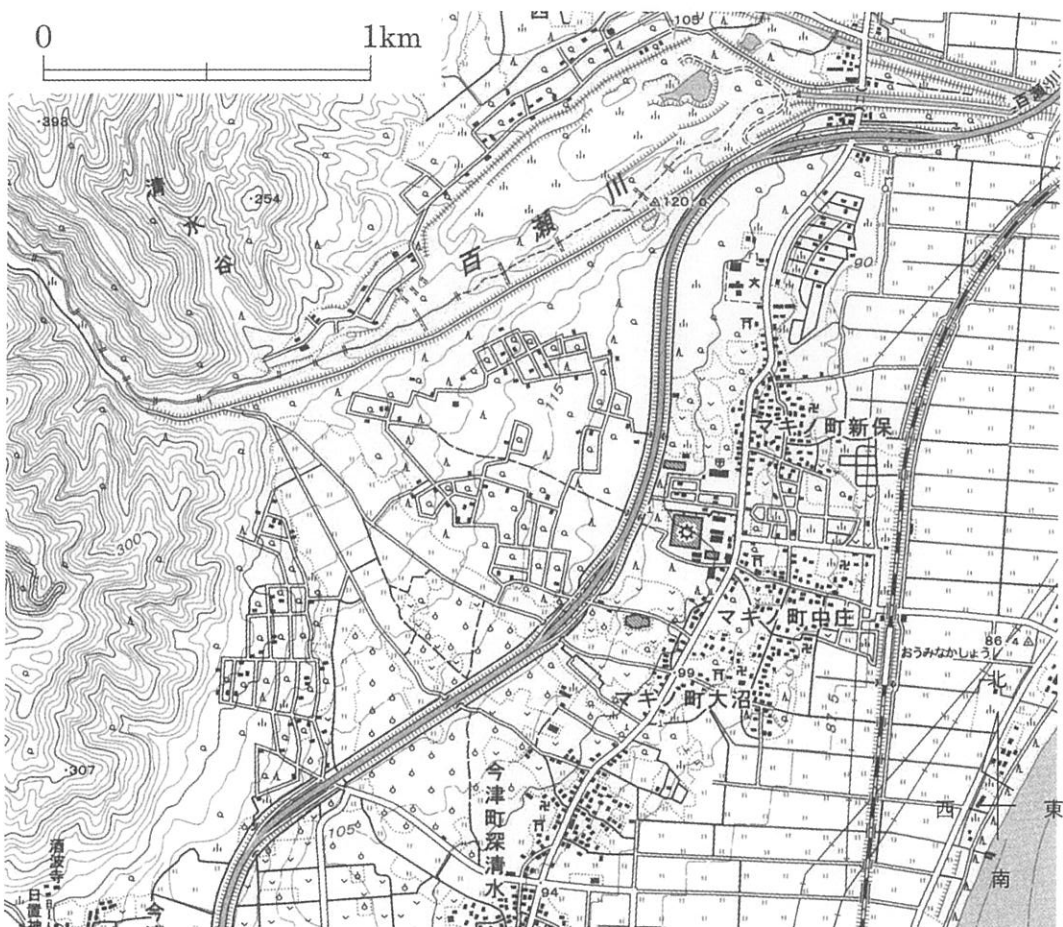


(参考資料：「データで見る県勢 2021 年版」より作成)

問5 下線部⑤について、渋沢栄一の創設した会社に大阪紡績会社（現在の東洋紡）がある。この会社は大阪を代表する川である淀川の河口付近に建てられた。淀川について、次の問に答えなさい。

(1) 淀川の水源地となっている日本最大の面積をもつ湖の名前を漢字で答えなさい。

(2) 次の図は淀川の水源地となっている湖の周辺の地形図である。地形図から読み取れることとして誤っているものを、次のア～エから1つ選び、記号で答えなさい。

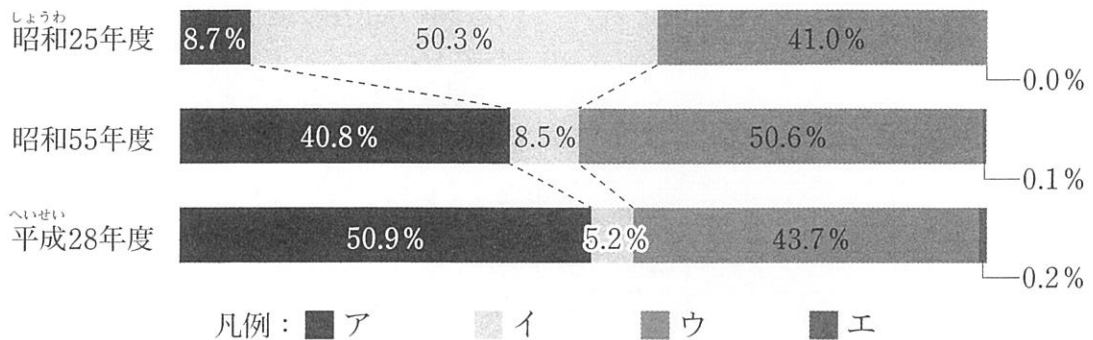


(出典：国土地理院 1：25000 地形図「海津」)

- ア. 西から東にかけて、なだらかな傾斜になっており、茶畑が広がっている。
- イ. 中央を走る高速道路の東には集落や田んぼが広がっている。
- ウ. 中央を走る高速道路の西は広葉樹林と針葉樹林が広がっている。
- エ. この地形は川の流れがなだらかになったところに土砂が堆積してできている。

問6 下線部⑥について、渋沢栄一は日本各地の鉄道会社の設立にも関わった。次のグラフは国内の貨物輸送の手段を示したもので、下のグラフのア～エには鉄道、船舶、自動車、航空機のいずれかが入る。このうち、鉄道にあたるものを次のア～エから1つ選び、記号で答えなさい。

輸送機関別の分担率の移り変わり（トンキロベース：トン数に輸送距離をかけた単位）



(資料：国土交通省)

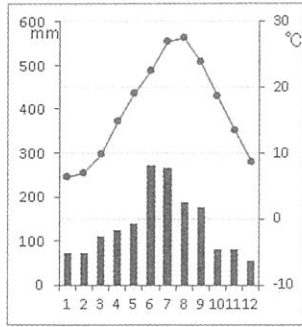
問7 下線部⑦について、渋沢栄一は岡山県や愛媛県などの瀬戸内地方の学校創立にも関わった。次の問に答えなさい。

(1) 近年、岡山県の倉敷市でさかんな産業を次のア～エから1つ選び、記号で答えなさい。

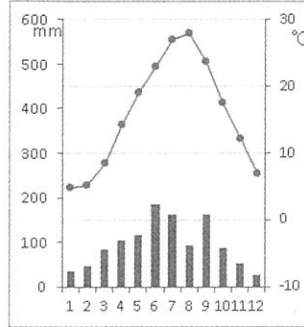
- ア. 液晶パネル イ. ジーンズ ウ. タオル エ. まほうびん

(2) 瀬戸内地方の雨温図を次のア～エから1つ選び、その理由を下の地図を参考に1行程度で説明しなさい。

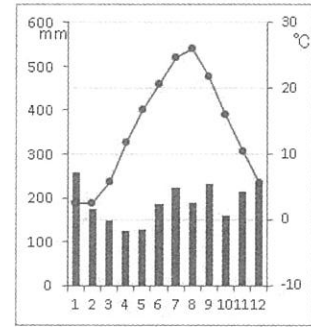
ア.



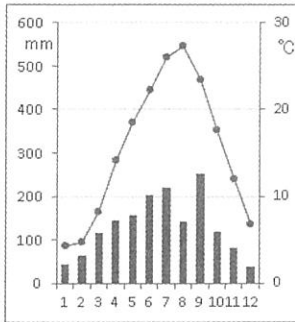
イ.



ウ.



エ.



地図




(出典：国土地理院)

問8 下線部⑧について、次の地図は^{いたく}渋沢栄一の邸宅があった飛鳥山の現在の周辺地図である。下の写真が撮影された地点として正しいものを地図上のア～エから1つ選び、記号で答えなさい。



(出典：国土地理院)

写真



(出典：google map)

問題文は次ページに続きます。

2 次の文章を読んで、あとの問に答えなさい。

石川くんは、社会科の調べ学習で、日本の歴史上の人物を1人選んで調べることに
なった。そこで、なやんだ結果、石川くんは亡くなって1400年となることを記念して
展覧会が開かれている聖徳太子について調べることにした。すると、なぜ聖徳太子が
今も日本人の間で親しまれているのかがわかってきた。

問1 石川くんはまず、聖徳太子が生きていた時代について調べた。この時代、また
はそれ以前の時代についてまとめた文章として誤っているものを次のア～エから
1つ選び、記号で答えなさい。

ア. 日本は女王を中心とした国としてまとまりつつあり、中国の皇帝から金印を
授けられた。

イ. 大きく2つに対立した国を1つにまとめた人物が、中国の皇帝から「日本国
王」と呼ばれた。

ウ. 有力な豪族たちが次々に巨大な前方後円墳を作って自らの力の強さを示した。

エ. 稲作を中心とした農業の技術が著しく発達し、コメが主な税として納められ
るようになった。

問2 石川くんが聖徳太子について調べてみると、そもそも「聖徳太子」という名前は、
この人物を尊敬して表したものであり、本名ではないことがわかった。この
人物の本当の名前とされているものを次のア～エの中から1つ選び、記号で答え
なさい。

ア. 中大兄皇子 イ. 厩戸皇子 ウ. 大海人皇子 エ. 大友皇子

問3 聖徳太子は推古天皇の政治を支え、天皇が政治の中心となる国のしくみを作る
ために力を尽くした。このために聖徳太子が中心となって作られたのが憲法十七
条である。

(1) 憲法十七条の内容として誤っているものを、次のア～エから1つ選び、記号
で答えなさい。

ア. 天皇の命令が出されたら必ずそれに従いなさい。

イ. 和を大切にして、人といさかいを起こさないようにしなさい。

ウ. 冠の色を十二色に分け、天皇に対する働きによって区別しなさい。

エ. 役人はみな、礼儀を物事の基本として行動しなさい。

(2) 聖徳太子がその後の日本で尊敬されるにしたがって、のちの時代の人はその偉大さにあやかろうとした。たとえば鎌倉幕府は、御家人に対する法律を定めるにあたって、条文の数を憲法十七条の17を基準として、それを3倍にした51箇条とした。鎌倉幕府が作り、そののち江戸時代まで続く武家社会の考え方の基本として影響を与え続けたこの法律を何というか。

問4 聖徳太子は、当時天皇の力をもしのぐ勢いを持っていた豪族たちの力をおさえたり、天皇のために協力させようとした。このために聖徳太子が行ったこととして正しいものを、次のア～エから1つ選び、記号で答えなさい。

- ア. もっとも力の強かった豪族の菅原道真を殺害した。
- イ. もっとも力の強かった豪族の藤原道長と協力して政治をおこなった。
- ウ. もっとも力の強かった豪族の蘇我馬子と協力して政治をおこなった。
- エ. もっとも力の強かった豪族の中臣鎌足を殺害した。

問5 聖徳太子がめざした天皇を中心とした政治のしくみは、太子の死から約80年後に完成した。701年に制定された、政治のしくみや裁判の決まりなどを定めた法律を何というか。

問6 石川くんは調べているうちに、天皇を中心とした政治という考えは、19世紀後半に再びさかんに唱えられ、その考え方をもつ人たちが、やがて江戸幕府を倒し、新しい明治新政府を作り出していったことに気づいた。この明治の天皇中心の国づくりの一つの到達点が、憲法十七条と同じ「憲法」の名がついた大日本帝国憲法の制定といえる。大日本帝国憲法についての説明として正しいものを、次のア～エから1つ選び、記号で答えなさい。

- ア. この憲法はフランスの憲法を参考にして作られた。
- イ. この憲法は国民の言論の自由を制限つきではあるが認めている。
- ウ. この憲法では国会を衆議院と参議院の二院制としている。
- エ. この憲法では軍は内閣の命令によって行動するものとされていた。

問7 石川君は、聖徳太子が築いた中国との新たな外交関係についても調べた。これについて以下の問いに答えなさい。

(1) 607年に聖徳太子が中国に使者を派遣した時に中国を支配していた王朝の名前を、次のア～オから1つ選び、記号で答えなさい。

ア. 元 イ. 唐 ウ. 明 エ. 隋 オ. 秦

(2) 聖徳太子が中国の皇帝にあてた手紙(国書)には、それまでの日本の中国に対する態度とは明らかに異なり、天皇と中国の皇帝をともに「天子」と呼んで対等にあつかう表現があった。これに対し中国の皇帝は無礼であるとして怒るが、最終的には受け入れた。なぜ聖徳太子は、天皇と中国の皇帝を対等とする国書を送ったのか。そして中国はなぜそれを受け入れたのか。下の【手がかり】①～④を参考に、それらの理由としてあてはまらないと思うものを【選択肢】ア～オの中から1つ選び、記号で答えなさい。

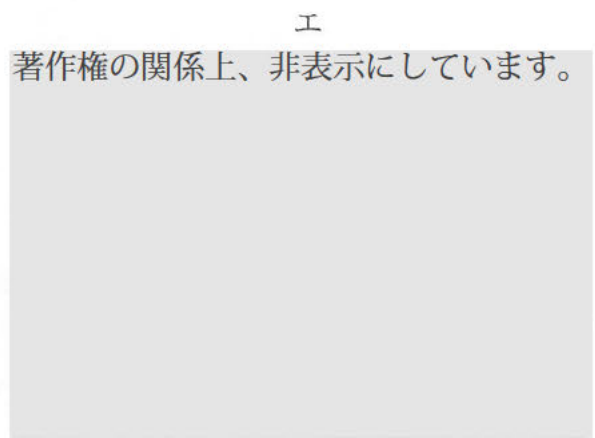
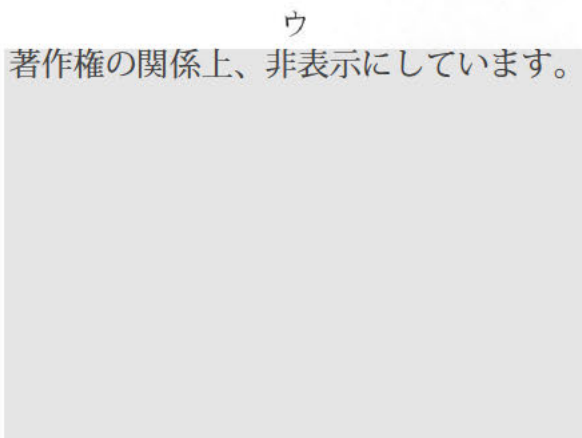
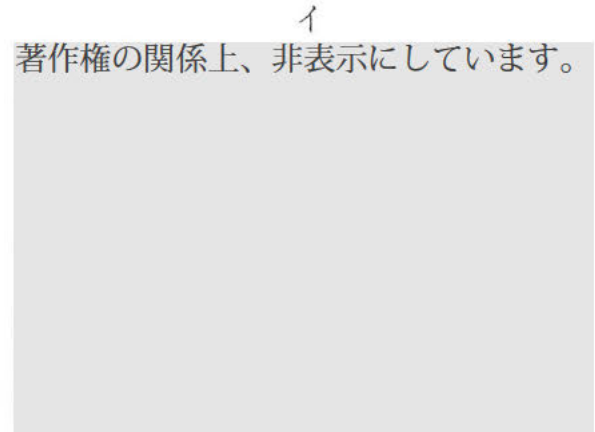
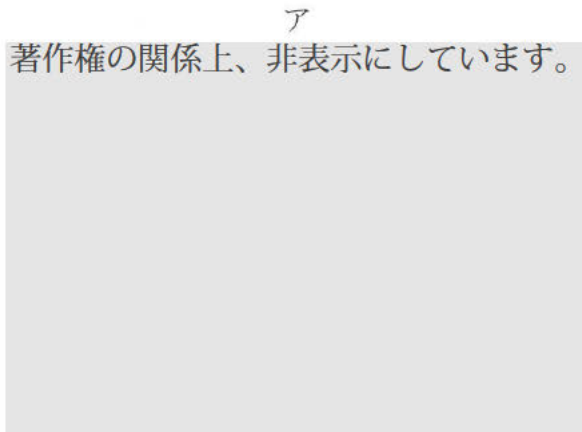
【手がかり】

- ①当時の日本は朝鮮半島に勢力範囲を持っていたが、半島を支配する新羅や百済に奪われてしまった。
- ②天皇を中心として豪族が連合するヤマト政権の構造が、豪族の強大化により崩れつつあった。
- ③朝鮮半島北部にあった高句麗は当時、強い力をもって領地を拡大しようとして、周辺の国と争っていた。
- ④日本は中国や朝鮮半島から最新の文化や技術を積極的に取り入れていた。

【選択肢】

- ア. 日本が朝鮮半島の勢力範囲を回復するため、半島の国々に対して有利な立場に立ちたかったから。
- イ. 天皇が豪族たちよりも上にあることを示す必要があったから。
- ウ. 中国が持つ進んだ文化や技術を取り入れたかったから。
- エ. 中国が高句麗と戦うときに、日本と対立するよりもむしろ利用したほうが良いから。
- オ. 日本は高句麗と手を結び、朝鮮半島に勢力を拡大したかったから。

問8 聖徳太子が偉大な人物として尊敬される大きな理由の1つに、当時まだ日本に伝わって間もない仏教を広めたことがあげられる。聖徳太子が建てた、現存する世界で最も古い木造建築もくぞうけんちくとされているお寺を次のア～エの写真から1つ選び、記号で答えなさい。



問9 聖徳太子が日本に広めた仏教は、その後、多くの僧によって発展したが、石川くんが調べてみると、聖徳太子が亡くなったちょうど200年後の平安時代初めに、延暦寺えんりやくじを建てて天台宗てんだいしゅうを開いた僧が亡くなっていることに気づいた。この僧を、次のア～オから1つ選び、記号で答えなさい。

ア. 空海くうかい イ. 鑑真がんじん ウ. 最澄さいちよう エ. 日蓮にちれん オ. 親鸞しんらん

問10 下の肖像画は聖徳太子を描いたものであると長く信じられてきたものである。この肖像画をもとにして、聖徳太子は昭和の時代に長く日本の「お札の顔」として採用されていた。明治時代に入り、現在につながるお金の仕組みができて以来、お札には多くの歴史上の偉人が採用されている。石川くんは平成の時代に使われたお札に採用された人物を調べたところ、共通する特徴を発見した。【お札の顔】に挙げられている①～④の人物をもとに、共通する特徴として誤っていると考えられるものを【特徴】のア～エから1つ選び、記号で答えなさい。

著作権の関係上、非表示にしています。

著作権の関係上、非表示にしています。

【お札の顔】

①夏目漱石
著作権の関係上、非表示にしています。

②樋口一葉
著作権の関係上、非表示にしています。

③新渡戸稲造
著作権の関係上、非表示にしています。

④福沢諭吉
著作権の関係上、非表示にしています。

【特徴】

- ア. 明治時代以後に活躍した人物。
- イ. 日本の政治の近代化に貢献した人物。
- ウ. 日本の文化の発展に貢献した人物。
- エ. 現在も読みつがれる著作をあらわした人物。

問題文は次ページに続きます。

3 次のA～Cの文章を読んで、あとの間に答えなさい。

A. 第一次世界大戦の反省から、① アメリカ大統領の提案で、1920年に平和のための組織である② 国際連盟が設立された。しかし、その力は弱く、第二次世界大戦を防ぐことはできなかった。

1939年から1945年にかけて、ドイツ・イタリア・日本の枢軸国とイギリス・フランス・アメリカ・ソ連などの連合国との間で、第二次世界大戦が起こった。この戦争は連合国の勝利に終わったが、全世界をまきこみ、各国は大きな損害を受けた。

1945年、国際連盟の失敗をふまえ、アメリカ大統領の提案から、平和のための新しい組織として国際連合が成立した。

B. 第二次世界大戦後の世界は、アメリカや西ヨーロッパなどを中心とする資本主義の国々と、ソ連や東ヨーロッパなどを中心とする社会主義の国々とが対立した。米ソが直接戦うことはなかったが、激しく対立したため、この状態は「冷たい戦争（冷戦）」と呼ばれた。

1989年、米ソ首脳によるマルタ会談で冷戦の終結が宣言された。同じ年、東西対立の象徴であったベルリンの壁が崩壊し、東ヨーロッパの国々では社会主義政権がくずれていった。1991年にはソ連が解体してロシア連邦と11の共和国に分かれ、CIS（独立国家共同体）をつくった。

冷戦終結後も、各地では戦争が絶えなかった。1991年の③ 湾岸戦争、1999年のコソボ紛争、パレスチナ紛争など、たび重なる平和への努力も実らず、現在でも世界では戦争や紛争が起こっている。

C. 1945年4～6月、第二次世界大戦の連合国約50か国が、サンフランシスコで会議を開いて国際連合憲章が起草され、戦争終了後の10月に国際連合が成立した。

国際連合は、世界の平和と安全を守り、世界の国々が仲よく発展していくことを進め、世界の人々の人権と自由を尊重し、生活や文化を高めることを主な目的としている。

国際連合のおもな機関は、全加盟国からなる国際連合の最高機関である総会、国際連合の第一の目的である平和と安全を守る仕事をする中心機関である④ 安全保障理事会などがある。また、⑤ 各分野の専門機関もあり、経済社会理事会と協力して、経済・社会・教育・保健・交通などで国際協力を進めている。

国際連合はさまざまな課題に取り組んでいるが、平和の実現への取り組みとしては、休戦後の紛争地域で中立の立場で行われる平和維持活動が、⑥PKFにより行われている。

問1 下線部①について、このアメリカ大統領は誰か。正しいものを次のア～エから1つ選び、記号で答えなさい。

- ア. オバマ
イ. フランクリン＝ルーズベルト
ウ. セオドア＝ルーズベルト
エ. ウィルソン

問2 下線部②について、国際連盟についての説明として正しいものを次のア～エから1つ選び、記号で答えなさい。

- ア. 集団安全保障の考え方に立つ、世界で二番目の国際組織である。
イ. アメリカは議会の反対で参加できず、日本などは途中で脱退してしま^だった。
ウ. 会議の取り決めが過半数^{かはんすう}を原則としていたため、決定がはやかった。
エ. 国際連盟は武力制裁^{ぶりよくせいざい}ができたが、武力の行使に制限があった。

問3 下線部③について、湾岸戦争のおこった場所を、地図上のア～エから1つ選び、記号で答えなさい。



問4 下線部④について、安全保障理事会の常任理事国^{じょうにんりじこく}ではない国を、次のア～エから1つ選び、記号で答えなさい。

ア. 中国 イ. イギリス ウ. ドイツ エ. フランス

問5 下線部⑤について、次の i～iii の説明にあてはまる専門機関^{りやくしやう}の略称をアルファベット大文字で答えなさい。

- i. 人々の健康水準^{すいじゆん}を引き上げることを目標とし、医学の研究などを行う機関。
- ii. 為替相場^{かわせそうば}を安定させ経済危機^{きき}を防止する機関で、本部はワシントンにある。
- iii. 教育・科学・文化を通して国際理解を深め、平和を実現しようとする機関。

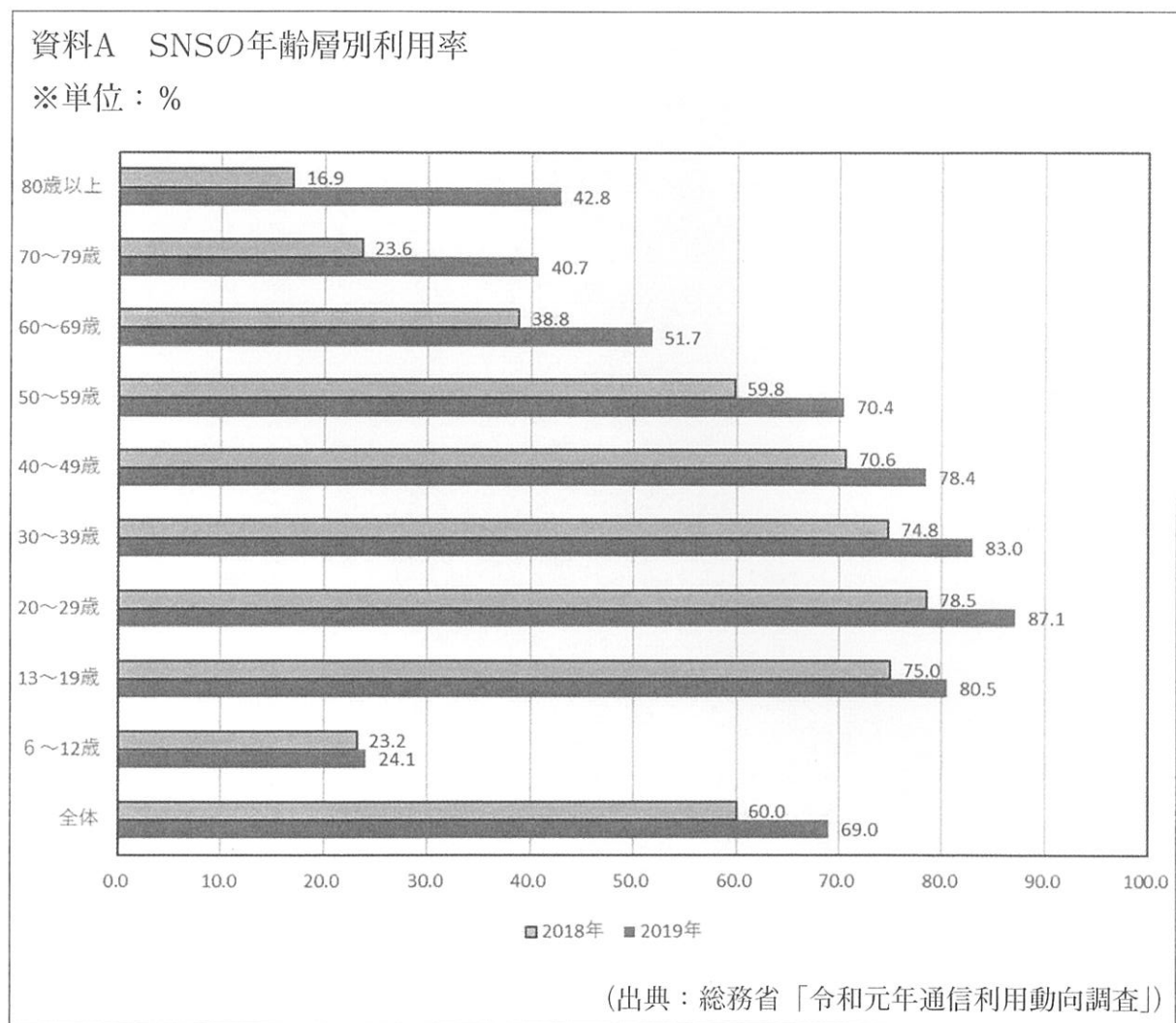
問6 下線部⑥について、「PKF」の日本での正式な名称を、漢字で答えなさい。

問題文は次ページに続きます。

4 近年、スマートフォンやタブレット型端末が小学生や高齢者など幅広い年齢層にも普及してきた。さらに新型コロナウイルス感染症の感染拡大で SNS 利用の増加も加速している。また SNS ユーザーは、大都市部を中心に高齢者を含めた幅広い年齢層で増えつつある。

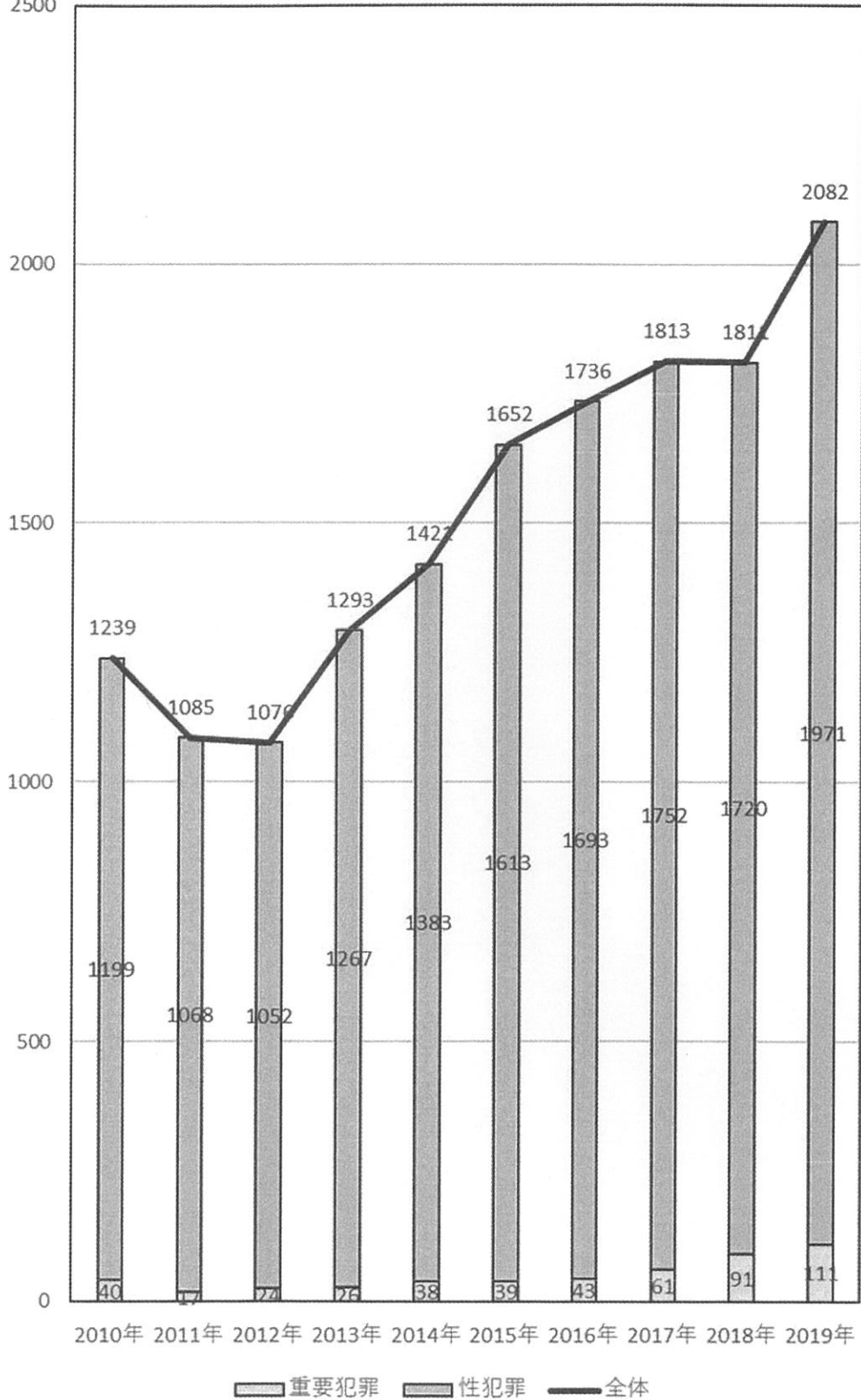
一方、SNSの弊害も顕在化しており、SNSを利用した誹謗中傷やいじめ、青少年を巻き込む犯罪などが深刻化している。学校や警察では注意を呼びかけているほか、SNSの匿名利用に対する法律による規制に向けた議論も始まっている。

次の資料A～Cを参考に、SNSによる犯罪被害を減らすための対策について、自分なりの考えを書きなさい。



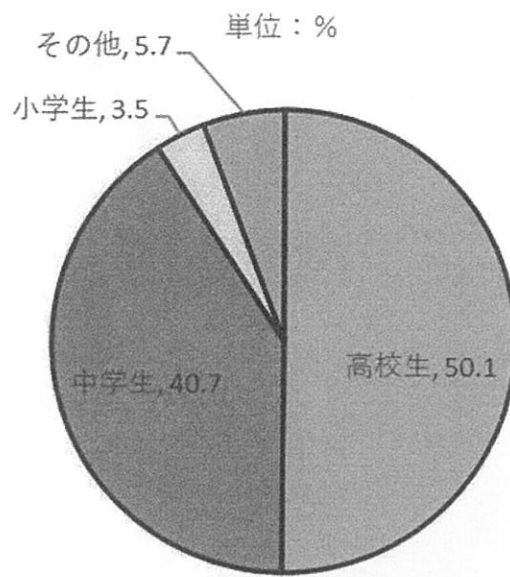
資料B SNSを利用した児童犯罪被害者数の罪種別推移

単位：人
2500



(出典：警察庁「なくそう，こどもの性被害。」関係統計)

資料C 被害児童別の校種別割合（2019年）



(出典：警察庁「なくそう，こどもの性被害。」関係統計)

2022年度 入学試験問題 社会 解答用紙 中【①】

※解答は解答用紙の所定の解答欄に正しいに記入しなさい。

1	問1		問2		問3		問4		問5	(1)		(2)	
	問6												
	問7	(1)		(2)	雨温区		理由						
	問8												

2	問1		問2		問3	(1)		(2)		問4		問5	
	問6		問7	(1)		(2)		問8		問9		問10	

3	問1		問2		問3		問4	
	問5	i		ii		iii		
	問6							

4	問												



221314

↓ここにシール貼ってください↓

--

受験番号		