

2022年度

東邦大学附属東邦中学校

前期入学試験問題

社 会

(100点 45分)

注 意

1. 監督者の「始め」の合図があるまで、問題用紙を開いてはいけません。
2. 問題用紙は19ページあります。試験中にページの不足などに気づいた場合は、手をあげて監督者に知らせなさい。
3. 監督者の「始め」の合図のあと、最初に受験番号と氏名を解答用紙のそれぞれの欄に記入しなさい。
4. 答えはすべて解答用紙に書きなさい。
5. 問題用紙はどのページも切りはなしてはいけません。余白等は適当に利用しなさい。
6. 監督者の「やめ」の合図で筆記用具を置き、所持品はそのままにして、ただちに退室しなさい。
7. 問題用紙は持ち帰りなさい。

1 テレビの旅番組で郷土料理に興味をもった邦平^{くにへい}さんは、日本各地の郷土料理を調べて、カードにまとめました。次に示すものは、そのカードの一部です。これをみて、あとの各問いに答えなさい。なお、【①】～【⑥】には、それぞれ都道府県があてはまります。

【①】の郷土料理
著作権の関係上、非表示
にしています。

うどんとカボチャにさまざま
な野菜を加えた味噌^{みそあじ}味の
鍋^{なべ}料理。戦国時代、米が貴
重なこの地で、武田^{しんげん}信玄が
米に代わる料理として考案
したなどの説がある。

【②】の郷土料理
著作権の関係上、非表示
にしています。

マスと酢飯^{すめし}をつめ、笹^{ささ}で包
んで作られる押し寿司。江
戸時代に越中米と神通川^{じんづう}の
アユで作ったものが始まり
とされ、のちにマスで作ら
れるようになった。

【③】の郷土料理
著作権の関係上、非表示
にしています。

良質な小麦と塩田の塩、
小豆島^{しょうど}のしょう油など、う
どんやだしの素材が地元で
生産することができ、古く
から郷土料理として定着し
た。

【④】の郷土料理
著作権の関係上、非表示
にしています。

つぶした米を棒の先に巻き
つけて焼いたものを、地鶏^{じどり}
や野菜などと煮込んだ鍋料
理。奥羽山脈北西側に位置
する【④】北部^{はっしょうち}が発祥地。
【④】は稲庭^{いなにわ}うどんも有名。

【⑤】の郷土料理
著作権の関係上、非表示
にしています。

サケとキャベツやタマネギ
などの野菜を入れた味噌味
の鍋料理。江戸時代から石
狩^{いし}地方でさかんであったサ
ケ漁の漁師の料理が起源と
される。

【⑥】の郷土料理
著作権の関係上、非表示
にしています。

江戸時代に開港地があった
ことで生まれた麺^{めん}料理。名
前の由来は中国語ともポル
トガル語ともいわれる。海
産物が豊富な【⑥】ならで
はの料理。

「^{いっばん}一般社団法人和食文化国民会議HP」などにより作成。

問1 【①】～【⑥】の都道府県に関して、次の(1)～(5)の各問いに答えなさい。

(1) 【①】・【④】の郷土料理は、いずれも鍋料理である。これらの鍋料理の名称の組み合わせとして正しいものを、次のア～カから1つ選び、記号で答えなさい。

	【①】の郷土料理	【④】の郷土料理
ア	ぼたん鍋	ほうとう鍋
イ	ぼたん鍋	きりたんぼ鍋
ウ	ほうとう鍋	ぼたん鍋
エ	ほうとう鍋	きりたんぼ鍋
オ	きりたんぼ鍋	ぼたん鍋
カ	きりたんぼ鍋	ほうとう鍋

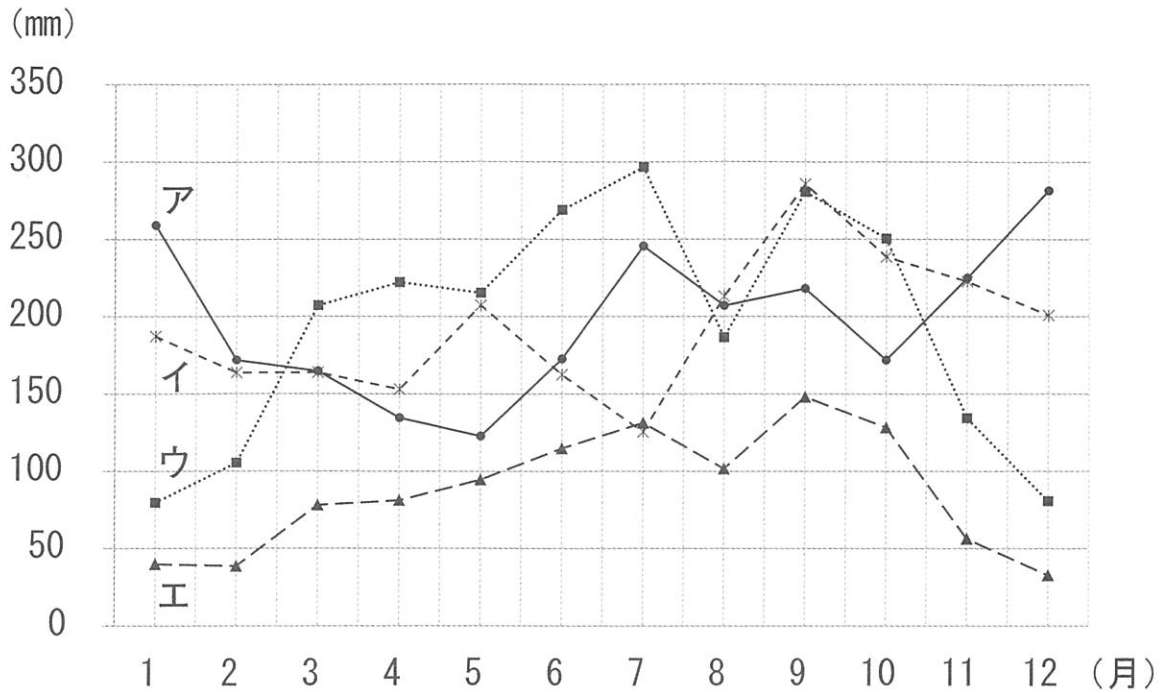
(2) 次の表は、6つの都道府県の都道府県庁所在地から、もっとも近い都道府県庁所在地と2番目に近い都道府県庁所在地の直線距離をまとめたものである。表中のA～Cにあてはまる都道府県名の組み合わせとして正しいものを、あとのア～クから1つ選び、記号で答えなさい。

都道府県	もっとも近い都道府県庁所在地		2番目に近い都道府県庁所在地	
	都道府県	距離 (km)	都道府県	距離 (km)
A	山形県	123.4	福島県	128.3
宮城県	山形県	44.6	福島県	67.7
【①】	静岡県	78.1	B	92.1
長野県	B	83.9	【②】	86.8
【③】	岡山県	37.0	C	56.5
和歌山県	兵庫県	51.6	C	58.8

「国土地理院HP」により作成。

	A	B	C
ア	岩手県	群馬県	愛媛県
イ	岩手県	群馬県	徳島県
ウ	岩手県	栃木県	愛媛県
エ	岩手県	栃木県	徳島県
オ	新潟県	群馬県	愛媛県
カ	新潟県	群馬県	徳島県
キ	新潟県	栃木県	愛媛県
ク	新潟県	栃木県	徳島県

(3) 次の図は、【②】の都道府県庁所在地、松本市（長野県）、静岡市（静岡県）、与那国町（沖縄県）の月別降水量の平年値を示している。このうち、静岡市として正しいものを、図中のア～エから1つ選び、記号で答えなさい。



「気象庁HP」により作成。

(4) 次の表は、【⑤】、【⑥】、宮城県、静岡県、広島県における魚種別漁獲量を示しており、表中のア～オにはいずれかの都道府県があてはまる。このうち、宮城県にあてはまるものを、ア～オから1つ選び、記号で答えなさい。なお、かき類のみ海面養殖業の収穫量を示し、その他はすべて海面漁業の漁獲量を示している。

都道府県	かつお類 (百 t)	いか類 (百 t)	さば類 (百 t)	さけ・ます類 (百 t)	かき類 (百 t)
ア	…	1	0	…	960
イ	76	66	487	…	11
ウ	0	109	200	582	42
エ	186	44	117	4	182
オ	486	2	377	…	2

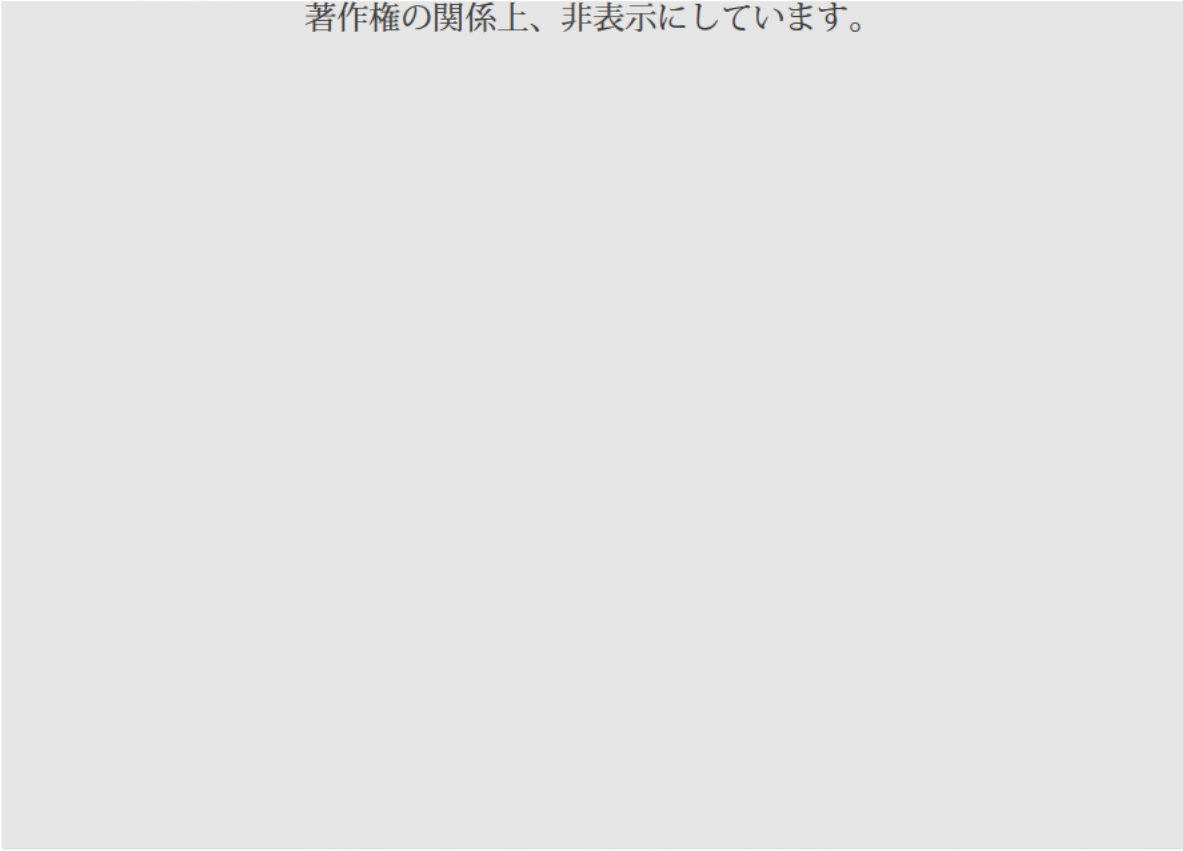
統計年次は2020年。表中の「…」はデータがないことを意味する。

「令和2年漁業・養殖業生産統計」（農林水産省）により作成。


(5) 次の2つの資料は、【①】～【⑥】のうち、いずれかの都道府県庁所在地の昭和時代のあゆみに関するものである。資料1は、この都市の中心地域を描いた古地図(1931年出版)で、資料2は、約半世紀前に制作された、この都市にまつわるできごとに関するポスターである。2つの資料が共通して示す都市を、ひらがなで答えなさい。なお、ポスターには一部修正を加えてある。

資料1

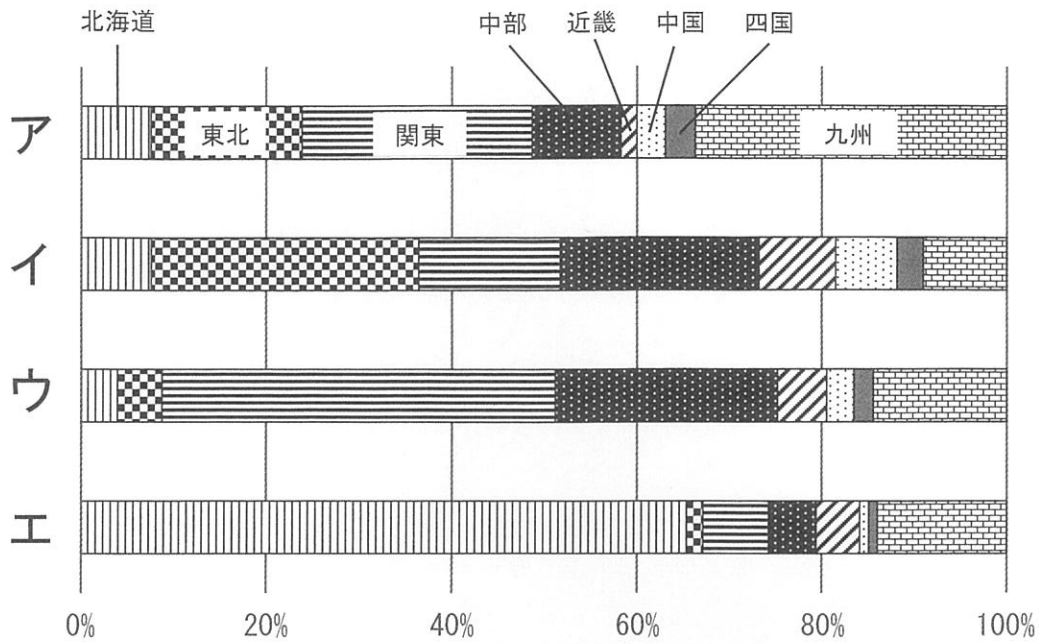
著作権の関係上、非表示にしています。



資料2 著作権の関係上、非表示にしています。



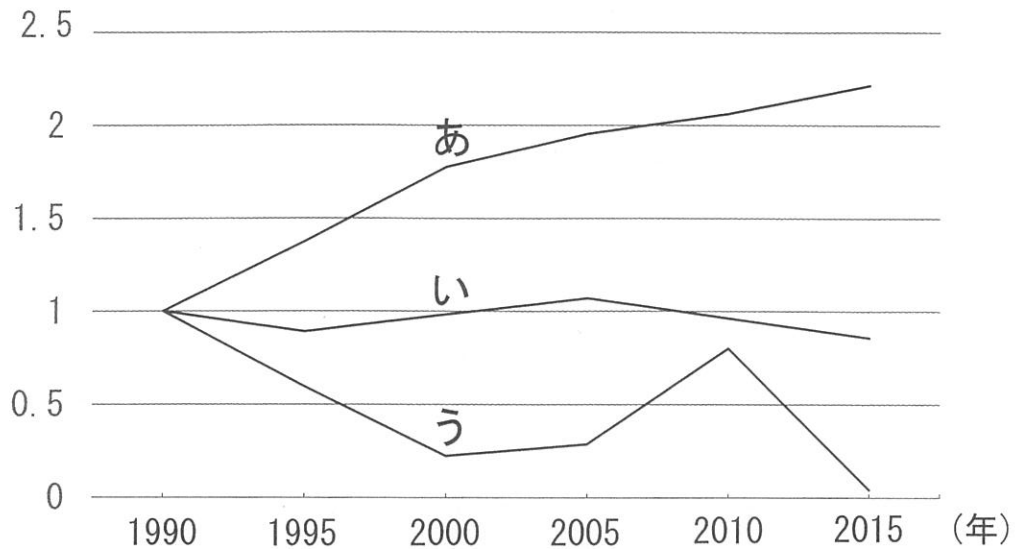
問2 郷土料理は、地元で生産される農作物や畜産物^{ちくさんぶつ}または水産物などから作られることが多い。次の図は、米、小麦、キャベツの収穫量および豚^{ぶた}の飼養頭数について、全国にしめる地方別の割合を示したものである。このうち、豚の飼養頭数を示すものを、図中のア～エから1つ選び、記号で答えなさい。



統計年次は2019年（キャベツのみ2018年）。

『データブック オブ・ザ・ワールド2021年版』により作成。

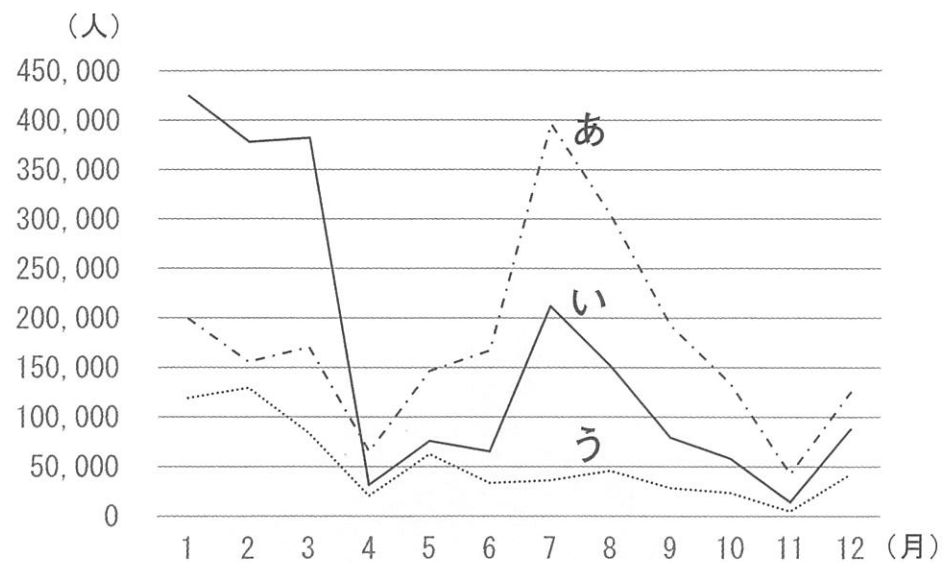
問3 邦平さんは、郷土料理以外にも、日本の工業に興味をもった。次の図は、3つの工業製品の国内生産量について、1990年の生産量を1として、2015年までの5年ごとの生産量の変化を示したものであり、図中のあ～うは、レトルト食品、新聞用紙、テレビのいずれかである。工業製品とあ～うの組み合わせとして正しいものを、あとのア～カから1つ選び、記号で答えなさい。



『データブック オブ・ザ・ワールド2021年版』により作成。

	ア	イ	ウ	エ	オ	カ
レトルト食品	あ	あ	い	い	う	う
新聞用紙	い	う	あ	う	あ	い
テレビ	う	い	う	あ	い	あ

問4 邦平さんは、2021年に亡くなった俳優の田中邦衛さんを偲ぶドラマの再放送をみて、【⑤】に位置する富良野市周辺の観光について調べることにした。次の図のあ～うは、1975年、1990年、2005年の富良野市の月別観光客数の移り変わりを示しており、あとの二重線内の文章は、この期間における観光客数の移り変わりについての説明である。図中のあ～うを、年代の古い順に並べたものとして正しいものを、あとのア～カから1つ選び、記号で答えなさい。



「富良野市HP」により作成。

【⑤】のほぼ中心に位置する富良野市は、多くの観光客にとって遠い地域であったため、1980年頃まではスキー観光が中心であった。1980年代なかば頃から、スキーリゾートの整備が進んできたことに加え、テレビドラマの大ヒットなどにより、観光客数が増加していった。バブル経済崩壊後は、スキーブームの低下や遠い地域であることから冬の観光客数は減少したものの、他のドラマの舞台として認知度が上がったことなどを背景に、ラベンダー畑や自然を生かしたアクティビティなどの観光開発が進んだ。

- | | | |
|----------|----------|----------|
| ア. あ→い→う | イ. あ→う→い | ウ. い→あ→う |
| エ. い→う→あ | オ. う→あ→い | カ. う→い→あ |

2 日本の歴史に関する次の各問いに答えなさい。

問1 次の資料1・資料2について述べた、あとの二重線内の文章中の□にあてはまる語句としてもっとも適しているものを、あとのア～エから1つ選び、記号で答えなさい。

資料1

著作権の関係上、非表示にしています。

資料2



「奈良女子大学古代学学術研究センターHP」などにより作成。

資料1は、奈良県の^{はしはかこふん}箸墓古墳である。箸墓古墳は3世紀後半につくられた、日本でもっとも古い大型の前方後円墳である。前方後円墳は、日本列島独自の形の墓である。資料2は全国に広がる前方後円墳の分布を示したものである。前方後円墳には、各地の有力者が^{まいそう}埋葬されている。以上を参考にすると、□と考えられる。

- ア. 全国を統一する政権が、関東を中心に形成された
- イ. 仏教が広まったことにより国家が統一された
- ウ. これらの地域が中国皇帝の^{こうてい}支配下に置かれた
- エ. 地方の政治勢力が次々と大和政権に結びついた

問2 次の年表は、飛鳥時代から奈良時代にかけてのできごとを示したものである。また、あとの二重線内の文章は、年表内のできごとについて述べたものである。二重線内の下線部ア～サのうち誤りがあるものを1つ選び、記号で答えなさい。

	できごと
607年	遣隋使が派遣される
645年	大化の改新が開始される
701年	大宝律令が制定される
710年	平城京に都が移される

遣隋使は、倭の五王の遣使から途絶えていた中国との外交をア推古天皇のもとで再開するものだった。イ小野妹子が派遣され、隋の皇帝に渡された国書には、ウ対等な外交関係をめざすことが記されていた。

大化の改新は、エ唐にならって、土地と人民をすべてオ天皇のものとする国づくりをめざした。また、この年に初めてカ日本独自の年号が定められた。

大宝律令は、刑部親王やキ藤原不比等らにより定められ、唐にならった中央集権国家の基礎が確立した。ク律は政治制度、令は刑法に関する規定だった。

平城京は、律令国家の新しい都として建設された。唐の都であるケ長安にならい、碁盤の目のように区画されたコ都市の北端に天皇の宮殿が置かれ、市ではサ和同開珎が売買に用いられた。

問3 次の二重線内の文章は、鎌倉幕府の成立について述べたものである。文章中の **A** ～ **C** にあてはまる語句の組み合わせとして正しいものを、あとのア～シから1つ選び、記号で答えなさい。

鎌倉幕府がいつ成立したかという問題は、源頼朝がいつ、どの程度の政治権力をもっていたかという点で判断が分かれる。1185年説は、平家滅亡後、頼朝が奥州へ逃げた源義経を追討^{ついでう}するために、各国に **A** を置き、^{しやう} 莊園などにも **B** を置いたことから、実質的全国政権となったとみる考えである。また、1192年説は、頼朝が幕府開設に必要な **C** の地位に任命されたことから、名実ともに新しい政権となったとみる考えである。

	A	B	C
ア	国司	守護	将軍
イ	国司	守護	太政大臣 ^{だいじやうだいじん}
ウ	国司	地頭	将軍
エ	国司	地頭	太政大臣
オ	守護	国司	将軍
カ	守護	国司	太政大臣
キ	守護	地頭	将軍
ク	守護	地頭	太政大臣
ケ	地頭	国司	将軍
コ	地頭	国司	太政大臣
サ	地頭	守護	将軍
シ	地頭	守護	太政大臣

問4 沖縄に住む小学生の邦平さんは、学校の授業で、昆布こんぶの漁獲量のほとんどは北海道がし
 めていることを学習したが、昆布のとれない沖縄に昆布を使った伝統料理があることに疑
 問をもち、昆布が沖縄に定着した歴史について調べた。次の二重線内の文章は、邦平さん
 がまとめたものである。文章中の **A** ～ **C** にあてはまる語句の組み合わせとして正
 しいものを、あとのア～ケから1つ選び、記号で答えなさい。

江戸時代、昆布は生産地である蝦夷地えぞから **A** によって大坂（大阪）まで運ばれて
 いたことから、西日本には昆布を使った文化が定着した。しかし、**A** の交易ルート
 だけでは、琉球りゅうきゅうまで昆布を運ぶことはできない。

一方、江戸時代後期、財政の悪化により借金に苦しんでいた **B** は、その支配下に
 あった琉球を中継地ちゅうけいとして **C** との貿易の拡大をはかっており、蝦夷地の昆布を交易
 品として輸出したのである。しかし、蝦夷地や大坂から遠く離れた **B** が昆布を手に入
 れるのは容易ではなかったため、その仲立ちとして現れたのが、富山の薬売り*だった。
 彼らは **A** から仕入れた昆布を **B** に売り、そのみかえりとして **B** から **C**
 の高価な薬の原料を手に入れたのである。こうして、沖縄に大量に昆布が流入し、**C**
 への輸出品として用いられる一方、料理にも取り入れられ沖縄に定着した。

〔語句解説〕

*富山の薬売り…富山でさかんだった薬の行商。江戸中期より富山藩の保護を受けて
 発展し、全国に得意先を広めた。

	A	B	C
ア	菱垣廻船 <small>ひがきかいせん</small>	対馬藩 <small>つしま</small>	中国
イ	菱垣廻船	薩摩藩 <small>さつま</small>	ロシア
ウ	菱垣廻船	松前藩	朝鮮
エ	北前船	松前藩	ロシア
オ	北前船	対馬藩	朝鮮
カ	北前船	薩摩藩	中国
キ	樽廻船 <small>たる</small>	薩摩藩	朝鮮
ク	樽廻船	松前藩	中国
ケ	樽廻船	対馬藩	ロシア

問5 幕末期、江戸幕府の大老を務めた井伊直弼^{い い なおすけ}が日米修好通商条約に調印したことをきっかけに、欧米諸国との貿易が始まった。次の二重線内の文章は、欧米諸国との貿易により生じた問題について述べたものである。あとの「金・銀交換比^{かん}（重量）」の資料を参考に文章中の□A～□Cにあてはまる語句の組み合わせとして正しいものを、あとのア～カから1つ選び、記号で答えなさい。

欧米諸国との貿易が始まると、日本から□Aが大量に流出するようになった。これは、外国からもちこんだ□Bを、日本で□Aに交換し、その□Aを外国で□Bに交換すると、もとの量の□C倍になることに気がついた外国人が、□Aを日本の国外に大量にもちだしたためであった。

	金・銀交換比（重量）
外国	金1：銀15
日本	金1：銀5

	ア	イ	ウ	エ	オ	カ
A	金	金	金	銀	銀	銀
B	銀	銀	銀	金	金	金
C	3	5	15	3	5	15

問6 次の二重線内の歌は、近代日本の代表的な歌人がよんだ歌の一部である。この歌に関するあとの(1)・(2)の各問いに答えなさい。

あゝをとうとよ、
君を泣く、
君死にたまふことなかれ、
末に生れし君なれば
親のなさはまさりしも、
親は刃をにぎらせて
人を殺せとをしへしや、
人を殺して死ねよとて
二十四までをそだてしや。

(1) この歌をよんだ歌人として正しいものを、次のア～エから1つ選び、記号で答えなさい。
なお、写真の下にはその人物の代表的な作品や書籍を記してある。

ア.
著作権の関係
上、非表示に
しています。

『たけくらべ』

イ.
著作権の関係
上、非表示に
しています。

『みだれ髪』

ウ.
著作権の関係
上、非表示に
しています。

『わたしと小鳥と
すずと』

エ.
著作権の関係
上、非表示に
しています。

雑誌『青鞥』

(2) この歌がよまれた当時の日本の様子を述べたものとしてもっとも適しているものを、次のア～エから1つ選び、記号で答えなさい。

ア. 自由民権運動がさかんになっていた。

イ. 官営工場が設立され、軽工業が発達してきた。

ウ. 八幡製鉄所が操業を始め、重工業が発達してきた。

エ. 関東地方で大震災が発生し、恐慌がおこった。

問7 次の資料は、1928（昭和3）年の衆議院議員総選挙に関連するポスターである。このポスターには「国政は舟のごとく、一票は櫂（舟を漕ぐための道具）のごとし」*と書いてあるが、当時この舟に乗ることができた国民の条件として正しいものを、次のア～エから1つ選び、記号で答えなさい。

※ポスターの言葉をやさしく書きあらためたもの。

著作権の関係上、非表示にしています。

- ア. 納税額による制限のない、満25歳以上のすべての男子
- イ. 納税額による制限のない、満25歳以上のすべての男女
- ウ. 直接国税15円以上をおさめている、満25歳以上の男子
- エ. 直接国税15円以上をおさめている、満25歳以上の男女

3 次の文章を読んで、あとの各問いに答えなさい。

著作権の関係上、非表示にしています。

問1 文章中の「あ」・「い」にあてはまる語句の組み合わせとして正しいものを、次のア～カから1つ選び、記号で答えなさい。

	あ	い
ア	チェルノブイリ	ビキニ環礁 ^{かんしょう}
イ	チェルノブイリ	フクシマ
ウ	ビキニ環礁	チェルノブイリ
エ	ビキニ環礁	フクシマ
オ	フクシマ	チェルノブイリ
カ	フクシマ	ビキニ環礁

問2 文章中の「う」にあてはまる、2005年から2021年までドイツの首相を務めた人物を、次のア～エから1つ選び、記号で答えなさい。

- ア. アンゲラ・メルケル イ. エマニュエル・マクロン
 ウ. ジョー・バイデン エ. ボリス・ジョンソン

問3 下線部①に関して、次の二重線内の資料は、ドイツの憲法にあたる「ドイツ連邦共和国基本法」の条文である。これと同様の内容が含まれている日本国憲法の条文として、もっとも適しているものを、あとのア～オから1つ選び、記号で答えなさい。

ドイツ連邦共和国基本法 第8条

(1) すべてのドイツ人は、届出または許可なしに、平穏かつ武器を持たないで集会する権利を有する。

- ア. 日本国民は、正義と秩序を基調とする国際平和を誠実に希求し、国権の発動たる戦争と、武力による威嚇又は武力の行使は、国際紛争を解決する手段としては、永久にこれを放棄する。
- イ. すべて国民は、個人として尊重される。生命、自由及び幸福追求に対する国民の権利については、公共の福祉に反しない限り、立法その他の国政の上で、最大の尊重を必要とする。
- ウ. 何人も、損害の救済、公務員の罷免、法律、命令又は規則の制定、廃止又は改正その他の事項に関し、平穏に請願する権利を有し、何人も、かかる請願をしたためにいかなる差別待遇も受けない。
- エ. 集会、結社及び言論、出版その他一切の表現の自由は、これを保障する。検閲は、これをしてはならない。通信の秘密は、これを侵してはならない。
- オ. 何人も、現行犯として逮捕される場合を除いては、権限を有する司法官憲が発し、且つ理由となっている犯罪を明示する令状によらなければ、逮捕されない。

問4 下線部②に関して、次の(1)・(2)の各問いに答えなさい。

(1) ドイツは連邦議会と連邦参議院の二院制である。次のア～エは、アメリカ、イギリス、ドイツ、日本の二院の選出のしくみについての説明である。このうち、日本の説明として正しいものを1つ選び、記号で答えなさい。なお、二院の表記はすべて上院、下院としてある。

- ア. 下院は、国民の直接選挙により選出される。上院は、貴族らにより構成される。
- イ. 下院は、国民の直接選挙により選出される。上院は、各地方政府の代表により構成される。
- ウ. 上院、下院とも国民の直接選挙により選出される。各地方から、上院は2名ずつ、下院は人口比例で議席が割り当てられる。
- エ. 上院、下院とも国民の直接選挙により選出される。両院とも全国民を代表し、同時に両院の議員となることはできない。

(2) 日本では、法律案は憲法に特別の定めのある場合を除いては、両議院で可決したとき法律となる。衆議院で可決した法律案のその後の取りあつかいについての説明として正しいものを、次のア～エから1つ選び、記号で答えなさい。

- ア. 法律案について、参議院で衆議院と異なった議決をした場合に、法律の定めるところにより、両議院の協議会を開いても意見が一致しないときは、衆議院の議決を国会の議決とする。
- イ. 法律案について、参議院で衆議院と異なった議決をした場合に、国会が国民に提案して法律案の賛否を問わなくてはならない。この法律案の制定には、国民投票において、その過半数の賛成を必要とする。
- ウ. 参議院が、衆議院の可決した法律案を受け取った後、国会休会中の期間を除いて30日以内に、議決しないときは、衆議院の議決を国会の議決とする。
- エ. 参議院が、衆議院の可決した法律案を受け取った後、国会休会中の期間を除いて60日以内に、議決しないときは、衆議院は、参議院がその法律案を否決したものとみなすことができる。

問5 下線部③に関して、次の表は、現在の日本の衆議院議員総選挙のしくみを説明するための架空の投票結果である。[比例代表]には3つの政党が候補者をたてており、そのうちの〔人間党比例名簿〕を示している。[小選挙区]では、人間党の候補者が重複立候補する小選挙区の投票結果を示している。これらの表をもとに、あとの「手順」に従い、人間党の比例代表での当選者をあとのア～オからすべて選び、記号で答えなさい。なお、記号は五十音順に答えること。

[比例代表] 定数8

政党	自然党	生命党	人間党
得票数	33,000	7,200	24,000
÷ 1	33,000	7,200	24,000
÷ 2	16,500	3,600	12,000
÷ 3	11,000	2,400	8,000
÷ 4	8,250	1,800	6,000
÷ 5	6,600	1,440	4,800

〔人間党比例名簿〕

順位	候補者	
1	佐藤 みお	比例単独
2	鈴木はると	重複立候補 (小選挙区①)
2	高橋 めい	重複立候補 (小選挙区②)
2	田中そうた	重複立候補 (小選挙区③)
2	伊藤いちか	重複立候補 (小選挙区④)

[小選挙区]

	小選挙区①		小選挙区②		小選挙区③		小選挙区④	
当選	渡辺みなと	500	中村はるき	300	加藤いつき	400	伊藤いちか	600
次点	鈴木はると	300	小林あかり	250	田中そうた	280	山田あおい	160
3位	山本 ゆい	150	高橋 めい	240	吉田 はな	200	佐々木りこ	140

〔手順〕

- 手順1 ドント方式を用いて、定数8のうち人間党の比例代表の議席配分を決定する。
- 手順2 小選挙区で当選した重複立候補者を比例名簿から除く。
- 手順3 小選挙区で落選した重複立候補者得票数の「同じ小選挙区の当選者の得票に対する割合 (惜敗率)」を求める。
- 手順4 比例名簿の上位から人間党の比例代表の当選者を決定する。同一順位の候補者は惜敗率の高い順に当選者を決定する。

- ア. 佐藤 みお イ. 鈴木はると ウ. 高橋 めい
- エ. 田中そうた オ. 伊藤いちか

問6 下線部④に関して、日本では2018年に民法が改正され、2022年4月1日より成年年齢が引き下げられる。2022年4月1日に成年に達する人の生年月日を、解答欄に合うように算用数字で答えなさい。

問7 下線部⑤に関して、次の二重線内の文章を読んで、あとの(1)・(2)の各問いに答えなさい。

2021年1月、核兵器の開発や実験、保有などを全面的に禁じる X が発効した。この条約は、2017年7月にニューヨークの国連本部で行われた会議で、124か国中122か国という圧倒的多数の賛成により採択された。右の写真は、話し合いに参加できなかった日本政府代表の席に置かれた折り鶴を撮影したものである。折り鶴には「#wish you were here (あなたがここにいてほしい)」と書かれている。このメッセージには、戦争において世界で Y である日本にこの条約に参加してほしいという願いがこめられている。

著作権の関係上、非表示にしています。

(1) 文章中の X にあてはまる条約を、次のア～エから1つ選び、記号で答えなさい。

- ア. 部分的核実験禁止条約 イ. 核兵器拡散防止条約
ウ. 包括的核実験禁止条約 エ. 核兵器禁止条約

(2) 文章中の Y にあてはまる言葉を、ひらがな9～11字で答えなさい。ただし、句読点は用いないこととする。

1

問 1

(1)

問 1

(2)

問 1

(3)

問 1

(4)

問 1

(5) 市

問 2

問 3

問 4

2

問 1

問 2

問 3

問 4

問 5

問 6

(1)

問 6

(2)

問 7

3

問 1

問 2

問 3

問 4

(1)

問 4

(2)

問 5

問 6

20

年4月1日～20

年4月1日

問 7

(1)

問 7

(2)

受験番号	<input type="text"/>	<input type="text"/>	<input type="text"/>	氏名	<input type="text"/>
	<input type="text"/>	<input type="text"/>	<input type="text"/>		<input type="text"/>

得点	<input type="text"/>
----	----------------------