

2023 年度
市川中学校 第1回 入学試験問題

社 会

40分 100点満点

2023 年 1 月 20 日実施

【注意事項】

1. 監督者の指示に従い、本冊子より解答用紙を取り出し、冊子を閉じた後、試験開始のチャイムが鳴るまで、冊子の中を開いて見ないこと。
2. 取り出した解答用紙に受験番号シールを貼り、裏返しの状態にした後、解答用紙の上に問題冊子を置くこと。
3. 試験開始後、解答用紙に受験番号、氏名を記入すること。
4. 試験終了のチャイムが鳴ったらすぐに筆記用具を置き、解答用紙を裏返しの状態にすること。
5. チャイムが鳴っている間に記入した解答は、無効にすることがある。
6. 問題冊子は各自で持ち帰り、解答用紙は必ず提出すること。
7. 答えはすべて「解答らん」に書き入れること。
8. 解答の際には、句読点や記号は1字と数えること。
9. コンパス・定規は使用しないこと。

1 2022 年に日中国交正常化から 50 周年を迎えました。次の I～Ⅷの文章は、日本と中国の関係について、時代ごとに要点をまとめたものです。これらの文章を読み、あとの問いに答えなさい。

- I 紀元前 3 世紀末に、中国で漢が成立しました。『漢書』地理志という歴史書には、紀元前 1 世紀頃の日本は倭と呼ばれていて、100 あまりの小さな「くに」に分かれていたことが書かれています。つづく『後漢書』東夷伝には、A 紀元後 1～2 世紀の倭国の様子が書かれています。
- II 『宋書』倭国伝には、5 世紀に倭国の 5 人の大王（倭の五王）が中国にしばしば使節を送ったことが書かれています。B 倭の五王の一人である「武」は、中国の皇帝から倭王の称号を与えられましたが、その後中国への使者は派遣されなくなりました。
- III 6 世紀末、隋が中国を統一すると、日本と中国との間の国交が再び開かれました。C 607 年、(1) 天皇のもとで遣隋使が派遣され、隋の皇帝に国書を送りましたが、このときは倭王の称号を求めませんでした。隋が滅び、唐が成立したのちも、日本はひきつづき D 遣唐使を派遣しました。
- IV 10 世紀半ばに宋が成立すると、正式な国交は開かれませんでした。商人による貿易が活発になりました。12 世紀になると、E 平清盛が日宋貿易を積極的に進めました。宋からもたらされる宋銭や書籍は、当時の社会や文化に大きな影響を与えました。
- V 13 世紀半ば、朝鮮半島の (2) を服属させたモンゴル帝国は、日本に対しても国書を送り、服属を求めてきました。これに対し、執権の北条時宗がその要求を断ると、国号を元としたフビライ＝ハンは、F 1274 年と 1281 年の二度にわたり、九州を襲いました。
- VI 14 世紀後半に成立した明は、日本に対して中国や朝鮮半島の沿岸を荒らし回っていた倭寇の取り締まりを求め、これに足利義満が応じたことで、G 日明貿易が始まりました。しかし、この貿易は 150 年ほどの間に 19 回しか行われませんでした。一方、15 世紀前半に成立した (3) は、171 回も明に朝貢し、輸入した中国の品を日本に運んで、明と日本をつなぐ役割を果たしました。

Ⅶ 17世紀半ばに、中国では清が明にとって代わりました。日本では17世紀前半以降、江戸幕府が外国との国交や貿易を制限するようになり、清との交易も限られた場所でのみ行われるようになりました。

※1 朝貢…中国皇帝に対し周辺国の王が臣下として貢物を送ること。

問1 (1) ~ (3) にあてはまる語句を、それぞれ漢字で答えなさい。

問2 下線Aについて、この時期の倭国に関する説明 a・b と中国との関係に関する説明 c・d のうち、正しいものの組み合わせはどれですか、ア～エから1つ選び、記号で答えなさい。

- a この頃の倭国では、まだ稲作は行われていませんでした。
- b 他の集落との戦いにそなえ、環濠集落が形成されました。
- c 中国の皇帝から倭の奴国の王に金印が授けられました。
- d 女性を王とする邪馬台国から中国に使者が派遣されました。

ア [a - c] イ [a - d] ウ [b - c] エ [b - d]

問3 下線B・Cについて、6世紀以降は倭の五王の時代と異なり、大王(天皇)は中国の皇帝に対して倭王の称号を求めなくなりました。それはなぜですか、資料1・2を参考にして説明しなさい。

<資料1>

3世紀後半から5世紀にかけては、地方豪族のなかにも大王の墓と肩を並べるくらいの大きさの古墳をつくる者がいました。

<資料2>

6世紀になると、地方豪族が大規模な古墳をつくることはなくなりました。

問4 下線Dについて、遣唐使は7世紀前半に始まり、9世紀末に停止されました。この期間におこったこととして誤っているものはどれですか、ア～エから1つ選び、記号で答えなさい。

- ア 白村江の戦いで日本が唐・新羅連合軍に敗れました。
- イ 平将門が関東で武士団を率いて反乱をおこしました。
- ウ 桓武天皇による律令政治の立て直しが行われました。
- エ 行基の協力を得て東大寺の大仏が造営されました。

問5 下線Eについて、平清盛が日宋貿易を進めるため、現在の神戸に整備した港を何といいますか、漢字で答えなさい。

問6 下線Fについて、このできごとに関する説明a～cについて、その正誤の組み合わせとして正しいものはどれですか、ア～クから1つ選び、記号で答えなさい。

- a 文永の役では、元軍は博多湾の沿岸に築かれた石塁に上陸を阻まれ、苦戦しました。
- b 元の襲来に備えて、幕府は全国の御家人以外の武士も動員できる権限を得ました。
- c 元寇の後、十分な恩賞がもらえなかったこともあり、御家人は幕府に不満をもつようになりました。

- | | |
|-------------------|-------------------|
| ア [a－正 b－正 c－正] | イ [a－正 b－正 c－誤] |
| ウ [a－正 b－誤 c－正] | エ [a－誤 b－正 c－正] |
| オ [a－正 b－誤 c－誤] | カ [a－誤 b－正 c－誤] |
| キ [a－誤 b－誤 c－正] | ク [a－誤 b－誤 c－誤] |

問7 下線Gについて、日明貿易における日本の輸出品と輸入品の組み合わせとして正しいものはどれですか、ア～エから1つ選び、記号で答えなさい。

- | | |
|--------------------|----------------------|
| ア [輸出品－生糸 輸入品－銅] | イ [輸出品－陶磁器 輸入品－生糸] |
| ウ [輸出品－銅 輸入品－銅銭] | エ [輸出品－硫黄 輸入品－刀剣] |

問8 下線Hについて、グラフは、江戸幕府が発行した小判の重さと、小判に含まれる金の量を示しています。グラフ中の2種類の小判に関する説明a・bについて、その正誤の組み合わせとして正しいものはどれですか、ア～エから1つ選び、記号で答えなさい。

著作権の関係上、非表示にしています。

※2 匁…1匁=3.75g

- a 元禄小判は、財政立て直しのために、小判に含まれる金の量を約3分の2に引き下げて発行されましたが、物価の下落を招きました。
- b 万延小判は、開国にともなって金が流出したことを背景に、重さを安政小判の半分以下に引き下げて発行されました。

ア [a－正 b－正] イ [a－正 b－誤]
 ウ [a－誤 b－正] エ [a－誤 b－誤]

問9 下線Ⅰについて、次の文章を読み、あとの問いに答えなさい。

19世紀になると、日本の近海に外国船がたびたび姿を現すようになりました。江戸幕府は外国船打払令を出していましたが、アヘン戦争で清が敗れたことを知って方針を変え、老中□□□は、漂着した外国船には水や燃料を与えることにしました。

- (1) 下線について、資料3は、外国船打払令を批判したある人物が、1838年に記した書の一部です。資料3に関する説明a・bについて、その正誤の組み合わせとして正しいものはどれですか、下のア～エから1つ選び、記号で答えなさい。

著作権の関係上、非表示にしています。

- a 資料3の「漂流民を救助し送り届けた者を打ち払う」とは、モリソン号事件のことを指していると考えられます。
- b 資料3を記した人物は、幕府批判を理由に蛮社の獄で弾圧されました。

ア [a－正 b－正] イ [a－正 b－誤]

ウ [a－誤 b－正] エ [a－誤 b－誤]

- (2) □□□にあてはまる人物は誰ですか、漢字で答えなさい。

2 次のA～Eの文章は、外務省ホームページの「日本の領土をめぐる情勢」の一部です。これを読んで、あとの問いに答えなさい。なお、出題に際して文章の表記を変えたところがあります。また、出題の都合上「イ」～「ハ」は伏せてあります。

A 日本は、ロシアに先んじて北方領土を発見・調査し、遅くとも19世紀初めには四島の実効的支配を確立しました。19世紀前半には、ロシア側も自国領土の南限をウルップ島（「イ」島のすぐ北にある島）と認識していました。日露両国は、1855年、日魯通好条約（日露和親条約）において、当時自然に成立していた「イ」島とウルップ島との間の両国国境をそのまま確認しました。

B 日本は、ロシアとの条約により、「ロ」をロシアから譲り受けるかわりに、ロシアに対して「ハ」全島を放棄しました。

C 日露戦争後の（ 1 ）条約において、日本はロシアから「ハ」の北緯50度以南の部分を受けました。

D （ 2 ）宣言は、「暴力及び貪欲により日本国が略取した地域」から日本は追い出されなければならないとしたカイロ宣言の条項は履行されなければならない旨、また、日本の主権が本州、北海道、九州及び四国並びに連合国の決定する諸島に限定される旨規定しています。しかし、当時まだ有効であった（ 3 ）条約を無視して8月9日に対日参戦したソ連は、日本の（ 2 ）宣言受諾後も攻撃を続け、8月28日から9月5日までの間に、北方四島を不法占領しました（なお、これら四島の占領の際、日本軍は抵抗せず、占領は完全に無血で行われました）。

E 日本は、サンフランシスコ平和条約により、（ 1 ）条約で獲得した「ハ」の一部と「ロ」に対するすべての権利、権原※1及び請求権を放棄しました。

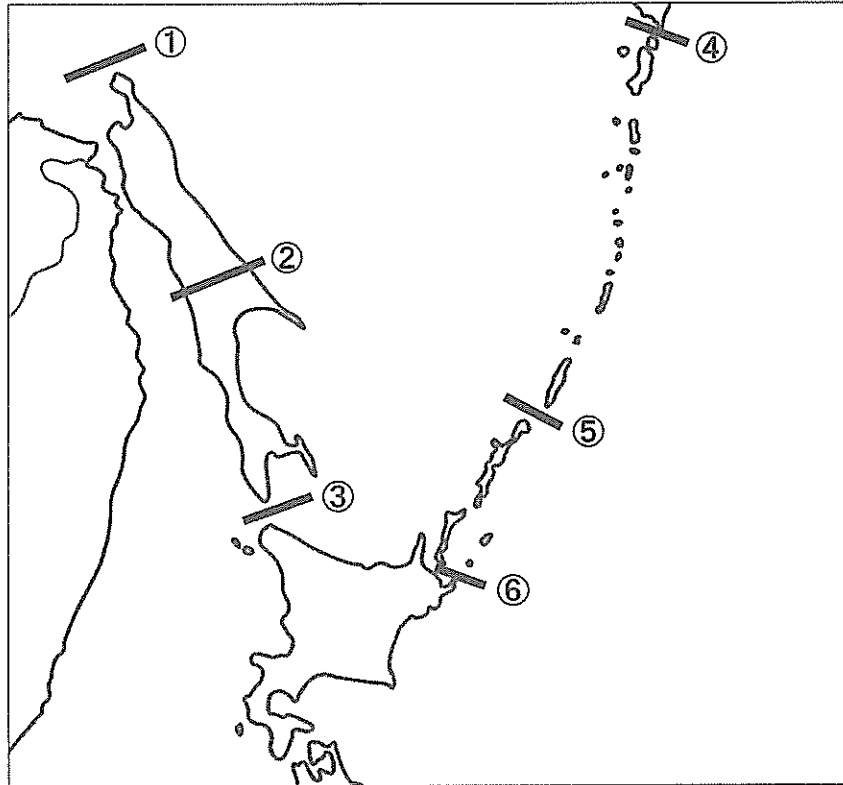
※1 権原…法的な権利が発生する原因のこと。

L2023-1

問1 (1) ~ (3) にあてはまる語句を、それぞれ答えなさい。

問2 BとCの文章で説明された日本の領土について、地図中の国境線の組み合わせとして正しいものはどれですか、下のア～エから1つ選び、記号で答えなさい。

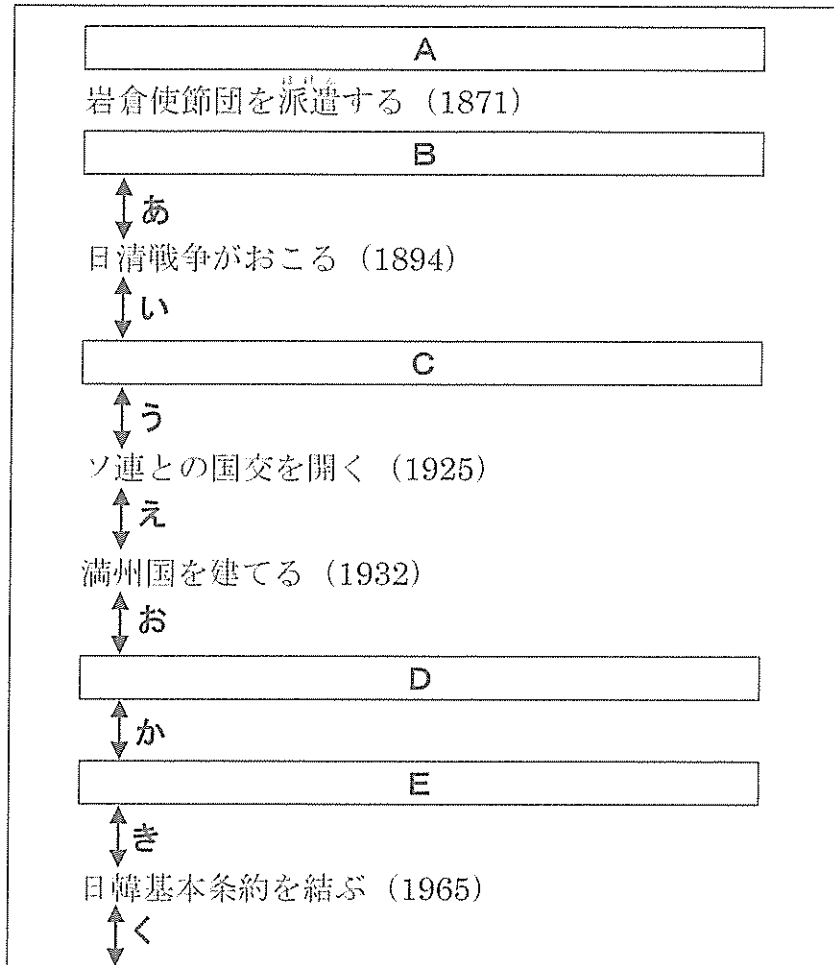
<地図>



- ア [B ①・⑥ C ①・⑤] イ [B ①・⑤ C ①・④]
ウ [B ③・④ C ②・④] エ [B ③・⑤ C ②・⑤]

問3 次の年表を見て、あとの問いに答えなさい。なお、6ページのA～Eの文章は、年表中のA～Eの時期にあてはまります。

<年表>



(1) 年表のあ～うの時期に進められた不平等条約の改正交渉について説明したア～エを時代の古い順に並べたとき、2番目と3番目にあたるものはどれですか、それぞれ記号で答えなさい。

ア イギリスとの間で通商航海条約が調印され、領事裁判権が撤廃されることになりました。

イ 大日本帝国憲法が制定されたことで交渉が進みましたが、来日中のロシア皇太子が襲撃される事件が発生して交渉は中止されました。

ウ アメリカとの間で通商航海条約が調印され、日本の関税自主権が完全に回復されることになりました。

エ 欧米列国との交渉を有利に導くため、鹿鳴館外交に代表される積極的な欧化政策が展開されました。


L2023-1

- (2) 資料 1・2 が説明するできごとは、年表中のあ～くのどの時期にあてはまりますか、それぞれ選び、記号で答えなさい。

著作権の関係上、非表示にしています。

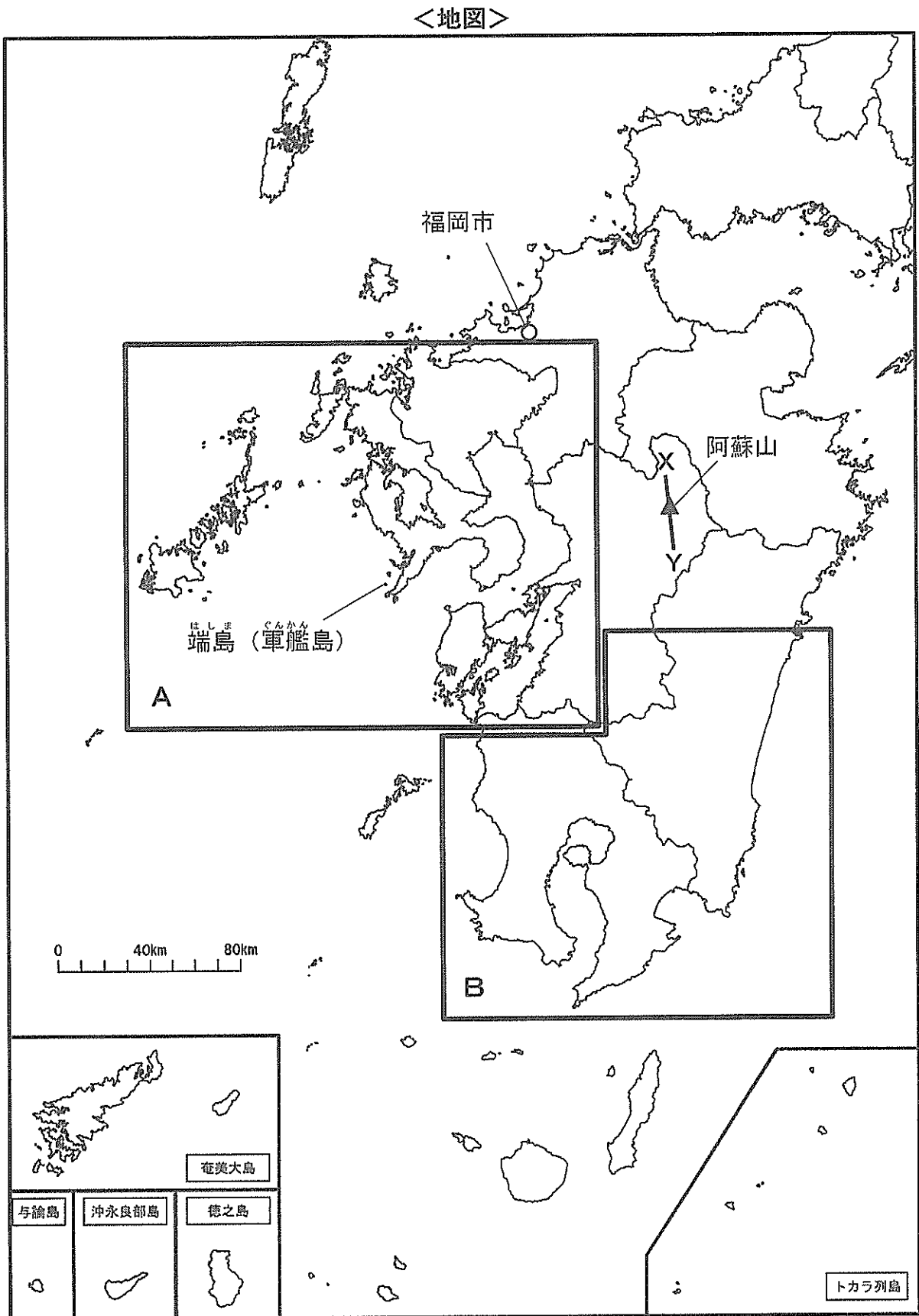
(3) 次の絵を見て、あとの問いに答えなさい。

著作権の関係上、非表示にしています。

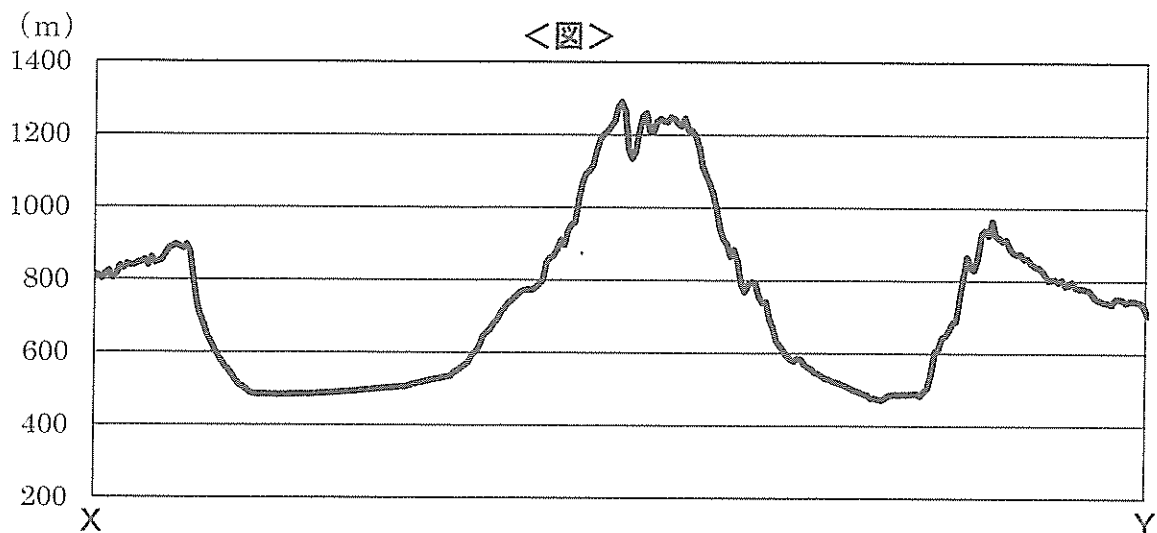


問い この絵は年表中のどの時期の国際情勢を表していますか、あ〜くの記号で答えなさい。また、Xがどこの国を示しているかを明らかにしながら、この絵が表している状況を説明しなさい。ただし、Xは当時の国名で書きなさい。

- 3 市川中学校の修学旅行先の一つに長崎があります。長崎を含む九州について、地図を見て、あとの問いに答えなさい。



問1 地図中のX—Yの線のおおよその断面図は図のような形になっています。このような地形を何といいますか、答えなさい。



地理院地図 HP (<https://maps.gsi.go.jp>) より作成

問2 地図中のAのエリアに関する説明として正しいものはどれですか、ア～エから2つ選び、記号で答えなさい。

- ア 筑後川の流域に広がる筑紫平野は、全国のお草の生産の大半を占めています。
- イ 雲仙岳では約30年前の噴火で火砕流が発生し、多くの犠牲を出しました。
- ウ 水俣市では工場から排出されたカドミウムにより公害病が発生し、四大公害病の1つとされました。
- エ 天草諸島には潜伏キリシタン関連遺産があり、世界文化遺産に登録されています。

問3 地図中のBのエリアに関する説明として正しいものはどれですか、ア～エから2つ選び、記号で答えなさい。

- ア 笠野原などの火山灰が堆積したシラス台地が広がっています。
- イ 宮崎平野では、野菜の抑制栽培が行われています。
- ウ 枕崎では、主にたらやさけが水揚げされています。
- エ 鹿児島県は、新幹線や高速道路で福岡県と結ばれています。

問4 九州地方の農業には、北部と南部で異なった特徴がみられます。表1は、北関東・南関東・東山・東海・北九州・南九州の6地方※1における農産物産出額の大きい品目の上位6位と、その金額ベースの構成比を示したものです。北九州と南九州にあたるものの組み合わせとして正しいものはどれですか、ア～カから1つ選び、記号で答えなさい。

※1 6地方…各地方に含まれる都県は以下の通り。

北関東：茨城県・栃木県・群馬県

南関東：埼玉県・千葉県・東京都・神奈川県

東山：山梨県・長野県

東海：岐阜県・静岡県・愛知県・三重県

北九州：福岡県・佐賀県・長崎県・熊本県・大分県

南九州：宮崎県・鹿児島県

<表1>

	1位	2位	3位	4位	5位	6位
a	米 16.1%	豚 12.1%	生乳 8.2%	鶏卵 8.0%	肉用牛 5.2%	いちご 3.6%
b	ぶどう 21.8%	米 12.9%	りんご 9.0%	レタス 6.4%	もも 6.2%	はくさい 4.6%
c	米 13.1%	肉用牛 10.5%	いちご 6.7%	豚 6.1%	トマト 5.9%	生乳 5.5%
d	米 13.3%	鶏卵 8.5%	豚 7.2%	生乳 5.7%	肉用牛 5.3%	みかん 4.7%
e	肉用牛 22.9%	ブロイラー 17.2%	豚 17.0%	米 4.7%	鶏卵 4.6%	きゅうり 2.7%
f	米 15.6%	豚 8.7%	鶏卵 6.4%	ねぎ 6.0%	生乳 5.1%	きゅうり 3.5%

農林水産省 HP (<https://www.maff.go.jp>) より作成

ア [北九州－b 南九州－a]

イ [北九州－b 南九州－e]

ウ [北九州－c 南九州－a]

エ [北九州－c 南九州－e]

オ [北九州－f 南九州－a]

カ [北九州－f 南九州－e]

問5 九州地方は火山活動が活発なため、他の地方と比べて、多くの地熱発電所があります。日本の発電量割合（水力・火力・原子力・太陽光・地熱）の推移を示した表2において、地熱・水力・原子力にあたるものの組み合わせとして正しいものはどれですか、ア～カから1つ選び、記号で答えなさい。

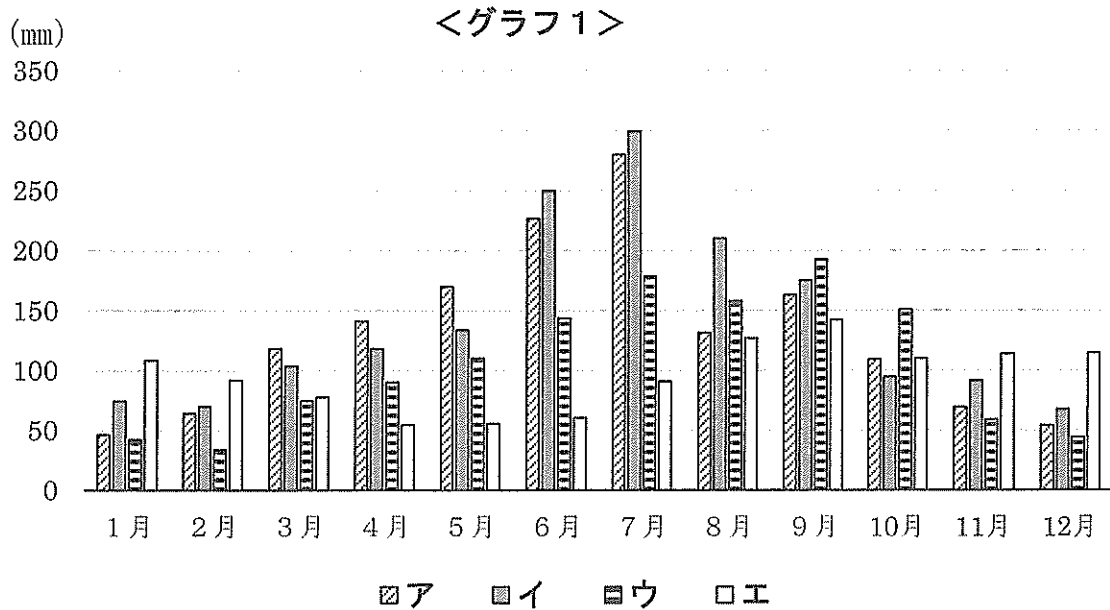
著作権の関係上、非表示にしています。

※2 一…この記号の年度は数値なし。

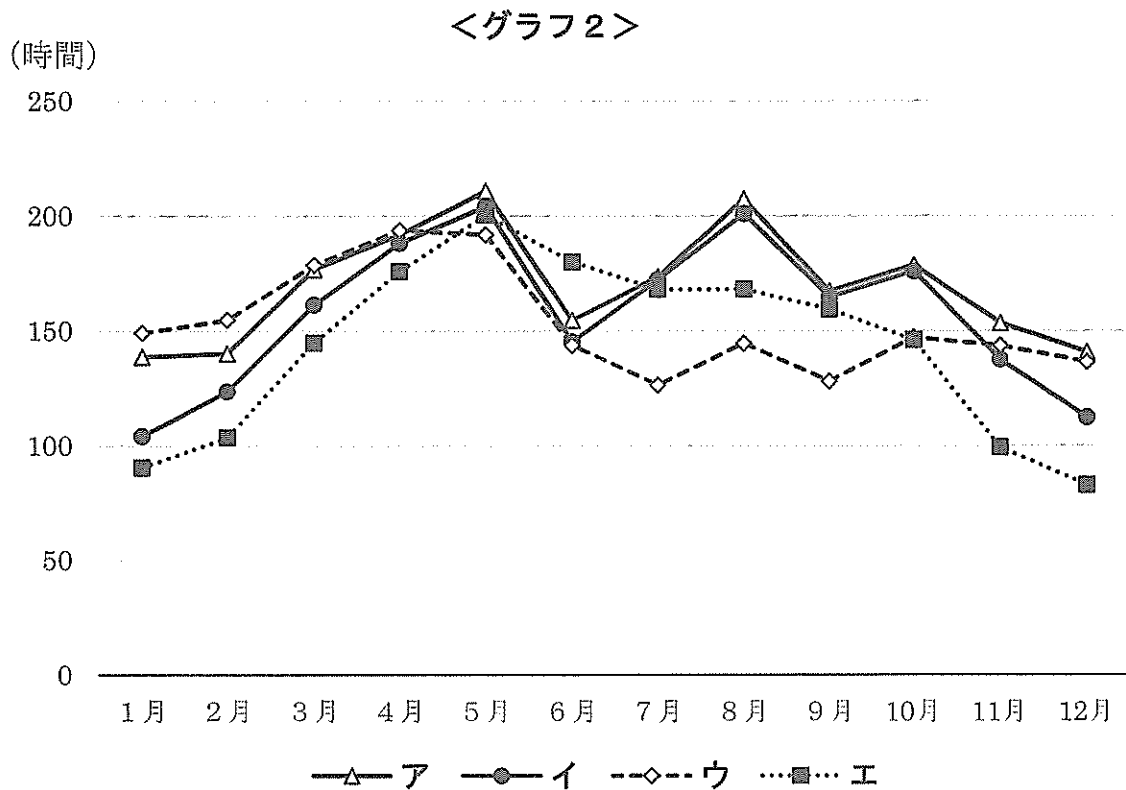
ア	[地熱－d	水力－a	原子力－c]
イ	[地熱－d	水力－a	原子力－e]
ウ	[地熱－d	水力－b	原子力－c]
エ	[地熱－e	水力－a	原子力－c]
オ	[地熱－e	水力－a	原子力－d]
カ	[地熱－e	水力－b	原子力－d]

問6 長崎県の端島（軍艦島）は、19世紀末から石炭の採掘がさかんに行われ、明治期の産業革命を支えたことから、2015年に世界文化遺産に登録されました。しかし、石炭は燃やしたときに温室効果ガスを多く排出するため、現在では地球温暖化に大きな影響を与えると問題視されています。石炭などの化石燃料の使用にともなって発生する温室効果ガスの排出量を、森林による吸収量を差し引くことで実質的にゼロにする考えを何といいますか、カタカナで答えなさい。

問7 **グラフ1**は九州地方の中心都市である福岡市と、北海道・東北・中国の各地方の中心都市である札幌市・仙台市・広島市の月別降水量を、**グラフ2**は同じ都市の月別日照時間を示しています。福岡市と仙台市にあたるものはどれですか、**ア～エ**からそれぞれ1つずつ選び、記号で答えなさい。



気象庁 HP (<https://www.jma.go.jp>) より作成



気象庁 HP (<https://www.jma.go.jp>) より作成

4 次の文章を読んで、あとの問いに答えなさい。

民主主義とは何かと聞かれたら、あなたはどうか答えるでしょうか？例えば、

X 「民主主義とはA多数決のことであるから、少数派の反対者も多数派の賛成したことに従わなければならない」

という意見に対して、

Y 「いや、すべての人は民主主義のもとではみなB平等なはずだから、少数派の意見であっても尊重されなければならない」

という意見もあるでしょう。

また、「民主主義とは、C選挙を通じて選ばれた代表者によって政治を行うことである」という意見に対して、「いや、民主主義とはD自分たちの社会の課題を自分たち自身で解決することであり、代表者に委ねることではない」という意見もあるでしょう。

このように、民主主義とは何かについてさまざまな考え方があります。私たちは、民主主義の当事者として行動することを通して、自分なりの民主主義についての理解を深めていくことが求められているといえるでしょう。

問1 下線Aについて、多数決にもさまざまな規定があります。次の日本国憲法第96条の条文の一部を読んで、あとの問いに答えなさい。

この憲法の改正は、(1) の (2) の (3) 以上の賛成で、国会が、これを発議し、国民に提案してその承認を経なければならない。この承認には、特別の国民投票又は国会の定める選挙の際行はれる投票において、その過半数の賛成を必要とする。

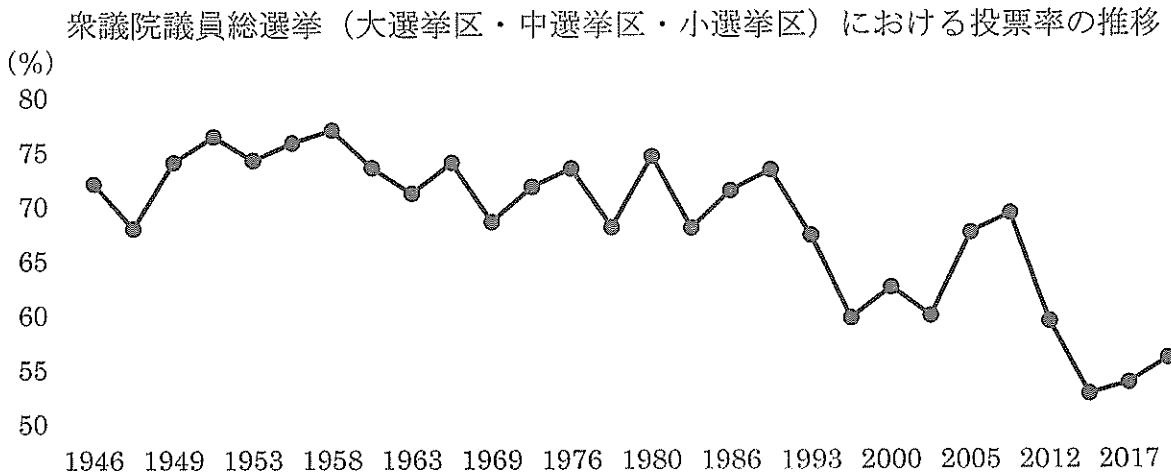
(1) (1) ~ (3) にあてはまる語句の組み合わせとして正しいものはどれですか、ア~クから1つ選び、記号で答えなさい。

- | | | | |
|---|---------|--------|----------|
| ア | [1 衆議院 | 2 総議員 | 3 3分の2] |
| イ | [1 衆議院 | 2 総議員 | 3 2分の1] |
| ウ | [1 衆議院 | 2 出席議員 | 3 3分の2] |
| エ | [1 衆議院 | 2 出席議員 | 3 2分の1] |
| オ | [1 各議院 | 2 総議員 | 3 3分の2] |
| カ | [1 各議院 | 2 総議員 | 3 2分の1] |
| キ | [1 各議院 | 2 出席議員 | 3 3分の2] |
| ク | [1 各議院 | 2 出席議員 | 3 2分の1] |

(2) 下線について、**グラフ1・2**を見ると、憲法改正について国民の承認が民意を正しく反映するとは限らないとも考えられます。なぜそのように考えることができるのですか、グラフから読み取れることを参考にしたうえで説明しなさい。なお、説明には以下の**〔語句〕**を使用すること。

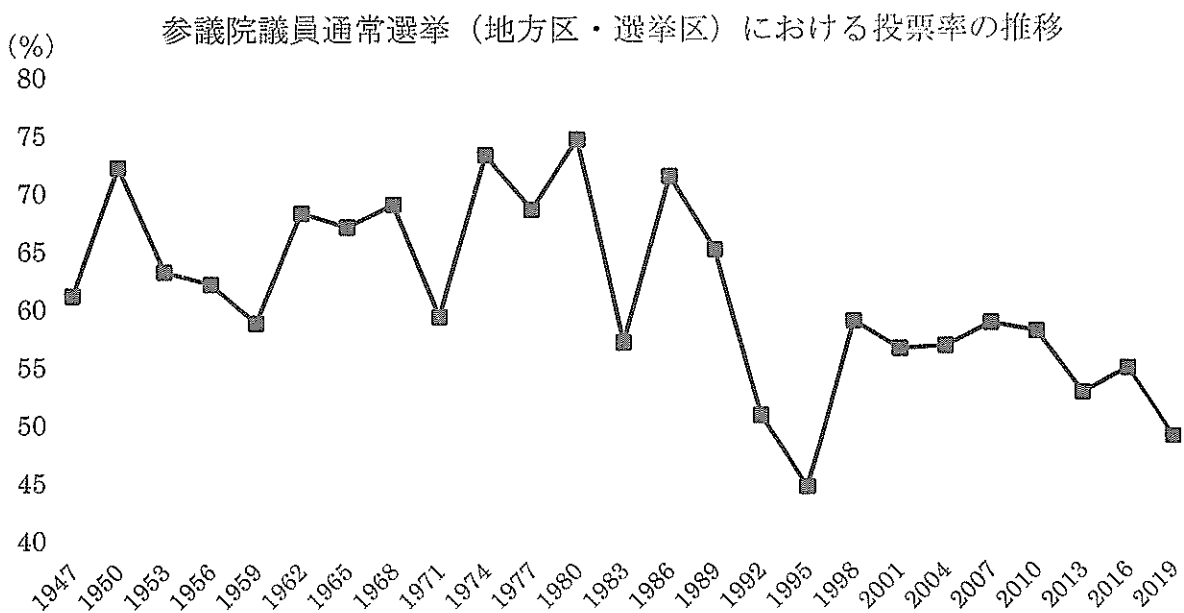
〔語句〕 有権者 投票率 過半数

<グラフ1>



総務省 HP (<https://www.soumu.go.jp>) より作成

<グラフ2>



総務省 HP (<https://www.soumu.go.jp>) より作成

問2 下線Bについて、平等に関する事例の説明a～cについて、その正誤の組み合わせとして正しいものはどれですか、ア～クから1つ選び、記号で答えなさい。

- a 最高裁は、一票の格差が2倍を超えていた衆議院選挙については違憲とし、選挙の無効と選挙のやり直しを命じました。
- b 最高裁は、夫婦同姓を規定した現在の民法の規定は、選択的別姓を求める人々の権利を侵害しているため違憲とし、選択的別姓の制度が実現しました。
- c 民法は、結婚年齢を男性は18歳以上、女性は16歳以上としてきましたが、民法改正が行われ、現在は男女とも18歳以上となりました。

- | | |
|-------------------|-------------------|
| ア [a－正 b－正 c－正] | イ [a－正 b－正 c－誤] |
| ウ [a－正 b－誤 c－正] | エ [a－誤 b－正 c－正] |
| オ [a－正 b－誤 c－誤] | カ [a－誤 b－正 c－誤] |
| キ [a－誤 b－誤 c－正] | ク [a－誤 b－誤 c－誤] |

問3 下線Cについて、選挙に関する説明a～cについて、その正誤の組み合わせとして正しいものはどれですか、ア～クから1つ選び、記号で答えなさい。

- a 2022年4月1日から、18歳以上のすべての国民は選挙権および被選挙権を持つことになりました。
- b 地方公共団体の首長は住民の直接選挙で選ばれるが、有権者の3分の1以上が署名をすればただちに解職させることができます。
- c 総理大臣は国会議員の投票によって国会議員のなかから選ばれ、衆議院と参議院の議決が異なる場合は参議院の議決が国会の議決となります。

- | | |
|-------------------|-------------------|
| ア [a－正 b－正 c－正] | イ [a－正 b－正 c－誤] |
| ウ [a－正 b－誤 c－正] | エ [a－誤 b－正 c－正] |
| オ [a－正 b－誤 c－誤] | カ [a－誤 b－正 c－誤] |
| キ [a－誤 b－誤 c－正] | ク [a－誤 b－誤 c－誤] |

問4 下線Dについて、このような考え方に基づく制度についての説明a～cについて、その正誤の組み合わせとして正しいものはどれですか、ア～クから1つ選び、記号で答えなさい。

- a 原発や産業廃棄物処理場の建設など住民の意見が対立するような重要な議題については、首長は賛否を問う住民投票を必ず実施しなければなりません。
- b 地方公共団体の住民は、条例の制定や改廃をもとめて、有権者の50分の1以上の署名を首長に提出し、地方議会での議決を請求することができます。
- c 有権者名簿のなかから裁判員に選ばれれば、殺人など重大事件に関する刑事裁判の第1審の審理に参加し、裁判員だけで有罪判決を下すことができます。

ア [a－正 b－正 c－正] イ [a－正 b－正 c－誤]

ウ [a－正 b－誤 c－正] エ [a－誤 b－正 c－正]

オ [a－正 b－誤 c－誤] カ [a－誤 b－正 c－誤]

キ [a－誤 b－誤 c－正] ク [a－誤 b－誤 c－誤]

問5 本文中のX・Y2つの意見に関して、Xの意見に基づく主張と考えられるものはどれですか、ア～エから2つ選び、記号で答えなさい。

- ア 国連総会では、議決にさいして安全保障理事会常任理事国も含めすべての加盟国が一票しか持たないのは、民主主義として当然のことです。
- イ 議会で多数を占める与党の法律案が、野党との国会審議を通して修正されることは、民主主義として当然のことです。
- ウ 選挙区で1人だけ当選する小選挙区制よりも、複数人が当選する大選挙区制や比例代表制を採用することは、民主主義として当然のことです。
- エ 地方圏より大都市圏のほうに国会議員の議員定数が多く配分されているのは、民主主義として当然のことです。

問題は、これで終わりです。

ここにシールを貼ってください！

社会L1

受験番号 ()

氏名 ()

--

[解答らん] ※印のらんには何も記入しないこと。

1	問1	1	2	3
	問2			
	問3			
	問4	問5	問6	問7
	問8	問9 (1)	(2)	

2	問1	1	2	3
	問2			
	問3	(1) 2番目	3番目	(2) 資料1
		(3) 時期	状況	

3	問1	問2	問3
	問4	問5	問6
	問7	福岡市	仙台市

4	問1	(1)			
	問1	(2)			
	問2	問3	問4	問5	

※1-問3	※2-問3(3)	※4-問1(2)
-------	----------	----------