

令和5年度 第1回入試 入学試験問題

# 社 会

氏 名	
-----	--

## 受験上の注意

1. 試験時間は、30分間です。
2. 答えを書き始める前に、問題用紙には氏名を、解答用紙には座席番号・受験番号・氏名を書いてください。
3. 字数制限のある問いでは、句読点や符号（，。」「」など）も1字と数えます。
4. 印刷が読みにくかったり、解答用紙が破れたりした場合は、静かに手を上げて、試験監督の先生に知らせてください。
5. 気分が悪くなったときは、静かに手を上げて、試験監督の先生に知らせてください。
6. 問題を解き終わっても、途中退室はできません。

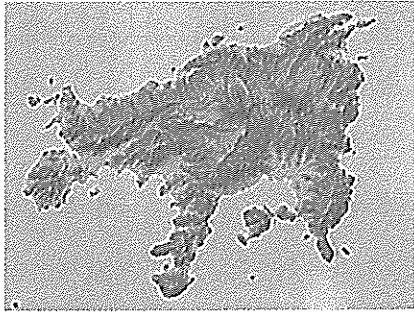


1 次の文章A～Fは、ある6つの都道府県をそれぞれ紹介したものです。これらの文章を読み、あとの問いに答えなさい。


- A 国土面積が全国で最も小さい都道府県です。多数の島が存在し、そのうちの1つである①小豆島ではオリーブの生産が有名です。年間を通して温暖少雨の気候で、( 1 ) 平野ではため池を利用した米づくりがさかんに行われています。
- B 利根川・②尾瀬などの豊かな自然と、草津・伊香保などの温泉地が有名です。また、年間を通して多様な③野菜の生産が行われており、首都圏への重要な野菜供給地となっています。
- C 都道府県庁所在地は「杜の都」と呼ばれ、西側は奥羽山脈、東側は太平洋に面しています。また、日本三景の1つである松島や、七夕祭りなどの観光資源も豊富です。
- D 国内随一の恐竜化石の発掘地で、「恐竜王国」として知られています。④北陸工業地域の一角をなしており、越前和紙などの伝統工芸もさかんで、7品目が国の伝統的工芸品に指定されています。
- E 国内で唯一、都道府県全域が亜熱帯地域に属しており、一年を通して温暖な気候に恵まれていますが、台風が多く通過するため⑤住居に工夫がみられます。かつては、中国など近隣諸国との貿易で発展しました。
- F 日本のほぼ中央に位置し、琵琶湖があります。古くから文化・経済の先進地として栄え、三重の天守が美しい国宝の( 2 ) 城など奥深い歴史文化がみられます。

問1 下線部①について，小豆島を示しているものとして正しいものを次のア～エから1つ選び，記号で答えなさい。ただし，図の縮尺はそれぞれ異なります。

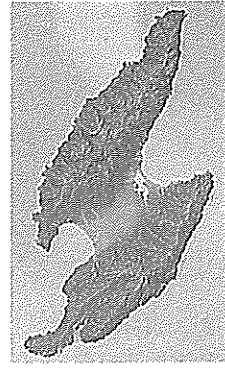
ア



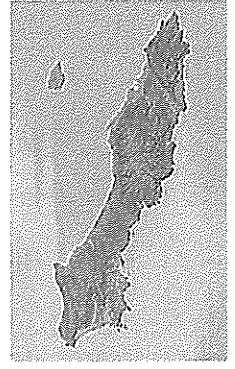
イ



ウ



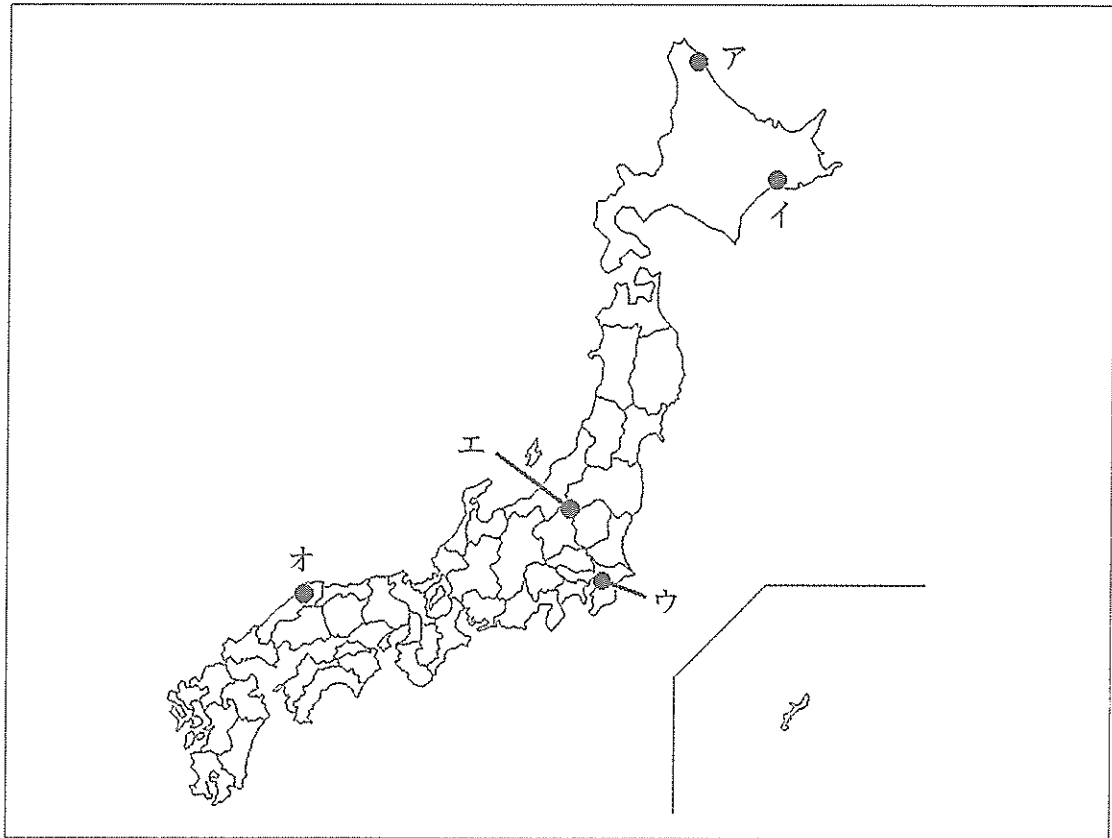
エ



(「Google Maps」より引用)

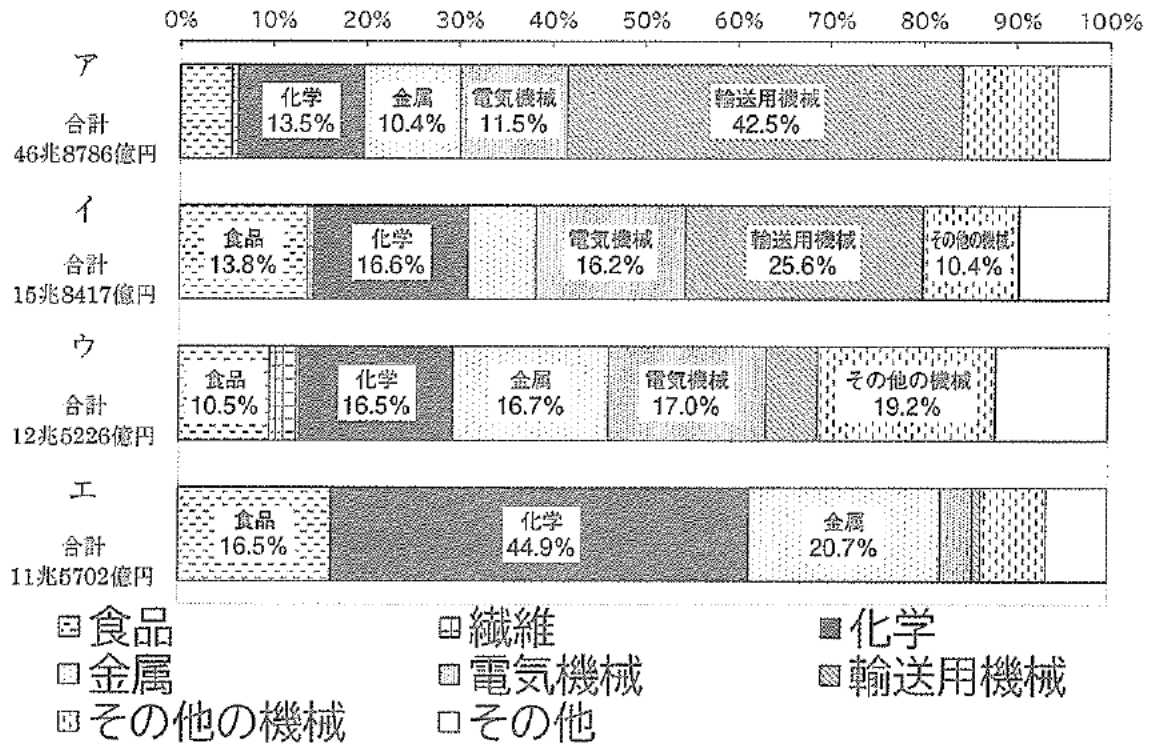
問2 Aの文章中の( 1 )に当てはまる語句を漢字で書きなさい。

問3 下線部②について、尾瀬は水鳥をはじめ多くの生物がすむ重要な湿地として、ラムサール条約の登録地となっています。その他のラムサール条約登録地である、釧路湿原、および谷津干潟の所在地として正しいものを次の地図中のア～オからそれぞれ1つずつ選び、解答欄に従って記号で答えなさい。



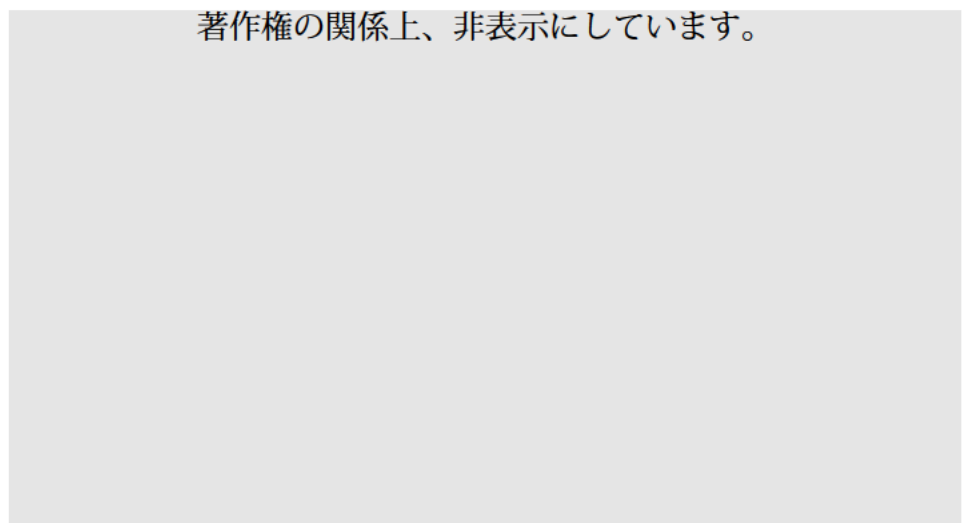


問6 下線部④について、次のア～エのグラフは、日本のある工業地帯、および工業地域の産業別出荷額割合を示したものです。北陸工業地域を示したものとして正しいものをア～エから1つ選び、記号で答えなさい。



(「2020年工業統計調査」より作成)

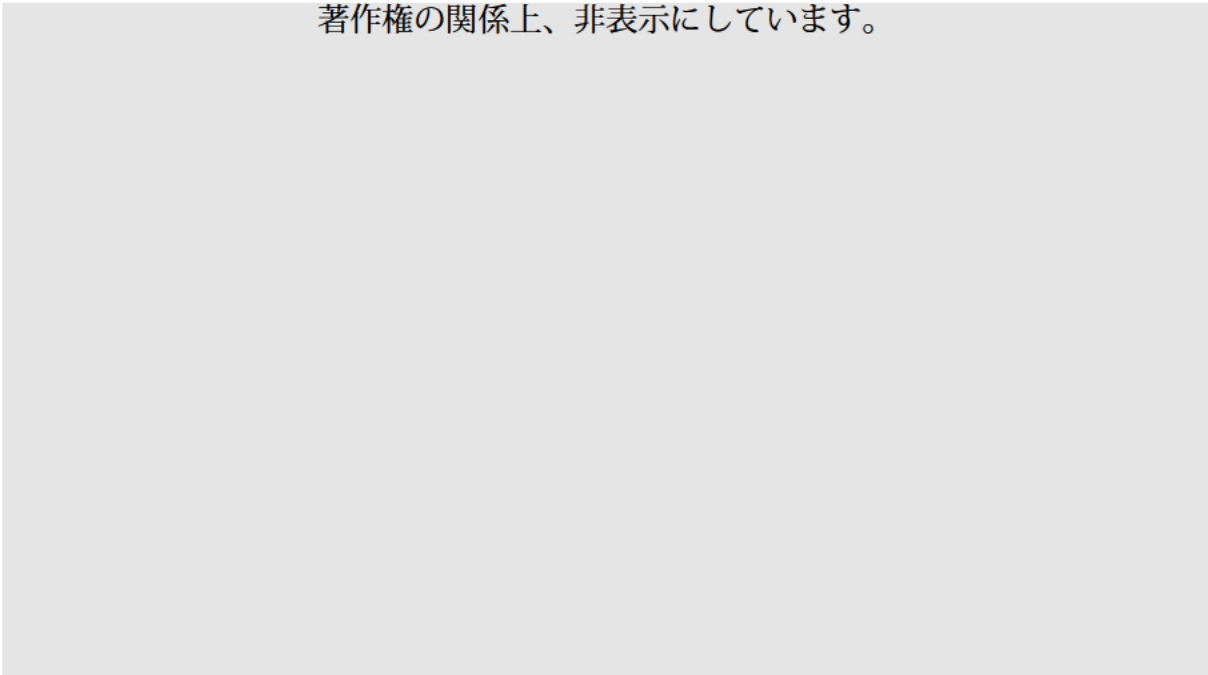
問7 下線部⑤について、次の写真はEの文章が示す都道府県の一部の地域でみられる住居を写したものです。台風から家を守るための工夫を、写真を参考にしながら「しっくい」「石垣」という語句を用いて簡潔に説明しなさい。



問8 Fの文章中の（ 2 ）に当てはまる語句を漢字で書きなさい。

問9 次の地形図は、平成10年発行のFの文章が示す都道府県のもので、この地形図中には河床の高さが周囲の平野面よりも高くなり、川の下を道路が通る箇所もみられます。このような河川を何といいますか、漢字で書きなさい。

著作権の関係上、非表示にしています。



問10 A～Fの文章が示す都道府県のうち、政令指定都市が所在するものを1つ選び、記号で答えなさい。また、その政令指定都市の名称を漢字で書きなさい。



## 2

次の年表は日本の法制度に関するものです。これを見て、あとの問いに答えなさい。

年	できごと
604年	憲法十七条の制定…………… ①
701年	文武天皇が□を制定
743年	墾田永年私財法の制定 【ア】
1232年	御成敗式目の制定
1336年	建武式目の制定…………… ②
1639年	鎖国令（寛永十六年の鎖国令）の制定…………… ③
1742年	公事方御定書の制定…………… ④
1868年	五箇条の御誓文の公布
1875年	新聞紙条例の公布…………… ⑤
1889年	大日本帝国憲法の発布 【イ】
1938年	国家総動員法の公布
1946年	日本国憲法の公布
1967年	公害対策基本法の成立…………… ⑥

問1 年表中①について、次の資料Ⅰ～資料Ⅲを参考にし、9ページの〔考察文〕の(1)～(3)に当てはまるものとして正しいものを、(1)はア～ウ、(2)はエ～キ、(3)はク～サからそれぞれ1つずつ選び、記号で答えなさい。

資料Ⅰ 『隋書』倭国伝

開皇二十年\*<sup>1</sup>、倭王の姓アメ、字<sup>あざな</sup>タリシヒコ、号オオキミが遣使して宮中に来た。高祖\*<sup>2</sup>は所司に命令して、その風俗を訪ねさせた。使者は「倭王は天を兄とし、日を弟とし、天がまだ明けていない時に出て政務を聴き、あぐらをかいて坐っています。日が出るとそれをやめ、わが弟に委ねようといひます。」といった。高祖は「これはあまりにも筋の通らないことだ」といひ、訓戒して倭王の行為を改めさせた。…

大業三年\*<sup>3</sup>に、倭国の王が使者を遣わして、朝貢\*<sup>4</sup>してきた。…（使者の持参した）国書には「日の昇るところの天子が、書を日の没するところの天子に差し出します。…」これをみた<sup>ようだい</sup>煬帝\*<sup>5</sup>は不機嫌になり、「蛮人の国書に無礼なものがあつた。こういう国から、また何か言つてきても相手にするな」と命じた。

翌年、煬帝は<sup>はいせいせい</sup>裴世清を倭国に使者として派遣した。

（一部要約しています）

- \* 1 西暦600年      \* 2 中国の皇帝      \* 3 西暦607年  
\* 4 貢物を贈ること      \* 5 中国の皇帝

資料Ⅱ 『日本書紀』

推古天皇十五年\*<sup>6</sup>秋七月三日、小野妹子を隋に遣わした。

推古天皇十六年夏四月、小野妹子が隋から帰国した。…隋の使者裴世清が十二人のしもべを伴ひ、妹子に連れられ筑紫に到着した。…

（同年）九月十一日、隋の使者裴世清が帰国した。

（一部要約しています）

- \* 6 西暦607年

資料Ⅲ 憲法十七条

- 一 和をとるとび、争いをやめ、逆らうことのないように心がけなさい。
- 二 あつく三宝を敬え。三宝とは、仏・法・僧のことである。
- 三 詔をうけたら、必ずつつしんでそれに従え。
- 八 官吏はすべて、朝早く出仕して、遅く退出せよ。
- 十一 功績と過ちをよく見て、それに応じて賞罰を与えよ。
- 十二 国司や国造は百姓から私的に奪い取ってはならない。国に二人の君主はおらず、民に二人の主はいない。

(一部要約しています)

[考察文]

( 1 ) 年に倭国が隋に使いを遣したことは、日本側の資料には見られない。これは歴史書には権力者の権威を高める性格があるからだと考えられる。この年の派遣を受けて、憲法十七条が定められた。憲法十七条の ( 2 ) は ( 1 ) 年の派遣で中国の皇帝から指摘を受けて作られた条項だと考えられる。また三条や十二条の内容から、聖徳太子は ( 3 ) の樹立を目指していたと考えられる。

( 1 ) に入る数字

ア 600      イ 607      ウ 608

( 2 ) に入る語句

エ 一条      オ 二条      カ 八条      キ 十一条

( 3 ) に入る語句

ク 中央集権国家      ケ 連合政権      コ 公地公民制      サ 封建制度

問2 年表中の  に当てはまる法令名を漢字で書きなさい。

問3 年表中【ア】の期間に起こったできごととして正しいものを次のア～エから1つ選び、記号で答えなさい。

- ア 中国に使いを遣して、金印を授かった。
- イ 朝鮮半島からはじめて儒教が伝わった。
- ウ 和同開珎からはじめてつくられた。
- エ 平泉に中尊寺金色堂が建てられた。

問4 鎌倉時代の【建造物】と【説明】の組み合わせとして正しいものを次のア～エから1つ選び、記号で答えなさい。

【建造物】

a

b

著作権の関係上、非表示にしています。

【説明】 X 唐の建築技術を用いて作られた。

Y 宋の建築技術を用いて作られた。

ア a—X      イ a—Y      ウ b—X      エ b—Y

問5 年表中②について、次の資料を参考にし、説明として正しいものを下のア～カから3つ選び、記号で答えなさい。

鎌倉を以前のように幕府の所在地とすべきか、他所へ移すべきか否かのこと…  
特に鎌倉郡は文治年間に、右大将頼朝公が初めて幕府の館を構え、承久の乱で天下を統一した武家にとっては最も縁起の良い土地といえるだろう。…ただし、多くの人々は他所へ移りたいと望むなら、その気持ちに従うべきであろう。

#### 政治の方法のこと

時代に対応した制度を作るのに、日本、中国のどのような法を参考にすべきか。まず武家政治全盛時代の先例にならって善政を行うべきであろう。それなら、鎌倉幕府からの官僚が数多く健在である。古法や先例を探ろうとするのに何の不足もありはしない。…民衆を安定させる手段の要点を大まかに書いておく。

一 儉約につとめること

一 大勢集まって酒を飲んだり、勝手気ままな遊興は禁じること

…以上十七箇条、概略はこの通りである。古くは延喜・天曆の治の両天皇の徳に学び、最近では北条義時・泰時父子の業績を模範として、特にすべての人が仰ぎ服するような政治を行うことが、世の中の平和のための基礎となるだろう。

(一部要約しています)

- ア 建武式目を定めたのは、六波羅探題を攻め落とした人物である。
- イ 建武式目を定めたのは、室町に花の御所と呼ばれる館を作った人物である。
- ウ 幕府の居所は建武式目の制定当初決まっておらず、多くの人々の意見を取り入れて決めようとしていた。
- エ 室町幕府の居所や政治体制を定める際に、鎌倉幕府や古代の天皇の政策が参考にされた。
- オ 鎌倉幕府から政治体制を一新するために、鎌倉幕府に仕えていた武士は登用されなかった。
- カ 建武式目では、北条泰時が執権の時代に天下統一が行われたと考えていた。

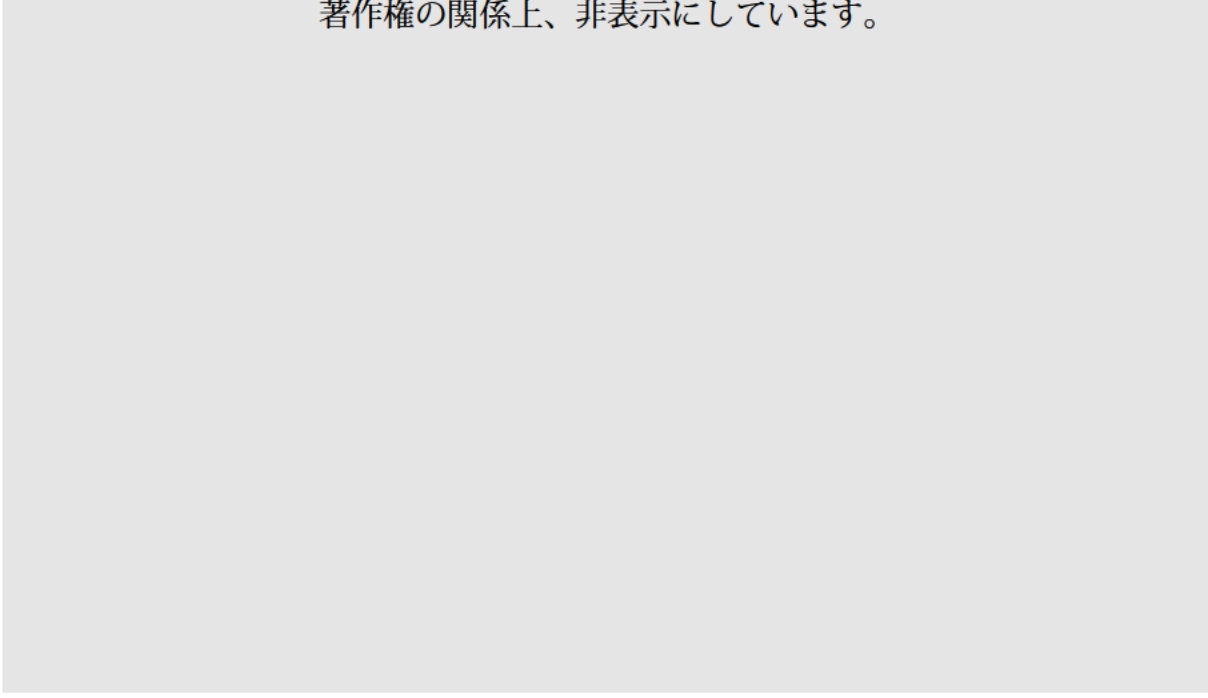
問6 年表中③について、なぜ幕府は鎖国を行ったのか、次の資料Ⅰ・資料Ⅱを参考にし、簡潔に説明しなさい。

資料Ⅰ 朱印船貿易（1604～1635年）を行った大名

島津家久，有馬晴信，鍋島勝茂

資料Ⅱ 1664年ころの大名配置図

著作権の関係上、非表示にしています。



問7 年表中④について、この法令が制定された時の将軍名を漢字で書きなさい。

問 8 年表中⑤について、この条例は自由民権運動に対し、政府が出した規制法令です。政府は1880年にも自由民権運動を弾圧するために、ある法令を出しました。これを風刺したものとして正しいものを次のア～エから1つ選び、記号で答えなさい。

ア

イ

著作権の関係上、非表示にしています。

ウ

エ

著作権の関係上、非表示にしています。

問9 年表中【 イ 】の期間に日本で起こったできごとである次の文ア～エを時代順に並べ替え、解答欄に従って記号で答えなさい。

- ア 国際連盟を脱退した。
- イ 初めて本格的な政党内閣が誕生した。
- ウ ラジオ放送が始まった。
- エ ロシア・フランス・ドイツが遼東半島の返還を求めた。

問10 年表中⑥の公害対策基本法について、次の(1)・(2)の問いに答えなさい。

(1) これに関連して、1971年に設置された官庁の名称を解答欄に従って漢字で書きなさい。

(2) 1960年代の日本について述べたものとして正しいものを次のア～エから1つ選び、記号で答えなさい。

- ア 教育基本法が公布された。
- イ 小笠原諸島が日本に復帰した。
- ウ 日中平和友好条約が結ばれた。
- エ 特需景気をむかえた。



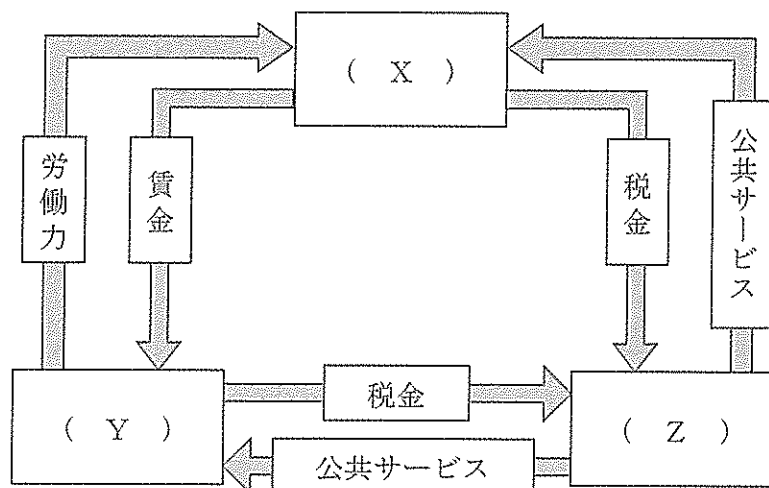
### 3 次の問題A・Bに答えなさい。

A 次の文章を読み、あとの問いに答えなさい。

経済社会には、生産活動の中心となる企業、消費活動をする家計、財政活動をおこなう政府という三つの①経済主体が存在します。

私たちの家庭は、何らかの仕事をを行うことで、②所得を得ています。私たちはその所得を使って、主に企業が③生産した財やサービスを購入し、毎日の消費生活を営んでいます。自由な競争が行われている市場では、財やサービスの④価格は需要と供給の関係によって変動することが知られています。

問1 下線部①について、次の図は経済主体による経済循環を模式的に表しています。図中の( X )～( Z )に当てはまる経済主体を、上の文章を参考にしながらそれぞれ書きなさい。



問2 下線部②について、私たちは貨幣という形で所得を得ています。貨幣が持っている、価値を貯蔵するはたらきの説明として正しいものを次のア～エから1つ選び、記号で答えなさい。

- ア 布を製造しているAさんは、綿布1メートル当たり100円の価格をつけた。
- イ 農家を営んでいるBさんは、農作物が腐る前に販売し貨幣を得た。
- ウ 企業で働いているCさんは、所得を得て以前から欲しかった本を買った。
- エ 家で電気を使ったDさんは、口座振替によって電気料金を支払った。

問3 下線部③について、1つの国の中で、一定期間内に新たに生産された財やサービスの付加価値の合計を何というか、アルファベット3文字で書きなさい。

問4 下線部④について、一定期間にわたって、全般的な財やサービスの価格が上昇することを何というか、カタカナで書きなさい。

B 次の文章を読み、あとの問いに答えなさい。

次の表は、民主主義の度合いを示す国際的なランキングです。この指数は、最低、最高10の「総合スコア」で各国・地域の民主主義の成熟度をランク付けしており、4未満が独裁政治体制、4以上6未満が混合政治体制、6以上8未満が欠陥のある民主主義、8以上が完全な民主主義と分類されています。

表について見てみると、2021年の順位においては、上位を（ 1 ）の地域が多く占めていることが特徴的で、日本については（ 2 ）と評価されていることがわかります。

今回、この表から、日本は比較的上位にありますが、同時に①いくつかの課題も見えてきました。今後、さらなる民主主義を推し進めていくために、日本が他の国から学ぶべきことは多いと言えるでしょう。

著作権の関係上、非表示にしています。

問1 文章中の( 1 )・( 2 )に当てはまる語句の組み合わせとして正しいものを次のア～エから1つ選び、記号で答えなさい。

- ア ( 1 ) 北米 ( 2 ) 完全な民主主義
- イ ( 1 ) 北米 ( 2 ) 欠陥のある民主主義
- ウ ( 1 ) 北欧 ( 2 ) 完全な民主主義
- エ ( 1 ) 北欧 ( 2 ) 欠陥のある民主主義

問2 下線部①について、ランキング順位を上げるための記述として正しいものを次のア～エから1つ選び、記号で答えなさい。

- ア ランキング項目の中では相対的に低い、「どれだけ民主的に政治参加できているか」を示すスコアを向上させる必要がある。
- イ 表中に示された国・地域の中で最低の、「市民の自由度」を示すスコアを向上させる必要がある。
- ウ ランキング順位を上げるために、より政府に権力を集中させる必要がある。
- エ ランキングが上位の国の方が経済規模も大きいため、日本も経済発展を優先させる必要がある。

問3 表中の下線部②について、1997年に香港を中国へ返還した国名を書きなさい。

問4 表に関して説明した文として正しいものを次のア～エから1つ選び、記号で答えなさい。

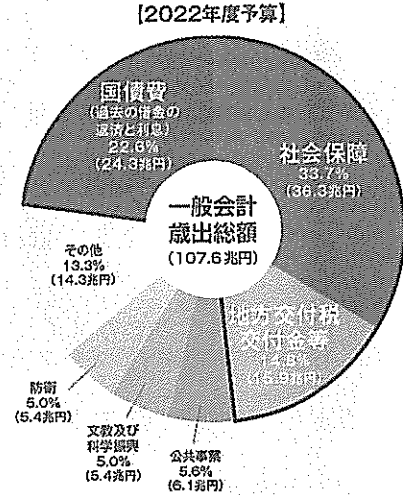
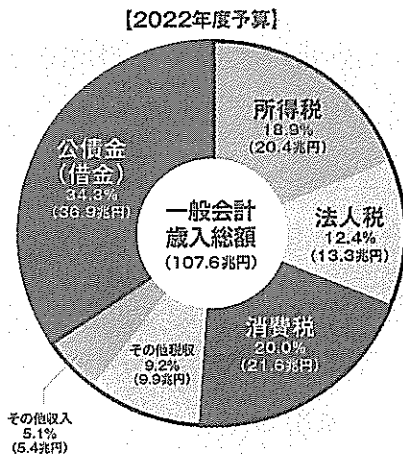
ア 2021年の「総合スコア」が高ければ高い国・地域ほど、「市民の自由度」のスコアも高くなっている。

イ 2021年の「総合スコア」の上位5か国・地域において、2018年から順位を上げているのは、1つの国・地域だけである。

ウ 2021年の香港の順位が2018年から低下しているのは、2019年から行われていた民主化運動により、香港の統治機構がより民主的に変化したことが要因の一つと考えられる。

エ 2021年のミャンマーの「どれだけ民主的な政治機能か」のスコアが0.00なのは、2021年に同国の軍がクーデターを起こして政権を掌握したことが要因の一つと考えられる。

4 次のグラフは、日本の2022年度の一般会計予算を表しています。この予算に対する意見を、あなたが国会議員であると仮定して50字以内で書きなさい。



(注)「その他」には、新型コロナウイルス感染症対策予備費 (4.6% (5.0兆円)) が含まれる。

(財務省 HP 日本 の財政状況より引用)

問題は以上です。







令和5年1月10日

各位

大宮開成中学校

校長 松崎 慶喜

## 令和5年度中学入試問題【社会】の印刷の不備について

新春の候、ますますご発展のこととお慶び申し上げます。平素は本学園の教育にご理解とご支援を賜り厚く御礼申し上げます。

さて、お陰をもちまして、本日第1回入試(1月10日)が終了いたしました。誠に遺憾ながら、問題文の一部に印刷の不備がございました。解答には何ら差し支えない個所ではあります。不手際をお詫び申し上げますとともに、下記のとおり訂正させていただきますのでよろしくお願ひ申し上げます。

### 記

#### 1 印刷不備の箇所

社会・第3問・Bの問題文1～2行目

「この指数は、最低\_\_\_\_, 最高10の…」(\_\_\_\_の個所が抜けている)

→「この指数は、最低0, 最高10の…」(0が入る)

中高一貫部教頭 小林 佑樹

TEL 048-641-7161

FAX 048-647-8881

