

2023年度

昭和学院秀英中学校

第1回 入学試験問題

社 会

- ※ 試験開始の合図があるまで、この冊子を開かないでいること。
- ※ 解答用紙は、この冊子の中にあります。
- ※ 全ての問題について、特に指定のない限り、漢字で答えるべきところは漢字で答えなさい。
- ※ 試験終了後は、解答用紙のみ提出し、この冊子は持ち帰ること。

※このページには問題はありません。

※このページには問題はありません。

1 太郎さんと花子さんは、中国・四国地方について調べ学習を行い、クラスで発表しました。2人の発表を読み、以下の問いに答えなさい。

太郎：中国・四国地方には、様々な①気候がみられ、地域ごとにそれぞれ特徴ある暮らしが営まれています。これからそれらの一部を紹介していきます。

花子：まずは愛媛県です。タオルの生産で有名な（ X ）市と広島県の尾道市を結ぶ瀬戸内しまなみ海道によって本州と結ばれています。日当たりのよい斜面を利用してみかんなどの柑橘類の生産が盛んです。

太郎：続いて香川県です。瀬戸大橋によって本州とつながるほか、小豆島ではオリーブが生産されています。また讃岐平野では吉野川から用水が引かれて利用されています。

花子：徳島県の北部には、中央構造線と呼ばれる②断層に沿って吉野川が流れ、河口部には徳島市が位置します。徳島県にはLED（発光ダイオード）の世界的なメーカーがあり、LEDの出荷額が日本一です。LEDは蛍光灯などに比べて消費電力が少ないため、③二酸化炭素の排出削減に効果があると考えられています。

太郎：高知県の四万十川には、写真1のような④欄干のない橋がいくつもかけられ、生活道路として住民に利用されています。

花子：四国地方や中国地方には、⑤漁業の盛んな地域も多いです。

太郎：四国地方は⑥山がちで、高知県をはじめとして総土地面積に対する林野面積の割合が高いです。

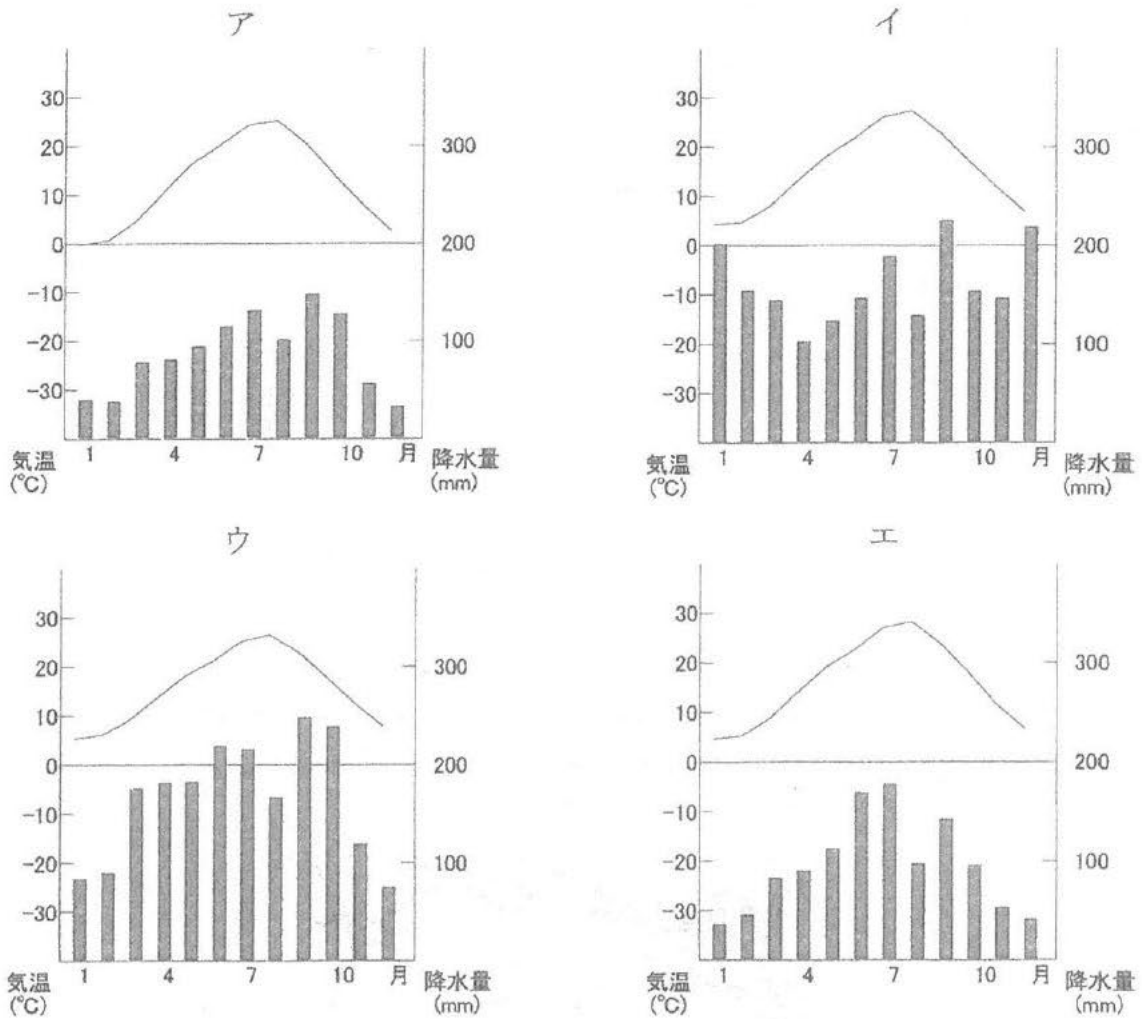
花子：山口県にはカルスト地形の秋吉台があり、宇部ではセメント工業が盛んです。

太郎：瀬戸内地域は⑦工業が盛んな地域でもあります。

著作権の関係上、非表示にしています。

写真1

問1 下線部①に関連して、次の図1中のア～エの雨温図は、それぞれ岡山（岡山県）、小田原（神奈川県）、鳥取（鳥取県）、松本（長野県）の各都市のいずれかのものです。岡山の雨温図にあたるものを、ア～エより1つ選び記号で答えなさい。



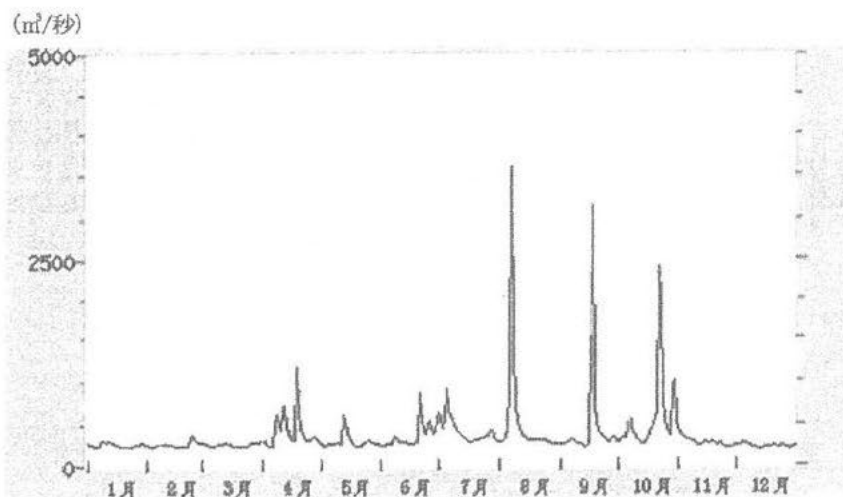
1991～2020年の平年値。気象庁HPより作成。

図1

- 問2 文中の空欄（ X ）にあてはまる都市の名称を答えなさい。
- 問3 下線部②に関連して、本州の中央部にも新潟県糸魚川市と静岡県静岡市を結ぶ巨大な断層（糸魚川・静岡構造線）が縦断しています。この断層を西端とする東北日本と西南日本の境界を何とよぶか、カタカナで答えなさい。
- 問4 下線部③に関連して、次の表1は、主な国の温室効果ガス排出量（二酸化炭素換算）を示したものであり、カ～ケはアメリカ合衆国、インド、中国、日本のいずれかです。日本にあたるものを、カ～ケより1つ選び、記号で答えなさい。

表1
著作権の関係上、非表示にしています。

問5 下線部④に関連して、次の図2は、図3中の観測地点(●)における四万十川の日流量変化を示したものであり、時期によって流量に変化があることが読み取れます。欄干とは、橋の縁に設けられた柵のことですが、四万十川流域には欄干のない橋がいくつも残っています。欄干がないことにはどのような利点があると考えられるでしょうか。図2を参考にして、その利点を40字以内で答えなさい。



国土交通省 水文水質データベースより作成。観測地点は具同(無堤)。データは2017年。

図2

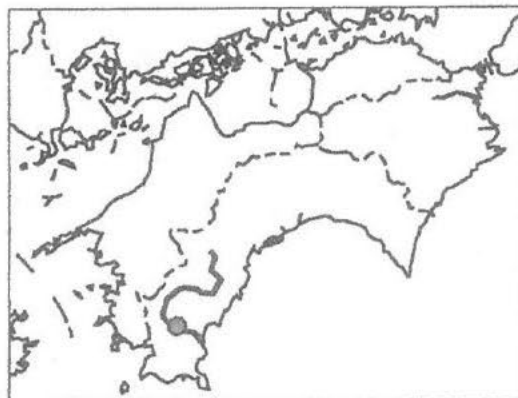


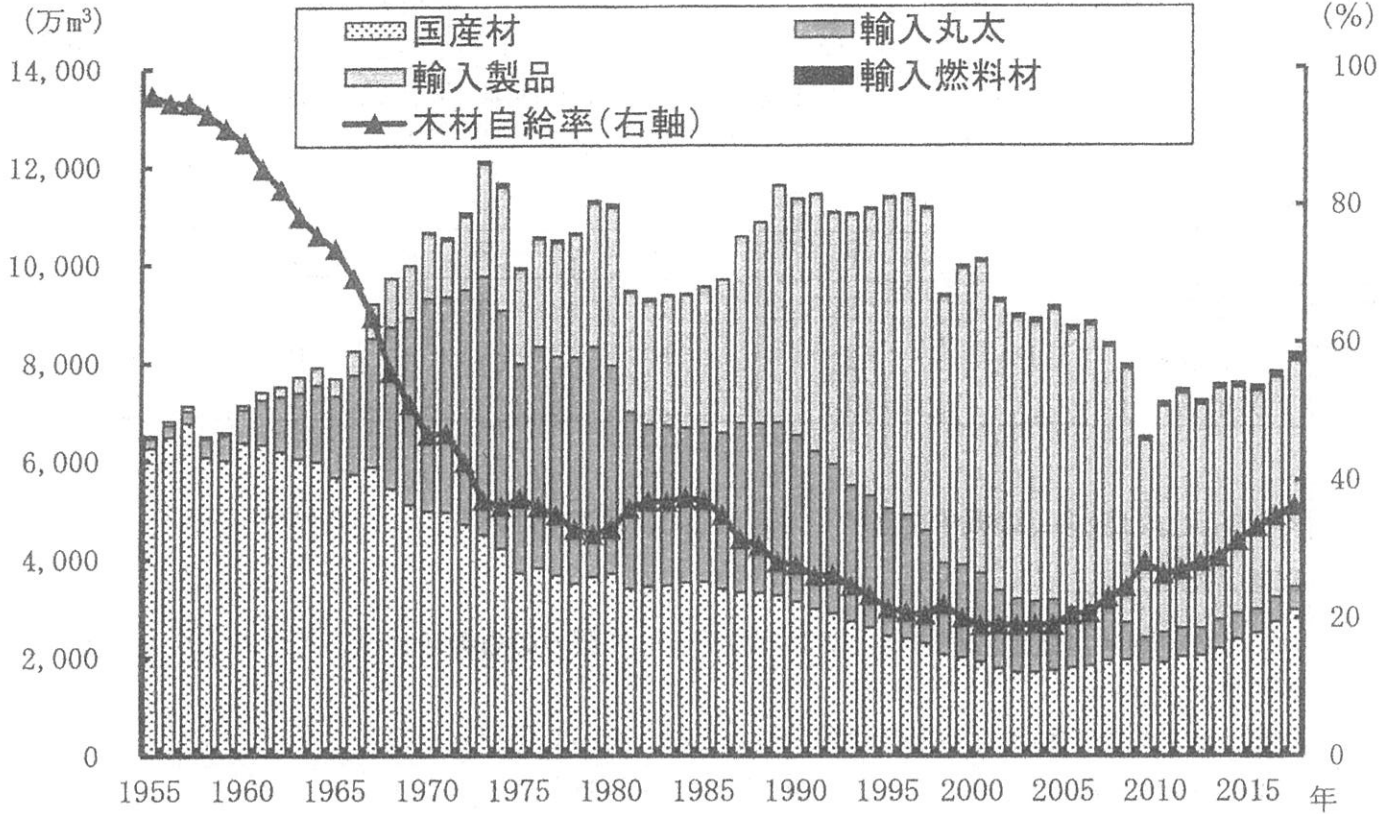
図3

問6 下線部⑤に関連して、次の表2は、いくつかの県の海面漁業漁獲量・養殖業の収穫量の合計と上位の魚種などを示したものであり、表2中のA~Cは愛媛県、高知県、広島県のいずれかを、D、Eは、海面漁業漁獲量、海面養殖業収穫量のいずれかを示しています。愛媛県と海面養殖業収穫量との正しい組合せを、あとのサ~タより1つ選び、記号で答えなさい。

表2
著作権の関係上、非表示にしています。

	サ	シ	ス	セ	ソ	タ
愛媛県	A	A	B	B	C	C
海面養殖業収穫量	D	E	D	E	D	E

問7 下線部⑥に関連して、次の図4は、日本の木材の供給量と自給率の推移について示したものです。図から読み取れることがらやその背景について述べた下のF・Gの文の正誤の正しい組合せを、あとのナ～ネより1つ選び、記号で答えなさい。



林野庁資料により作成。

図4

- F：高度経済成長期には、建築需要の高まりにより、国産材も外国産の用材もともに供給量が伸びている。
- G：2000年代以降、木材の自給率は上昇傾向にあり、2010年代には国産材の供給量が過半を占めるようになった。

	ナ	ニ	ヌ	ネ
F	正	正	誤	誤
G	正	誤	正	誤

問8 下線部⑦に関連して、次のページの表3は、いくつかの工業地域・地帯*の工業出荷額の内訳(%)を示したものであり、表中のH～Jは、関東内陸工業地域、瀬戸内工業地域、中京工業地帯のいずれかです。表中H～Jと工業地域・地帯名との正しい組合せを、あとのハ～マより1つ選び、記号で答えなさい。

表3
著作権の関係上、非表示にしています。

	ハ	ヒ	フ	ヘ	ホ	マ
関東内陸工業地域	H	H	I	I	J	J
瀬戸内工業地域	I	J	H	J	H	I
中京工業地帯	J	I	J	H	I	H

2 古くから人類は数多くの戦争を経験してきました。日本が国内外で行った戦争について、以下の問いに答えなさい。

問1 日本列島で戦争が始まった時代に関する説明として誤りのものを、次のア～エより1つ選び、記号で答えなさい。

- ア 収穫した米をたくわえる高床の倉庫がつくられ、暮らしが安定した。
- イ 家族の無事や勝利を祈るために、土偶という土でできた人形をつくるようになった。
- ウ 朝鮮半島から青銅器や鉄器が伝わり、銅鐸などがつくられるようになった。
- エ 吉野ヶ里遺跡などでは、集落のまわりに濠を構えるようすが見られるようになった。

問2 次のア～エの戦いを古い順に並べ替え、3番目になることがらの記号を答えなさい。

- ア 大海人皇子が、大友皇子を戦争で倒して権力を握った。
- イ 仏教の導入を主張する蘇我氏が、反対する物部氏を戦争で倒した。
- ウ 倭国が高句麗と戦ったことが、好太王の碑文に記録された。
- エ 倭国が滅ぼされた百済を助けるため、唐や新羅の連合軍と戦い、敗れた。

問3 次のア～エの戦いを古い順に並べ替え、3番目になることがらの記号を答えなさい。

- ア 源義経らが率いる軍隊に敗れ、安徳天皇を奉じた平氏は滅亡した。
- イ 後白河天皇と崇徳上皇の天皇家の実権をめぐる対立は、命令を受けた武士の戦いで決着した。
- ウ 後鳥羽上皇は北条義時を倒す命令を出したが、上皇方が敗れた。
- エ 院の近臣間の権力争いから、平清盛は源氏を倒す戦いに勝って政治的な地位を高めた。

問4 次のア～ウは朝廷から軍事指揮官に任じられた人物です。ア～ウの人物が誰かを考え、それぞれの氏名の最後の一字を解答用紙に書きなさい。(例：人物が卑弥呼なら、「呼」と書く)

- ア 桓武天皇から東北地方の武力平定を命じられ、律令国家の拠点を胆沢城に移した。
- イ 後醍醐天皇と対立することになり、北朝の光明天皇から任命された。
- ウ 関ヶ原の戦いで勝利を収めたことから、全国の大名を支配する権力を手に入れた。

問5 次の図1と図2は共通した下級武士の姿を描いています。図1では雇われた武士たちが敵の根拠地に攻め込んで乱暴しているようすを表しています。彼らは戦場で獲得したものは自分のものにしましたが、雇い主から給料をもらうことはありませんでした。図2では大名から給料をもらい、与えられた鉄砲を構えて敵の襲来に備えています。2つの図に表された下級武士の名前を明らかにしながら、戦争において下級武士がどのように変化したか説明しなさい。

図1 著作権の関係上、非表示にしています。

図2 著作権の関係上、非表示にしています。

問6 次の文章を読んで、下線部①～③が表している政策や戦いが何か、それぞれ答えなさい。

戦国時代の戦いは大名間だけでなかった。仏教勢力は信徒や経済力を獲得するために争い、百姓も武士の支配や他の惣村との争いを抱えていた。織田信長の比叡山延暦寺の焼き打ちや石山戦争は仏教勢力の政治・経済力を奪う戦いでもあり、豊臣秀吉の天下統一は大名間の国境だけでなく村の境界も定めるものであった。1588年には武士が政治権力を独占して、①庶民の武装を解除する政策が行われた。豊臣秀吉は対外戦争に乗り出したが、江戸幕府は200年以上にわたって対外戦争を行わなかった。②1615年の戦争で大名間の戦争が終結し、③1638年に九州地方で約4万人の一揆軍を鎮圧してから国内でも約200年戦争のない時代をつくった。全ての身分で武器の所持が禁じられ、戦争を禁じるのはさらに後の話である。

3 日本とアメリカ合衆国の関係の歴史について述べた次の文章を読み、以下の問いに答えなさい。

18世紀末ころから、日本の近海にアメリカ船が姿を見せるようになりました。アメリカやヨーロッパ諸国は日本と交易することや、捕鯨船の寄港地にすることを望んでいました。しかし、江戸幕府は清やオランダ以外との交易を認めず、1837年には日本人漂流民を乗せたアメリカ船モリソン号を砲撃によって追い払いました。1854年の日米和親条約によって、ようやく日本とアメリカ合衆国の国交が成立しました。

戊辰戦争後、①1871年から1873年にかけて岩倉具視を全権大使とする使節団が出国し、その最初の訪問先がアメリカでした。このとき行われた②不平等条約の改正交渉は失敗に終わりましたが、欧米諸国の政治制度や産業、文化を实地に見聞したことが、その後の改革に活かされます。

20世紀初めころの東アジアでは、ロシアが南へ勢力を広げ、満洲へ進出しようとしていました。この情勢に対し、日本やイギリス、アメリカが危機感を強め、③日露戦争が起きました。約17億円が費やされ、そのうちの約7億円はイギリスやアメリカからの借金で調達されました。日露戦争に勝利した日本は、アメリカなど他の列強諸国の黙認のもとで韓国併合を行い、第一次世界大戦ではアジアにおけるドイツの拠点や植民地を奪いました。アメリカは、このような日本の勢力拡大を警戒するようになっていきます。

1929年にアメリカで発生した世界恐慌は、貿易関係で結びついた日本の経済にも影響を及ぼしました。日本国内では戦争によって事態の打開をはかろうとする風潮が高まり、④政党政治家が排除されて、軍部が台頭しました。また、⑤アジアや太平洋をめぐって日本とアメリカが対立を深めていきます。

戦後、日本はアメリカ軍を中心とする連合国軍の占領下におかれ、日本政府を通じてGHQが改革を行いました。アメリカはソ連を中心とする東側陣営への対抗から、b 日本を西側陣営の前線基地に位置づけ、経済復興を支援しました。戦後の日米関係は緊密な同盟によって結びれてきましたが、経済面では貿易摩擦などの問題も生じました。近年は、日米関係を軸に、韓国やインド、オーストラリア、イギリスなどとの連携がはかられており、太平洋を挟む2国間の関係は今後も重要なものとなっていくと考えられています。

問1 波線部 a・b について、それぞれ以下の問いに答えなさい。

- a 岩倉使節団に随行してアメリカに留学し、女性の高等教育の発展に貢献して、2024年発行予定の新5千円札の肖像となることが決定されている人物を答えなさい。
- b 1960年に日米安全保障条約を改定し、日米相互の義務や協力関係が定められましたが、このときの首相を答えなさい。

問2 下線部①に関連して、この期間に行われた政策ではないものを、次のア～エより1つ選び、記号で答えなさい。

- ア 徴兵令の発布
- イ 太陽暦の導入
- ウ 版籍奉還の実施
- エ 地租改正の開始

問3 下線部②について、不平等条約の改正交渉について述べた以下の文章のうち、適当なものを次のア～エより1つ選び、記号で答えなさい。

- ア ノルマントン号事件が起こると、関税自主権がないためにイギリス人船長を裁判にかけることができなかつたため、日本国内では不平等条約への反発が高まった。
- イ 外務卿の井上馨は、鹿鳴館を建設するなど日本の西洋化をアピールし、欧米列強に対して条約改正への賛同を得ようとはかった。
- ウ 日清戦争の直前となる1894年に、外務大臣の伊藤博文はイギリスと交渉し、治外法権を撤廃させた。
- エ 列強の一員として国際的地位を高めた日本は、1911年に外務大臣の陸奥宗光がアメリカと交渉し、関税自主権の回復に成功した。

問4 下線部③について、次の図1は日露戦争のポーツマス条約を風刺して描かれたものですが、図1から読み取れることとして適当なものを、次のア～ウより1つ選び、記号で答えなさい。

- ア 図1中のAの人物は日本の全権大使小村寿太郎をあらわしており、講和の内容に悩んでいる。
- イ 図1中のBの人物は戦争で傷ついたロシアをあらわしており、賠償金を獲得して喜んでいる。
- ウ 図1中のCの人物はポーツマス条約を仲介したイギリスをあらわしている。

図1
著作権の関係上、非表示にしています。

問5 下線部④について、1930年代の日本で進んだ軍国主義化について述べた以下の文章のうち、適当なものを次のア～エより1つ選び、記号で答えなさい。

- ア 陸軍の青年将校によって二・二六事件が起こり、犬養毅首相が暗殺された。
- イ 国家総動員法が制定され、議会の承認なく、人や物資を政府が調達できるようになった。
- ウ 治安維持法が制定され、社会主義者への取り締まりを強めた。
- エ 軍部の台頭に反発する政党政治家は大政翼賛会を結成して抵抗した。

問6 下線部⑤について、次の図2は1930年代に東南アジアをめぐる日本とアメリカの対立を風刺して描かれました。ベンチの背もたれに書かれた「TIMOR」とは、現在のインドネシアの東に位置するティモール島のことです。ティモール島東部はポルトガルの植民地でしたが、本国の政治が不安定になって支配がおろそかとなっており、これをチャンスと考えた日本とアメリカが奪い取ろうとねらっています。ティモール島西部を支配するオランダが巻き込まれることを恐れて不安そうにしています。図2をふまえて、日本の東南アジア進出について述べた以下の文章のうち、適当なものを次のア～エより1つ選び、記号で答えなさい。

図2
著作権の関係上、非表示にしています。

- ア ミッドウェー海戦に敗北し、太平洋戦争で苦戦する日本は、資源の確保のために東南アジアへ進出した。
- イ 真珠湾攻撃の同日、日本軍はポルトガルの植民地であったマレー半島にも上陸した。
- ウ オランダはアメリカなどと連帯し、日本に対する石油の輸出制限を行なった。
- エ 日本は大東亜共栄圏の建設を掲げ、フィリピンでは、現地住民は日本国民と同等の人権が認められた。

4 次の資料はXさんが2022年6月に読んだ新聞記事です。これを読み、以下の問いに答えなさい。

著作権の関係上、非表示にしています。

問1 資料中の空欄（A）（B）にあてはまる語句を答えなさい。ただし、（B）は数字で答えなさい。

問2 下線部 a に関連して、グローバル化が進む現在の国際社会では、国内の政策だけで根本的解決をはかることが難しい経済問題が起きています。経済に関する様々な問題を解決するための国際的取り組みについての記述として誤りのものを、次のア～エより1つ選び、記号で答えなさい。

ア 国際連合の組織のうち、経済、社会、保健などの問題を扱う経済社会理事会は、専門機関と連携して世界の人々の生活改善のための活動を行っている。

イ 経済援助の必要な国に実施される政府開発援助（ODA）には返済の必要がない無償援助と、返済が必要な有償援助がある。

ウ 自由貿易を促進するために、二国あるいは多国間で協定を結び、地域限定の自由貿易市場をつくる地域主義の動きが活発になっている。

エ 発展途上国の間でも経済格差が広がる南南問題を解決するための組織として、経済協力開発機構（OECD）が設立された。

問3 下線部 b に関連して、Xさんは日本国憲法に規定されている人権について調べ、次のメモに日本国憲法の一部を抜粋して書き出しました。Xさんの作成したメモを読み、文章中の空欄（ C ）にあてはまる語句を答えなさい。

第13条 すべて国民は、個人として尊重される。生命、自由及び幸福追求に対する国民の権利については、（ C ）に反しない限り、立法その他の国政の上で、最大の尊重を必要とする。

問4 下線部 c に関連して、Xさんはこども家庭庁についてさらに詳しく知りたいと思い、先生に質問をしました。以下は、Xさんと先生の会話です。会話文中の（ D ）～（ F ）にあてはまる語句の組合せとして適当なものを、あとのア～クより1つ選び、記号で答えなさい。

Xさん こども家庭庁について詳しく教えてください。どんな仕事をするんですか？

先生 これまで（ D ）や内閣府にあった子ども関連部局が統合されて新たに作られるんだよ。児童虐待の防止策や、子どもの貧困対策、（ E ）の支援なども担当するよ。

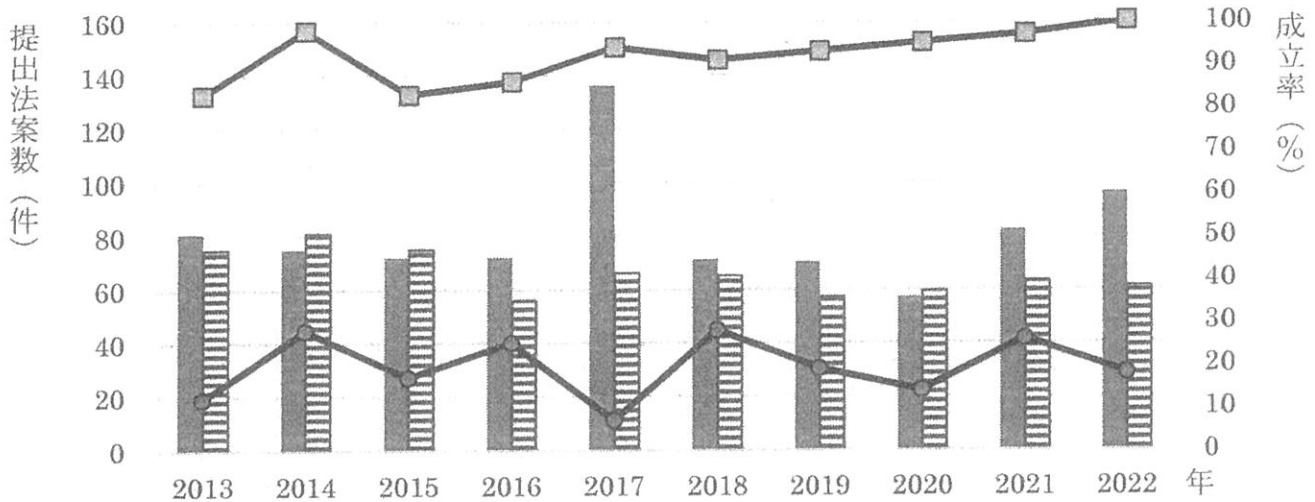
Xさん なるほど。日本の社会保障の4本柱の一つである（ F ）では、高齢者や障がい者だけでなく、児童を保護したり援助したりするしくみがあるから、それを実現する政策といえますね。

先生 授業で習ったことをよく覚えているね。

- | | | | | | | |
|---|---|-------|---|---------|---|------|
| ア | D | 総務省 | E | ホームヘルパー | F | 社会福祉 |
| イ | D | 総務省 | E | ホームヘルパー | F | 公衆衛生 |
| ウ | D | 総務省 | E | ヤングケアラー | F | 社会福祉 |
| エ | D | 総務省 | E | ヤングケアラー | F | 公衆衛生 |
| オ | D | 厚生労働省 | E | ホームヘルパー | F | 社会福祉 |
| カ | D | 厚生労働省 | E | ホームヘルパー | F | 公衆衛生 |
| キ | D | 厚生労働省 | E | ヤングケアラー | F | 社会福祉 |
| ク | D | 厚生労働省 | E | ヤングケアラー | F | 公衆衛生 |

問5 下線部dに関連して、Xさんは法案の提出件数と成立率について調べ、次の図1にまとめました。図1から読み取ることのできる内容として適当なものを、あとのア～エより1つ選び、記号で答えなさい。

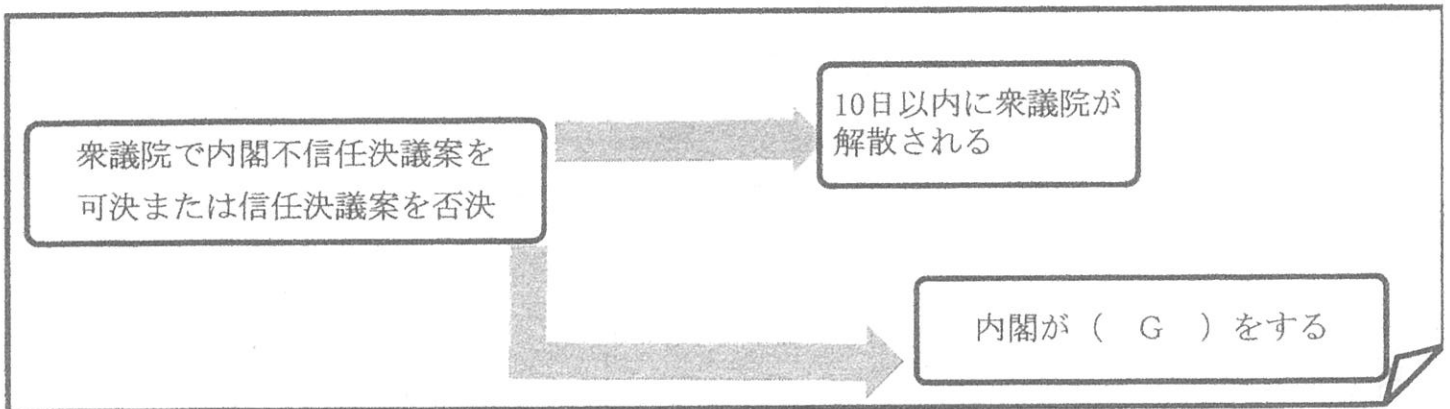
図1 法案の提出件数と成立率の推移



(注)通常国会のみのデータで作成している。 衆議院資料より作成。

- ア 内閣提出法案数が議員提出法案数よりも多い年はなく、議員提出法案数が内閣提出法案数の2倍以上になっている年もある。
- イ 議員提出法案数が内閣提出法案数よりも多い年はなく、すべての年において内閣提出法案成立率は議員提出法案成立率より高くなっている。
- ウ 議員提出法案成立数が内閣提出法案成立数よりも多い年はなく、議員提出法案成立数が50件を上回る年はない。
- エ 内閣提出法案成立数が議員提出法案成立数よりも多い年はなく、すべての年において内閣提出法案成立率は議員提出法案成立率より高くなっている。

問6 下線部eに関連して、次のメモは、Xさんが内閣不信任決議について授業で習ったときに、その内容をまとめたものです。メモ中の空欄 (G) にあてはまる語句を答えなさい。



※このページには問題はありません。


※このページには問題はありません。

無断転載複写禁止

学校使用欄
記入しない

1 問1 _____ 問2 _____ 問3 _____

問4 _____

問5 

I

II

問6 _____ 問7 _____ 問8 _____

2 問1 _____ 問2 _____ 問3 _____

問4 ア イ ウ _____

問5 _____

III

IV

問6 ① _____ ② _____ ③ _____

3 問1 a _____ b _____

問2 _____ 問3 _____ 問4 _____ 問5 _____ 問6 _____

V

VI

4 問1 (A) _____ (B) _____ 問2 _____

問3 _____ 問4 _____ 問5 _____ 問6 _____

VII

受 験 番 号

学校使用欄 [合計]
(受験生は記入しない)

Blank box for the student's exam number.

Blank box for the total score, to be filled by the school.