

2023年度

東邦大学付属東邦中学校

前期入学試験問題

社 会

(100点 45分)

注 意

1. 監督者の「始め」の合図があるまで、問題用紙を開いてはいけません。
2. 問題用紙は18ページあります。試験中にページの不足などに気づいた場合は、手をあげて監督者に知らせなさい。
3. 監督者の「始め」の合図のあと、最初に受験番号と氏名を解答用紙のそれぞれの欄に記入しなさい。
4. 答えはすべて解答用紙に書きなさい。
5. 問題用紙はどのページも切りはなしてはいけません。余白等は適当に利用しなさい。
6. 監督者の「やめ」の合図で筆記用具を置き、所持品はそのままにして、ただちに退室しなさい。
7. 問題用紙は持ち帰りなさい。

問題は次のページからはじまります。

1 学校で身近な地域の調査方法について学んだ邦平さんは、調べたことを地図やグラフで表現することが大切であると知りました。これに関する次の各問いに答えなさい。

問1 次の図1・図2は、いずれも邦平さんが作成した分布図であり、あとの二重線内の文章は、これらの図について述べたものである。文章中の□X・□Yには、あとのあ～うのいずれかの語句があてはまる。□X・□Yとあ～うの組み合わせとして正しいものを、あとのア～カから1つ選び、記号で答えなさい。

図1

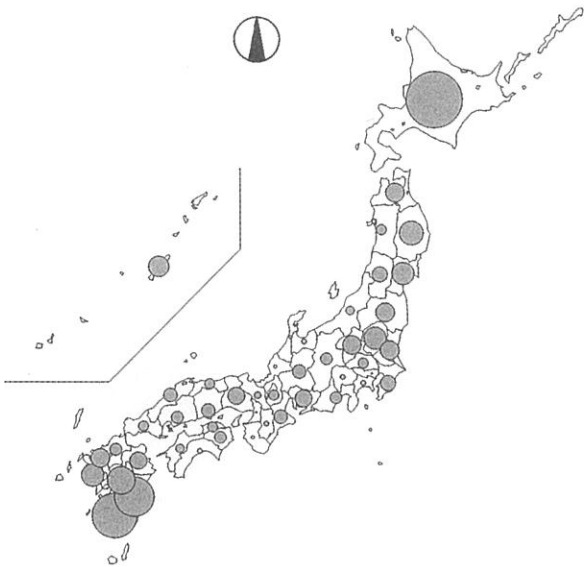
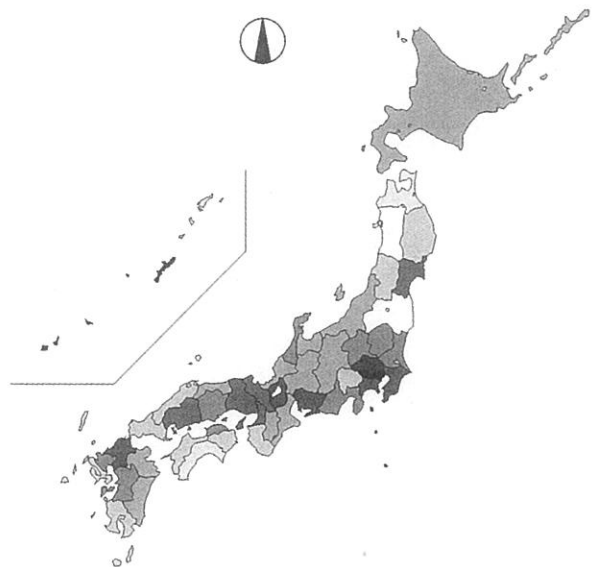


図2



都道府県別の□Xを表すのもっとも適しているのは、円の大きさが数値の大きさを示している図1の形態の分布図である。また、都道府県別の□Yを表すのもっとも適しているのは、都道府県ごとに色の濃さで数値の違いを表現している図2の形態の分布図である。

あ. 人口密度 い. 桜の開花日 う. 農産物収穫量しゅうかく

	ア	イ	ウ	エ	オ	カ
X	あ	あ	い	い	う	う
Y	い	う	あ	う	あ	い

問2 次の図は、邦平さんが手に入れた2万5000分の1地形図であり、これには扇状地が描かれている。これを見て、次の(1)・(2)の各問いに答えなさい。なお、地形図は上が北を示している。また、見やすくするために実際の地形図を拡大している。

著作権の関係上、非表示にしています。



(1) 扇状地の扇形の頂点をcとし、末端をaからbを結んだ弧とした場合、a、b、cで囲まれた実際の扇形のおよその面積を計算し、もっとも近い数値を次のア～カから1つ選び、記号で答えなさい。なお、a-c間、b-c間の直線距離を実際の地形図上で測るといずれも5cmであり、線分acと線分bcがなす角度は90度とする。

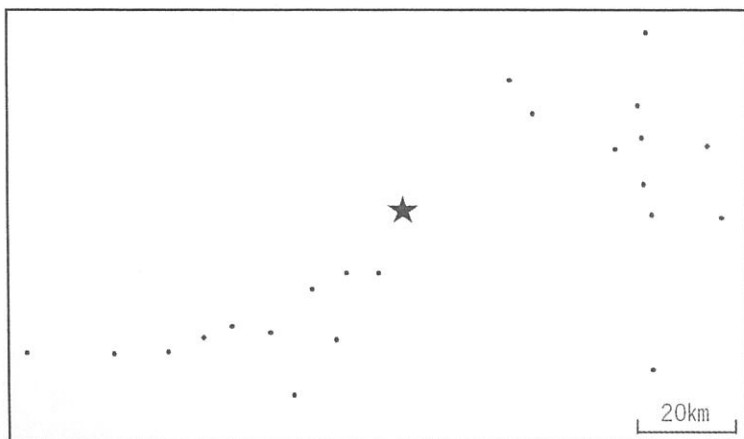
- ア. 0.4 km^2 イ. 1.2 km^2 ウ. 4.9 km^2
エ. 6.3 km^2 オ. 7.9 km^2 カ. 19.6 km^2

(2) 次の二重線内の文は、扇状地について述べたものである。文中の□X□にあてはまる語句を、4字で答えなさい。

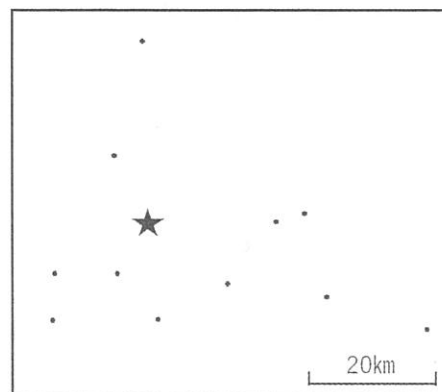
川が山地から平地に流れ出るところでは、川の流れが急に□X□になるため、土砂などが川の下方に堆積する扇状地ができやすい。

問3 次のあ～えの図は、邦平さんがある県の市役所の位置を白地図上に書き込み、県境や海岸線などの線をすべて消したものであり、あ～えは、群馬県、静岡県、宮城県、山口県のいずれかを示している。このうち、静岡県と山口県を示すものをそれぞれ選び、その組み合わせとして正しいものを、あとのア～シから1つ選び、記号で答えなさい。なお、県庁の位置は★で示しており、図の上は北を示している。


あ.



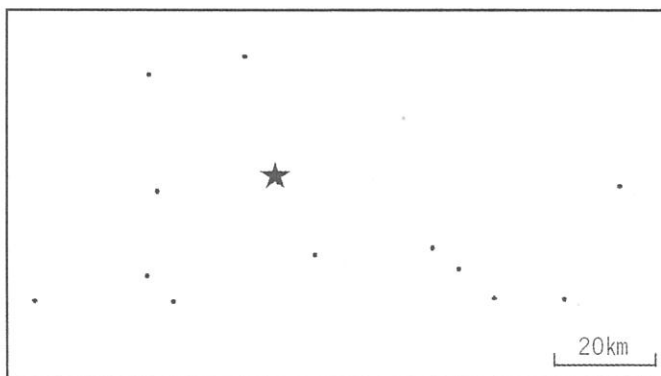
い.



う.



え.



「C r a f t M A P」により作成。

	ア	イ	ウ	エ	オ	カ	キ	ク	ケ	コ	サ	シ
静岡県	あ	あ	あ	い	い	い	う	う	う	え	え	え
山口県	い	う	え	あ	う	え	あ	い	え	あ	い	う

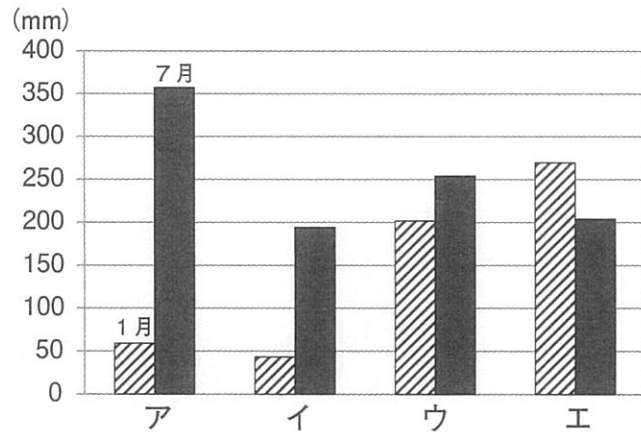
問4 様々な統計から作成された図表に関して、次の(1)・(2)の各問いに答えなさい。

(1) 次の表は、敦賀(福井県)とA～Cの3地点における1月と7月の月別平均気温を示し、右の図は、それらの地点の1月と7月の月別降水量を示している。また、表中のA～Cは高知(高知県)、諏訪(長野県)、八丈島(東京都)のいずれかがあてはまる。表中のCの地点の降水量として正しいものを、図中のア～エから1つ選び、記号で答えなさい。

表 気温

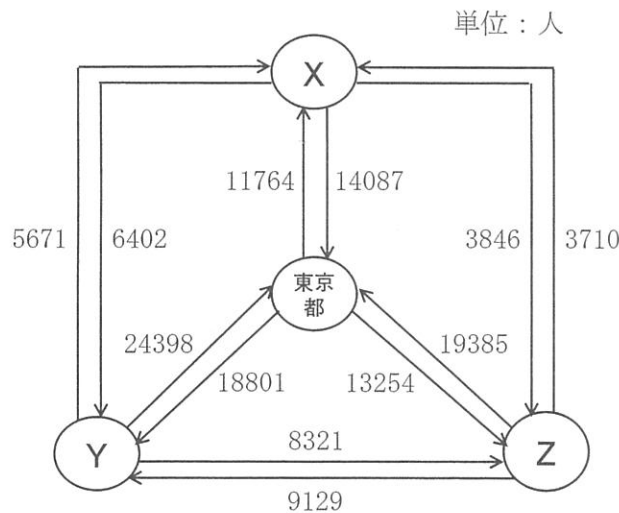
	1月(℃)	7月(℃)
敦賀	4.7	26.3
A	6.7	27.0
B	10.1	25.2
C	-1.1	23.2

図 降水量



「気象庁HP」により作成。

(2) 次の図は、東京都、愛知県、大阪府、福岡県の2021年の1年間の人口移動を示している。図中のX～Zにあてはまる都道府県の組み合わせとして正しいものを、あとのア～カから1つ選び、記号で答えなさい。



総務省統計局「住民基本台帳人口移動報告」により作成。

	ア	イ	ウ	エ	オ	カ
X	愛知県	愛知県	大阪府	大阪府	福岡県	福岡県
Y	大阪府	福岡県	愛知県	福岡県	愛知県	大阪府
Z	福岡県	大阪府	福岡県	愛知県	大阪府	愛知県

問5 夏休みに京都へ旅行に行くことになった邦平さんは、インターネットで京都の地図を探した。次の図1は、京都の「嵐山・嵯峨野」と呼ばれる地域の地図であり、図2は図1の枠で囲まれた部分を拡大したものである。これをみて、あとの(1)・(2)の各問いに答えなさい。なお、図は上が北を示している。

図1

著作権の関係上、非表示にしています。





図2

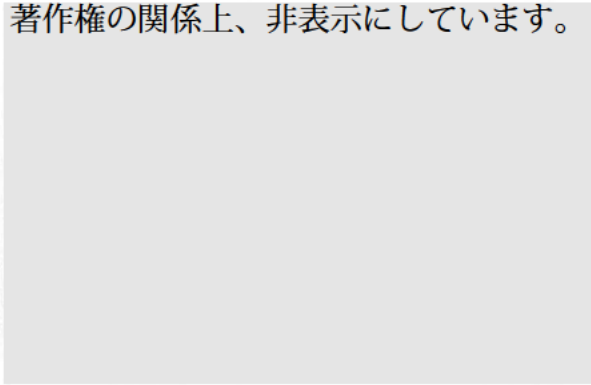
著作権の関係上、非表示にしています。



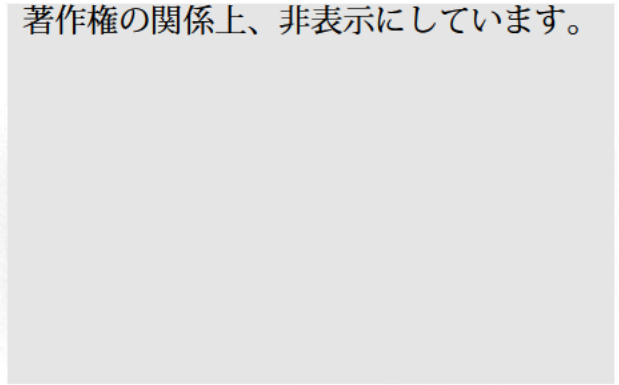
- (1) 図1・図2から読み取れることや考えられることを述べたものとして正しいものを、次のア～エから1つ選び、記号で答えなさい。
- ア. 多くの寺院や神社が規則的な距離をもって位置しており、これらは都が造られた平安時代以降に計画的に置かれたと考えられる。
 - イ. 図1の中央よりやや南を流れる大きな川の北側と南側には「嵐山駅」が2つあるが、この2つの駅の間は、鉄道が繋がっていない。
 - ウ. 図1の西側にある「トロッコ嵐山駅」と北側にある「大覚寺御所跡」の史跡の地図記号では、その標高の差は50m以上ある。
 - エ. 「大覚寺御所跡」へ鉄道を利用して訪れるとき、もっとも近い駅は阪急嵐山線の「嵐山駅」である。

(2) 次のあ～うは、図2中のA～Cのいずれかの地点で、邦平さんが矢印の方向に撮影したものである。A～Cとあ～うの組み合わせとして正しいものを、あとのア～カから1つ選び、記号で答えなさい。

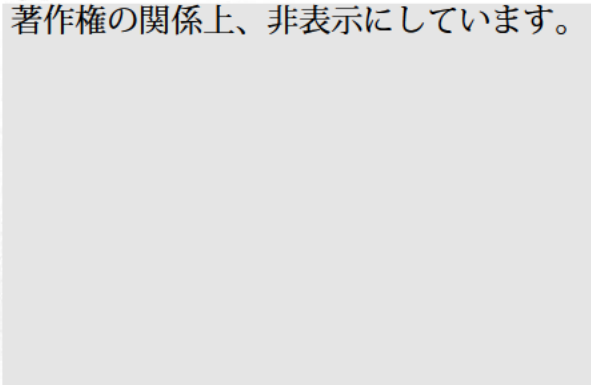
あ.
著作権の関係上、非表示にしています。



い.
著作権の関係上、非表示にしています。

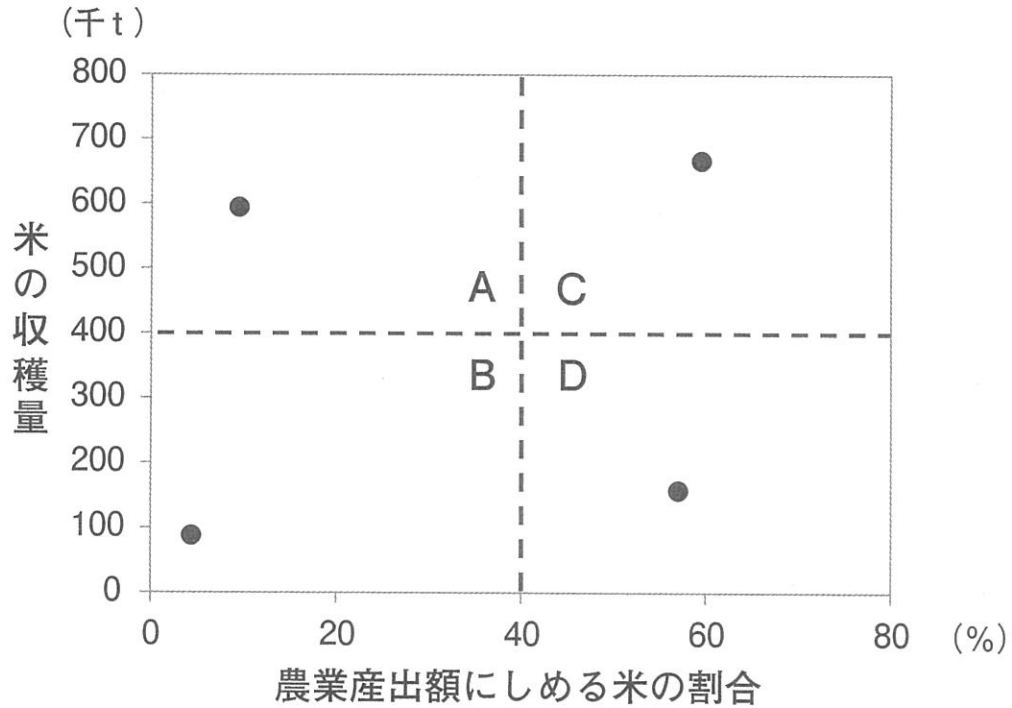


う.
著作権の関係上、非表示にしています。



	ア	イ	ウ	エ	オ	カ
A	あ	あ	い	い	う	う
B	い	う	あ	う	あ	い
C	う	い	う	あ	い	あ

問6 次の図は邦平さんが作成したもので、北海道、新潟県、滋賀県、鹿児島県の米の収穫量と農業産出額にしめる米の割合を●で示し、A～Dの4つのゾーンに分けたものである。この図に富山県と山梨県を書き入れた場合、それぞれが位置するゾーンの組み合わせとして正しいものを、あとのア～カから1つ選び、記号で答えなさい。



統計年次は2020年。「農林水産省HP」により作成。

	ア	イ	ウ	エ	オ	カ
富山県	A	B	D	A	B	D
山梨県	B	B	B	D	D	D

2 江戸時代に活躍した河村瑞賢について述べた次の文章を読んで、あとの各問いに答えなさい。

河村瑞賢は、1618年に①伊勢国に農家の子として生まれました。瑞賢は、13歳のときに②江戸に出て、はじめ力仕事についていましたが、20代になって商人に比重を移していったようです。1657年に明暦の大火と呼ばれる大火事が江戸を襲いました。この時、瑞賢は③信濃国の木曾の材木を買い付け、大きな利益を得たと伝えられています。ちょうどその年に生まれ、後に④学者として将軍に仕えた新井白石の著書の中には、瑞賢を日本一の金持ちとする記述があります。

瑞賢の最大の業績として知られるのは、東廻り航路・西廻り航路と呼ばれる本州沿岸の航路を整備したことです。

1670年、瑞賢は、陸奥国の内陸部（現在の福島県）にあった幕府領の年貢米を、江戸に運ぶように命じられました。それまでは、何度も積み替えるなどしたので、時間がかかる上、事故で年貢米が失われることも多いという問題点がありました。瑞賢は、短期間で安全かつ確実に輸送することを目的として、関係地の調査を行い、次のような提案をしました。（一）途中で積み替えをせずに、房総半島を周回して相模国の三崎や伊豆国の下田まで行き、そこで西風を待って東京湾に入り江戸に到着する。（二）房総半島周辺は航海の難所であるので、太平洋側の航海に慣れた伊勢・尾張・紀伊国の船と水夫を幕府が直接雇い、幕府御用の船と明示する。

（三）途中の寄港地を指定し、それぞれに役人を置き、航海の様子を報告させる。これらの提案は幕府に認められました。また、幕府領から積み出し港までは「あ」川を船で運びますが、その水路もくわしく調べて事故を防ぐようにつとめました。これらの手立てにより、翌1671年に行われた年貢米の輸送は、それまでよりはるかに早く、また安く済みました。東北地方の太平洋側の諸藩もこの方法にならうようになります。これを東廻り航路と呼びます。

この成功により、瑞賢は、出羽国の内陸部（現在の山形県）にあった幕府領の年貢米を、江戸に運ぶことを命じられます。この領地の米は、「い」川を下って積み出し港の酒田に送ります。それまでは⑤越前国の敦賀で陸揚げし、琵琶湖の北端から南端の⑥大津まで再び船に積み替え、さらに伊勢国の桑名まで陸路を運び、桑名から江戸まで三度船で運ぶため、日数がかかり、途中で失われる米も多くありました。瑞賢は、調査の結果、それまでと同様に、酒田から日本海を西に向かうことにしました。そして、敦賀で陸揚げせずに、⑦長門国の下関から瀬戸内海へ入り、摂津国の大坂（大阪）を経て、江戸まで船だけで運ぶことにしました。そのため、日本海、瀬戸内海、大坂・江戸間の航路のいずれも経験の豊富な讃岐・備前・摂津国の船と水夫を幕府が直接雇うことをはじめ、東廻り航路と同様の内容を幕府に求め、認められました。翌年に行われた年貢米の輸送は約2か月で完了し、それまでより1年以上早くなりました。これを⑧西廻り航路と呼びます。この功績に対し、幕府は3000両ものほうびを与えています。日本海側の諸藩もこの方法にならうようになり、多くの米や各地の産物が集まる大坂は天下の台所と呼ばれるようになります。

問1 文章中の「あ」・「い」にあてはまる語句の組み合わせとして正しいものを、次のア～カから1つ選び、記号で答えなさい。

	ア	イ	ウ	エ	オ	カ
あ	<small>あぶくま</small> 阿武隈	阿武隈	<small>きたかみ</small> 北上	北上	<small>もがみ</small> 最上	最上
い	北上	最上	阿武隈	最上	阿武隈	北上

問2 下線部①・③に関して、伊勢国と信濃国が現在属する都道府県の組み合わせとして正しいものを、次のア～カから1つ選び、記号で答えなさい。

	ア	イ	ウ	エ	オ	カ
伊勢国	愛知県	愛知県	三重県	三重県	和歌山県	和歌山県
信濃国	岐阜県	長野県	長野県	山梨県	山梨県	岐阜県

問3 下線部②に関して、当時、伊勢国から江戸へ向かう場合に、利用する可能性のもっとも高い街道を、次のア～エから1つ選び、記号で答えなさい。

ア. 奥州道中 イ. 甲州道中 ウ. 東海道 エ. 日光道中

問4 下線部④に関して、江戸時代に活躍した学者の活動を述べた、次の二重線内のa～dを年代の古い順に並べたものとして正しいものを、あとのア～クから1つ選び、記号で答えなさい。

- | |
|--|
| <p>a. 青木昆陽<small>こんよう</small>が、幕府からサツマイモ<small>さいまいも</small>の栽培を命じられ、『蕃薯考<small>ばんしょ あらわ</small>』を著した。</p> <p>b. 新井白石<small>しんせいしやく</small>が、密入国したキリスト教の宣教師を取り調べて、『西洋紀聞<small>せいようきぶん</small>』を著した。</p> <p>c. 伊能忠敬<small>いのうただたか</small>が、幕府から日本各地の測量を命じられ、いわゆる『伊能図』をつくった。</p> <p>d. 杉田玄白<small>すぎたげんぱく</small>や前野良沢<small>りょうたく</small>が、オランダ語の医学書<small>ほんやく</small>を翻訳して『解体新書』を著した。</p> |
|--|

- ア. a→b→c→d イ. a→b→d→c ウ. a→c→b→d
 エ. a→c→d→b オ. b→a→c→d カ. b→a→d→c
 キ. b→c→a→d ク. b→c→d→a

問5 下線部⑤に関して、戦国時代に越前国を支配していた大名として正しいものを、次のア～エから1つ選び、記号で答えなさい。

ア. 朝倉氏 イ. 今川氏 ウ. 上杉氏 エ. 武田氏

問6 下線部⑥に関して、大津が激戦地となった古代最大の内乱と呼ばれる戦いの結果、天皇となった人物の行ったことがらとして正しいものを、次のア～エから1つ選び、記号で答えなさい。

- ア. 全国に国分寺、都に東大寺を設け、国が安らかになるように経を読ませた。
- イ. 隋ずいに使いを送り、また天皇への忠誠をうながす制度を定めた。
- ウ. 記録に残る初めての戸籍こせきである庚午年籍こうごねんじやくの作成を命じた。
- エ. 中国の都をまねて、藤原京ふじわらきやうをつくることを命じた。

問7 下線部⑦に関して、下関で結ばれた条約の内容として正しいものを、次のア～エから1つ選び、記号で答えなさい。

- ア. 今後、日本しんこくと清国は友好を深め、両国の領土を互いに尊重し、永久に安全を保障しあう。
- イ. 清は朝鮮が完全な独立自主の国であることを確認する。
- ウ. 朝鮮は独立国であり、日本国と平等の権利を持っている。
- エ. 日本の天皇とロシアの皇帝、その両国民との間は将来にわたって平和で友好であること。

問8 下線部⑧に関して、西廻り航路に面した都道府県にあるものとして誤っているものを、次のア～エから1つ選び、記号で答えなさい。

- ア. 巖島神社いつくしま イ. 石見銀山いわみ ウ. 姫路城ひめじじやう エ. 吉野ヶ里遺跡よしのがりいせき

このページには問題はありません。

3 次の文章は、1994年に開かれた第131回国会の参議院内閣委員会での^{かやのしげる}萱野茂参議院議員(当時)の質問の一部です。萱野さんは質問をアイヌ語と日本語で行いました。これを読んで、あとの各問いに答えなさい。

エエパキタ カニアナツネ アイヌモシリ、①シシリムカ ②ニプタニコタン コアパマカ
萱野茂、クネルウェネ ウッチケクニプ ラカサツペ クネブネクス テエタクルネノ、ア
イヌイタツ クイエエニタンペ ソモネコロカ、タナントアナツネ シサムモシルン ニシ
パウタラ カツケマクタラ アンウシケタ アイヌイタツ エネアンペネヒ エネアイエ
ネヒ チコイコカヌ クキルスイクス アイヌイタツ イタツピリカプ ケウドカンケワ、
クイエ ハウエネ ポンノネクス チコイコカヌワ ウンコレヤン。(後略)

私は、アイヌの国、北海道^{さるがわ}沙流川のほとり、^{ニプタニ}二風谷に生をうけた萱野茂というアイヌです。
意気^い地^{くじ}のない者、至らない者、私なので、昔のアイヌのようにアイヌの言葉を上手には言えな
いけれども、きょうのこの日は、③日本の国の国会議員の諸先生方がおられるところに、アイ
ヌ語というものはどのようなものか、どのような言い方をするものかお聞き願いたいと私は考
え、アイヌ語を私はここで言わせていただいたのであります。少しですので、私のアイヌ語に
お耳^{かたむ}を傾けてくださいますようお願い申し上げる次第です。

ずっと昔、アイヌ民族の静かな大地、北海道にアイヌ民族だけが暮らしていた時代、アイヌ
の昔話と全く同じに、あであってもいであってもたくさんいたので、何を食べてい
ても何を^ほ欲しいとも思うことなく、アイヌ民族だけで暮らしておったのだが、そのところへ④和
人という^{ちが}違う民族が雪なだれのように移住してきたのであります。大勢の日本人が来てからと
いうもの、あをとるな、いもとるな、うも切るなと一方的に⑤法律なるものを^お押
しつけられ、それからというもの、食べ物もなく薪もなく、アイヌ民族たちは飢え死にする者
は飢え死にをして次から次と死んでいったのであります。

生きていたアイヌたちもアイヌ語を使うことを日本人によって禁じられ、アイヌ語で話をす
ることができなくなってしまいそうになった。言っているもの、使っているもの、⑥アイヌ語
であったけれども、今現在は、かすみのように、にじのように消えうせるかと私は思っていた
が、今現在の若いアイヌが自分の先祖を、自分の文化を見直す機運が盛り上がってきて、アイ
ヌ語やアイヌの風習、それらのことを^{さが}捜し求めて、次から次ではあるけれども、覚えようと努
力しているのであります。

そこで、私が先生方をお願いしたいということは、北海道にいるアイヌたち、それと^{いっしょ}一緒に、
各地にいるアイヌたちがどのようにしたらアイヌ民族らしくアイヌ語で会話を^か交わし、静かに
豊かに暮らしていけるかを先生方に考えてほしいと私は思い、ごく簡単にであったけれども、
アイヌ語という違う言葉がどのようなものかをお聞きいただけたことに、アイヌ民族の一人と
して心から感謝するものであります。ありがとうございました。

次に、^{えぞち}蝦夷地に対する歴史認識についてということで御質問申し上げたいと存じます。

アイヌ語を含め申し上げたことは、私の家系が体験したアイヌの歴史、アイヌの気持ちのほ
んの一部であります。北海道のアイヌは、今このような⑦歴史を^ふ踏まえて新たな共生関係をつ

くるために、旧土人保護法にかわってアイヌのための新しい法律の制定を求めています。

「第131回国会 参議院内閣委員会 会議録第7号 平成6年11月24日」より（一部改）。

問1 次の写真は、文章中の ～ にあてはまるいずれかの原材料が使用されている製品である。写真を参考にして、それぞれの原材料の組み合わせとして正しいものを、あとのア～カから1つ選び、記号で答えなさい。

著作権の関係上、非表示にしています。

著作権の関係上、非表示にしています。

を加工した製品

を加工した製品

著作権の関係上、非表示にしています。

を加工した製品

	ア	イ	ウ	エ	オ	カ
あ	シカ	シカ	木	木	シヤケ	シヤケ
い	木	シヤケ	シカ	シヤケ	シカ	木
う	シヤケ	木	シヤケ	シカ	木	シカ

問2 下線部①に関して、シシリムカは沙流川の旧名で、アイヌ語では「砂が流れてつまらせ」という意味である。河口付近は鳥類にとって重要な生息場となっており、「生物多様性の観点から重要度の高い海域」に指定された。この指定を行った省庁として正しいものを、次のア～エから1つ選び、記号で答えなさい。

- ア. 国土交通省 イ. 文部科学省 ウ. 農林水産省 エ. 環境省

問3 下線部②に関して、ニプタニ（二風谷）は北海道の^{びらとり}平取町にある。都道府県、市町村などの地方公共団体に関する説明として誤っているものを、次のア～エから1つ選び、記号で答えなさい。

- ア. 地方公共団体は、その財産を管理し、事務を処理し、行政を^{しっこう}執行する。
イ. 地方公共団体は、法律の^{はんい}範囲内で条例を制定することができる。
ウ. 国は都道府県を、都道府県は市町村をそれぞれ^{かんとく}監督し、地方公共団体ごとのちがいをなくし、行政の同一性を確保しなくてはならない。
エ. ひとつの地方公共団体にのみ適用される法律は、その地方公共団体の住民投票で過半数の同意を得なければ、国会はこれを制定できない。

問4 下線部③に関して、国会議員について述べたものとして誤っているものを、次のア～エから1つ選び、記号で答えなさい。

- ア. 両議院は、全国民を代表する選挙された議員で組織される。
イ. 何人も、同時に両議院の議員となることはできない。
ウ. 両議院の議員は、法律の定める場合を除いて、議員の任期中は^{たいほ}逮捕されない。
エ. 両議院の議員は、議院で行った演説、^{また}討論又は表決について、院外で責任を問われない。

問5 下線部④に関して、ここで^{してき}指摘される和人の移住についての説明として正しいものを、次のア～エから1つ選び、記号で答えなさい。

- ア. 平安時代に、^{さかのうえのたむらまろ}坂上田村麻呂が^{せいゐたいしょうぐん}征夷大將軍をつとめ、北海道を朝廷の支配下においた。
イ. 江戸の初めに松前藩がおかれ、和人が北海道全域に居住し、アイヌを追放した。
ウ. 明治に入り、開拓使がおかれ、多くの開拓者が北海道に^{わた}渡り、開拓を進めた。
エ. 第二次世界大戦後、引揚者を^{とんでんへい}屯田兵として北海道に送り、アイヌの土地を強制的にとりあげた。

問6 下線部⑤に関して、国会で制定された法律と憲法の関係について述べたものとして正しいものを、次のア～エから1つ選び、記号で答えなさい。

- ア. 法律が憲法に適合するかしないかを決定する権限は、最高裁判所のみが有し、下級裁判所が違憲審査権^{いけんしんさけん}を行使することはない。
- イ. 最高裁判所は、法律が憲法に適合するかしないかを決定する権限を有する終審裁判所であるため、「憲法の番人」と呼ばれている。
- ウ. 新しい法律が制定される場合、国民投票によりその法律が正しいかどうかを判断するので、裁判所に違憲判断を求めることはできない。
- エ. 新しい法律が制定された場合、内閣又は衆議院の総議員の3分の1以上の提訴^{ていそ}により、最高裁判所が違憲審査権を行使する。

問7 下線部⑥に関して、2009年にアイヌ語は「消滅の危機にある言語」の中で「極めて深刻」であると国際機関に認定された。この国際機関として正しいものを、次のア～エから1つ選び、記号で答えなさい。

- ア. UNESCO イ. UNHCR ウ. UNHRC エ. UNICEF

問8 下線部⑦に関して、この目的のために、北海道の白老町^{しらおい}に2020年7月にウポポイ（「国立アイヌ民族博物館」「国立民族共生公園」「慰霊施設^{いれいしせつ}」により構成される）が開業した。中学生となったあなたは、夏休みに友人とウポポイを訪問するために、最寄りの白老駅で待ち合わせる計画を立てた。友人は午前6時38分上野発の東北・北海道新幹線を利用して、あなたは成田空港から飛行機を利用して、白老駅に向かうこととした。

次ページの【北海道路線図】と各交通機関の【時刻表】を用いて、友人より遅く着くが、待ち時間をできるだけ短くするためのもっとも遅い成田空港出発便を、次のア～キから1つ選び、記号で答えなさい。なお、乗り換え^かには、列車どうしの場合には10分、列車と飛行機の場合には60分を要することとする。

- ア. スプリング・ジャパン 831便
- イ. ピーチアビエーション 563便
- ウ. ピーチアビエーション 565便
- エ. ジェットスター・ジャパン 105便
- オ. ピーチアビエーション 567便
- カ. 全日本空輸 2153便
- キ. ジェットスター・ジャパン 109便

著作権の関係上、非表示にしています。

著作権の関係上、非表示にしています。

「JR時刻表2022年7月号」により作成。

1

問 1

問 2 (1)

問 2 (2)

<input type="text"/>	<input type="text"/>	<input type="text"/>	<input type="text"/>
----------------------	----------------------	----------------------	----------------------

問 3

問 4 (1)

問 4 (2)

問 5 (1)

問 5 (2)

問 6

2

問 1

問 2

問 3

問 4

問 5

問 6

問 7

問 8

3

問 1

問 2

問 3

問 4

問 5

問 6

問 7

問 8

受験番号	<input type="text"/>	<input type="text"/>	<input type="text"/>	氏名	<input type="text"/>
	<input type="text"/>	<input type="text"/>	<input type="text"/>		<input type="text"/>

得点	<input type="text"/>
----	----------------------