

第1回入学試験問題

社 会

次のページを開き、試験開始の合図があるまでに、
〈解答上の注意〉を必ず読んでください。
なお、解答用紙は最終ページにはさみこんであります。

< 解答上の注意 >

- 1、問題冊子は1ページから17ページまであります。試験開始の合図後、ただちにページ数を確認してください。
- 2、問題冊子は試験終了後に回収します。
- 3、試験終了の合図で鉛筆を置き、指示に従って問題冊子と解答用紙を提出してください。
- 4、解答用紙は最終ページにはさみこんであります。

試験開始の合図があるまで次のページを開かないでください。

1 次の文章を読み、以下の問に答えなさい。

今年も新たな年が始まりました。しかし、「新年」の考え方は1つではありません。現在のように1月1日を新年の始まりとするのは、太陽暦にもとづく考え方です。

他の考え方も見てみましょう。(1)古代の中国でつくられた二十四節気では、1年の始まりは立春とよばれ、現在の2月4日ごろとされています。二十四節気とは、生活に生かすためにつくられた季節の区分です。(2)気温や日照時間の変化は、植物の成長に大きくかかわります。人々は、季節を区分することによってそれらを把握し、農業を発展させていきました。

かつての日本では、中国から伝わってきた太陰太陽暦(旧暦)が使われていました。これは、月の満ち欠けを基準にしつつ、実際の季節とのずれを二十四節気で調整した暦です。日本に暦が伝わってきたのは、7世紀ごろとされています。その後、平安時代には年中行事や吉凶とともに文字で記され、貴族たちの日常で利用されるようになり、(3)鎌倉時代には、簡単な文字で書かれたカレンダーのようなものが、庶民の間にも広まりました。

太陰太陽暦を用いた暦は、中国とのずれを調整するためにたびたび変更されましたが、(4)江戸時代末期に作られた天保暦を最後に廃止され、明治政府により、現在と同じ太陽暦が導入されました。また、祝祭日に関する法令も定められました。この頃の祝祭日は、神を敬い祀るものや皇室の祭事に合わせたもの、神武天皇即位の日や明治天皇の誕生日など、天皇中心の政治を反映したものが多かったことが特徴です。なお、現在の国民の祝日は、1948年に制定された祝日法に基づいて決められています。何度か改正が行われ、近年追加された(5)「山の日」を含め、全部で16の祝日がありますが、もともと収穫を感謝する新嘗祭から転じた(6)勤労感謝の日など、古くからの行事や祝祭日に由来するものも残っています。

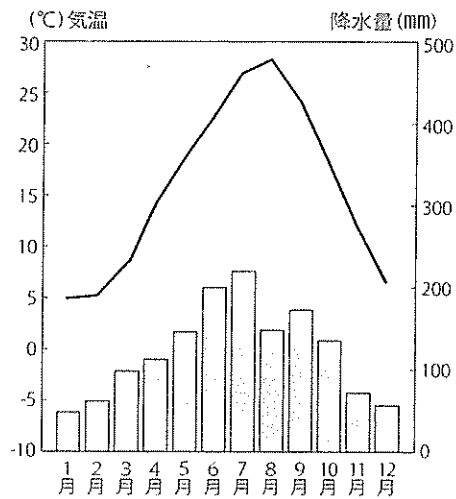
このように、わたしたちは1年間という期間を、暦や祝祭日といった特定の日で意識しながら過ごしています。さらには、記念日などにも目を向けると、季節を感じる以外にも、様々なことが見えてきます。例えば、(7)独立記念日などからは、その国の歴史を感じられますし、国際連合が定めている国際デーを見ると、世界の課題に気づくことができます。皆さんも、今日は何の日だろうかと興味を持つことで、その背景にある人々の生活や各国の歴史、国際情勢や流行に触れてみてください。

著作権の関係上、非表示にしています。

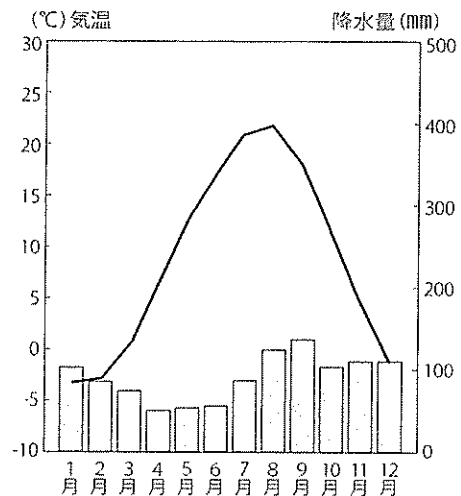
問1 波線部(1)について、古代の中国で登場した思想家の1人である孔子を祖とし、のちに日本にも伝わって、江戸時代には幕府の政治などに大きな影響を与えた思想は何ですか。適当なものを1つ選び、ア～エの記号で答えなさい。

- ア 仏教 イ 儒教 ウ 神道 エ 修験道

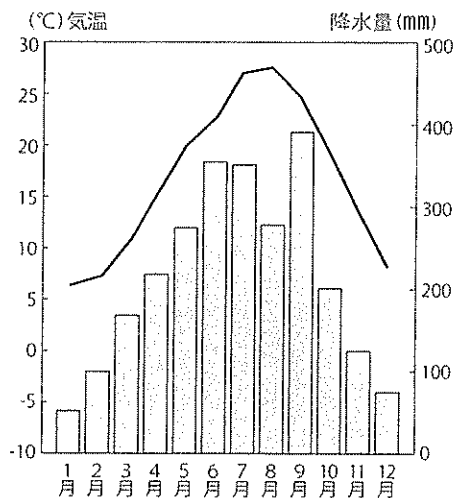
問2 波線部(2)について、日本で最も米の総生産量が多い都道府県は、2012年度以降毎年同じです。その都道府県の県庁所在地の雨温図はどれですか。適当なものを1つ選び、ア～エの記号で答えなさい。



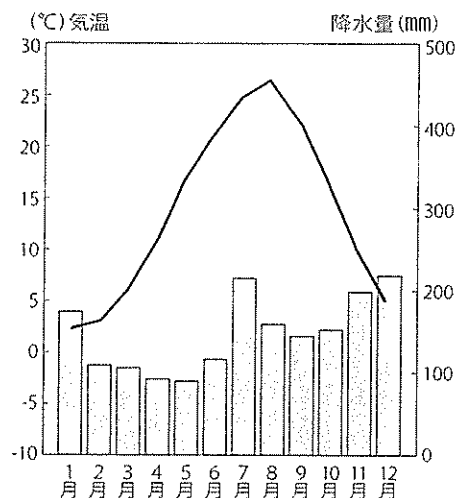
ア



イ



ウ



エ

(気象庁HP過去の気象データ(1991～2020の平均値)より作成)

問3 波線部(3)について、次の文章は鎌倉時代に始まり、室町時代には全国的に普及した、ある農法に関する記述です。どのような農法ですか。適当なものを1つ選び、ア～エの記号で答えなさい。

諸国の百姓たちは、田稲を刈取ったのち、その跡に麦を蒔いて田麦と呼んだ。領主たちは、この麦の税を徴収するという。租税の法として適当であろうか。いや、適当ではない。今後、田麦の税は徴収してはならない。

ア 二期作

イ 混合農業

ウ 二毛作

エ 促成栽培

問4 波線部(4)について、次の資料を参考に、天保の改革を風刺した狂歌[※]として適当なものを1つ選び、ア～エの記号で答えなさい。

※狂歌：社会風刺や皮肉、こっけいを盛り込んだ和歌

資料 江戸時代の主な幕政改革の概要

中心人物	経歴	内容・特徴
徳川吉宗	紀伊藩主として藩政改革を行ったのち、8代将軍となる。	上げ米や足高の制による財政政策、公事方御定書の制定、目安箱の設置などを行う。
田沼意次	9代将軍家重の小姓、10代将軍家治の側用人を経て、老中となる。	株仲間の積極的な公認、長崎貿易の活性化などを行う。浅間山の噴火、天明のききんの対応に追われた。
松平定信	8代将軍吉宗の孫で白河藩主。11代将軍家斉の代に老中首座となる。	旧里帰農令による農村復興、寛政異学の禁による思想統制などを行う。当時の天皇や将軍家斉と対立した。
水野忠邦	唐津藩主、浜松藩主を歴任したのち、12代将軍家慶の代に老中首座となる。	株仲間の解散や上知令による経済政策などを行う。

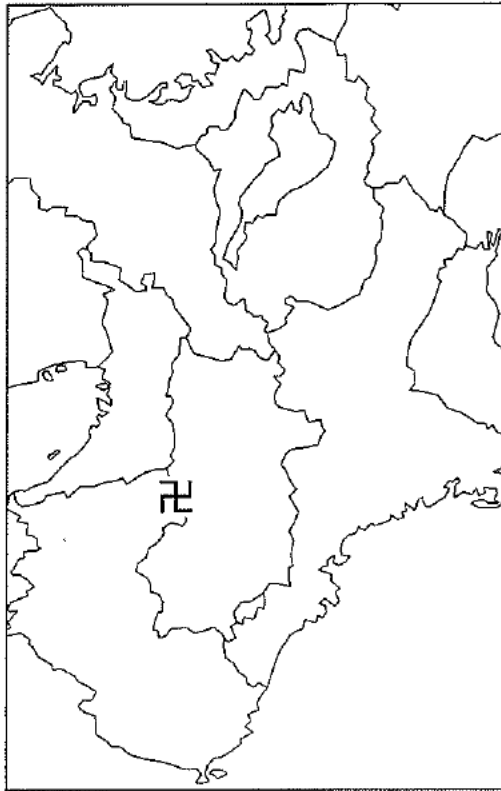
ア 上げ米といえ上米は気に入らず 金納ならばしじゅうくろうぞ

イ 白河の清きに魚の住みかねて もとの田沼の水ぞ恋しき

ウ 浅間しや富士より高き米相場 火のふる江戸に砂のふるとは

エ 白河の岸打つ波に引き換えて 浜松風の音の激しさ

問5 波線部(5)について、次の図は平安時代以降、山岳信仰の対象となった寺院の所在地と、開山した人物の肖像画です。この寺院の山号にもなっている山の名前は何ですか。解答欄に合わせて、答えなさい。



著作権の関係上、非表示にしています。

問6 波線部(6)について、日本の労働について述べた文として適当でないものを1つ選び、ア～エの記号で答えなさい。

- ア 19世紀末、産業革命により工場労働者が増加し、劣悪な労働環境などからストライキが起こりました。
- イ 20世紀前半、企業や官公庁で事務員の需要が高まり、職業婦人とよばれる女性労働者が増加しました。
- ウ 20世紀半ば、労働者の保護を目標に、労働組合法、労働関係調整法、労働基準法のいわゆる労働三法が定められました。
- エ 21世紀、働き方改革関連法により、終業時間と始業時間の間に休息を設けるフレックス制の導入が努力義務化されました。

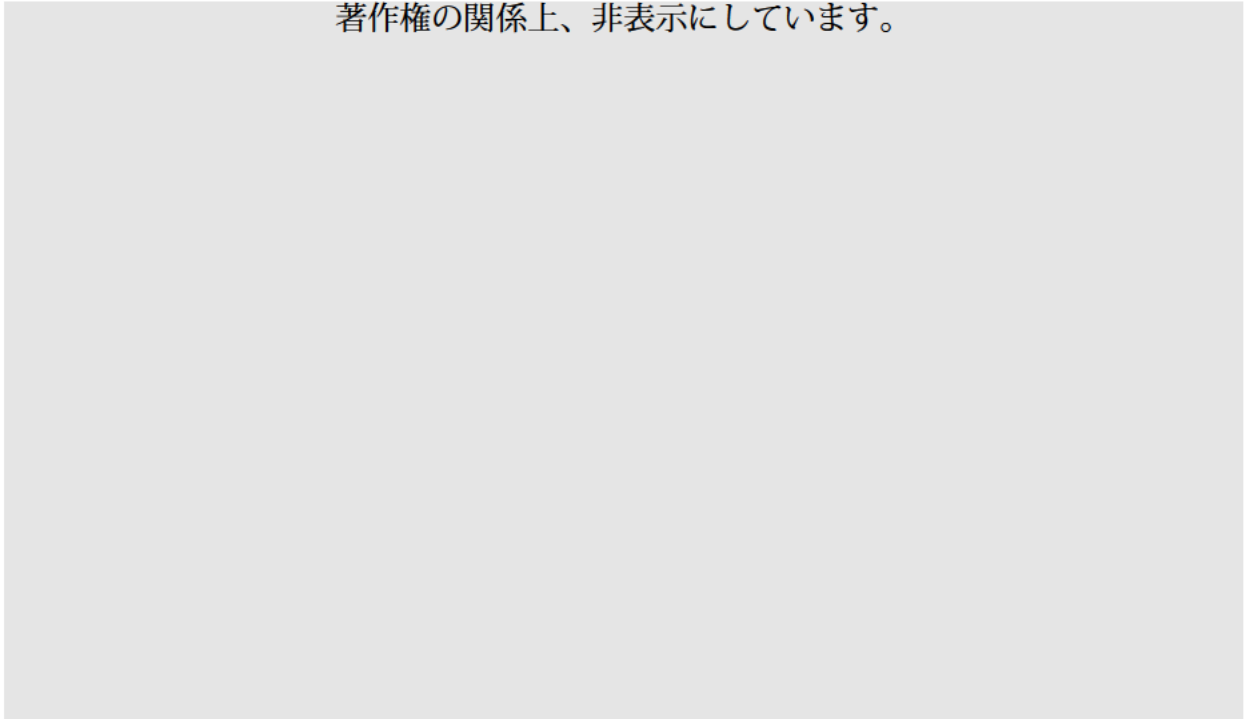
問7 波線部(7)について、

- ① 戦後、日本は連合国の占領下におかれますが、1952年、サンフランシスコ平和条約の発効により、独立国として主権を回復しました。この条約に調印した、写真に写る当時の内閣総理大臣はだれですか。答えなさい。

著作権の関係上、非表示にしています。

- ② 日本は主権回復後、高度経済成長の時代を迎え、とりわけ1960年代の後半からは、カラーテレビが急速に普及しました。その理由は何ですか。次の資料1、2 およびグラフの空欄にあてはまる語句をすべて使い、説明しなさい。

資料1 東芝テレビの広告
著作権の関係上、非表示にしています。



資料2 国民□□倍増計画の目的

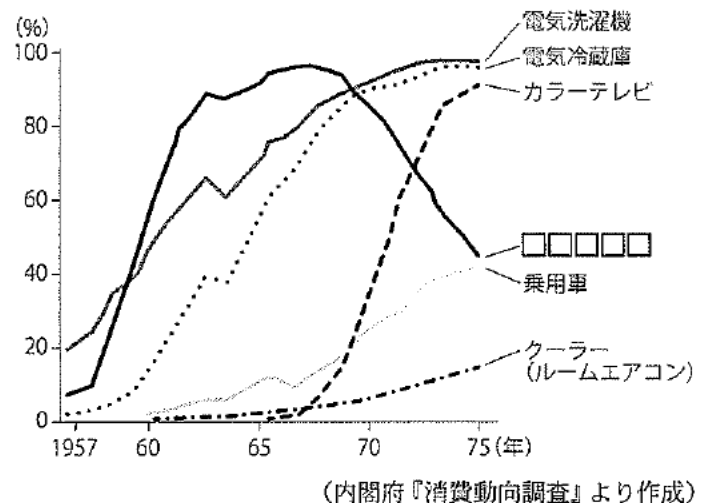
国民□□倍増計画は、速やかに国民総生産を倍増して(中略)国民の生活水準を大幅に引き上げることを目的とする(後略)

(1960年12月の閣議決定より)

著作権の関係上、非表示にしています。

池田勇人首相

グラフ 家電製品等の普及



2 次の文章を読み、以下の問に答えなさい。

港と聞くとどのようなイメージをもつでしょうか。広大な海を前に、船が行き交い、人々が集まる様子が思い浮かびます。島国である日本には、各地に港町がつくられ発展してきました。港のもつ役割を考えてみましょう。

港は、ものや人が多く集まる交流の場です。古くから、貿易を通じて外国の品物がもたらされ、それらを商人たちがやり取りすることで、町はにぎわい、経済的に発展してきました。日本には、(1) 港町から発展した人口の多い都市が各地に見られます。また、港は産業が栄える場でもあります。原材料を輸入し、完成した工業製品を輸出する役割をもつことから、(2) 工場などが近くに建てられる場合も多いです。

日本の九州地方、特に(3) 福岡県には、(4) 博多や小倉、門司など、港町から発展した地域が多くあります。博多を含む福岡市に注目してみましょう。現在の福岡市にあたる地域は、大陸との距離が近いことから、(5) 古くから日本と外国とをつなぐ交通の要地であり、政治・経済・文化の様々な面で外国と密接な結びつきがありました。例えば、志賀島では「漢委奴国王」と刻まれた金印が発見され、日本の奴国王が中国の皇帝から王と認められたことがわかります。平安時代の終わりには、博多はアジア貿易の拠点にもなりました。江戸時代になると、「鎖国」体制のもと貿易港としての役割は失われましたが、博多での商業の発展は進みました。明治時代になり博多港が開港され、第二次世界大戦後には重要港湾に指定されて発展し、博多港の貿易額は日本国内の港の中でも上位となっています。

時代が進むと、(6) 船以外にも様々な輸送用機械が開発され交通手段が増えました。2011年には九州新幹線が全線開通し、福岡市は九州全体の拠点としての性格をますます強めています。また、(7) 海の港に加えて空の港も発展していきました。福岡空港は、2021年度の乗降客数が日本で第2位となっており、多くの人々が福岡を經由して移動していることがわかります。

近年は、新型コロナウイルスの影響で、全国的に港の貨物取扱量や乗降客数が大幅に減少しました。社会の変化とともに、港のもつ役割が変わるかもしれません。

著作権の関係上、非表示にしています。

問1 波線部(1)について、次の政令指定都市のうち、港町から発展した都市として
適当なものを1つ選び、ア～エの記号で答えなさい。

ア 堺市 イ 京都市 ウ 相模原市 エ 札幌市

問2 波線部(2)について、日本における工業と工場の立地条件の例として適当でない
ものを1つ選び、ア～エの記号で答えなさい。

ア 石油化学工業は、海外からの輸入をしやすくするため、臨海部に多く工場が
建てられます。

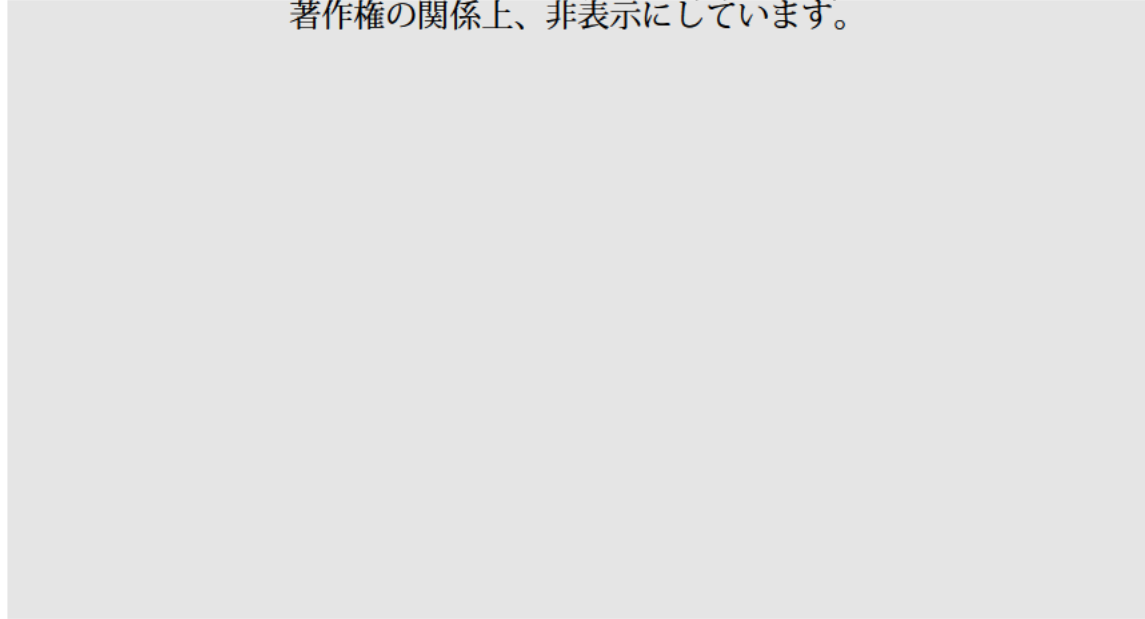
イ 出版・印刷業は、大量の紙を必要とするため、木材と水を得やすい地域に
多く工場が建てられます。

ウ 清涼飲料水製造業は、輸送費をおさえるため、消費地の近くに多く工場が
建てられます。

エ セメント工業は、原料の石灰岩を必要とするため、石灰岩の産出地に多く
工場が建てられます。

問3 波線部(3)について、次のグラフは、九州地方にある4つの県における都道府県別の農産物生産額割合を表したものです。A～Dの都道府県名の組み合わせとして適当なものを1つ選び、ア～カの記号で答えなさい。

都道府県別の農業産出額割合(2020年)
著作権の関係上、非表示にしています。



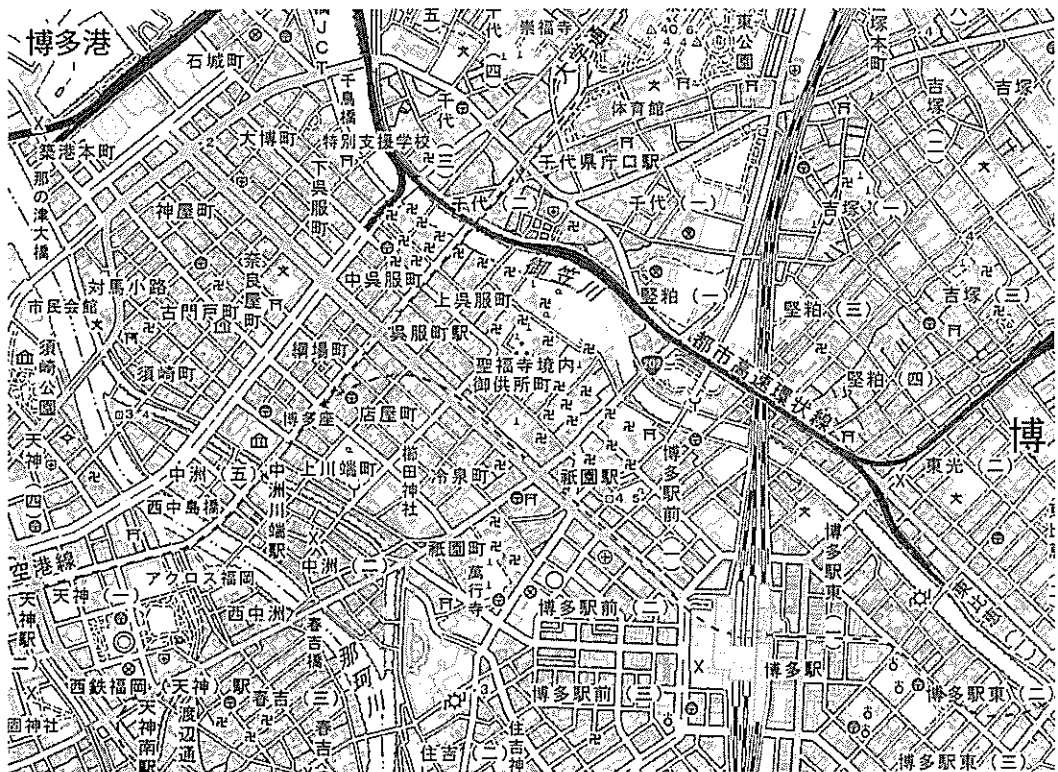
- | | | | | |
|---|----------|----------|----------|---------|
| ア | A - 宮崎県 | B - 鹿児島県 | C - 福岡県 | D - 熊本県 |
| イ | A - 宮崎県 | B - 鹿児島県 | C - 熊本県 | D - 福岡県 |
| ウ | A - 宮崎県 | B - 熊本県 | C - 鹿児島県 | D - 福岡県 |
| エ | A - 鹿児島県 | B - 熊本県 | C - 福岡県 | D - 宮崎県 |
| オ | A - 鹿児島県 | B - 宮崎県 | C - 熊本県 | D - 福岡県 |
| カ | A - 鹿児島県 | B - 宮崎県 | C - 福岡県 | D - 熊本県 |

問4 波線部(4)について、次の図1・2は、1952年と2018年の博多駅周辺の同じ場所を示したものです。この2つの地形図を比較して読み取れることとして適当でないものを1つ選び、ア～エの記号で答えなさい。

図1 1952年



図2 2018年



(国土地理院発行 2万5千分の1地形図「福岡」原寸より作成)

- ア 図1で水田が広がっていた地域は、図2では市街地となっています。
- イ 博多駅と線路の位置が変化しており、図1よりも図2では駅の位置が南東側に移動しています。
- ウ 図2の御笠川の右岸には、図1と比べて多くの寺院が見られます。
- エ 図1上でも図2上でも、西中島橋から御笠川までは4.5cmですので、実際の距離は約1125mです。

問5 波線部(5)について、

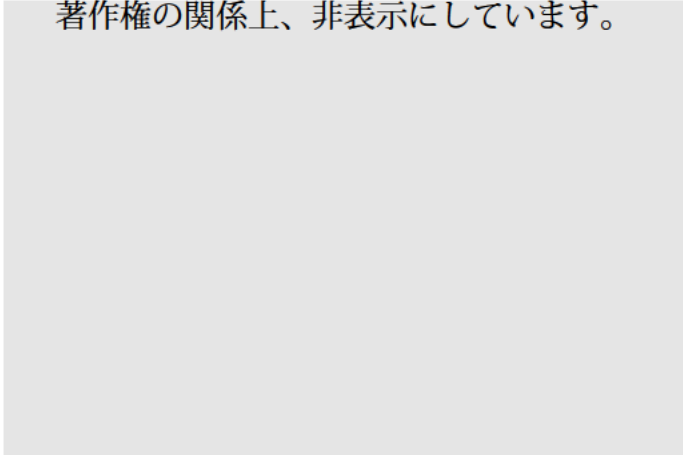
- ① 7世紀後半から九州地方におかれていた、大陸との外交や防衛を担当した機関を何といいますか。漢字3文字で答えなさい。
- ② 大陸から伝わった焼き物の技術が日本各地に広まりました。九州地方で生産される焼き物を何焼といいますか。1つ答えなさい。

問6 波線部(6)について、次の資料は、2008年以降における船舶(船)、自動車、自転車、オートバイの生産上位国を表しています。船舶にあてはまるものはどれですか。適当なものを1つ選び、ア～エの記号で答えなさい。

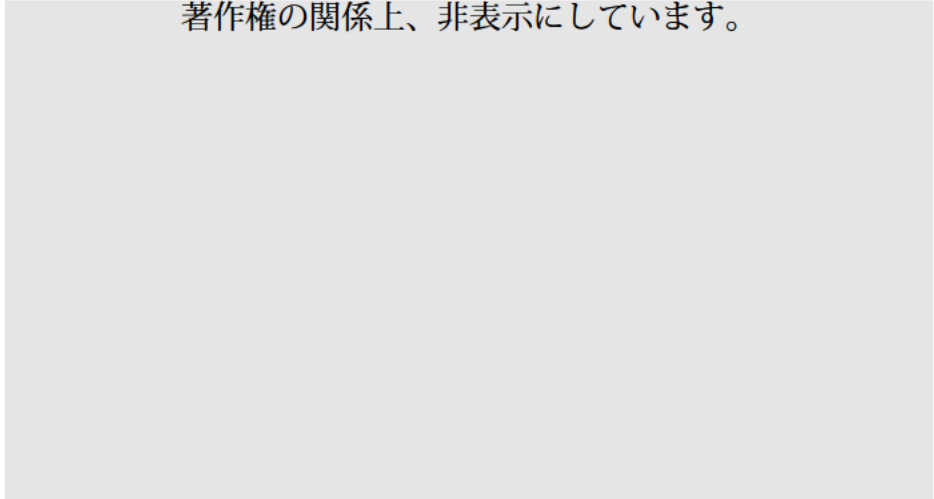
著作権の関係上、非表示にしています。

問7 波線部(7)について、次の資料1・2は、2020年における日本の航空貨物と海上貨物の主な品目を表したものです。品目にはそれぞれどのような傾向がありますか。航空機と船舶の輸送費の違いにふれながら、説明しなさい。

資料1 日本の主な航空貨物
著作権の関係上、非表示にしています。



資料2 日本の主な海上貨物
著作権の関係上、非表示にしています。



社会科一問題冊子 14 ページに、2つ訂正 があります。

1 **3** 問1①の問題文

誤 : ア ~ カ の記号で答えなさい。



正 : ア ~ オ の記号で答えなさい。

2 **3** 問1①の選択肢

: カ 財務省 - 金融庁 を削除。

3 以下の問に答えなさい。

問1 現代の様々な問題の解決に向けて、政治の果たす役割が問われています。

① 政治の担い手である日本の各省と、その省に属する組織の組み合わせとして適当でないものを1つ選び、ア～カの記号で答えなさい。

ア 環境省 — 原子力規制委員会

イ 経済産業省 — 資源エネルギー庁

ウ 法務省 — 特許庁

エ 国土交通省 — 観光庁

オ 総務省 — 消防庁

カ 財務省 — 金融庁

② 1府12省庁からなる日本の行政機関は、内閣総理大臣とその他の国務大臣によって指揮監督されることになっています。それらについての説明として適当なものを1つ選び、ア～エの記号で答えなさい。

ア 内閣総理大臣は、国民の直接選挙で選出されます。

イ 内閣総理大臣は、自衛隊の最高指揮監督権をもっています。

ウ 国務大臣は、参議院議員である場合、衆議院の審議に出席できません。

エ 国務大臣は、すべて国会議員でなければなりません。

問2 ロシアによるウクライナ侵攻もあって、国際紛争解決のために国際連合の安全保障理事会の果たすべき役割が議論されています。この理事会についての説明として適当でないものを1つ選び、ア～エの記号で答えなさい。


著作権の関係上、非表示にしています。

- ア 5の常任理事国と、10の非常任理事国で構成されます。
- イ 非常任理事国の任期は2年で、毎年半数が改選されます。
- ウ 議決にあたり、常任理事国や非常任理事国はどの国でも拒否権を行使できます。
- エ 加盟国は、理事会による決定に従うことが原則です。

問3 次の文章は、コロナ禍における食事の変化についてまとめたものです。

コロナ禍の影響により家庭の食生活が変化しました。感染拡大を防ぐため飲食店が自粛^{じしゅく}や時短での営業を求められたことで(a)が減少しました。

(b)が普及したことで、家庭では素材から調理した(c)をせず、デリバリーサービスの利用や、スーパーやレストランなどで販売される弁当などの購入により、自宅で食事をする人が増加しました。



① 文中の空欄(a)～(c)にあてはまる語句は何ですか。適当な組み合わせを1つ選び、ア～エの記号で答えなさい。

ア a-外食 b-テレワーク c-内食

イ a-内食 b-オフィスワーク c-外食

ウ a-外食 b-オフィスワーク c-内食

エ a-内食 b-テレワーク c-外食

② 文中の波線部の食事のあり方を何といいますか。漢字2文字で答えなさい。



問4 コロナ禍の影響で冷え込んだ景気を回復させるため、2020年から政府は都道府県と協力して飲食店や宿泊施設の利用を増やそうと、あるキャンペーンを実施しました。これを何といいますか。解答欄に合わせて、答えなさい。

1 問1 問2 問3 問4

問5 山 問6

問7 ①

②

2 問1 問2 問3 問4

問5 ① ② 問6

問7

3 問1 ① ② 問2 問3 ① ②

問4 キャンペーン

↓ ここにシールを貼ってください ↓



230140

受験番号

氏名