

社 会

(時間 40分)

【 注意事項 】

1. 試験開始の合図があるまで、中を開いて見てはいけません。
2. 指示があったら、解答用紙を問題冊子から取り出し、解答用紙の決められた欄に配られたシールをはりなさい。はり終わったら、解答用紙をすみやかに問題冊子の中に戻しなさい。
3. 試験開始の後、受験番号や問題冊子・解答用紙の決められた欄に、氏名を解答用紙の決められた欄に、それぞれ記入しなさい。
4. 答えは解答用紙の決められた箇所に記入しなさい。
5. 問題は22ページあります。問題が抜けている場合、印刷がはっきりしない場合は申し出なさい。
6. 何か用事ができた時はだまって手をあげなさい。ただし問題の内容についての質問をしてはいけません。
7. 説明する問題については、句読点を1字に数えます。
8. 試験終了のチャイムが鳴ったら答えを書き続けてはいけません。すぐに筆記用具を置いて答案の回収を待ってください。
9. 問題用紙は持ち帰ってかまいません。

受 験 番 号

(2023)

1 次の文章を読み、後の問いに答えなさい。

Aくんの通っているX高校では2つのコースに分かれて修学旅行を実施^{じっし}します。今年度は、①長崎市を中心とした②九州地方コースと、もう一方の③中国地方コースのどちらかを選択^{せんたく}することになりました。なお、九州地方コースでは往復の交通手段として④飛行機を利用するそうです。

1時間目の学級活動^{がくきゅう}の冒頭^{ぼうとう}に、担任の先生から修学旅行で学習することの意味、さらに⑤コロナ禍で修学旅行を実施するうえでの注意点や考えておくべきことについて話がありました。⑥観光業を中心^かに受け入れてくださる地域の方々の努力に感謝すること、感染予防についてはできることをしっかりおこなうこと、などが確認されました。

次に、コース選択のための調べ学習をおこないました。あらかじめ決めておいた行動班を基本単位に、インターネットや図書館の書籍^{しよせき}を利用しつつ調べ学習をおこないます。来週は班員同士で情報を共有し、班としての意思を決定します。Aくんは九州コースの長崎市を調べる担当であるため、図書館の書籍、長崎市や長崎県のウェブサイトを中心^かに⑦情報を集めました。すると、歴史的な⑧港町である長崎市には四つの特徴^{とくちょう}があるとわかりました。

一つ目は、⑨西洋文化の窓口であるということです。⑩江戸時代における数少ない海外との交流の地であったことや、キリシタン関連の史跡が多く残っていることがそれを示しています。この点から派生する二つ目の特徴としては、⑪中国からの文化的影響^{えいじやう}が色濃いということです。新地中華街、長崎孔子廟^{こうしひやう}などの場所があることに加え、精霊流し^{しやうろう}*やパーロン**といった個性的な行事にもその影響が見受けられます。

三つ目は、幕末以降の日本の近代化に密接にかかわった街だという点です。日本初の商社と呼ばれる亀山社中を創設した⑫坂本龍馬ゆかりの地や、「明治日本の産業革命遺産」として世界遺産に登録されている⑬三菱長崎造船所関連施設やグラバー邸^{てい}、軍艦島の愛称で親しまれる⑭端島の炭坑^{はしま}などが点在しています。

最後の四つ目は、⑮国際平和都市としての側面です。1945年8月9日、長崎市に⑯原子爆弾が投下され多くの人々の命が失われました。平和祈念像や長崎原爆資料館を中心^かに市民ボランティアの方々が訪れる人々へガイドをおこない、平和への想いや祈り^{いの}を次世代へと伝えています。

同じ日の地理の授業では、担当の先生が⑰地形図を用いて長崎市周辺の地形の特徴について話してくれました。それによると、山々が海までせまっており市街地には平坦な土地が少なく、すり鉢状の地形になっているのが特徴のようです。

その日の放課後、修学旅行実行委員でもあるAくんは各クラスの委員が集まって⑱話し合う実行委員会に参加しました。この日の議題は、「修学旅行中のスマートフォン^{スマートフォン}の利用に関する⑲ルール作り」でした。担当の先生から示された原案をもとに、生徒の⑳代表として実行委員が意見を出し合い、ルールも含めて時間をかけて作

り上げていくねらいがあるようです。Aくんは自分とは異なる立場からの委員の意見に耳を傾けつつ、自分の意見を理由とともに発言することができました。

帰宅後、宿題を終えたAくんは実行委員としての仕事の一つである情報誌の作成にとりかかりました。担当は九州の「お土産」であるため、ウェブサイトやSNSから情報を集めました。調べる中で、コロナ禍で外食や旅行が制限されインターネット通販やお取り寄せビジネスが好調であること、^②広告宣伝の手段としてSNSが注目されていることなどがわかりました。情報誌には、そのあたりも含めて紹介記事を作成することにしました。作業中、Aくんは間近に迫ってきた修学旅行に思いをはせるのでした。

* 長崎でお盆に行われている死者の魂を弔う伝統行事。

** 竜などの装飾が施された船を用いて行われる競漕行事。長崎では古くから行われている。

問1 下線部①について――。

次の〔表1〕は、人口40万～50万人のいくつかの都市について、それぞれ人口増加率、第2次産業就業者の割合、65歳以上人口の割合を示したもので、A～Cは、愛知県豊田市、長崎県長崎市、兵庫県西宮市のいずれかに該当^がします。A～Cと都市名との正しい組み合わせを、後のア～カの中から1つ選び、記号で答えなさい。

〔表1〕

(単位：%)

	人口増加率	第2次産業就業者の割合	65歳以上人口の割合
A	-0.5	18.3	24.6
B	-0.1	46.0	23.3
C	-4.7	17.3	32.7

統計年次は2020年。

『国勢調査』より作成

	ア	イ	ウ	エ	オ	カ
A	豊田市	豊田市	長崎市	長崎市	西宮市	西宮市
B	長崎市	西宮市	豊田市	西宮市	豊田市	長崎市
C	西宮市	長崎市	西宮市	豊田市	長崎市	豊田市

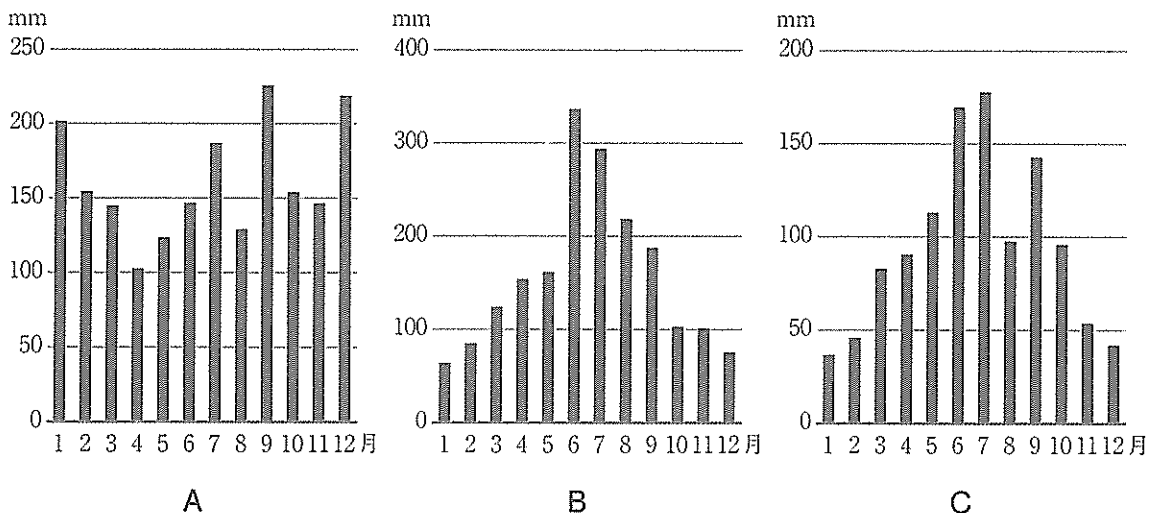
問2 下線部②について――。

九州地方に所在する史跡について説明した文章としてもっとも適切なものを、次のア～エの中から1つ選び、記号で答えなさい。

- ア 縄文時代末期から弥生時代にかけての遺跡とされており、集落の周りにほりをめぐらせた跡を確認できる。
- イ 菅原道真が流された地には、奈良時代に九州の支配を担当した役所の跡があるが、この役所は外交には関与できなかった。
- ウ この地に築かれた古墳は日本最大級であり、渡来人と結びつきを強めて各地の王を従えた勢力があったことを示している。
- エ この地に築かれた石^{せき}墨は、元軍がはじめて日本に來襲することに備えて北条時宗がつくらせたものである。

問3 下線部③について――。

次の【図1】は中国地方の岡山市、鳥取市と九州地方の長崎市の月別平均降水量を示しています。A～Cに該当する都市の組み合わせとして正しいものを後のア～カの中から1つ選び、記号で答えなさい。



気象庁ホームページより作成

【図1】

	ア	イ	ウ	エ	オ	カ
A	長崎市	長崎市	岡山市	岡山市	鳥取市	鳥取市
B	岡山市	鳥取市	長崎市	鳥取市	長崎市	岡山市
C	鳥取市	岡山市	鳥取市	長崎市	岡山市	長崎市

問4 下線部④について――。

次の【図2】は、日本のいくつかの都市やその近隣^{きんりん}にある主な空港*間の年間旅客数**を示したものであり、ア～エは、大阪、札幌、長崎、新潟のいずれかです。長崎に該当するものを、ア～エの中から1つ選び、記号で答えなさい。

* 大阪は伊丹空港、札幌は新千歳空港、東京は羽田空港、長崎は長崎空港、新潟は新潟空港。

** 定期航空路線の直行便のみ。

著作権の関係上、非表示にしています。

問5 下線部⑤について――。

コロナ禍は、人々の消費行動に大きな変化を引き起こしました。総務省『家計調査年報』において、2019年と比べ2021年の年間支出額（二人以上の世帯）が増加した品目として適切なものを、次のア～エの中から1つ選び、記号で答えなさい。

- ア タクシー
- イ 婦人服
- ウ 口紅
- エ 生鮮肉

問6 下線部⑥について――。

コロナ禍以前に、外国人観光客を増やすために日本政府が取り組んできたこととして適切でないものを、次の ア～エ の中から1つ選び、記号で答えなさい。

- ア ビザ発給要件の緩和
- イ 免税店の拡大のための制度改正
- ウ 円高への誘導
- エ 空港における国際線の発着枠の拡大

問7 下線部⑦について――。

情報収集のために利用できるメディアや調査方法について説明した文章として適切なものを、次の ア～エ の中からすべて選び、記号で答えなさい。

- ア 取材やインタビューは、専門家やたずさわる人々に直接に話を聞くことで深い考察を得られやすい一方で、取材相手への配慮から事前準備を入念におこなう必要がある。
- イ 書籍は、情報の信頼性が高く深い分析がなされているものが多い一方で、最新の情報が反映されにくく情報自体やテーマが古くなっていることもある。
- ウ 新聞は、情報の速報性が高く専門紙や地方紙まで活用すれば様々な情報が得られる一方で、信頼性ではテレビなど他のメディアに比べると劣ることがある。
- エ インターネットは、場所の制約をあまり受けずに世界中から最新の情報を集められる一方で、信頼性の低いものも多く情報の価値を判断する力が求められる。

問8 下線部⑧について――。

次の〔表2〕中の A～C は、釧路、長崎、焼津のいずれかの港における出荷量（生鮮と冷凍の合計）の上位3魚種とその割合を示したものです。A～C に該当する港の組み合わせとして正しいものを、後の ア～カ の中から1つ選び、記号で答えなさい。

〔表2〕

(単位：%)

	A		B		C	
1位	かつお	64.9	まいわし	93.8	まあじ	39.9
2位	まぐろ類	28.8	たら	4.0	さば類	32.2
3位	さば類	5.2	するめいか	1.7	ぶり類	21.0

統計年次は2020年。

『水産物流通調査』より作成

	ア	イ	ウ	エ	オ	カ
A	釧路	釧路	長崎	長崎	焼津	焼津
B	長崎	焼津	釧路	焼津	釧路	長崎
C	焼津	長崎	焼津	釧路	長崎	釧路

問9 下線部⑨について――。

西洋文化が日本に与えた影響について説明した文章として適切でないものを、次の ア～エ の中から1つ選び、記号で答えなさい。

- ア 南蛮貿易がはじまると、ボタンやコップといったオランダ語をもとにした日本語が生まれた。
- イ 18世紀なかごろには蘭学がさかんになり、医学・天文学・地理学などが広まった。
- ウ 明治時代に電信・電話が通じたり、ランプやガス灯がともったりしたのは大都市が中心であった。
- エ 明治時代に太陽暦を採用することが政府によって命令された。

問10 下線部⑩について――。

江戸時代の外交について説明した文章として適切でないものを、次の ア～エの中から1つ選び、記号で答えなさい。

- ア 徳川家康は西国の大名や堺の商人らに朱印状を与えて、積極的に海外との交易をおこなった。
- イ 薩摩藩の支配下に入った琉球王国は、将軍の代替わりの際に使節を江戸へ送った。
- ウ 江戸幕府は対馬藩を通じて朝鮮と国交をもったが、貿易はおこなわなかった。
- エ 日米和親条約の交渉において、アメリカ側は貿易開始も求めたが、日本側は拒否した。

問11 下線部⑪について――。

中国との様々なつながりがもたらした変化について説明した文章としてもっとも適切なものを、次の ア～エの中から1つ選び、記号で答えなさい。

- ア 卑弥呼は魏の皇帝から「親魏倭王」の称号と鉄製の武器を受け取り、倭国を統一した。
- イ 遣隋使船に乗って来日した鑑真によって、日本の寺や僧の制度が整備された。
- ウ 貿易を通じて宋銭がもたらされると、鎌倉時代には売買の手段として宋銭が使われた。
- エ 足利義政が将軍のころ、明に渡った観阿弥・世阿弥によって能が日本に持ち込まれた。

問12 下線部⑫について――。

坂本龍馬と関わりの深い場所について説明した文章としてもっとも適切なものを、次の ア～エ の中から1つ選び、記号で答えなさい。

- ア 坂本龍馬が暗殺された地に幕府が開かれたころ、平等院鳳凰堂に代表される文化が花開いた。
- イ 坂本龍馬が暗殺された地は、足利尊氏が幕府を開くと再び日本の都となった。
- ウ 坂本龍馬の出身地は、戦国時代においては島津氏の領国だった。
- エ 坂本龍馬と同じ出身地の人物は、明治時代に自由党を結成して初代党首となった。

問13 下線部⑬について――。

日本の造船業は1956年に船舶竣工量しゅうくわうが世界一となり、1990年代まで世界の竣工量の4割以上を占めていましたが、現在では中国が世界1位となり、日本は3位です。ほかにも中国が世界生産1位、日本が3位の工業として、鉄鋼業や自動車工業が挙げられます。それぞれの工業の世界生産で2位に該当する国の組み合わせとして適切なものを、後のア～カの中から1つ選び、記号で答えなさい。

著作権の関係上、非表示にしています。

訂 正

12 ページ

1 問 13

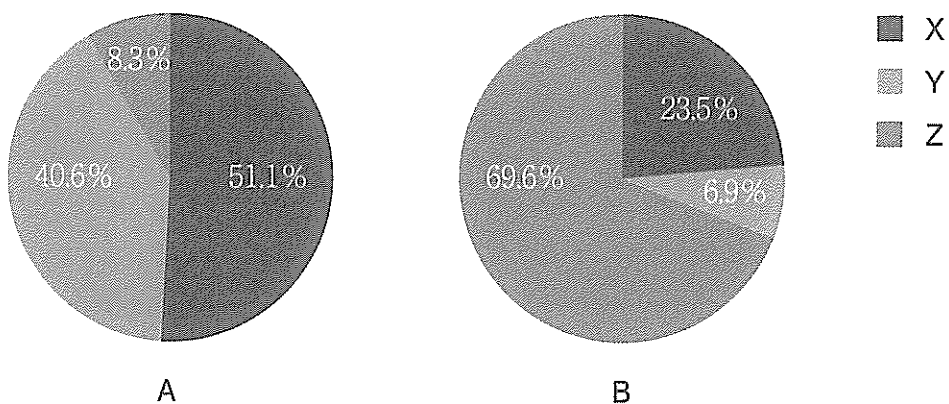
(誤) 統計年次は 2021 年。

(正) 統計年次は 2020 年。

問14 下線部⑭について――。

日本における石炭の主な用途の一つに火力発電用の燃料があります。次の【図3】は日本の火力発電の燃料構成割合を示したもので、2つのグラフは1980年と2020年のどちらか、X、Y、Zは石炭、石油*、天然ガスのいずれかを示しています。2020年のグラフと石炭の組み合わせとして正しいものを後のア～カの中から1つ選び、記号で答えなさい。

* 石油にはLPG等を含む。



『エネルギー白書 2022』より作成

【図3】

	ア	イ	ウ	エ	オ	カ
2020年	A	A	A	B	B	B
石炭	X	Y	Z	X	Y	Z

問15 下線部⑮について――。

(1) 日本国憲法の柱の一つとして平和主義があげられます。日本国憲法第9条に関する日本政府の立場を示す記述としてもっとも適切なものを、次のア～エの中から1つ選び、記号で答えなさい。

- ア 憲法第9条のもと、自衛権を否認しており集団的自衛権は行使できない。
- イ 自衛隊は自衛のための必要最小限度の実力であり、戦力ではない。
- ウ 近隣国が攻撃用の兵器を開発している場合、先制攻撃をおこなうことができる。
- エ 非核三原則は憲法に明記されており、憲法改正の手続きをせずに廃止することはできない。

(2) 国際平和を実現するための国際連合の組織についての説明としてもっとも適切なものを、次のア～エの中から1つ選び、記号で答えなさい。

- ア 総会では、1国1票の投票権をもち、国際連合の前身である国際連盟についての反省から全会一致による意思決定を原則としている。
- イ 安全保障理事会は、5か国の常任理事国と10か国の非常任理事国から構成され、常任理事国のうち1か国でも反対すれば、決議は成立しない。
- ウ 国際司法裁判所は、国と国との間の紛争^{ぶんそう}を裁くのが主な仕事で、日本と韓国の間の領土問題について調停をおこなっている。
- エ NGOは、地球規模の問題に取り組む組織で、UNESCOやWHOと同じく経済社会理事会の傘下^{さんか}である専門機関の一つである。

問16 下線部⑯について――。

核の軍備を拡大するか縮小するかは、核兵器を保有する国だけでなく世界中の国々にとって非常に重要な問題となります。ここに、Y国とZ国という軍事的な緊張関係にある2か国があるとします。右の〔表3〕

〔表3〕

		Z国が	
		核軍縮	核軍拡
Y国が	核軍縮	Y国：2 Z国：2	Y国：0 Z国：3
	核軍拡	Y国：3 Z国：0	Y国：1 Z国：1

に示すのは、「核軍縮」か「核軍拡」をY国とZ国がそれぞれ判断した場合の、自国からみたメリットの大きさを0から3の数字で表したものです。この表についての文章として適切でないものを、次のア～エの中から1つ選び、記号で答えなさい。


- ア Y国にとって望ましいのは、Z国が「核軍縮」を選択した場合に、「核軍拡」を選択することである。
- イ Y国にとって望ましいのは、Z国が「核軍拡」を選択した場合に、「核軍縮」を選択することである。
- ウ 自国の利益を最優先にした場合、相手の選択にかかわらず「核軍拡」を選択することが望ましい。
- エ 自国の利益を最優先に判断すれば、お互いにとって最も望ましい選択が自然と達成される。

(次ページに続く)

問17 下線部⑰について――。

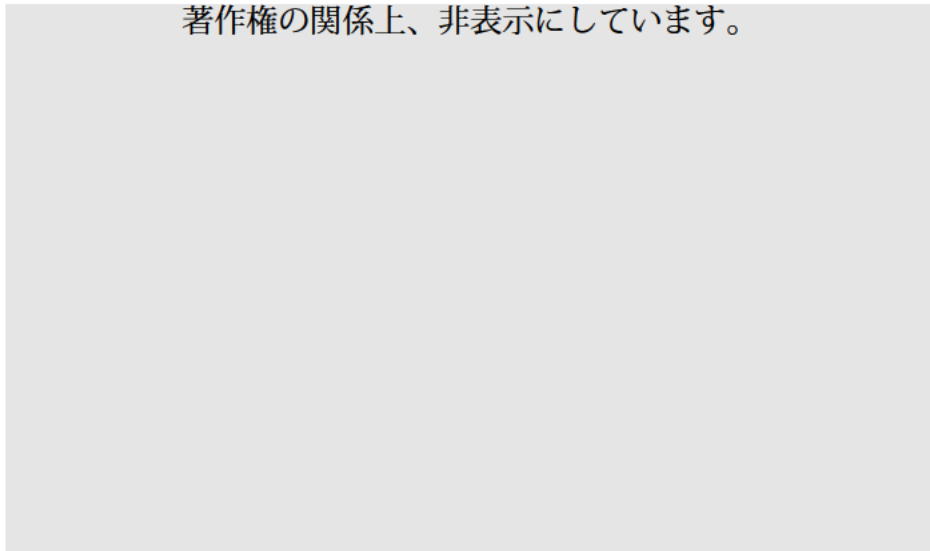
次の長崎市周辺の地形図（2万5千分の1）を見て、後の問いに答えなさい。

著作権の関係上、非表示にしています。



- (1) 次の写真は、長崎市の市街地を撮影したものです。この写真を撮影した地点を地形図中の地点 ア～エ の中から1つ選び、記号で答えなさい。

著作権の関係上、非表示にしています。



- (2) この地形図に関連することがらについて説明したものとして、もっとも適切なものを、ア～エ の中から1つ選び、記号で答えなさい。

ア 浦上川河口付近の **大黒町** の西に位置する長崎駅は、福岡市の博多駅から新幹線が乗り入れるようになった。

イ 浦上川河口付近の **弁天町** は、江戸時代初期に外国人居留地として許可された地区で、多くのオランダ人が居住していた。

ウ 長崎湾西岸の **三菱重工業長崎造船所** は、三角州の上に立地しており、ここはかつて水田地帯であった。

エ 長崎湾東岸の **水辺の森公園** は、かつて海であったが、その後、埋め立てられて陸地になった。

問18 下線部⑱について――。

話し合いの機関や仕組みについて説明した文章として適切でないものを、次のア～エの中から1つ選び、記号で答えなさい。

- ア 室町幕府の将軍は、管領や侍所の長官を交代でつとめる有力守護とともに軍事などの重要事項を決定した。
- イ 江戸時代の村は、幕府によって任命・派遣された名主などの村役人による話し合いで運営された。
- ウ 帝国議会の一部である貴族院は、皇族・華族や天皇が任命する者、多額納税者らによって構成された。
- エ 20世紀末から温暖化防止に対して世界的に取り組む会議が開かれるようになり、日本では1997年に京都で開かれた。

問19 下線部㉑について――。

国政におけるルール作りは国会の役割ですが、国会に関する文章としてもっとも適切なものを、次のア～エの中からすべて選び、記号で答えなさい。

- ア 法案が法律になるためには、両議院が可決するだけでなく、天皇による助言と承認が必要である。
- イ 法律案が衆議院で可決され参議院で否決された場合、衆議院で再可決するには、出席議員の3分の2以上の賛成が必要である。
- ウ 憲法の改正には、両議院で総議員の3分の2以上の賛成による発議と国民投票での過半数の賛成による承認が必要である。
- エ 国会議員は、国会の会期中は原則的に逮捕^{たいほ}されないが、現行犯や所属議院の承諾があれば会期中でも逮捕される。

問20 下線部⑳について――。

国民の代表を決める制度の一つに国政選挙がありますが、2022年7月に参議院議員通常選挙がおこなわれました。この回の選挙制度について述べた文章としてもっとも適切なものを、次のア～エの中から1つ選び、記号で答えなさい。

- ア 欠員を補充する選挙区を除いて、改選数は124であった。
- イ 選挙区選挙において、選挙区の数 は47であった。
- ウ 比例代表選挙において、投票用紙に書けるのは政党名のみであった。
- エ 投票率は約52%と戦後最低の水準となった。

問21 下線部㉑について――。

公衆の面前にふれる広告物について性的な表現を規制すべきという意見がありますが、「価値観の多様性」を重視する立場から表現の自由を制約すべき決定的な根拠として考えられるもっとも適切なものを、次のア～エの中から1つ選び、記号で答えなさい。

- ア 性差別の助長
- イ 性犯罪の誘発
- ウ 「見たくない、または読みたいくない」という感情への配慮
- エ 青少年の健全な成長への悪影響

2 次の文章を読み、後の問いに答えなさい。

1930年代の日本では、陸軍が次第に力を強めていきました。近年の研究によると、そこには大正時代からの陸軍による宣伝政策があったことが指摘されています。そこで〔資料1〕～〔資料4〕を読み取り、1920年代の陸軍による宣伝政策の背景とその特徴、陸軍宣伝に対する民間企業の反応について120字以内で説明しなさい。

著作権の関係上、非表示にしています。

〔資料2〕

- (1) 1921年の国内有力紙の記事には、「ヨーロッパにおける戦争の範囲や損害が大規模となった原因をなくすために、諸国の軍備を最小必要限度に制限して世界の平和を永遠に保障することこそ人類のまさに努力すべきところだ」とある。
- (2) 1922年の国内有力紙に掲載された陸軍軍人の証言によると、「軍人に対する国民の眼は近時憎悪から侮蔑へと大きく変った。(中略) 関西のある都市周辺では、子どもが言う事を聞かない場合、親が叱る際に『今に軍人にしてやるぞ』と怒鳴り立てる。軍人が車を呼べば、運転手は『冗談じゃない。歩いたらどうですか』と怒鳴る」とあり、当時の軍人が置かれていた状況をうかがい知ることができる。

[資料3]

著作権の関係上、非表示にしています。

【資料の説明】

この資料は、東京のある映画館で1926年に配布されたものの一部である。『軍神橋中佐』は、日露戦争での戦死によって「軍神」とされた陸軍軍人である橋周太の生涯を描いた作品である。

[資料4]

著作権の関係上、非表示にしています。

【図の説明】

このポスターは、1928年（昭和3年）3月の陸軍記念日にあわせて東京三越呉服店（現在の日本橋三越本店の前身）で実施された、陸軍展覧会を宣伝するものである。この展覧会は、陸軍記念日に際して百貨店が主催した。

(以下余白)

