

社 会

注 意 事 項

- 1 試験開始の合図があるまで、この問題冊子の中及び解答用紙を見てはいけません。
- 2 問題の内容に関する質問には、一切答えられません。ただし、試験中に問題冊子の印刷不鮮明、ページの落丁・乱丁、解答用紙の汚れ等に気付いた場合は、静かに手をあげて試験監督に知らせてください。
- 3 この問題冊子も回収するため、試験開始前に試験監督の指示に従い表紙下の受験番号欄に、受験番号（数字）を記入してください。
- 4 解答用紙には、次の欄があります。

①受験番号欄

試験開始後すぐに、受験番号を記入してください。

②解答欄

解答は、解答欄をはみ出さずにていねいに記入してください。
はみ出すと採点されない場合があります。

③シール貼り付け欄

試験監督の指示に従い、QRコードシールを1枚貼り付けてください。

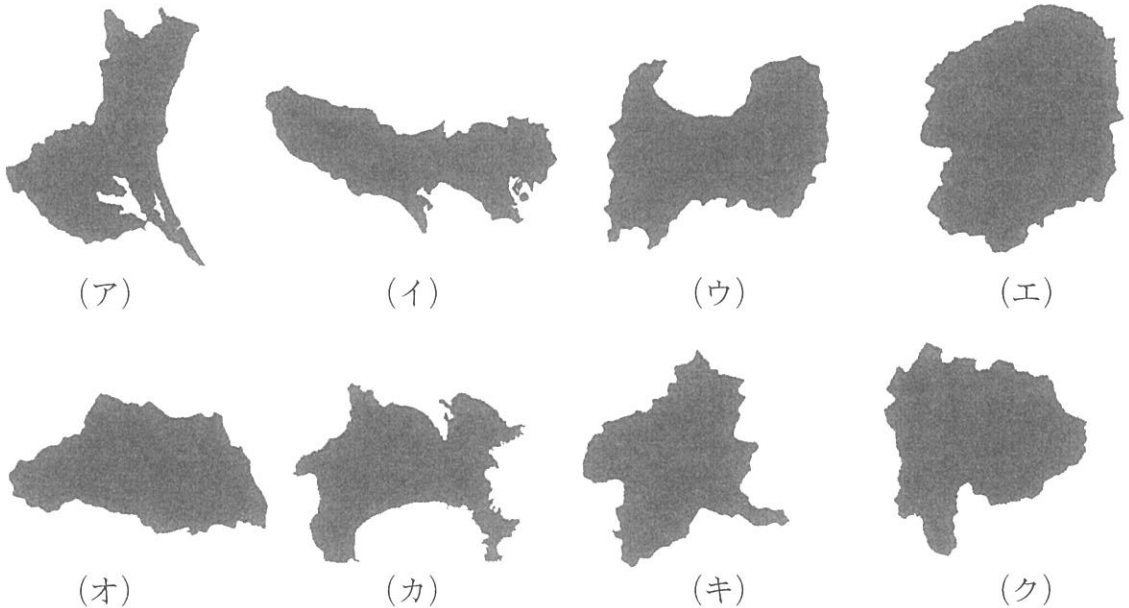
受 験 番 号			

1 次の文章を読んで、あとの問いに答えなさい。

今からちょうど100年前の①1923年、相模湾^{さがみ}を震源とする関東大震災が発生しました。この震災では10万人以上の被災者が出たと言われています。②関東地方では、およそ50～100年の間に大きな地震が発生しています。③日本は世界で最も地震が多発する国の一つです。2011年に④東北地方を震源として発生した東日本大震災は、地震被害の他に津波被害も大きく、また⑤原子力発電所の事故も引き起こしました。「想定外」という言葉が使われましたが、私たちは地震以外の災害も含め、いつ発生するかわからない⑥自然災害のために備えておく必要があります。

問1 下線部①について、関東大震災が発生したのは何月何日か答えなさい。

問2 下線部②について、次の図（ア）～（ク）は日本の都道府県の形を示したものです。このうち、関東地方のものとして誤っているものをすべて選び、記号で答えなさい。なお、これらの図は同じ縮尺ではありません。

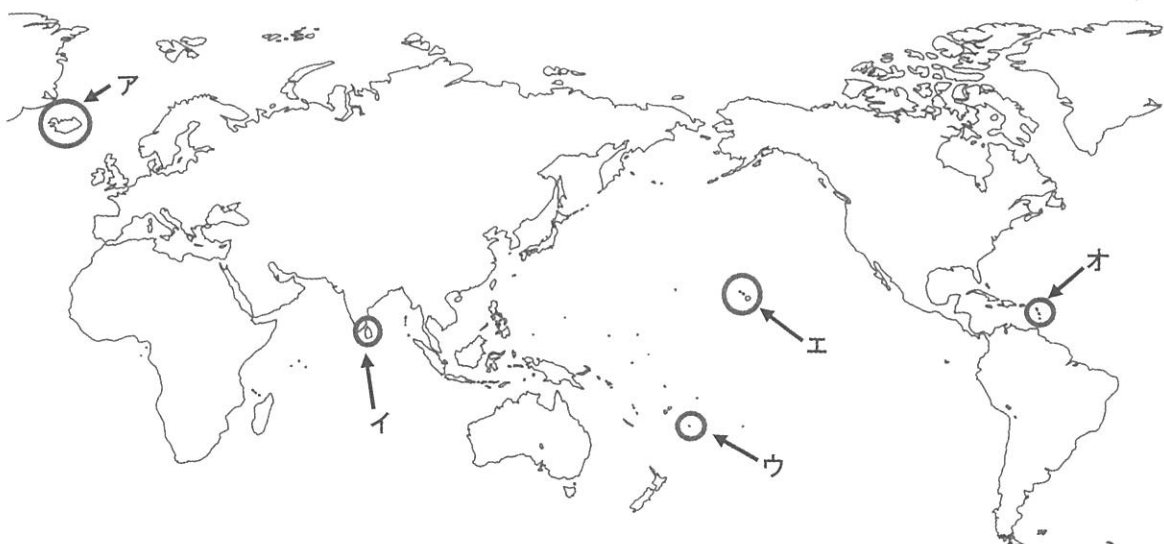


問3 下線部③について、地震が起きるメカニズムなどを説明した次の文章を読んで、あとの問いに答えなさい。

地震が発生する主な原因の一つに、地球の表面を覆っている（ A ）の動きが挙げられます。（ A ）は10数枚に分かれていて、（ A ）どうしが動く中でぶつかり、一方がもう一方の下にもぐり込むことがあります。この時、上側の（ A ）は引きずり込まれますが、ある段階でたえられずに元に戻ろうとします。この時に地震が発生します。また、このもぐり込みによって険しい山脈も形成されます。この動きが活発な地帯を造山帯と呼び、日本はその一つである（ B ）造山帯の上に存在するので、地震や火山活動が活発な場所となります。同じ（ B ）造山帯には、アコンカグアを最高峰とする南アメリカ大陸の（ C ）山脈も属します。また、2022年1月に島を吹き飛ばすほどの大噴火が発生し、日本にも津波をもたらした海底火山がある もこの造山帯に属します。

(1) 文章中の空欄（ A ）～（ C ）に入る適切な語句を答えなさい。

(2) 文章中の空欄 の国の位置について、次の地図中のア～オのうち正しいものを1つ選び、記号で答えなさい。

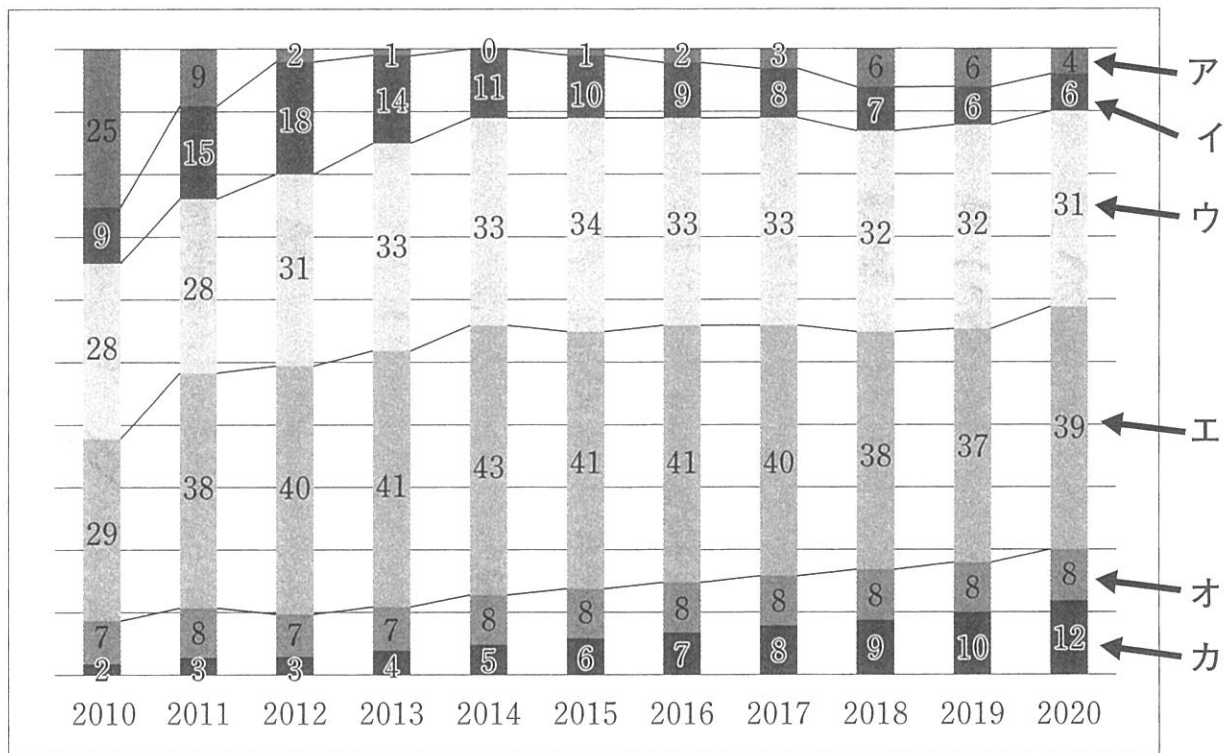


問4 下線部④について、次の文a～eは、それぞれ東北地方のある県について述べたものです。文の説明と県名の組み合わせとして正しいものを、あとのア～オから1つ選び、記号で答えなさい。

- a 果実の栽培が盛んで、特に桃の収穫量は全国でも常に上位を占めています。
- b 古くから砂鉄が産出されたことから南部鉄器がつくられ、伝統工芸品として有名です。
- c 米の収穫量は東北地方第2位で、品種は「はえぬき」が多く生産されています。
- d プロ野球球団が本拠地を置く、東北地方で唯一の政令指定都市があります。
- e 1960年代ごろまで琵琶湖に次ぐ面積の湖がありましたが、現在は18位となりました。

- ア. a－青森県 イ. b－秋田県 ウ. c－福島県
- エ. d－宮城県 オ. e－山形県

問5 下線部⑤について、次のグラフは、2010年から2020年までの電源別の発電電力量の割合(%)を示したものです。このうち、原子力を示したものとして正しいものを、次のア～カから1つ選び、記号で答えなさい。



(出典：資源エネルギー庁「エネルギー白書2022」より作成)

問題文は次ページに続きます。

問6 下線部⑥について、次の問いに答えなさい。

(1) 地形や地質などをもとに自然災害の被害を予測して示した地図を何と
いいますか。

図1

浸水した場合に
想定される水深
(ランク区分)

5.0~10.0m


3.0~5.0m

2.0~3.0m

1.0~2.0m

0.5~1.0m

0.1~0.5m



(2) 次の地図は、広尾学園小石川がある文京区が作成した、水害の予測を示したものの一部です。この地図では、水害時の浸水規模を図1のよう

に色で分けて示し、水害が発生した時の避難所も示されています。図2は避難所を示す地図記号です。この地図から読み取れることとして正しいものを、次のア～エから1つ選び、記号で答えなさい。なお、地図中の【 】で記されている地名は文京区内のもので

図2



- ア. 文京区と新宿区との境目にあたる【水道】付近は地図によると最も標高が高くなっているため、水害に対しては比較的安全な区域であることがわかります。
- イ. 地図に示された区域では、おおよそ北西から南東にかけて筋状に標高の高い^{すじじょう}場所が見られ、広尾学園小石川がある地域は比較的低い場所であることがわかります。
- ウ. 小・中学校や寺社が避難所に指定されていて、こうした場所が災害時の地域の安全を守る拠点となっていることがわかります。
- エ. 地名の中には、その場所の標高が高いのか、低いのかを推測することができるものもあります。このことは地図中の水害発生予想区域の広がりを見るとよくわかります。

著作権の関係上、非表示にしています。

- 2 広尾学園小石川と東洋文庫は、博学教育連携により様々な教育活動を展開してきました。東洋文庫ミュージアムでは、2022年5月25日から「日本語の歴史」展が開催されました。次の企画展パンフレットの文章を読んで、あとの問いに答えなさい。なお、文章は一部改めた箇所があります。

日本列島で「日本語」が使われるようになったのはいつからなのか。諸説ありますが、遅くとも①『三国志』の「魏書」に日本に関する記録（魏志倭人伝）が残る3世紀頃には、日本語が話されていたと考えられています。日本で漢字が本格的に使用されるようになったのは、出土文字資料などの状況から5世紀頃だとされています。これにより、それまで話し言葉としてのみ使用していた日本語を書き表すことができるようになりました。外国の文字である漢字を、日本語の用法にあわせて使うのは簡単なことではありません。②漢字それぞれが持つ意味を切り離し、「音」として使うことで日本語を表記する「万葉仮名」（8世紀頃成立）は、試行錯誤のなかでとられた漢字の使い方です。そして、万葉仮名の漢字のくずし書きを整える形で、9～10世紀頃に平仮名が生まれ、仮名文字で物語を書く「仮名文学」が花開きました。

中世にあたる③鎌倉・室町時代は、古代日本語の語法や文法が変化していった時期にあたります。また、音韻も現在の発音へと近づいていきました。④日本でキリスト教を布教したイエズス会が刊行した「キリシタン版」は、西洋文化との交流の足跡を示すと同時に、発音をはじめとする16世紀末の日本語の様態を伝える資料としても重要視されています。

江戸時代に日本語は現在の形につながる近代語へと近づいていきました。一方で、各地の大名がそれぞれの領地を統治することにより地域ごとの言葉の違い（方言）が進み、身分制度により使う言葉が階層によって異なるなど、言語の多様化が見られた点も特徴といえるでしょう。また、江戸時代には商業出版が盛んになり、出版物の種類や読者層が広がりました。文字の読み書きという点では、庶民の初等教育の場である（A）、そして教科書として用いられた「往来」の普及などにより識字率が高まりました。18世紀には西洋の知識をオランダ語を通じて学ぶ蘭学が盛んになり、オランダ語から生まれた外来語が医学・化学などの分野で見られるようになりました。蘭学の成果として代表的なのが、杉田玄白たちがオランダ語の解剖書を翻訳した『（B）』です。この翻訳によって新たな漢語・国字がつけられました。このような漢語による翻訳は近代にも引き継がれ、日本語の語彙に加えられていきました。

明治時代以降は首都となった東京の言葉が全国のどこでも通じる標準語（共通語）として普及しました。また、小学校が設置され、さらに⑤中学校・高等学校・大学の設置など教育制度が整えられ、国語教育が全国的に実施されます。江戸時代まで、書き言葉と話し言葉には隔たりがありましたが、これらの一致を目指す「言文一致運動」の気運も19世紀末に高まりました。山田美妙、二葉亭四迷、尾崎紅葉などの小説家たちがそれぞれの作品で実践したほか、国語教育においても言文一致体の文章が普及していきました。

⑥現代においても、外来語の流入、カタカナ表記の和製英語の普及、次々と生まれる新語など、日本語をとりまく状況は日々変化しています。

問1 下線部①について、このころの日本は中国の皇帝のもとに使者を派遣していました。これにより中国のいくつかの歴史書に日本のことが記されるようになりました。各歴史書についてまとめたものが次の表です。この表を参考にして、次の文X・Yについて、その正誤の組合せとして正しいものを、あとのア～エから1つ選び、記号で答えなさい。

歴史書	編集者	生没年	日本に関する内容
『漢書』	班固	32～92年	楽浪郡の海のかなたに倭人がいて、100以上の国を造っており、なかには定期的に使者を派遣してくる国もある。
『三国志』	陳寿	233～297年	南に進むと邪馬台国に着く。ここは女王が都を置いている所である。……名を卑弥呼といい、弟が国政を補佐している。
『後漢書』	范曄	398～445年	倭の奴国が後漢に使者を派遣したので、光武帝は印綬（印とそれを結びとめるひも）をおくった。

X 『三国志』には、邪馬台国の女王卑弥呼が魏の皇帝に使者を派遣した記事があります。

Y 『後漢書』は『三国志』よりも後世の成立ですが、『三国志』より古い時代の日本に関する記述があります。

ア. X—正 Y—正 イ. X—正 Y—誤

ウ. X—誤 Y—正 エ. X—誤 Y—誤

問2 下線部②について、次の2つの和歌は『万葉集』にみえる都の繁栄を詠んだものです。和歌と、和歌のなかで詠まれている都で活躍した天皇との組合せとして正しいものを、あとのア～エから1つ選び、記号で答えなさい。

I あおによし 寧楽ならの京師みやこは 咲く花の 薫におうがごとく 今盛りなり

II 春過ぎて 夏きたるらし 白たえの 衣乾こもほしたり 天あまの香具山かぐやま

*天の香具山:奈良盆地にある大和三山の1つ。三山が囲むように藤原京が造営された。

a 天智天皇 b 聖武天皇 c 推古天皇 d 持統天皇

ア. I—a II—c イ. I—a II—d

ウ. I—b II—c エ. I—b II—d

問3 下線部③について、15世紀に成立した琉球王国では、神々に捧げる歌“おもろ”をあつめた『おもろそうし』が編集されました。次の歌はその1つです。

著作権の関係上、非表示にしています。

(1) 歌中にもみられる、琉球王国が日本や中国、朝鮮半島、東南アジアの国々とおこなった貿易を、その形式から何貿易といいますか、答えなさい。

(2) 歌中の下線部「たう」の15世紀当時の国名を答えなさい。

問4 下線部④について、次の2つの資料a・bを参考に、日本文化と西洋文化との関係性について述べた文として誤っているものはどれですか。あとのア～エから1つ選び、記号で答えなさい。

著作権の関係上、非表示にしています。

- ア. 資料aのキリシタン版では、活字(活版)をもちいた印刷が行われていました。
- イ. 資料aでは、“日本”を“NIFON”と表記しており、当時の発音を推測することができます。
- ウ. 資料bに描かれたような交流のなかで、日本人のキリスト教信者も増えていきました。
- エ. 資料bが描かれた時代、南蛮貿易は盛んでしたが、日本人が海外に渡航することは認められていませんでした。

問5 文章中の空欄 (A) ・ (B) に入る適切な語句を漢字で答えなさい。

問6 下線部⑤について、明治時代の高等教育はお雇い外国人によって担^{にな}われることが多くありました。次の資料は、東京大学の前身の1つである東京開成学校の外国人教員一覧です。この資料をふまえて、明治期のお雇い外国人に関する正しい説明文を、あとのア～エから1つ選び、記号で答えなさい。

著作権の関係上、非表示にしています。

- ア. 資料によれば、外国人教員のなかには学校全体を考える立場につく人はいませんでした。
- イ. 資料によれば、外国人教員は数学や理科など自然科学を専門とする教員しかいませんでした。
- ウ. お雇い外国人のモースは、大森貝塚を発掘し日本の考古学の基礎をつくりました。
- エ. お雇い外国人のラクスマンは、札幌農学校でロシア式の農業を日本に紹介しました。

問7 下線部⑥に関連して、次の資料Ⅰ～Ⅲは近年の内閣総理大臣が国会でおこなった演説の一部です。資料Ⅰ～Ⅲを年代の古い順に並び替えたものとして正しいものを、あとのア～カから1つ選び、記号で答えなさい。

【資料Ⅰ】

あの暑い夏の総選挙の日から、すでに二か月が経とうとしています。また、私が内閣総理大臣の指名を受け、民主党・社会民主党・国民新党の三党連立政策合意の下に、新たな内閣を発足させてから、四十日が経とうとしています。総選挙において、国民の皆さまは政権交代を選択されました。これは日本に民主主義が定着してから、実質的に初めてのことです。

【資料Ⅱ】

三十二万人近くにも及ぶ方々が住み慣れた故郷^{ふるさと}に戻れないまま、遅々として進んでいない、東日本大震災からの復興の危機。外交政策の基軸^{きじく}が揺らぎ、その足元^{みす}を見透かすかのように、我が国固有の領土・領海・領空や主権に対する挑発が続く、外交・安全保障の危機。そして、国の未来を担う子どもたちの中で陰湿^{いんしつ}ないじめが相次ぎ、この国の歴史や伝統への誇りを失い、世界に伍^ごしていくべき学力の低下^{きく}が危惧^きされる、教育の危機。このまま、手をこまねいているわけにはいきません。

【資料Ⅲ】

米国は、今回のテロに対して断固たる行動をとることを宣言しています。私は、去る25日、ブッシュ大統領と会談し、世界の国々が力を合わせて、このようなテロリズムに対して毅然^{きぜん}たる決意で闘っていかねばならないとの考えで一致しました。……今回のテロにより、世界経済への影響^{けねん}が懸念^{けん}されます。政府は細心の注意をもって状況を把握し、各国と協力して、金融システム、為替など経済の安定のため、適切な対応を図ります。……何より必要なのは、改革断行に向けた強い意志です。私は、国民の支持を背景に、「聖域なき構造改革」を進めます。

ア. 資料Ⅰ→資料Ⅱ→資料Ⅲ

イ. 資料Ⅰ→資料Ⅲ→資料Ⅱ

ウ. 資料Ⅱ→資料Ⅰ→資料Ⅲ

エ. 資料Ⅱ→資料Ⅲ→資料Ⅰ

オ. 資料Ⅲ→資料Ⅰ→資料Ⅱ

カ. 資料Ⅲ→資料Ⅱ→資料Ⅰ

3 次の文章を読んで、あとの問いに答えなさい。

16世紀から17世紀のヨーロッパでは国王に権力が集中したことによって、国民の権利が制限されていました。その後、国の権力を複数に分け、お互いの権力行使を抑制しあうことで均衡をたもつ仕組みが民主政治の基本原理となりました。その基本理に基づいて①日本国憲法も成立しており、立法権は国会、行政権は内閣、司法権は②裁判所に権力を分散させています。また、③基本的人権の尊重を記すことによって国家権力による人権侵害を防ぎ、国民の権利を保障しています。一方で、日本国憲法の施行から75年以上経つことから、社会の変化に合わせたかたちに憲法を改正する必要があるという議論も起きています。

2022年7月に第26回④参議院議員選挙が行われました。この選挙は新型コロナウイルス対策やウクライナ情勢などの外交問題、⑤国の経済対策が主な争点となりましたが、与党が勝利し参議院は与党の議席数が過半数を超えました。この結果、衆議院・参議院ともに憲法改正に賛成している議員の数は、⑥憲法改正の発議に必要とされる総議員の3分の2を超え、理論的には憲法改正の条件の一つが整ったこととなります。しかし、政党によって憲法改正に関する主張は異なるうえ、与党内でも改正の内容について意見が一致しているわけではないため、改正するにはまだ解決すべき問題が多く残っています。

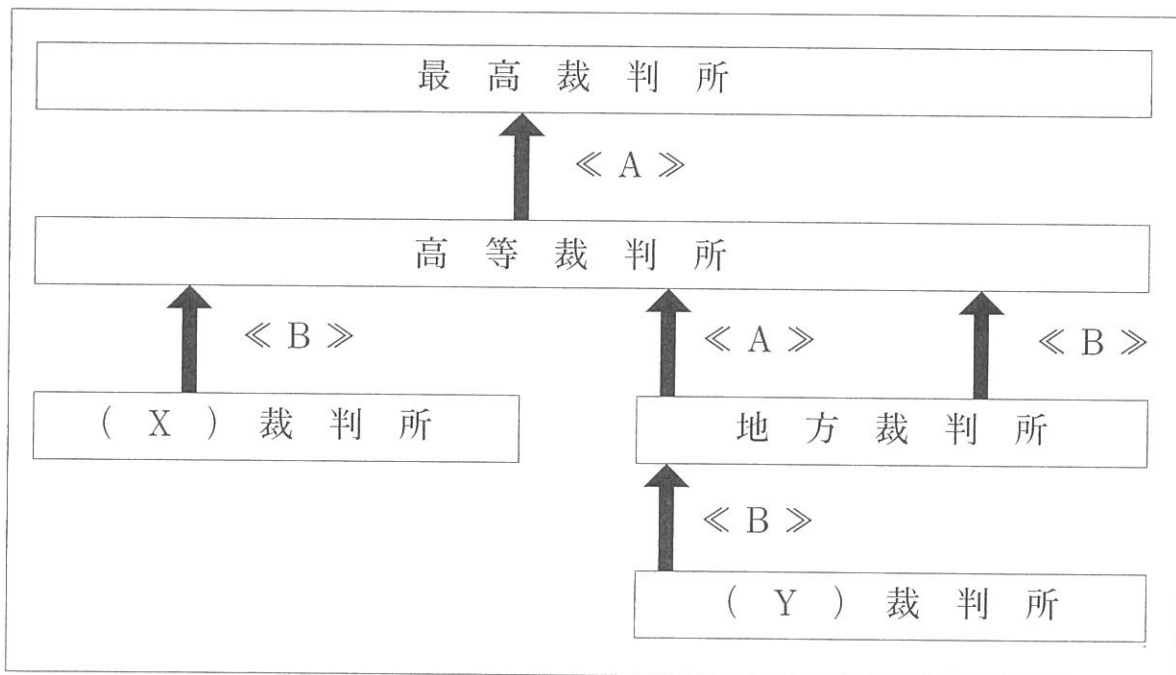
問1 下線部①について、日本国憲法では、天皇は日本国の象徴であり日本国民統合の象徴とされており、国政に関する権能を有しないとされていますが、内閣の助言と承認を受けたうえで国事行為を行います。次の文ア～オのうち天皇の国事行為について誤っているものを1つ選び、記号で答えなさい。

- ア. 最高裁判所の長官を指名すること。
- イ. 憲法改正、法律、政令および条約を公布すること。
- ウ. 衆議院を解散すること。
- エ. 国家や社会への功労者に対して栄典を授与すること。
- オ. 外国の大使および公使をもてなすこと。

問2 下線部②について、次の問いに答えなさい。

(1) 裁判所は国会が定めた法律や内閣の行う政治が憲法に違反していないかどうかを審査する違憲審査権を持っています。最高裁判所は違憲審査の最終決定権を持っていることから、何と呼ばれますか。5字で答えなさい。

(2) 日本の裁判は三審制を採用しています。次の図は、民事裁判の三審制について示したものです。空欄《A》・《B》および(X)・(Y)に当てはまる語句の組み合わせとして正しいものを、あとのア～エから1つ選び、記号で答えなさい。



- | | | | |
|---------|------|------|------|
| ア. A：上告 | B：控訴 | X：簡易 | Y：家庭 |
| イ. A：上告 | B：控訴 | X：家庭 | Y：簡易 |
| ウ. A：控訴 | B：上告 | X：簡易 | Y：家庭 |
| エ. A：控訴 | B：上告 | X：家庭 | Y：簡易 |

問3 下線部③について、次の問いに答えなさい。

(1) 基本的人権は社会全体の共通の利益をそこなう場合、制限されることがあります。このような社会全体の利益を何といいますか。5字で答えなさい。

(2) (1) に関わる人権の制限について述べた次の文 a～dのうち、正しいものの組み合わせをあとのア～エから1つ選び、記号で答えなさい。

a 自由権の中には表現の自由も含まれており、新聞や雑誌などの出版物は制限を受けることなく販売することができます。

b 居住・移転の自由が保障されていますが、感染症などにかかった場合は制限を受けることがあります。

c 労働者が労働基本権に基づいてストライキを行うことは認められていますが、鉄道会社や航空会社ではストライキをすることは認められていません。

d 経済活動の自由が保障されていますが、企業同士で相談して市場に出回る商品の価格を決めることは認められていません。

ア. a・c イ. a・d ウ. b・c エ. b・d

問4 下線部④について、衆議院と参議院ではそれぞれ選挙のしくみが異なります。

選挙のしくみについて述べた文ア～オのうち、正しいものを2つ選び、記号で答えなさい。

ア. 制限選挙に基づき、衆議院・参議院ともに18歳以上の国民に選挙権が認められています。

イ. 衆議院議員選挙では小選挙区比例代表並立制が採用されており、有権者は候補者と政党に対してそれぞれ投票することができます。

ウ. 国民の意見がより反映されやすい衆議院議員選挙に限り、投票率の低下を改善するために期日前投票が行われています。

エ. 参議院議員選挙では全国を1つの単位とする大選挙区制と都道府県単位で行われる選挙区選挙が採用されており、有権者はそれぞれ候補者に投票することができます。

オ. 選挙に立候補する場合、衆議院は25歳以上、参議院は30歳以上である必要があります。

問5 下線部⑤について、2022年3月以降、コロナ禍^かやウクライナ情勢を受けて日本は32年ぶりの円安水準となりました。円安によって起きることについて述べた次の文a～dのうち、正しいものの組み合わせをあとのア～エから1つ選び、記号で答えなさい。

a 日本製品に割安感がでるため、輸出が促進^{そくしん}され、輸出産業の景気がよくなります。

b 海外製品に割安感がでるため、海外旅行先での買い物がしやすくなります。

c 輸入品が割高となるので、輸入に頼っている食料品などは値段が高くなります。

d 海外で働いた場合、賃金を円に交換すると受けとる額は安くなります。

ア. a・c イ. a・d ウ. b・c エ. b・d

問6 下線部⑥について、次の法律の条文の空欄（ A ）・（ B ）に入る適切な語句を答えなさい。

第二条 （ A ）は、国会が憲法改正を発議した日から起算して60日以後180日以内において、国会の議決した期日に行う。

第三条 日本国民で年齢満（ B ）年以上の者は、（ A ）の投票権を有する。

4-I 次の史料は『古事記』の序文の一部です。史料には天武天皇の即位にいたる過程と歴史書の修正を命じた場面が記述されています。これを読んで、あとの問いに答えなさい。なお、史料は読みやすいように現代語に改めています。

飛鳥浄御原あすか きよみはらの宮殿で日本をお治めになった天皇は、太子として天子たるべき徳を備え、好機に依じて行動された。しかしながら、天の時いまだ至らず、出家して吉野山に身を寄せると、つきしたがう人々が多く集まって、堂々と東国に進まれた。天皇の輿こしはたちまちにお出ましになり、山川を越え渡った。軍勢は雷のように威をふるい、稲妻のように進んだ。矛ほこが威を示し、勇猛ゆうもうな兵士は煙のように起った。しるしの赤旗が兵器を輝かすと、敵はたちまち瓦解がかいしてしまい、またたくうちに妖気ようきは静まった。牛馬を休ませ、心安らかに大和やまとに帰り、戦いの旗を収め武器を集めて、戦勝を祝い飛鳥の宮におとどまりなされた。そして西とりの年二月に、浄御原の宮殿で即位なされた。

ここにおいて、天皇は、「私が聞くとところによると、諸家のもたらした『帝紀』と『旧辞』きゅうじ（古い記録）は、既に真実すてと違い、偽りいつわを多く加えているという。今この時において、その誤りを改めないならば、幾年いくねんも経たないうちにその本旨ほんしは滅びてしまうであろう。この『帝紀』と『旧辞』はすなわち国家組織の根本となるものであり、天皇の政治の基礎となるものである。それゆえ『帝紀』と『旧辞』をよく調べ正し、偽りけずを削り真実を定めて編集し、後世に伝えようと思う」と仰せられた。

問い 下線部の戦いの名称を明らかにしながら、戦いに勝利した天武天皇が歴史書の修正を命じた背景を説明しなさい。

4-Ⅱ 次の文章を読んで、あとの問いに答えなさい。

近年、カーボンニュートラルという言葉をよく聞きます。カーボンとは炭素、ニュートラルとは中立を意味し、二酸化炭素など温室効果ガスの排出^{はいしゅつ}を実質ゼロにするとともに、それによって地球温暖化の進行を防ぐ取り組みを指します。カーボンニュートラル実現に向けて、世界各国ではどのような目標を示しているのでしょうか。アメリカやEUは2050年までの実現^{かか}を掲げました。また、世界最大の温室効果ガス排出国である中国も、2060年までに二酸化炭素の排出量を実質ゼロにすることを表明しています。日本では2030年までに温室効果ガスの排出量を2013年に比べ46%減らし、2050年には実質ゼロにするという目標を掲げています。

このように世界各国でカーボンニュートラル実現に向け目標を掲げていますが、そのために経済発展を妨げてしまうのではないかという不安もささやかれています。一方で、カーボンニュートラルの促進^{そくしん}がビジネスチャンスを生むという考え方もあります。

問い カーボンニュートラルの達成と経済の発展を両立させるために、私たちはどのようなことができるのでしょうか。次のグラフを参考に、自分なりの考えを書きなさい。

著作権の関係上、非表示にしています。



2023年度 入学試験問題 社会 解答用紙 中【2月1日午前】

※解答は解答用紙の所定の解答欄にていねいに記入しなさい。

1	問1	月 日				問2				
	問3	(1)	A	B			C	(2)		
	問4	問5		問6	(1)	(2)				


2	問1	問2		問3	(1)	貿易		(2)			
	問4	問5		A	B						
	問6	問7									

3	問1	問2		(1)			(2)		
	問3	(1)			(2)	問4		問5
	問6	A	B							

4	I									
---	---	--	--	--	--	--	--	--	--	--

4	II									
---	----	--	--	--	--	--	--	--	--	--

↓ここにシールを貼ってください↓



231414

受験番号		
.....