

I 次の文を読み、後の問いに答えなさい。

日本は太平洋北西部に位置する島国で、隣り合う国との < X > は海上にあります。島とは、水域によってまわりを完全に囲まれた陸地をさし、国土交通省「日本の島嶼の構成」(2022年4月1日現在)によれば、日本は6852の島からなり、そのうち421島に人が住んでいます。主な島として、面積の広い順に、①本州、北海道、九州、四国、島、国後島、沖縄島などがあります。②都道府県庁所在都市のある5つの島を本土や本島と呼び、その他の島を離島と呼びます。

1953年7月に、「離島振興法」が制定され、離島として指定された地域では、電気・水道・港湾・漁港・道路の整備、医療・教育などの環境の改善が、国からの補助によって進められることになりました。ただし③奄美群島や 諸島、沖縄については、離島振興法の対象ではなく、それぞれ「奄美群島振興開発特別措置法」、「 諸島振興開発特別措置法」及び「沖縄振興特別措置法」という法律に基づき振興が図られています。

2007年4月には、我が国の④< Y >、排他的経済水域などを適切に管理する必要性が増大していることから、「有人 < X > 離島法」が施行されました。< X > に近い人の住む島は、漁業、海洋資源の調査、< Y > の警備などに関わる活動の拠点として重要な役割を果たしています。北海道の礼文島や石川県 半島沖の舢倉島、⑤日本海で面積が最も大きい島、大韓民国から50kmほど離れた位置にあって江戸時代には朝鮮との交流の窓口だった 、潜伏キリシタンの集落が世界遺産に登録されている 列島などがその例です。これらの島々では、航路・航空路運賃の引き下げなど、生活を便利にし、島の経済を活発にするための取り組みが法律に基づき進められています。

島の成り立ちはさまざまです。⑥喜界島や与論島はサンゴ礁が隆起してできた島で、諏訪之瀬島や 諸島の西之島は火山活動によってできた島です。2021年8月13～15日には、 諸島の硫黄島南方で海底火山の「福德岡ノ場火山」が大規模な噴火を起こし、新しい島ができましたが、その後消滅しました。この噴火では多量の < Z > が火山周辺の海面を埋め尽くしました。海流によって西に移動した < Z > は奄美群島、沖縄島などに漂着し、観光業や⑦漁業への影響が心配されました。

問1 文中の空欄 < X > ～ < Z > に適する語句を、それぞれ漢字2文字で答えなさい。

問2 文中の空欄 ～ に適する地名を漢字で答えなさい。

問3 下線部①について、本州の男鹿半島に北緯40度を示す碑があります。本州の男鹿半島とほぼ同じ緯度にある都市として最も適当なものを次のア～エから1つ選び、記号で答えなさい。

- ア ロンドン (イギリス) イ ニューヨーク (アメリカ合衆国)
ウ リヤド (サウジアラビア) エ キャンベラ (オーストラリア)

問4 下線部②について、次の A～C の説明文に当てはまる都道府県庁所在都市を下の地図の ア～コ から1つずつ選び、それぞれ記号で答えなさい。

- A 日本で最も工業出荷額の多い都道府県の都道府県庁所在都市で、日本最大の輸出額をほこる貿易港がある(2020年)。
- B 江戸時代には阿武隈川の水運と養蚕でさかえた城下町で、今日県内では3番目に人口が多い都市である。
- C 三大都市圏以外の都道府県庁所在都市としては、人口が最も多い都市で、ビールなどの食品工業がさかんである。



注) 図には、一部地域が描かれていません。

問5 下線部③について、この3地域が離島振興法の対象とはならず、それぞれ特別な法律がつけられた理由を説明しなさい。

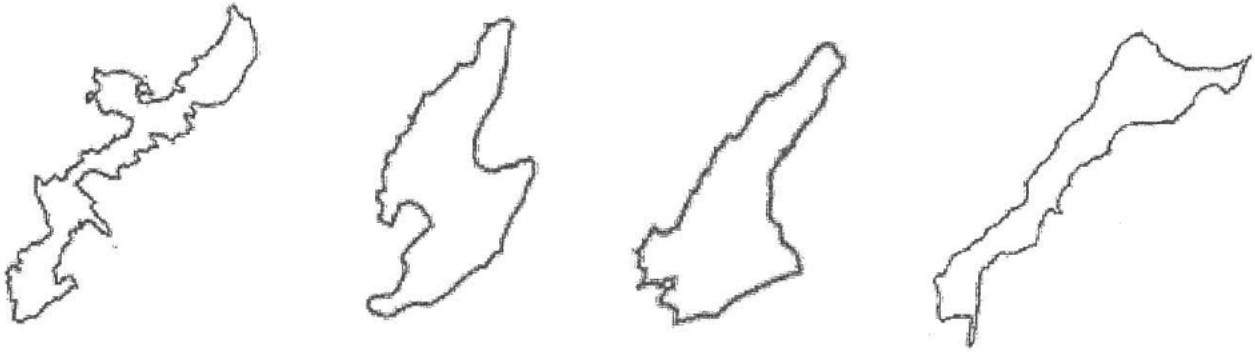
問6 下線部④について、次の A～C の文の正誤の組み合わせとして正しいものを下の ア～カ から1つ選び、記号で答えなさい。

- A 自国の沿岸から200海里までは、天然資源開発などの権利が認められている。
- B 領土と海岸から12海里までの海域の上空を領空という。
- C 許可なく、ほかの国の排他的経済水域に入ってはいけないことになっている。

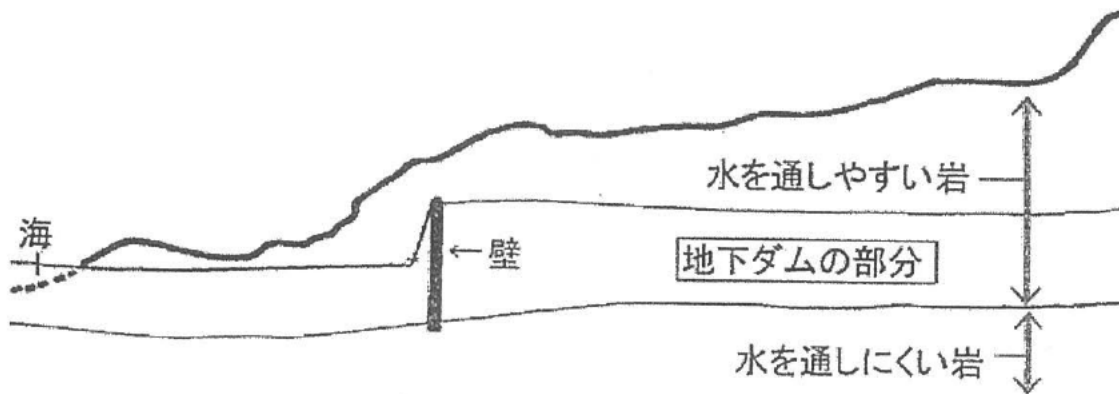
- | | | | | | | | |
|---|-------|-------|-------|---|-------|-------|-------|
| ア | A : 正 | B : 正 | C : 誤 | イ | A : 正 | B : 誤 | C : 正 |
| ウ | A : 正 | B : 誤 | C : 誤 | エ | A : 誤 | B : 正 | C : 正 |
| オ | A : 誤 | B : 正 | C : 誤 | カ | A : 誤 | B : 誤 | C : 正 |

問7 次の図は日本に属する島です。下線部⑤に該当する島を ア～エ から1つ選び、記号で答えなさい。縮尺も方位も一定ではありません。

ア イ ウ エ



問8 下線部⑥について、喜界島では次の図のように地中に壁^{かべ}を設けて地下にダムをつくっています。喜界島で地下ダムを利用する理由と地下ダムのしくみを、図を参考にして説明しなさい。(問8と問9の解答場所に注意すること)



問9 下線部⑦について、次の表は、神奈川県、佐賀県、長崎県、北海道の漁業に関する統計をまとめたものです。神奈川県、佐賀県、長崎県に当てはまるものを表中の ア～エ から1つずつ選び、それぞれ記号で答えなさい。
(問8と問9の解答場所に注意すること)

著作権の関係上、非表示にしています。

II 次の文を読み、文中の空欄 [1] ~ [6] に適する語句を漢字で答えなさい。
また、下線部について後の問いに答えなさい。

2022年2月末からのロシアによる①ウクライナ侵攻の影響は、世界中に広がりました。それともなあって、小麦価格が上昇しました。そもそも侵攻前から高温や乾燥がもたらした不作などで、世界的に小麦価格は上がっていました。ロシアとウクライナだけで世界の小麦輸出量の4分の1を占めていたため、世界に大きな影響を与えました。②日本は小麦の多くを輸入に頼っているため、小麦価格の上昇は大きな問題です。日本ではいつから小麦を栽培し、いつから小麦を食べていたのでしょうか。「小麦の歴史」について考えてみましょう。

小麦は人類が古くから栽培していた植物の1つで、今から1万年以上前にはすでにつくられていました。日本には、③弥生時代に中国や朝鮮半島から伝来したといわれています。④今から1800年ほど前の水田跡で有名な静岡県の遺跡からは、炭化した小麦の種子も出土しています。⑤5世紀ころまでには米とともに麦類やあわ、ひえなども主食として栽培されるようになりました。日本最古の歌集とされる『 [1] 』にも麦を詠んだ歌があります。奈良時代には朝廷が麦の栽培をすすめており、⑥平城宮跡からも「小麦五斗」と記された木簡が見つかっています。鎌倉時代中期から [2] が始まり、稲の裏作として小麦が栽培されるようになりました。小麦の栽培は、江戸時代になると本格的に全国へ普及し、特に米の栽培に向いていない地域で小麦が生産されました。

江戸時代には、 [3] を起点とする五街道など全国各地を結ぶ道が整備され、航路も発達しました。交通の発達にもなあって、茨城の小麦が千葉の銚子にしょうゆの原料として運ばれたり、海路によって九州の小麦が大阪に運ばれたりしました。また、 [4] 参りなど信仰と楽しみをかねた旅が流行するなかで、 [4] 神宮には各地から来た農民が稲穂や小麦の種子を納めたといわれています。

小麦を使った麺も生まれました。うどんやそうめんの起源は、唐からもたらされた菓子だとされています。現在の形とは違う団子のようなもので、細長く切って食べるようになったのは⑦宋の食文化の影響だといわれています。麺の形になってからも、僧侶や貴族が食べる高級品であり、庶民の食べ物ではありませんでした。

小麦を使った菓子については、平安時代、疫病退散のための儀式に小麦・卵・砂糖を使った「唐板(からいた)」というせんべいが供えられたという記録があります。疫病退散の儀式は15世紀後半に京都で起きた [5] の乱で途絶えてしまいましたが、乱の後に唐板は復活し、現代まで受け継がれてきました。また、16世紀にはヨーロッパ人宣教師が日本を訪れ、⑧キリスト教とともにカステラやビスケットなどを伝えました。その多くはポルトガル人やスペイン人との [6] 貿易によってもたらされたため、これらのお菓子を「 [6] 菓子」と呼びます。⑨織田信長はヨーロッパからの物産品を非常に喜んだといわれています。

16世紀半ばにポルトガル人がもたらしたパンは、⑩江戸時代には一般に普及することはありませんでした。⑪1842年に伊豆の代官江川太郎左衛門が日本で初めてパンを焼いたと

されていますが、日本で「パン食」が広がり始めたのは⑫明治時代に入ってからのことです。⑬日本が開国すると、アメリカ産の小麦粉がたくさん流入するようになりました。しかし欧米の食文化がすぐに日本で広まったわけではなく、日本人は米食文化を守り続けました。朝食にパンを食べることが一般的になったのは⑭第二次世界大戦後のことで、アメリカのライフスタイルが日本でも広がり、食パンが流行するようになりました。パンやパスタには外国産の小麦の方が向いていることもあり、⑮国産小麦の生産は落ち込みました。しかし、1970年代の世界的な穀物の不作をきっかけに、国内で自給できるように生産拡大や品種改良を目指す政策がとられました。

小麦に関わらず、私たちの食卓は、自国から遠く離れた地域でつくられたものであふれています。さまざまな要因でモノやヒトの流れが滞ると、多くの人々の生活に影響がでます。世界中に適切に食料が供給されるよう、平和を願うばかりです。

- ① この国の位置として正しいものを次の地図の ア～オ から1つ選び、記号で答えなさい。



- ② 現在、日本が最も多く小麦を輸入している国を次の ア～エ から1つ選び、記号で答えなさい。

ア アメリカ イ カナダ ウ 中国 エ オーストラリア

- ③ 吉野ヶ里遺跡（佐賀県）からの出土品のうち、弥生時代の出土品として正しくないものを次の ア～エ から1つ選び、記号で答えなさい。

ア 祭りのときに使われたと考えられる銅鐸

イ 矢じりがささった人骨

ウ 筒型や人型などさまざまな形の埴輪

エ 中国製の貨幣や、南方の貝でつくった腕輪

- ④ この遺跡の名称として正しいものを次の ア～エ から1つ選び、記号で答えなさい。

ア 板付遺跡 イ 登呂遺跡 ウ 三内丸山遺跡 エ 菜畑遺跡

- ⑤ 5世紀の日本の様子を説明した文として正しいものを次の ア～エ から1つ選び、記号で答えなさい。

ア 中国の後漢王朝の皇帝から金印さずを授けられた。

イ 『古事記』や『日本書紀』が完成した。

ウ 大和朝廷の影響力が、九州から関東まで及んだ。

エ 有力者の墓である古墳こふんがつくられ始めた。

- ⑥ 平城京の位置として正しいものを次の地図の ア～カ から1つ選び、記号で答えなさい。なお、地図上の点線は現在の府県の境界線をあらわしています。



- ⑦ 宋王朝が存在したころの日本の出来事として正しいものを次の ア～エ から1つ選び、記号で答えなさい。

ア 豊臣秀吉が、二度にわたって朝鮮に兵を送った。

イ 源頼朝が、石橋山の戦いで敗れた。

ウ 徳川家光が、祖父の家康をまつる日光東照宮とうしやうぐうを建て直した。

エ 足利義満が、京都の北山に金閣を建てた。

- ⑧ 以下の A～D は、日本にキリスト教が伝わった後の出来事です。時代の古い順に並び、解答欄に従って答えなさい。

A：島原や天草で、キリスト教の信者を中心とした大規模な一揆いつきが起こった。

B：天正遣欧使節として、4人の少年たちがローマに送られた。

C：オランダ人を出島に移し、鎖国さこくが完成した。

D：徳川家康が、キリスト教の布教を全国で禁止した。

- ⑨ 織田信長は1560年に尾張国おわりで今川義元軍を破りました。この戦いの名称を漢字で答えなさい。

- ⑩ 江戸時代以前の武士は主人のために戦うことを義務づけられていました。江戸時代に入り、戦いがほとんど起こらなくなると、将軍と大名との主従関係を確認かくにんするために、将軍は大名たちに戦うことの代わりにどのようなことを命じましたか。以下の語句をすべて使って60字以内で説明しなさい。

[江戸 領地 河川かせん]

⑪ 19世紀前半の出来事として正しいものを次の ア～エ から1つ選び、記号で答えなさい。

ア もと幕府の役人だった大塩平八郎^{へいはちろう}が、幕府^{じゆふ}に対して大阪で兵をあげた。

イ 一国一城令が出され、大名が住む城以外は壊されることになった。

ウ 貧しい人々のために医療をほどこす小石川養生所^{せいじやうじやうじやうじやう}がつけられた。

エ 徴兵令^{ちやうへいれい}が出され、20歳^{さい}以上の男子が3年以上軍隊に入るようになった。

⑫ 明治政府は民間の会社を育成することにも力を入れました。日本初の銀行や多くの会社の設立にたずさわり、日本経済の発展に力を尽くした実業家の名前を漢字で答えなさい。

⑬ 開国前後のことがらについて述べた、次の A～C の文の正誤の組み合わせとして正しいものを下の ア～カ から1つ選び、記号で答えなさい。

A ペリーの艦隊^{かんたい}は、アメリカ合衆国の西海岸から太平洋をわたって、日本の浦賀^{うらが}に來航した。

B アメリカからの開国要求について、幕府は朝廷に報告するとともに、広く大名からも意見を求めた。

C 外国から多くの食品が輸入されるようになると、米が余って価格が下がり、農民の生活が苦しくなった。

ア A : 正 B : 正 C : 誤 イ A : 正 B : 誤 C : 正

ウ A : 正 B : 誤 C : 誤 エ A : 誤 B : 正 C : 正

オ A : 誤 B : 正 C : 誤 カ A : 誤 B : 誤 C : 正

⑭ 第二次世界大戦について述べた、次の A～C の文の正誤の組み合わせとして正しいものを下の ア～カ から1つ選び、記号で答えなさい。

A 1939年にドイツがソビエト連邦^{れんぽう}を攻撃^{こうげき}して、第二次世界大戦が始まった。

B 日本は1940年に、ドイツ・イタリアと同盟を結んだ。

C 日本は1941年にマレー半島を攻撃して、イギリスとの戦いを始めた。

ア A : 正 B : 正 C : 誤 イ A : 正 B : 誤 C : 正

ウ A : 正 B : 誤 C : 誤 エ A : 誤 B : 正 C : 正

オ A : 誤 B : 正 C : 誤 カ A : 誤 B : 誤 C : 正

⑮ 次の ア～オ は小麦^{ふく}を含む5つの農作物に関して、その収穫^{しゆかく}量の多い順に都道府県名を並べたものです。小麦に当てはまるものを表中の ア～オ から1つ選び、記号で答えなさい。

著作権の関係上、非表示にしています。

Ⅲ 次の 1～5 の文を読み、文中の空欄 [1] ～ [5] に適する語句・数字を答えなさい。 [1] は解答欄に従って答えなさい。 [2] ～ [5] は、略称は用いず、漢字で答えなさい。また、下線部についてそれぞれの問いに答えなさい。

1 日本国憲法が施行された [1] は憲法記念日です。日本国憲法は大日本帝国憲法を①改正するという手続きを経て、制定されました。

問1 文中の下線部①に関連して、国民投票法が2007年に制定されました。憲法改正についての記述として誤っているものを次の ア～エ から1つ選び、記号で答えなさい。

ア 衆議院及び参議院で総議員の3分の2以上の賛成によって、改正が発議される。

イ 憲法改正には、国民投票で有効投票数の過半数が賛成する必要がある。

ウ 国民投票法は、投票年齢^{ねんれい}を18歳以上としている。

エ 憲法改正が成立すると、内閣総理大臣の名で、天皇はこれを公布する。

2 日本国憲法の三大原則は、国民主権・基本的人権の尊重・②平和主義^{じやうきやう}です。基本的人権については、憲法制定時には想定されていなかった状況^{じやうきやう}に対して「新しい人権」が主張されることがあります。プライバシーの権利の主張を背景に、2003年に [2] 法が制定されました。

問2 文中の下線部②に関連する記述として誤っているものを次の ア～エ から1つ選び、記号で答えなさい。

ア 日本国憲法第9条は、国際紛争^{ふんそう}を解決する手段としての交戦権を否定しているが、自衛権を否定しているわけではない、というのが政府の見解である。

イ 1950年に朝鮮戦争が起こり、GHQ（連合軍最高司令官総司令部）の指令によって、自衛隊の前身である警察予備隊がつくられた。

ウ 自衛のための必要最小限度の戦力は保持できる、というのが政府の見解である。

エ 自衛隊の任務には、防衛のほか、災害派遣や国際協力などが含まれる。

3 「主権」ということばにはいくつかの意味があり、「③国民主権」や「主権国家」のように使われます。選挙で投票することも主権の行使の1つです。近年、投票率の低下が指摘^{してき}されており、投票率を向上させるためにさまざまな手段がとられています。投票日以前に、自分の選挙区内の指定された投票所で、投票日と同じ方法で投票できる制度を [3] 投票といいます。

問3 文中の下線部③の主権の意味として正しいものを次の ア～エ から1つ選び、記号で答えなさい。

ア 国の政治のあり方を最終的に決める権力のこと。

イ 独立していて、他の国や勢力に支配されていないこと。

ウ 国民が国の代表であるということ。

エ 統治権（立法権・行政権・司法権）が及ぶということ。

4 国の一般会計予算（2020年度）の歳入の税収の中で1番大きな割合を占めている税目は 税でした。④歳出の主要経費別分類の中で、1番大きな割合を占めているのは社会保障関係費です。


問4 文中の下線部④に関連して、国の一般会計予算（2020年度）の歳出の主要経費別分類で、2番目に多いものを次のア～エから1つ選び、記号で答えなさい。

- ア 公共事業関係費 イ 国債費
ウ 教育及び科学振興費 エ 地方交付税交付金等

5 ロシアによるウクライナ侵攻などによって、⑤国際連合のあり方が問われているといえます。国連の主要機関のうち、国際平和と安全の維持、国際紛争の解決などで重要な役割を果たしているのが です。 は国連加盟国に対して強い権限をもっています。

問5 次のグラフは文中の下線部⑤の分担金の国別割合をあらわしています。aはアメリカです。bに当てはまる国名を次のア～エから1つ選び、記号で答えなさい。

- ア イギリス イ ドイツ ウ 日本 エ 中国



[2020-2022年]

I 問8と問9の解答場所に注意すること

問1	X		Y		Z			
問2	1	島	2	諸島	3	半島	4	
	5	列島	問3		問4	A	B	C
問5								
問6		問7		問9	神奈川	佐賀	長崎	
問8								

II

1		2		3		4											
5		6		①		②	③										
④		⑤		⑥		⑦											
⑧	→	→	→	⑨	の戦い												
⑩																	
⑪		⑫		⑬		⑭		⑮									

III

1	月	日	2	法	3	投票	4	税		
5		問1		問2		問3		問4		問5