



2023年度 第1回入学試験問題

# 社 会

時 間 40 分

[ 注 意 ]

1. 放送で指示があるまで、この冊子きつしを開いてはいけません。
2. この冊子は26ページまであります。ページが足りなかったり、順序がおかしかったり、また印刷が不鮮明ふせんめいで読めない部分があったりした場合には、手をあげて監督かんとくの先生に申し出なさい。
3. 問題についての質問は一切受け付けません。

(このページは空白です)

(このページは空白です)

[1] 次の問いに答えなさい。

問1 「<sup>だつたんそ</sup>脱炭素社会実現に向けた社会や産業構造の変革」を指す言葉を、次の**ア**～**オ**の中から1つ選び、記号で答えなさい。なお、昨年7月、政府はこうした取り組みをすすめるため、担当大臣の新規設置人事を発令しています。

**ア** DX

**イ** GX

**ウ** CSR

**エ** ESG

**オ** LCA

問2 最近、テーマパークなどで、入園料やフリーパスの価格を<sup>じょうきやう</sup>状況に応じて変動させるダイナミックプライシングというしくみを取り入れるところが増えています。このしくみを使って、土休日は混雑して平日は空いている<sup>す</sup>施設が、入場客をどの曜日にも平均的に来場するように<sup>せうどう</sup>誘導するためには、価格をどのように設定すればよいでしょうか。次の文章の（ 1 ）・（ 2 ）にあてはまる言葉を答えなさい。

平日は以前の定価よりも（ 1 ）し、土休日は以前の定価よりも（ 2 ）する。

問3 日本国憲法第41条の（ ）にあてはまる語句を漢字で答えなさい。

国会は、国権の（ ）機関であつて、国の<sup>かいいつ</sup>唯一の立法機関である。

問4 通常、「反対」の対義語は「賛成」であるにもかかわらず、沖縄での辺野古新基地建設について議論する際には、選挙などで、「反対」派と「容認」派と表現されることがあります。なぜ「賛成」派ではなく「容認」派と表現するのか、その理由を自分なりに考えて20字以上40字以内で説明しなさい。ただし、句読点も字数に含めます。

[2] 次の文章を読んで、あとの問いに答えなさい。

日本人の人名について、歴史をひもときながら考えてみましょう。

日本では昔、貴族・武家などの男性は、今の成人式にあたる（ 1 ）のとき、それまでの名前である「幼名」とは別に「諱」をもらいました。この諱は正式な名前、儀式などのときに主君が呼びかけたり、本人が神前で誓ったり、公文書に署名したりするときに用いました。この習慣は①中国などアジアの国々でもみられました。諱は日本ではほとんど漢字2字です。時には主君など目上の人から、その諱の漢字1字をもらうことがあり、このことを「偏諱」といいます。たとえば、足利高氏は②鎌倉幕府を倒した功績により（ 2 ）から諱の尊治（親王）の1字をもらって足利尊氏に改名しました。

「諱」は「忌み名」という当て字があり、この名を避けて呼ぶために、「号」や「字」などの別名を名乗ったり、また③律令制の官職名である④百官名を用いて「仮名（呼び名）」を名乗ったりしていました。『枕草子』の作者で知られる（ 3 ）は、本人の名が伝わっておらず、彼女の近親者の「仮名」による名だといわれています。中世以後、朝廷は財源を補うため金銭と引き換えに武士の任官をおこない、しだいに百官名は武家官位として形式的なものになりました。

さて、（ 2 ）のように「〇〇天皇」という呼称は「追号」といい、生前のその天皇にゆかりのある地名や名前にあやかって死後に決められ贈られます。奈良時代までの場合、諱に対して「諡号（諡）」ともよばれました。明治維新で一世一元の制が定められ、元号が追号に用いられるようになったため「明治天皇」などとよばれますが、それは死後始めて使われますので、在位中（生前）は「今上天皇」や「天皇（陛下）」とよびます。つまり、歴史の教科書に載っている天皇は⑤死後の諡号・追号で表現され、生前そのようによばれていないわけですが、（ 2 ）は自ら追号を名付けた唯一の例外です。これは、摂関政治期に藤原氏をおさえて政治をおこなった天皇にあやかりたかったために名付けたといわれています。

古墳時代、天皇（古墳時代以前は大王）は自分に仕える豪族たちに「\*氏名」を与える唯一の存在であったため、天皇やその一族には 。このことは世界の為政者としてはめずらしい例です。氏名が与えられた豪族の名は、氏名と名の間に“の”をつけて読みます。また、その地位や役職に応じて「姓」という称号も与えられました。たとえば蘇我馬子は、最初の公式な歴史書である『（ 4 ）』では「蘇我大臣馬子」と表記されています。氏名はほかに物部氏の大連、藤原氏の朝臣などが有名です。

中世になると、同じ氏名をもつ一族は諸家に分裂し、“家”を表す「名字（苗字）」（以下、名字）を名乗るように変化しました。たとえば、武家の棟梁である源氏という氏名の子孫として、源氏出身の足利・新田・徳川などが有名です。摂関政治で全盛期を築き、京都宇治に平等院をひらいた（ 5 ）の子孫は、鎌倉時代に一条・二条・九条・近衛・鷹司に分かれ、「五摂家」とよばれました。

江戸時代、名字を名乗るのは武士の特権でしたが、⑥明治時代のはじめに一般の民衆もみな名字をもつことが法令によって義務づけられました。このとき多くの名字が新たに作られたようで、古来のものとあわせ、日本の名字は非常に種類が多いことで知られます。お隣の⑦韓国は逆に名字の種類が非常に少なく、国や時代によって人の名前にはさまざまな特色があることがわかります。

\* 氏名：古代の豪族・貴族の血縁集団を指す名で、中世以後に名字に分かれました。

問1 文中の（ 1 ）～（ 5 ）にあてはまる語句や人名を漢字で答えなさい。

問2 文中の  に入る文を、文中の語句を用いながら答えなさい。

問3 下線部①に関連して、中国などアジアの国々との貿易に関する次の4つの出来事を、時期の早い順に並べかえた場合、3番目になるものを、**ア**～**エ**の中から選び、記号で答えなさい。

**ア** 東南アジア諸国に日本町ができるほど朱印船貿易がさかんになった。

**イ** 幕府の将軍が朝貢の形をとって中国と貿易をおこない、銅銭や生糸が輸入された。

**ウ** 鎖国政策がおこなわれるなか、対馬藩を介して朝鮮から木綿が輸入された。

**エ** 大輪田泊（今の神戸港）などが整備され、中国から宋銭や生糸が輸入された。

問4 下線部②について述べた文として正しいものを、次のア～エの中から1つ選び、記号で答えなさい。

- ア 将軍からの奉公に報<sup>むく</sup>いるために、御家人は御恩をおこなった。
- イ 将軍はしだいに権力を失い、主な政務は管領によっておこなわれた。
- ウ 一揆防止や喧嘩<sup>けんか</sup>両成敗を主な内容とする武家法が定められた。
- エ 困窮<sup>こんきやう</sup>した御家人を救済するため、借金を帳消しにする徳政令を出した。

問5 下線部③に関連して、大宝律令に定められた内容として正しいものを、次のア～エの中から1つ選び、記号で答えなさい。

- ア 班田収授法にもとづき、戸籍に登録された人々に口分田が与えられた。
- イ 太政官が政務の中心で、土地をめぐる訴訟<sup>そしやう</sup>は問注所であつかった。
- ウ 租・庸・調はすべて成人男性のみに課し、都まで運ばせた。
- エ 自分で開墾<sup>かいこん</sup>した土地は永久に私有が認められたため、荘園が増えた。



問6 下線部④に関連して、本文および次の表から読み取れる内容として正しいものを、あとのア～エの中から1つ選び、記号で答えなさい。

人名	*官職名	官職名の本来の職務・エピソード
源頼朝	右兵衛権佐 <sup>うひょうまごんのすけ</sup>	兵衛府（武官）の次官 <sup>すけ</sup> 。頼朝は、兵衛府の唐名の「武衛」ともよばれるが、のち征夷大將軍に任命される。
源実朝	右大臣	右大臣の唐名の「槐門 <sup>かいもん</sup> 」が『金槐和歌集 <sup>きんかい</sup> 』の由来。
徳川光圀 <sup>みつくに</sup>	中納言	中納言の唐名の「黄門 <sup>かうもん</sup> 」から「水戸黄門」とよばれる。
大石良雄 <sup>よしお</sup>	内蔵助 <sup>くらひのすけ</sup>	内蔵寮 <sup>くらりょう</sup> （宮中の宝物管理をあつかう）の次官 <sup>すけ</sup> 。「忠臣蔵 <sup>ちゆうしんくら</sup> 」（赤穂浪士の討ち入り）で有名。
大岡忠相 <sup>ただすけ</sup>	越前守 <sup>えちぜんのかみ</sup>	越前国（現在の福井県）の国司の長官 <sup>かみ</sup> 。時代劇やドラマの主人公「大岡越前」で有名。
井伊直弼	掃部頭 <sup>かもんのかみ</sup>	掃部寮 <sup>かもんのかみ</sup> （宮中清掃 <sup>せいそう</sup> や儀式準備をあつかう）の長官 <sup>かみ</sup> 。横浜市の桜木町駅近くにある掃部山公園 <sup>かもんやま</sup> の由来（開港の恩人であるため）。

\* 官職名：朝廷からの任官だけでなく、一族で名乗っているものも含めています。

- ア 江戸時代になっても武士は、名乗っている官職の職務を実際おこなっていた。
- イ 征夷大將軍や大老になった者の官職は非常に格が高く、ほかと大きな差がある。
- ウ 武士への任官は、百官のなかでも軍団関係や国司など武官に限られた。
- エ 武士の名前の語尾に「すけ」が多いのは、律令制度の官職名のなごりである。

問7 下線部⑤について、有名な僧に死後朝廷が贈る「大師」号も諡<sup>おくりな</sup>で、空海に「弘法大師」、最澄に「伝教大師」が贈られたことは有名です。この2人の僧について述べた文a～dのうち、正しいものの組み合わせを、あとの**ア**～**エ**の中から1つ選び、記号で答えなさい。

- a 最澄・空海ともに阿弥陀如来を信仰して極楽浄土への往生を説いた。
- b 空海は高野山に金剛峯寺をひらき、山奥<sup>やまおく</sup>の寺で厳しい修行<sup>しゅぎょう</sup>をおこなった。
- c 最澄は平安京内に教王護国寺をひらき、唐から戒律<sup>かいりつ</sup>を伝えた。
- d それまでの仏教と異なり、2人がひらいた仏教の宗派は密教とよばれた。

**ア** a・c

**イ** a・d

**ウ** b・c

**エ** b・d

問8 下線部⑥の時代に活躍<sup>かつやく</sup>した政治家とその説明の組み合わせとして正しいものを、次の**ア**～**エ**の中から1つ選び、記号で答えなさい。

- ア** 伊藤博文 : 薩摩藩出身で、日本初の首相になり、のち憲法制定の中心となった。
- イ** 小村寿太郎 : ポーツマス条約を結んだ外相で、のち関税自主権を回復した。
- ウ** 板垣退助 : 自由民権運動の中心となり、のち首相となったが暗殺された。
- エ** 大久保利通 : 長州藩出身で、維新の中心だったが、のち西南戦争で戦死した。

問9 下線部⑦に関連して、近現代の日韓・日朝関係について述べた文として正しいものを、次の  
**ア～エ**の中から1つ選び、記号で答えなさい。

- ア** 朝鮮半島をめぐって江華島<sup>こうかとう</sup>事件が起こり、日本は朝鮮半島への進出を断念した。
- イ** 日清戦争後に日本は韓国を植民地化し、日露戦争が起こる前に韓国を併合した。
- ウ** 日本が太平洋戦争で敗れたあとに、韓国は社会主義国として独立した。
- エ** 日本と韓国は、サンフランシスコ会議ののち、日韓基本条約で国交回復した。

[3] 次の文章を読んで、あとの問いに答えなさい。

聖光学院の体験型学習講座の1つに、「里山」における自然環境<sup>かんきょう</sup>を体験する講座があります。この「里山」とは、①山林・人里と隣り合<sup>となりあ</sup>っており、樹林や農地などが含まれた場所のことをいいます（図1参照）。そして、②「里山」における樹林や農地は、人里における人間生活とのかかわり合いをもつことで作られてきました。つまり、「里山」における自然環境は、人里に住む人間の手によって管理されることで、保持され続けてきたのです。

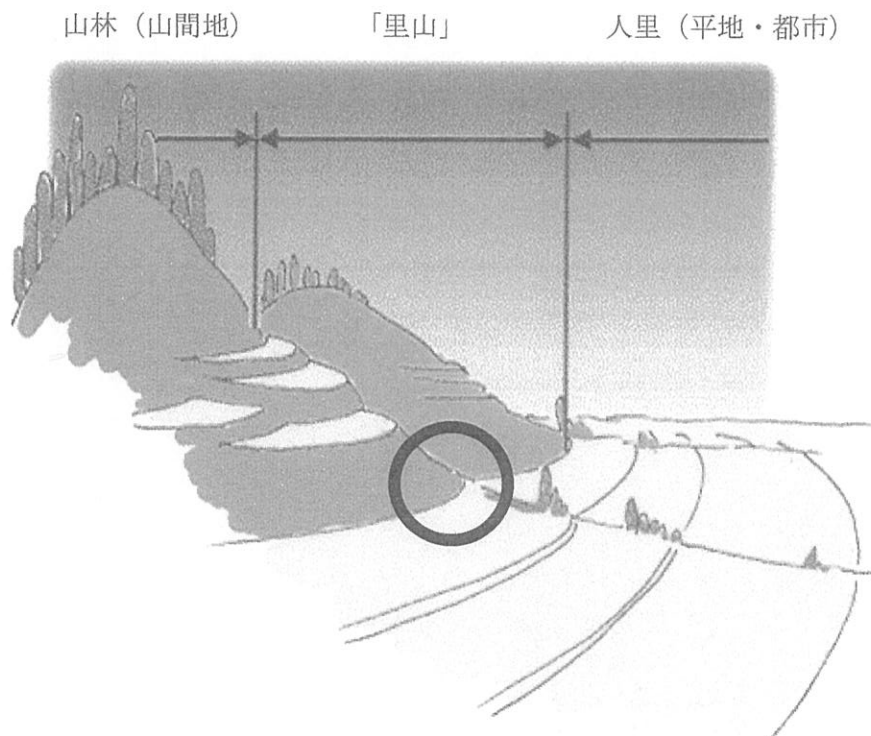


図1 山林と「里山」，人里の位置関係

(農林水産省ウェブサイトより作成)

しかし、日本が③経済的に発展すると、人々の生活スタイルの変化によって、「里山」と人里の人間生活とのかかわり合いが減少しました。また、人里にあった④都市の範囲が拡大し、「里山」を切り開き、住宅地などが造成されるようになりました。

現在に残る「里山」は、人間生活とのかかわり合いは減少したものの、人里に一番近い自然環境として存在しています。新年度になって、みなさんと一緒に身近な「里山」に分け入って、その自然環境を体験・学習できる日がくることを、心待ちにしています。

(このページは空白です)

問1 下線部①に関連して、次の4つの図は、各都道府県面積における、林野面積率の大きい6都道府県、小さい6都道府県、耕地面積率の大きい6都道府県、小さい6都道府県のいずれかを表したものです。このうち耕地面積率の大きい6都道府県を表したものを、次のア～エの中から1つ選び、記号で答えなさい。

著作権の関係上、非表示にしています。

著作権の関係上、非表示にしています。

問2 図1中の○の地点では、特徴のある地形が形成されています。その地形について述べた文として正しいものを、次のア～エの中から1つ選び、記号で答えなさい。

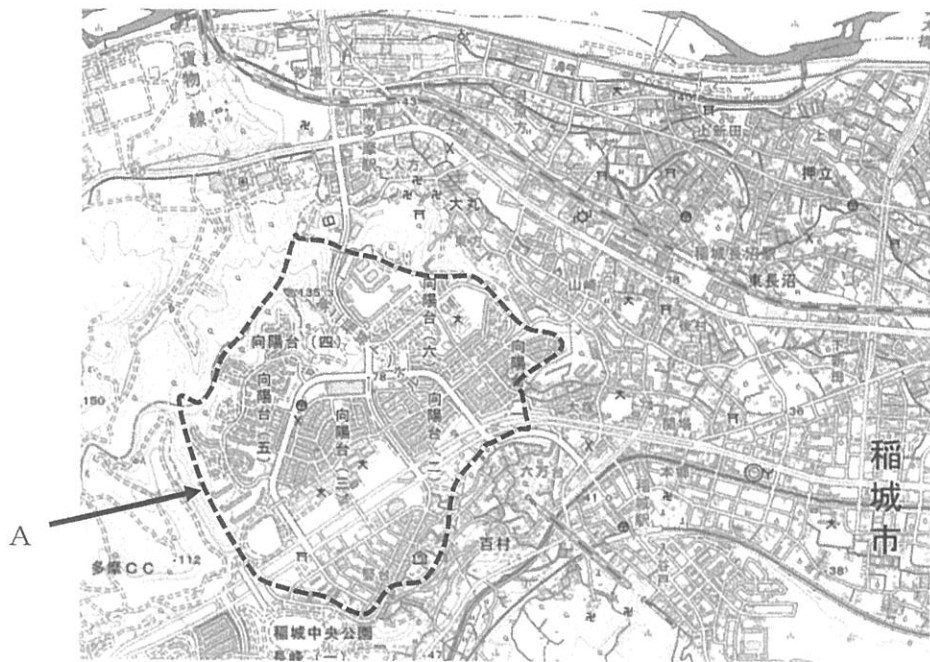
- ア ここは、河川の侵食作用が川の上流より強まるため、周囲が段丘状に削られた地形がみられる。
- イ ここは、河川の侵食作用が川の上流より強まるため、上流から下流に向けて三角形状に広がる地形がみられる。
- ウ ここは、河川の運搬作用が川の上流より弱まるため、上流から下流に向けて扇形に広がる地形がみられる。
- エ ここは、河川の運搬作用が川の上流より弱まるため、「里山」を切り開くようにV字形の谷がみられる。

問3 下線部②について、この具体的なことがらとしてふさわしくないものを、次のア～エの中から1つ選び、記号で答えなさい。

- ア 「里山」の樹林は伐採され、人里におけるエネルギー資源の一部をまかなっていた。
- イ 「里山」の樹林は降雨時に、その斜面が崩壊して土砂が流出するのを防ぐ役割をになっていた。
- ウ 「里山」の樹林は降雨時に、雨水の一時的な大量流出による洪水を防ぐ役割をになっていた。
- エ 「里山」の樹林は主に常緑樹で、その落葉を発酵させ、畑地の肥料の一部をまかなっていた。



問4 下線部③に関連して、経済的な発展は地形図の変化にも表れます。次の2つの地形図は1967年と現在における都市周辺（今の東京都いなぎ稲城市）の地形図です。この地形図中の変化について述べた文として誤っているものを、あとのア～エの中から1つ選び、記号で答えなさい。



(1/25000 地形図, 地理院地図より作成)

- ア 新しい貨物線や鉄道が開通し、新たな駅が建設され、周囲の建物の数も増加した。
- イ 点線部Aの内側の地域はかつて丘陵地であり、老人ホームや神社が新たに建設された場所である。
- ウ 現在の市役所は、かつて町役場が存在していた場所から移転している。
- エ 南多摩駅の西側には新たな道路が丘陵地を通るように建設され、その道路沿いに図書館ができた。

問5 下線部④に関連して、都市においては工業生産がさかんですが、その生産物の中には周囲の山林との関連をもつものがあります。次の写真A・Bについての説明文I・IIと、その生産物が作られている主な場所を示した図III・IVのうち、写真Aについて表したものの組み合わせとして正しいものを、あとのア～エの中から1つ選び、記号で答えなさい。



- I：この生産物は、山林から採取したものを素材とし、ろくろでひき削って形作られたものに、落葉樹からとった塗料を塗って乾燥させ、その後、模様を描いたものである。
- II：この生産物は、山林から採取したものを素材とし、ろくろでひき延ばして形作られたものに、灰や鉱物を溶かした薬品を塗って、焼いたものである。



(経済産業省「国が指定した伝統的工芸品 237 品目」より作成)

**ア** I : III

**イ** I : IV

**ウ** II : III

**エ** II : IV

問6 日本にある樹林は、その場所の気候や人による植林の影響<sup>せいぎょう</sup>などによって、その分布の範囲に特徴が表れます。次のA～Dの図は、エゾマツ、シラカバ（シラカンバ）、スギ、ヒノキのいずれかの、現在の生育地と植林されている地を示しています。また、あとのI～IVの説明文と雨温図は、エゾマツ、シラカバ、スギ、ヒノキのいずれかの樹林の特徴とA～Dの分布図中にある●の地点における雨温図を示しています。シラカバとヒノキにあてはまる正しい組み合わせを、あとのア～クの中から、1つずつ選び、記号で答えなさい。

著作権の関係上、非表示にしています。

著作権の関係上、非表示にしています。

**ア** A : III

**イ** A : IV

**ウ** B : III

**エ** B : IV

**オ** C : I

**カ** C : II

**キ** D : I

**ク** D : II

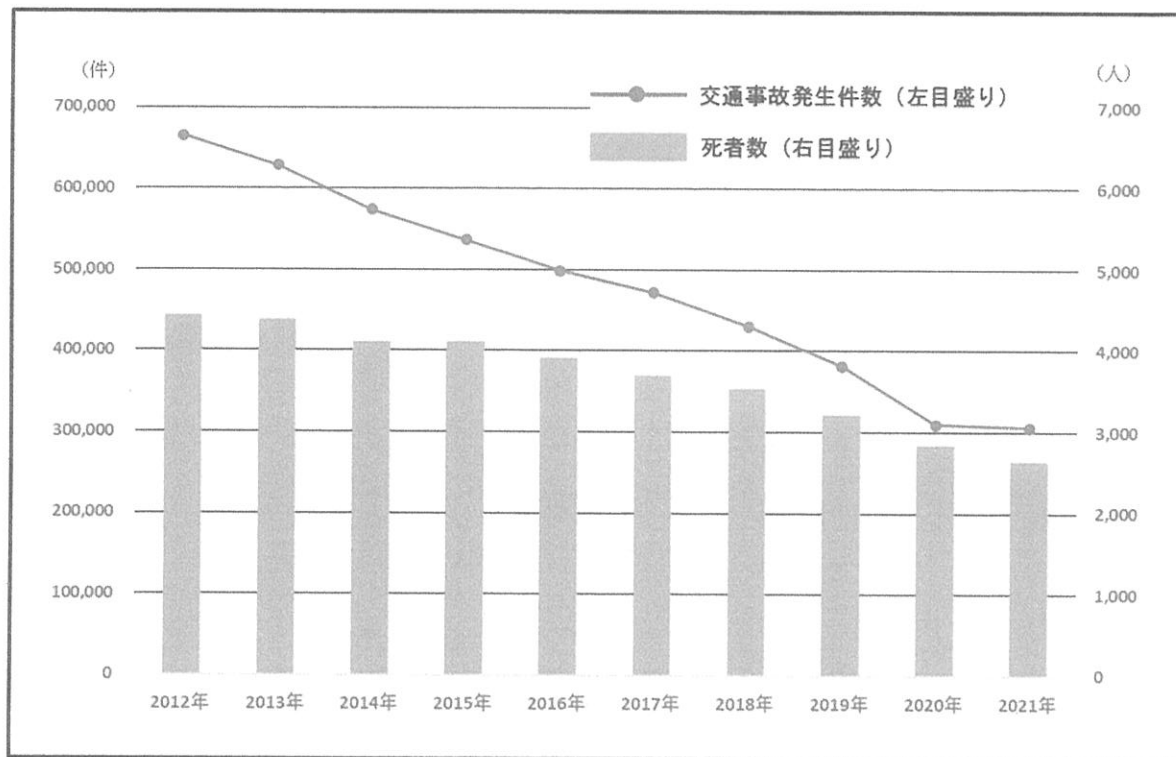
問7 近年、山林にいるサルやイノシシ、シカなどの野生動物が、人里に立ち入るなどの報告が多くなっています。これは近年の「里山」における変化が1つの要因とされています。それを説明した次の文中の [ 1 ] ~ [ 3 ] にあてはまる言葉や語句を、9ページの本文や図1を参考にしながら答えなさい。ただし、[ 2 ] は図1中にある漢字2字の語句が入ります。

近年、「里山」が [ 1 ] ため、山林と同じ自然環境に近づいたり、経済的な発展により [ 2 ] の範囲が「里山」へ拡大したりしたという変化によって、野生動物の行動範囲が結果として [ 3 ] ことが、1つの要因とされている。

(このページは空白です)

[4] 交通事故に関する、以下の問題A・Bに答えなさい。

A 次の図表1は、2012年～2021年の10年間における、日本全国の交通事故発生件数とそれによる死者数を示したものです。これを見て、あとの問いに答えなさい。



図表1 年別の交通事故発生件数と死者数

(警察庁「道路の交通に関する統計」2021年より作成)

問1 図表1から読み取れる内容として誤っているものを、次のア～エの中から1つ選び、記号で答えなさい。

- ア 交通事故発生件数は10年間で半分以下になっている。
- イ 交通事故による死者数は2020年に3,000人を下回った。
- ウ 交通事故発生件数のうち、死亡事故の件数が半分以上を占めている。
- エ 交通事故発生件数の減少割合に比べると、交通事故死者数の減少割合は低い。



問2 図表1にみられるように、交通事故発生件数・死者数は近年減少傾向にあります。その原因や背景としてふさわしくないものを、次のア～カの中から2つ選び、記号で答えなさい。

- ア 飲酒運転を根絶するために、警察が取り締まりを強化するとともに、啓発活動をさかんにおこなうようになった。
- イ すべての座席でシートベルトを着用することや、幼児が乗車する際にチャイルドシートを使用することが義務化された。
- ウ 運転者がスマートフォンやタブレット端末を手を持って、事故や渋滞などの交通情報を検索しながら運転できるようになった。
- エ 高齢者のドライバーに対して、検査や講習がおこなわれるようになり、運転免許証を自主的に返納する動きも加速した。
- オ 障害物を感知して衝突に備えるブレーキシステムなど、自動車の性能や安全性が以前に比べて向上した。
- カ AI（人工知能）の技術を駆使した完全自動運転が普及したことで、運転技術に関係なく安全運転ができるようになった。

B 次の図表 2 は、2012年～2021年の10年間で交通事故による死者数の多かった都道府県 5 つを、死者数とともに並べたものです。これを見て、あとの問いに答えなさい。

	2012年	2013年	2014年	2015年	2016年	2017年	2018年	2019年	2020年	2021年
1	愛知 235人	愛知 219人	愛知 204人	愛知 213人	愛知 212人	愛知 200人	愛知 189人	千葉 172人	東京 155人	神奈川 142人
2	千葉 202人	千葉 201人	神奈川 185人	大阪 196人	千葉 185人	埼玉 177人	千葉 186人	愛知 156人	愛知 154人	大阪 140人
3	北海道 200人	兵庫 187人	千葉 182人	千葉 180人	大阪 161人	東京 164人	埼玉 175人	北海道 152人	北海道 144人	東京 133人
4	埼玉 200人	静岡 184人	兵庫 182人	神奈川 178人	東京 159人	兵庫 161人	神奈川 162人	兵庫 138人	神奈川 140人	千葉 121人
5	東京 183人	北海道 184人	埼玉 173人	北海道 177人	北海道 158人	千葉 154人	兵庫 152人	東京 133人	千葉 128人	北海道 120人

図表 2 都道府県別の交通事故死者数ワースト 5

(警察庁「道路の交通に関する統計」2021年より作成)

問 3 図表 2 を見ると、2012年～2018年にかけて、愛知県の交通事故死者数が全国で最も多かったことがわかります。このことから、愛知県が特に運転マナーの悪い都道府県なのかと思ってしまうかもしれません。そうした想像が必ずしも正しくないことを、次の図表 3 と図表 4 を参照して 2 行以内で説明しなさい。

著作権の関係上、非表示にしています。

著作権の関係上、非表示にしています。

問4 図表2を見ると、愛知県は2019年以降に、交通事故死者数で全国最多という不名誉な地位を脱したことがわかります。その背景には、県民に対する積極的な啓発活動があったことが知られています。このことに関連した次の①・②は、愛知県の交通事故防止を啓発した新聞広告の一部です。この①・②のいずれかを選び、それがどういった人を対象に、何に注意を促したもののなのかを2行以内で説明しなさい。

著作権の関係上、非表示にしています。

氏名

番

聖光学院中学校  
2023年度

# 第1回 入学試験 解答用紙 社会

【注意】 解答はすべて解答用紙に記入すること。

[1]

問 1		問 2	(1)	(2)	問 3										
問 4															20
															40

[2]

問 1	(1)	(2)	(3)	(4)		
	(5)	問 2				
問 3	問 4	問 5	問 6	問 7	問 8	問 9

[3]

問 1	問 2	問 3	問 4	問 5	問 6	シラカバ	ヒノキ
問 7	(1)		(2)	(3)			

[4]

問 1	問 2	
問 3		
問 4	選んだ図	

得点合計

--