

2023 年度 入学試験問題

社 会

(第 1 回)

[注意]

1. 試験開始の合図があるまで、この問題冊子の中を見てはいけません。
2. 解答用紙は、問題冊子の中にはさんであります。試験開始の合図があったら、解答用紙を取り出して受験番号と氏名を記入し、QRコードシールをはりなさい。
3. 解答はすべて解答用紙に記入しなさい。特に指定がない場合は、ひらがなで構いません。
4. 問題冊子の余白等は自由に使って構いません。
5. 試験終了後、解答用紙のみ提出し、問題冊子は持ち帰りなさい。

1 次の文章を読み、あとの問いに答えなさい。

電気は、使用量（）と発電量（供給）を一致させる必要があり、このバランスが崩れると大規模停電が起きます。

冷暖房の使用が少ない^(ア)春や秋に、好天で太陽光による発電量が増えると、供給がを上回ってしまうことがあります。大規模停電を防ぐため、電力会社が^(イ)再生可能エネルギーの受け入れを一時的に止める事態が何回かありました。「使い切れない電気」が出てしまうのは、もったいないことです。

悪天候で太陽光の発電量が減った地域に「使い切れない電気」を送れば、電気をむだなく利用できます。しかし日本は地域ごとに電力会社が違うため、会社をこえて大量の電気を送る「連系線」が十分に整備されていません。しかも、^(ウ)西日本と東日本の電気の周波数が異なるため、そのままでは送電できません。

こうした「連系線」の弱さは、2011年3月の^(エ)東日本大震災の時に浮き彫りになりました。多くの発電所が止まって、東日本は深刻な電力不足になりました。西日本から電気を送ろうとしても難しく、東京電力はのべ32回のを実施しました。2018年9月の^(オ)北海道地震では、道内最大の火力発電所が停止しました。本州から緊急送電しても不足分を補えず、北海道は全域停電（）する事態に陥りました。

太陽光発電や風力発電の適地は、北海道や東北、^(カ)九州といった地方に多いので、「連系線」を増強すれば、人口が多い^(キ)首都圏や関西圏の電力不足を補うことができます。現在、国は全国の「連系線」の容量を2倍程度に増やす計画を立てているそうです。

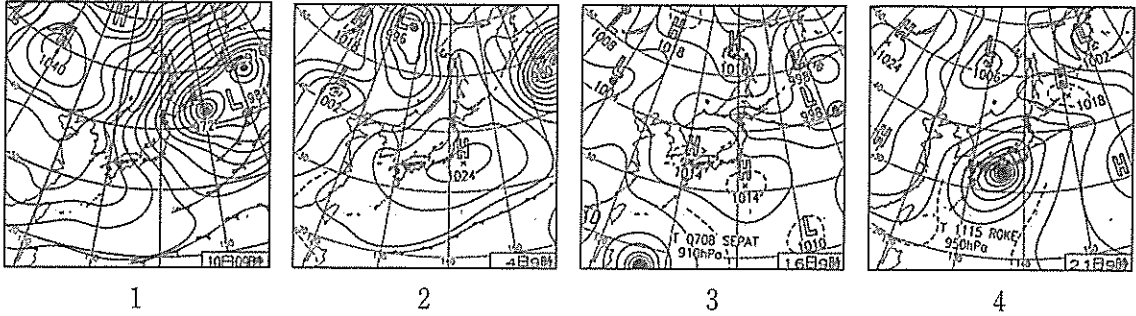
また、こうした「連系線」の弱さを補うものとして、揚水発電が注目されています。上部と下部にダムがあり、電力が余っている時に水をくみ上げ、必要な時に放流して発電します。電気を水の形に変えて貯える、いわば巨大なのような存在です。

東京電力管内には、原子力発電所1基分に相当する出力を持つ揚水発電所もあるそうです。今後、太陽光発電が生んだ「使い切れない電力」を使って水をくみあげ、必要な時に発電する使い方が広がる可能性もあります。

著作権の関係上、非表示にしています。

問1 文中の空らん ～ にあてはまる語句を、解答らの字数にしたがってそれぞれ答えなさい。

問2 下線部 (ア) について、春の地上天気図にあてはまるものを次の1～4から一つ選び、番号で答えなさい。



出典 気象庁HP

(https://www.jma.go.jp/jma/kishou/known/kisetsu_riyou/tenkou/gaiset.html) より

問3 下線部 (イ) について、再生可能エネルギーについて説明した文 a～c の正誤の組合せとして正しいものを下の1～8から一つ選び、番号で答えなさい。

- a 再生可能エネルギーは、くり返し使えて、環境への負担が少ない。
- b 日本の地熱発電所は、火山や地熱地域の分布から東北と九州に集中している。
- c 日本の発電電力量に占める再生可能エネルギーの比率はドイツよりも高い。

- | | | | | | | | |
|---|-----|-----|-----|---|-----|-----|-----|
| 1 | a—正 | b—正 | c—正 | 2 | a—正 | b—正 | c—誤 |
| 3 | a—正 | b—誤 | c—正 | 4 | a—正 | b—誤 | c—誤 |
| 5 | a—誤 | b—正 | c—正 | 6 | a—誤 | b—正 | c—誤 |
| 7 | a—誤 | b—誤 | c—正 | 8 | a—誤 | b—誤 | c—誤 |

問4 下線部(ウ)について、西日本と東日本について説明した文a～cの正誤の組合せとして正しいものを下の1～8から一つ選び、番号で答えなさい。

- a 平安時代末期、源頼朝は西日本の武士団を、平清盛は東日本の武士団を配下に置いた。
- b 江戸時代、西日本ではおもに銀貨が、東日本ではおもに金貨が使われていた。
- c 明治時代、地質学者のフェノロサが発見した「糸魚川静岡構造線」を西日本と東日本の境目とする見解がある。

- | | | | | | | | |
|---|-----|-----|-----|---|-----|-----|-----|
| 1 | a—正 | b—正 | c—正 | 2 | a—正 | b—正 | c—誤 |
| 3 | a—正 | b—誤 | c—正 | 4 | a—正 | b—誤 | c—誤 |
| 5 | a—誤 | b—正 | c—正 | 6 | a—誤 | b—正 | c—誤 |
| 7 | a—誤 | b—誤 | c—正 | 8 | a—誤 | b—誤 | c—誤 |

問5 下線部(エ)について、次の問いに答えなさい。

(1) 東日本大震災で深刻な被害を受けた三陸地方について説明した文a～cの正誤の組合せとして正しいものを下の1～8から一つ選び、番号で答えなさい。

- a 入り組んだリアス海岸の入り江では、かきなどの養殖が行われている。
- b 沖合には寒流の親潮と暖流の黒潮が会う潮目があり、かつおやさんまなどのたくさん魚が集まる豊かな漁場となっている。
- c 日本最初の第三セクターとしてスタートした三陸鉄道は、震災で被災したJR気仙沼線の一部区間の経営を引き継ぎ、復興に取り組んでいる。

- | | | | | | | | |
|---|-----|-----|-----|---|-----|-----|-----|
| 1 | a—正 | b—正 | c—正 | 2 | a—正 | b—正 | c—誤 |
| 3 | a—正 | b—誤 | c—正 | 4 | a—正 | b—誤 | c—誤 |
| 5 | a—誤 | b—正 | c—正 | 6 | a—誤 | b—正 | c—誤 |
| 7 | a—誤 | b—誤 | c—正 | 8 | a—誤 | b—誤 | c—誤 |

(2) 洪水や津波などのさまざまな自然災害による被害の可能性や、災害発生時の避難場所などを示した地図を何といいますか。解答らんの字数にしたがってカタカナで答えなさい。

問 6 下線部 (オ) について、北海道地震では札幌市郊外の地盤の弱い住宅地で、道路が陥没したり多くの建物が傾くなどの被害がでました。こうした現象を何といいますか。解答らんの字数にしたがって漢字で答えなさい。

問 7 下線部 (カ) について、九州の地理について説明した文 a～c の正誤の組合せとして正しいものを下の 1～8 から一つ選び、番号で答えなさい。

- a 九州の中央部には桜島の巨大なカルデラがあり、その南には険しい九州山地が連なっている。
- b 佐賀県の南には、日本最大の干潟をもつ日向灘があり、日本有数の養殖のりの産地となっている。
- c 冬でも温暖な気候を生かした野菜の抑制栽培が盛んで、ビニールハウスを利用して熊本平野ではきゅうりやピーマンなどが生産されている。

- | | | | | | | | |
|---|-----|-----|-----|---|-----|-----|-----|
| 1 | a—正 | b—正 | c—正 | 2 | a—正 | b—正 | c—誤 |
| 3 | a—正 | b—誤 | c—正 | 4 | a—正 | b—誤 | c—誤 |
| 5 | a—誤 | b—正 | c—正 | 6 | a—誤 | b—正 | c—誤 |
| 7 | a—誤 | b—誤 | c—正 | 8 | a—誤 | b—誤 | c—誤 |

問 8 下線部 (キ) について、首都圏には都道府県なみの行財政権を持つことができる政令指定都市が 5 つあります。このうち 2 番目に古い政令指定都市はどこですか。

2 和義さんは、歴史の勉強をするためにいろいろな時代の史料文をカードにまとめました。次の<カードA>～<カードF>について、あとの問いに答えなさい。

<カードA>

(ア) わたしの父祖たちは、よろいやかぶとに身を固め、山や川をわたり歩き、そのおかげで、東は蝦夷^{えみし}の55か国、西は熊襲^{くまそ}の66か国をおさえ、さらに海をわたり (イ) 朝鮮半島の95か国をしたがえました。

問1 <カードA>は5世紀後半に「武」が中国の皇帝に送った手紙の一部で、下線部(ア)は、倭の五王の「武」と考えられています。これについて、次の問いに答えなさい。

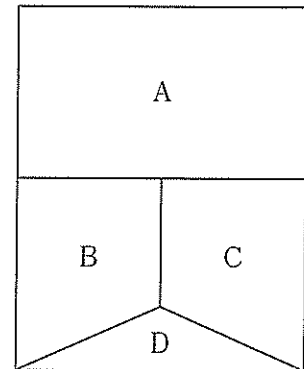
(1) 5世紀にあたる期間として正しいものを次の1～4から一つ選び、番号で答えなさい。すべて誤っていれば5と答えなさい。

- | | |
|-------------|-------------|
| 1 400年～499年 | 2 400年～500年 |
| 3 401年～500年 | 4 401年～501年 |

(2) 倭王「武」とは誰のことですか。解答らんにあうように漢字で答えなさい。

問2 下線部(イ)について、5世紀頃の朝鮮半島を右のように簡略化して描いたときにA・Bにあてはまる国名の組合せとして正しいものを次の1～4から一つ選び、番号で答えなさい。

- | | |
|--------------|--------------|
| 1 A—高句麗 B—百濟 | 2 A—高句麗 B—新羅 |
| 3 A—高麗 B—百濟 | 4 A—高麗 B—新羅 |



<カードB>

この世をば 我が世とぞ思う 望月の 欠けたることも なしと思えば

問3 <カードB>が詠まれた平安時代の政治や文化について説明した文 a・b の正誤の組合せとして正しいものを下の1～4から一つ選び、番号で答えなさい。

- a 尾張の国司である藤原元命は郡司や農民から悪政を訴えられ、国司を解任された。
- b 三大随筆に数えられる清少納言の『枕草子』、兼好法師の『徒然草』、鴨長明の『方丈記』は、平安時代に成立した。

- | | | | | | |
|---|-----|-----|---|-----|-----|
| 1 | a—正 | b—正 | 2 | a—正 | b—誤 |
| 3 | a—誤 | b—正 | 4 | a—誤 | b—誤 |

問4 この歌を詠んだ人物を漢字で答えなさい。

<カードC>

問注所、(ウ) 公方様への直訴とその判決状況、意見とその裁定、評定 衆等についてご説明を頂きたく存じます。

問5 <カードC>は、江戸時代に用いられた教科書の一節です。町人の子どもなどに「読み・書き・そろばん」を教えていた教育施設の名前を、漢字3字で答えなさい。

問6 下線部(ウ)について、公方とは将軍を指すことばです。鎌倉、室町、江戸時代の将軍について説明した文として正しいものを次の1～6からすべて選び、番号の小さい順に答えなさい。

- 1 源頼朝は、征夷大將軍となった後に、対立した弟の源義経と奥州藤原氏を滅ぼした。
- 2 源実朝は、歌人としても優れており、『新古今和歌集』をのこした。
- 3 足利尊氏は、対立する後醍醐天皇を吉野へ追いやった。
- 4 足利義政の死後、將軍職をめぐる守護大名も数多く巻き込んだ応仁の乱が発生した。
- 5 徳川秀忠が將軍のときに、大坂(阪)夏の陣の後、武家諸法度が発令された。
- 6 徳川吉宗は、生活に苦しむ武士を救うために徳政令を発令し、借金を帳消しにした。

＜カードD＞

『実語教』に、「人学ばざれば智なし、智なき者は愚人なり」とあり。されば賢人と愚人との別は学ぶと学ばざるとによりてできるものなり。

問7 <カードD>は『学問のすすめ』の一節です。これについて、次の問いに答えなさい。

- (1) 『学問のすすめ』を書いた人物の名前を漢字で答えなさい。
- (2) この一節が書かれた本が出版された明治時代について説明した文として正しいものを次の1～3から一つ選び、番号で答えなさい。すべて誤っていれば4と答えなさい。
 - 1 西南戦争で西郷隆盛が敗れた後に、板垣退助らによって政府に民撰（選）議院設立建白書が提出された。
 - 2 日刊新聞の創刊やラジオ放送が開始され、人びとは多くの情報に触れるようになった。
 - 3 この時代に日本に招かれた外国人として岩宿遺跡を発見したエドワード・モースや札幌農学校の教頭を務めたクラークがいる。

＜カードE＞

堺の街のあきびとの 老舗^{しにせ}を誇るあるじにて、
親の名を継ぐ君なれば、 君死にたまふことなかれ。
旅順^{りょじゅん}の城はほろぶとも、 ほろびずとても、何事ぞ、
君は知らじな、あきびとの 家の習ひに無きことを・・・

問8 <カードE>の歌について、次の問いに答えなさい。

- (1) この歌を詠んだ人物の名前を漢字で答えなさい。
- (2) この歌はある戦争にいった弟を心配して詠んだ歌です。この戦争について説明した文として正しいものを次の1～3から一つ選び、番号で答えなさい。すべて誤っていれば4と答えなさい。
 - 1 東郷平八郎率いる連合艦隊は、太平洋上でロシアのバルチック艦隊を撃破した。
 - 2 この講和条約によって得た賠償金をもとに八幡製鉄所の建設をおこなった。
 - 3 講和会議は、ロシアの軍港で開かれ、日本からは伊藤博文と小村寿太郎が全権として出席した。

<カードF>

(エ) 国際連合の原加盟国とは、サン・フランシスコにおける国際機構に関する連合国会議に参加した国又はさきに (オ) 1942年1月1日の連合国宣言に署名した国で、この憲章に署名し、かつ、第110条に従ってこれを批准するものをいう。

問9 下線部(エ)について、日本が国際連合に加盟したときの内閣総理大臣の名前を漢字で答えなさい。また、日本が国際連合に加盟した年に起きた出来事として正しいものを次の1～4から一つ選び、番号で答えなさい。すべて誤っていれば5と答えなさい。

- 1 日ソ共同宣言が出された。
- 2 日韓基本条約が締結された。
- 3 日中共同声明が締結された。
- 4 日米安全保障条約が出された。

問10 下線部(オ)について、1942年よりも前に起きた出来事a～cを古い順番に並べたものを、下の1～6から一つ選び、番号で答えなさい。

- a 真珠湾への攻撃をきっかけに太平洋戦争が始まった。
- b ドイツがポーランドに侵攻したことをきっかけに第二次世界大戦が始まった。
- c 盧溝橋事件をきっかけに日中戦争が始まった。

- | | | |
|---------|---------|---------|
| 1 a→b→c | 2 a→c→b | 3 b→a→c |
| 4 b→c→a | 5 c→a→b | 6 c→b→a |

- 3 としおさんは夏休みの宿題に 2022 年度上半期に関心を抱いた社会の出来事と、自分の生活で思い出に残ったことを表にまとめてお兄ちゃんと意見交換をしました。表と会話文を読んで問いに答えなさい。

| | 社会の出来事 | としおさんの思い出 |
|----|---|--|
| 1月 | 南太平洋のトンガ諸島付近で海底火山噴火 | 大学入学共通テスト受験体験に参加 |
| 2月 | ロシアがウクライナへ軍事侵攻 | 中学入試で補助員を体験 |
| 3月 | 東日本大震災から11年目 | G7がロシアのウクライナ侵攻を非難 |
| 4月 | ロッテ佐々木朗希投手が28年ぶり完全試合 | 多摩川徒歩ラリーで完歩 道徳講演会で障がい者の方との交流についてを学ぶ |
| 5月 | 沖縄復帰 <u> </u> う <u> </u> 年、香港返還25年 スウェーデンと <u> </u> お <u> </u> がNATO加盟申請 | 連休中の練習試合で初ホームラン |
| 6月 | 円相場が1ドル136円台まで値下がり | 東京六大学野球観戦で東大キャプテンの松岡先輩を応援 |
| 7月 | 安倍元首相が銃撃される 第26回参議院議員通常選挙 | ^{なて} 蓼科での林間学校に参加 |
| 8月 | 岸田総理が第10回核兵器不拡散条約 (NPT) 運用検討会議に出席 | 兄弟校の都市大塩尻野球部との合宿に参加 |

お兄ちゃん：1月の海底火山噴火の映像には驚いたね。気候変動の影響もあるのかな？気候変動や地球環境に興味をもって (ア) SDGsへの取り組み意識を高めることも大切だよね。

としお：大学入学共通テスト体験は難しくて驚いたな。はじめから出来ないと思ったけど (イ) 教育を受ける権利としてトライしました！

お兄ちゃん：2月のウクライナへの軍事侵攻は本当に驚いたし悲しいニュースだったね。こんなことが許されるのか、どうして起こったのか未だに考えているよ。

としお：(ウ) ウクライナとロシアに対して関心を高めたいね。
中学入試の補助員は緊張したな。自分が受験した時の緊張を思い出したから受験生に少しでもリラックスしてもらえるように努めたよ。先生がこれからの (エ) 少子化で受験も大変だと心配していたことが印象的だったな。

お兄ちゃん：3月11日は東日本大震災から11年目だね。今も復興作業が続いていることを忘れちゃいけないね。

としお：ロシアの軍事侵攻が世界的に非難されていることはわかるけど、G7は何の略だったかな？

お兄ちゃん：授業で習ったけど (オ) 「先進7か国首脳会議」のことだよ。多くの国がロシアに対する批判を表明したことから1日も早く戦争の終結が実現すると良いな。

と し お：4月の佐々木選手の完全試合は興奮したな。ぼくも頑張って佐々木選手のようになるぞ！

お兄ちゃん：佐々木選手は東日本大震災でお父さんを亡くされてるんだ。頑張っている姿は立派だし目標になるよね。お父さんは毎年 納税を被災地から選んで続けているよ。

と し お：学校の伝統行事の多摩川徒歩ラリーでは完歩出来て嬉しかったな。閉会式では先生が多摩川の自然や景観を守ると共に、災害に備えることにも関心をもつ大切さを教えてくれたんだ。

お兄ちゃん：河川敷でのバーベキューや危険なゴルフの練習などには規制する の制定などを積極的に行って欲しいね。

と し お：4月の道徳講演会ではパラリンピックパリ大会でブラインドサッカー日本代表を目指している先生からお話を聞いたんだ。先生から聞く障がい者の方々のお話は本当に勉強になるんだ。 (カ) すべての人が差別されることなく生活できる社会の実現にみんなで取り組む必要を強く感じたな。

お兄ちゃん：パラリンピックを目指している先生から世界を目指す意識や障がい者の方との交流についてお聞きすることは勉強になるね。

と し お：5月には戦争について学んだんだ。2022年は沖縄が日本に復帰して 年を迎えるけど 基地から辺野古への移設などの問題にも改めて関心をもちたいと感じたな。

お兄ちゃん：としおはNATOについても習っている？北大西洋条約機構のことで西側の軍事機構だけど今回のロシアのウクライナへの軍事侵攻の影響から5月にスウェーデンと が加盟申請したんだ。

と し お：(キ) 為替相場にも軍事侵攻が影響して物価が上がる心配があるね。

お兄ちゃん：6月の東京六大学野球の応援はどの球場で行ったの？

と し お：明治神宮野球場だよ。松岡先輩はとってもカッコ良かったな、ぼくも先輩のようになりたいな。帰りに (ク) 明治神宮まで散策してきたんだ。

お兄ちゃん：7月に起きた安倍元総理の銃撃事件は、民主主義に対するテロ、挑戦と報じられたね。

と し お：その後の (ケ) 国葬に対しては様々な意見があったね。ところでお兄ちゃんは (コ) 参議院選挙は投票したの？

お兄ちゃん：当然投票には行ったよ。国内政治はもちろんだけど、世界平和に日本がどのように貢献できるかに興味があるんだ。岸田総理は日本として初めてNPTの会議に参加したけど、世界で唯一の被爆国としてできることをしっかり考えたいね。最後に野球部の合宿はどうだったの？

と し お：3年ぶりの合宿は事前に全員がPCR検査を受けたり、部屋や食事に感染予防対策を

徹底して実施したんだ。塩尻は長野県だけど、以前軽井沢へ旅行に行ったよね。長野県は広いから政治面でも様々な政策が必要で、^(※) 地方自治の充実が求められる県だとバスガイドさんが話していたよ。練習では夏の長野県大会で準優勝した塩尻高校の投手が投げってくれたんだ！感動したしバットに当たって自信になったよ。

問1 下線部（ア）について、SDGsについて説明した文として、誤っているものを次の1～6から二つ選び、番号で答えなさい。

- 1 Sustainable Development Goals の日本語訳「持続可能な開発目標」の頭文字で読み方は、エス・ディー・ジーズ。
- 2 2050年までに世界が協力して持続可能で多様性と包括性のある社会の実現を目指す、17の国際目標。
- 3 「持続可能な開発レポート2022」の発表によると、世界の国々のSDGs達成度は、第1位フィンランド 第2位スウェーデン 第3位日本となっている。
- 4 目標の一つ「ジェンダー平等を実現しよう」において、日本のジェンダーギャップ指数は調査国の中で下位に位置している。
- 5 目標の一つ「海の豊かさを守ろう」では、マイクロプラスチックなど海洋ゴミ問題への対応、生物多様性の保全などに取り組んでいる。
- 6 目標の一つ「気候変動に具体的な対策を」では二酸化炭素排出量制限において先進国と発展途上国間での対立も予想される。

問2 下線部（イ）について、この権利は社会権の一つですが、社会権について説明した文として正しいものを次の1～4から一つ選び、番号で答えなさい。

- 1 憲法第25条では「すべて国民は、健康で文化的な一定水準の生活を営む権利を有する。」と生存権を規定している。
- 2 戦中戦後の混乱で教育を受けることが出来なかった方々が学び直す機会や、病院に設置することがある院内学級なども教育を受ける権利に基づいている。
- 3 憲法第28条では、勤労者の団結権及び団体行動権を18歳から65歳までの男女に保障している。
- 4 水俣病裁判とは、朝日茂さんが受給した生活保護費の額が生存権に違反するとして争われた裁判であった。

問3 下線部(ウ)について、二国間の歴史やこれまでの軍事侵攻関連について説明した文としてもっとも正しいものを次の1～4から一つ選び、番号で答えなさい。

- 1 ロシアとウクライナは、1991年のソビエト連邦崩壊までそれぞれソビエトを構成する15の共和国のひとつであった。
- 2 ウクライナはEU結成当初からの加盟国であるため、他の加盟国と共にロシアへの軍事行動を行っている。
- 3 軍事侵攻に対する国際連合の対応として事務総長は、二国間の問題であり国連では一切関与しないと表明した。
- 4 ロシア領内にあるチェルノブイリ原発へのウクライナの攻撃は世界的な関心を呼んだ。

問4 下線部(エ)について、日本の少子化問題への対策について説明した文a・bの正誤の組合せとして正しいものを下の1～4から一つ選び、番号で答えなさい。

- a 政府は少子化対策担当の大臣制度を廃止し、2023年4月から、「こども家庭庁」の設置を決定した。
- b 幼稚園、保育所などの利用料の無償化を行った。

- | | | | | | |
|---|-----|-----|---|-----|-----|
| 1 | a—正 | b—誤 | 2 | a—正 | b—正 |
| 3 | a—誤 | b—正 | 4 | a—誤 | b—誤 |

問5 下線部(オ)について、7か国に入らない国を次の1～6から二か国選び、番号で答えなさい。

- | | | | | | | | |
|---|-----|---|------|---|----|---|---------|
| 1 | カナダ | 2 | フランス | 3 | 中国 | 4 | オーストラリア |
| 5 | ドイツ | 6 | イタリア | | | | |

問6 にあてはまる、自分の故郷や応援したい自治体に寄付できる税制を何といいますか。解答らんにしたがってひらがな4字で答えなさい。

問7 にあてはまる、地方公共団体が地方議会の議決によって制定する地域だけに適用される決まりを何といいますか、漢字2字で答えなさい。

2023年2月1日

関係各位

東京都市大学附属中学校

本日実施しました本校の第1回入試（2月1日午前）において、以下の教科において問題の訂正を行いましたので、その内容と対応につきましてお知らせします。

社会

問題 13ページ 3 問9

空欄 お について

選択肢 1、3、6 (誤) (正)
デンマーク → スイス

選択肢 2、4、5 ノルウェー → フィンランド

試験開始直後に板書して、訂正を周知いたしました。解答には影響がないものと判断し、採点を行いました。

今後は点検体制をさらに徹底して行い、再発防止に努めて参ります。

問8 下線部(カ)について、障害や能力だけではなく、文化・言語・国籍などあらゆる個人差を問わずに利用することができる施設や製品のデザインのことを何と言いますか。解答らんにあうようにカタカナ6字を答えなさい。

問9 、、にあてはまる語句の組み合わせとして正しいものを次の1～6から一つ選び、番号で答えなさい。

- | | | | |
|---|-------------------------------------|--|---------------------------------------|
| 1 | <input type="text" value="う"/> —40年 | <input type="text" value="え"/> — ^{かてな} 嘉手納 | <input type="text" value="お"/> —デンマーク |
| 2 | <input type="text" value="う"/> —40年 | <input type="text" value="え"/> — ^{ふてんま} 普天間 | <input type="text" value="お"/> —ノルウェー |
| 3 | <input type="text" value="う"/> —50年 | <input type="text" value="え"/> —嘉手納 | <input type="text" value="お"/> —デンマーク |
| 4 | <input type="text" value="う"/> —50年 | <input type="text" value="え"/> —普天間 | <input type="text" value="お"/> —ノルウェー |
| 5 | <input type="text" value="う"/> —60年 | <input type="text" value="え"/> —嘉手納 | <input type="text" value="お"/> —ノルウェー |
| 6 | <input type="text" value="う"/> —60年 | <input type="text" value="え"/> —普天間 | <input type="text" value="お"/> —デンマーク |

問10 下線部(キ)について、1ドル100円から90円への変動を「円」になったといいます。空らんにあてはまる語句を漢字1字で答えなさい。

問11 下線部(ク)について、明治天皇の時代に制定された大日本帝国憲法と現在の日本国憲法を比較した場合、次の1～4の語句で大日本帝国憲法にのみあるものには1、日本国憲法にのみある語句には2、どちらにもある、又はどちらにもないものには3と答えなさい。

- 1 天皇 2 永久の権利 3 貴族院 4 国民

問12 下線部(ケ)について、第二次世界大戦後二人目の首相の国葬となりましたが、一人目の首相在任中の出来事として正しいものを次の1～6から二つ選び、番号で答えなさい。

- 1 自衛隊のPKO派遣 2 日中平和友好条約の締結 3 所得倍增計画の発表
4 日本国憲法の公布 5 朝鮮戦争による特需景気 6 郵政民営化の実施

問13 下線部(コ)について、参議院議員通常選挙に関することを次の1～5から一つ選び、番号で答えなさい。

- 1 被選挙権満25歳以上 2 任期6年
3 小選挙区制 4 解散の日から40日以内に実施
5 最高裁判所裁判官国民審査の実施

問14 下線部（サ）について説明した文として正しいものを次の1～6から二つ選び、番号で答えなさい。

- 1 地方交付税交付金とは自治体の財政格差をなくすため、国から支給されるお金である。
- 2 地域の問題や政策について、その賛否を住民自身が直接投票して決めることを監査の請求という。
- 3 1999～2010年にかけて政府の主導で行われた市町村の合併を「昭和の大合併」という。
- 4 2006年6月に財政破綻した小樽市を教訓に、2007年には自治体財政健全法が制定された。
- 5 2020年大阪府における大阪都構想の提案は、住民投票の結果小差で賛成が上回った。
- 6 住民が議会の解散を請求する権利を直接請求権という。

(問題は前のページで終わり)

入学試験解答用紙 (第1回)

| | | | | | | | | | | | | |
|---|----|---|--|--|---|--|--|--|--|---|--|--|
| 1 | 問1 | | | | | | | | | | | |
| | 1 | 2 | | | 3 | | | | | 4 | | |
| | | | | | | | | | | | | |

| | | | | | | | | | | | | |
|----|----|----|-----|-----|--|--|--|--|--|--|--|--|
| 問2 | 問3 | 問4 | 問5 | | | | | | | | | |
| | | | (1) | (2) | | | | | | | | |
| | | | | | | | | | | | | |

| | | | | | | | | |
|----|--|----|----|----|--|--|--|---|
| 問6 | | | 問7 | 問8 | | | | |
| | | 現象 | | | | | | 市 |

| |
|----|
| 小計 |
| |

| | | | | | | | | |
|---|-----|-----|----|----|----|----|--|--|
| 2 | 問1 | | | 問2 | 問3 | 問4 | | |
| | (1) | (2) | | | | | | |
| | | | 天皇 | | | | | |

| | | | | | | | |
|----|--|----|--|--|-----|-----|--|
| 問5 | | 問6 | | | 問7 | | |
| | | | | | (1) | (2) | |
| | | | | | | | |

| | | | | | | |
|-----|-----|-----|----|--|----|-----|
| 問8 | | | 問9 | | | 問10 |
| (1) | (2) | 人物名 | | | 番号 | |
| | | | | | | |


| |
|----|
| 小計 |
| |

| | | | | | | | | |
|----|----|----|----|----|--|----|--|----|
| 問1 | 問2 | 問3 | 問4 | 問5 | | 問6 | | |
| | | | | | | | | 納税 |

| | | | | | | | |
|----|--|----|--|--|--|------|----|
| 問7 | | 問8 | | | | | 問9 |
| | | | | | | デザイン | |

| | | | | | | | | | |
|-----|-----|---|---|---|-----|--|-----|-----|--|
| 問10 | 問11 | | | | 問12 | | 問13 | 問14 | |
| | 1 | 2 | 3 | 4 | | | | | |
| | | | | | | | | | |

| |
|----|
| 小計 |
| |



QRコード
シールを
はってください

| | | | | | | | |
|------|--|--|--|----|--|--|--|
| 受験番号 | | | | 氏名 | | | |
| | | | | | | | |

| |
|----|
| 得点 |
| |