

社 会

(第1回)

注 意

1. 問題冊子と解答用紙が配られたら、まず**解答用紙の決められたところに座席番号、受験番号、氏名**を書いてください。
2. 試験開始の合図があるまで、問題冊子を開かないでください。
3. 試験開始の合図があったら、問題冊子のページ数を確かめてから始めてください。
4. この問題冊子は**16ページ**あります。ページの不足や乱れがあったら、だまって手をあげてください。
5. 印刷のはっきりしていないところがあったら、だまって手をあげてください。
6. 試験終了の合図があったら、すぐ鉛筆をおいてください。
7. その後、解答用紙を集めますので、解答用紙を机の上に、表を上にしておいてください。(問題冊子は持ち帰ってかまいません。)

(仮称)

開智中学校・開智所沢中等教育学校

ともこさんは、校内での有志活動である「開智お城サミット」に参加しています。9月の開智発表会では、夏休みに訪れた城について、各自がレポートや動画を作成して、発表することになりました。次の文章は、ともこさんがまとめたレポートです。これを読んで、あとの問いに答えなさい。

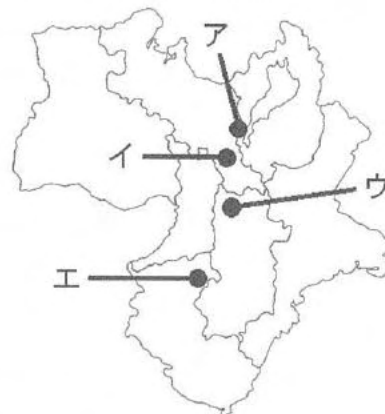
【レポート1】

からさわやま 「唐沢山城」(栃木県佐野市)	
① 訪問日時：7月30日(日)	② 見学時間：11時半～14時(約2時間半)
<p>③ 概要： 唐沢山城は、かつて①関東七名城とよばれた城の一つで、唐沢山(標高242メートル)の山頂を本丸とした、山城である。 ②関東の城では珍しく、本丸に石垣が使われているが、これは安土桃山時代に築かれたものである。関ヶ原の戦いの後は、ふもとに新しく佐野城が築かれたため、<u>廃城</u>となった。 2014年に、国の史跡に指定された。2017年には、続日本100名城(114番)に選定された。</p>	
<p>④ 感想： ここは、一昨年訪れたことがあったんだけど、少し前にあるテレビ番組で有名なタレントさんが訪れていたのだから、私がお城③サミットのメンバーに声をかけて、夏休みのフィールドワークで訪れることになった。本丸の石垣だけでなく、てんぐ岩とよばれる岩場からの景色は絶景なので、みんなも喜んでた。</p>	

著作権の関係上、非表示にしています。

問1 下線部①に関連して、関東七名城とは、川越・忍・前橋・金山・唐沢山・宇都宮・多気(または太田)城のことをさします。川越城の南方には、喜多院という天台宗の寺院があります。右の【地図1】のア～エの中から、最澄によって開かれた天台宗の総本山である寺院の位置として正しいものを一つ選び、記号で答えなさい。

【地図1】



問2 下線部②に関連して、関東平野は日本一広い平野で農作物が多く生産されています。次の表は主な農作物の生産量の2位までを表にしたものです。表中の%は、全国の生産量に対する割合を示します。表中の空欄 に入る関東の県名を漢字で答えなさい。

キャベツ (2022年)			きゅうり (2022年)		
都道府県	収穫量 (ト)	%	都道府県	収穫量 (ト)	%
<input type="text" value="V"/>	284,500	19.5	宮崎	64,500	11.8
愛知	268,900	18.4	<input type="text" value="V"/>	55,800	10.2

(農林水産省「令和4年産作況調査(野菜)」より作成)

問3 下線部③に関連して、2023年5月にサミット(主要国首脳会議)が開かれた日本の都道府県はどこですか。漢字で答えなさい。

【レポート2】

「水城」(福岡県大野城市・春日市など)	
① 訪問日時：8月4日(金)	② 見学時間：9時～10時(約1時間)
<p>③ 概要：</p> <p>水城とは、④7世紀の後半に唐と新羅の連合軍が日本を攻めてきた場合に備えて、<input type="text"/> ⑤ <input type="text"/>を守るために築かれた施設である。</p> <p>現在は、右の写真のように土塁しか残っていないが、かつては土塁とセツトで外堀も存在した。</p> <p>1953年には国の特別史跡に指定され、2017年には続日本100名城(182番)にも選定された。</p>	
<p>④ 感想：</p> <p>造られてから1300年以上も経っているのに、ちゃんと土塁が残っていて、すごいなと思った。実は、7年前にも来たことがあったんだけど、そのときは続100名城にはまだ選定されていなかったのだから、今回はもう一度見に来ようと思った。⑥博多から乗ってきた鹿児島本線が、土塁の南西の端近くの切断部を通過しているのも初めて知った。</p>	

著作権の関係上、非表示にしています。

問4 下線部④に関連して、7世紀の中ごろ、唐と新羅によって滅ぼされた百済の復興を助けるために、日本は朝鮮半島に軍を送りましたが、唐と新羅の連合軍に敗れました。この戦いを何といいますか、解答欄に合うように、漢字で答えなさい。

問5 文中の空欄 ⑤ には、中国や朝鮮半島から来た客をもてなすなど、外国と交流するため、約1300年前におかれた国の役所が入ります。 ⑤ に入る言葉を漢字3文字で答えなさい。

問6 下線部⑥に関連して、ともこさんは今回、主に鉄道で九州をめぐる、城を回りました。次の表は、ともこさんが乗った鉄道路線や時刻を記録したものの一部です。この表を見て、あとの問いに答えなさい。

日付	出発駅	出発時刻	移動手段	到着時刻	到着駅
8/3 (木)	池袋駅	8:13	山手線(上野東京方面)	8:39	東京駅
	東京駅	9:12	新幹線 のぞみ(博多行き)	14:09	博多駅
	博多駅	14:24	鹿児島本線(福岡行き)	14:29	箱崎駅

- (1) ともこさんが乗った東海道新幹線は1964年に開通しました。1960年代におこったできごとの説明として、誤っているものを次のア～エの中から一つ選び、記号で答えなさい。
- ア アジアで初めての開催となる、東京オリンピックが開かれた。
 - イ 日韓基本条約が結ばれて、韓国との国交が結ばれた。
 - ウ 日ソ共同宣言が結ばれたのち、日本は国際連合へ加盟した。
 - エ アメリカから、小笠原諸島が日本に返還された。

- (2) ともこさんが降りた箱崎駅の近くには「^{はこさきぐう}箱崎宮」とよばれる、日本三大八幡宮の一つがあります。この神社には、下の【写真1】のような大きな門があり、「敵国降伏」(【写真2】)と書かれた額がかかげられています。この額は、鎌倉時代にモンゴル軍が日本に攻めてきたときに、亀山上皇が納めたものだといわれています。下の【図1】は、モンゴル軍と日本の武士との戦いをえがいたものです。この絵巻物の名前を、解答欄に合うように、漢字で答えなさい。


【写真1】

著作権の関係上、非表示にしています。

【写真2】

著作権の関係上、非表示にしています。

【図1】



(宮内庁 ウェブサイトより)

【レポート4】

「⑨岡城」(大分県⑩竹田市)	
① 訪問日時：8月5日(土)	② 見学時間：13時～15時半(約2時間半)
<p>③ 概要：</p> <p>岡城は、江戸時代に岡藩7万石の大名である中川氏の居城となった城である。この城は、標高が325メートルの天神山に築かれた山城だが、総面積は約23万平方メートルと、とても広い。</p> <p>⑩明治時代になると廃城となり、建物は解体されてしまったが、この城の一番の魅力は、右の写真のような石垣である。1936年には国の史跡に指定され、2006年には日本100名城(95番)にも選定された。</p>	<p>著作権の関係上、非表示にしています。</p>
<p>④ 感想：</p> <p>ここは、石垣がとても有名で、崖にそびえたつ高石垣や、右の写真のような大手門跡は、見たときに圧倒されました。また、とにかく城内が広い！山の上なので風は涼しいんだけど、真夏なので日差しがやっぱり暑かった。端から端まで歩いたので、へとへとになったけど、大満足の城だった！おすすめ！</p>	<p>著作権の関係上、非表示にしています。</p>

問9 下線部⑨に関連して、岡城の最寄り駅は、豊肥本線の豊後竹田駅になります。この豊肥本線は、阿蘇高原線という愛称もつけられ、途中、阿蘇山のカルデラの中を横切っています。阿蘇地方では、山のすそ野に広がる草原を利用して、ある家畜の飼育がさかんにおこなわれています。次の表は、2022年2月1日現在の日本国内のある家畜の飼養頭数の上位4つの都道府県を並べたものです。この表で示した家畜として適切なものを、下のア～エの中から一つ選び、記号で答えなさい。

順位	道府県名	飼養頭数
1位	北海道	553,300
2位	鹿児島県	337,800
3位	宮崎県	254,500
4位	熊本県	133,600

(農林水産省「畜産統計調査」より作成)

ア 乳用牛 イ 肉用牛 ウ 豚 エ 肉用若鶏

問10 下線部⑩に関連して、下の【写真3】は、大分県の竹田市と玖珠郡にある「くじゅう坊ガツル・タデ原湿原」のもので、この湿原は、「水鳥などのすみかとして大切な湿地を守るための国際的な取り決め」で保護されています。この取り決めを、一般的に何条約といいますか。解答欄に合うように、カタカナで答えなさい。

【写真3】



(大分県 ウェブサイトより)

問11 下線部⑪に関連して、竹田市出身の滝廉太郎という作曲家は、「荒城の月」という曲をつくる時に、廃城となった岡城をイメージしたといわれています。滝廉太郎が、この曲をつくった1900～1910年の間のできごとの説明として正しいものを、次のア～エの中から一つ選び、記号で答えなさい。

- ア 普通選挙法が制定され、25歳以上の男女に選挙権が与えられた。
- イ 与謝野晶子が「君死にたまふことなかれ」という詩を発表した。
- ウ 初代朝鮮総督であった伊藤博文が、ハルビン駅で殺害された。
- エ 陸奥宗光外務大臣のとき、日米通商航海条約を結んで、関税自主権を完全に回復した。

【レポート5】

「八代城」(熊本県八代市)	
① 訪問日時：8月6日(日)	② 見学時間：10時半～14時(約3時間半)
<p>③ 概要：</p> <p>八代城は、江戸時代に築かれた、熊本藩の城である。一国一城令があったため、普通は藩内には一つの城しか許されなかったが、この城は例外的に認められた。17世紀の後半には、落雷によって大小の天守は燃えてしまい、その後は再建されなかった。</p> <p>明治時代になると廃城となり、建物はすべて取り壊され、本丸の石垣と内堀以外は埋められてしまった。2014年には国の史跡に指定され、また2017年には続日本100名城(190番)にも選定された。</p>	<p>著作権の関係上、非表示にしています。</p>
<p>④ 感想：</p> <p>⑫八代城は市街地にあり、縄張りも本丸程度しか残っていないため、あまり期待はしていなかったけど、本丸の石垣はよく整備されていたので、良い意味で予想を裏切ってくれた！また、本丸の石垣の上にも上がれて、ぐるっと一周できたのも良かった。建物が残っていないのが残念だけど、小天守台の石垣から続く大天守台の石垣の上を歩けたりしたのは、とても興奮した。本丸内には現在、八代宮という神社があったので、御朱印もいただきました。</p>	

問12 下線部⑫に関連して、次の【地図2】は、八代城を中心とした地形図です。この地図について説明した文として正しいものを、下のア～エのうちから一つ選び、記号で答えなさい。

【地図2】



(国土地理院地図Vectorより作成)

- ア 八代城の西側には、市役所がある。
- イ 八代城の南東側には、老人ホームがある。
- ウ この地図の中には、警察署はあるが、交番は一つもない。
- エ この地図の中では、神社よりも寺院が多い。

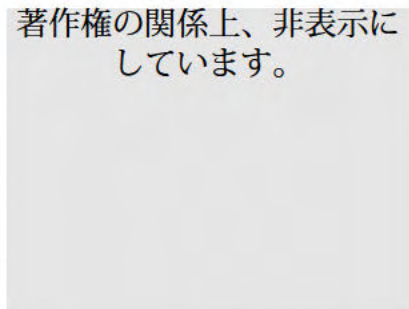
【レポート6】

「鹿児島城」(鹿児島県⑬鹿児島市)	
① 訪問日時：8月6日(日) 8日(火)	② 見学時間：17時～18時(約1時間) 12時半～14時(約1時間半)
<p>③ 概要： 鹿児島城は、17世紀の初めに築かれた、薩摩藩の大名である島津氏の居城となった城である。薩摩は約75万石の大藩であるが、城自体は単純な構造で、石垣はあるが、天守などもなく、⑭<u>防御的には問題がある</u>ため、裏山である城山を後詰めの城としていた。 明治時代以降、城跡は旧制高校の敷地となり、大学なども置かれた。1931年には城山が国の史跡に指定され、2023年には鹿児島城跡として追加指定がされた。また、2006年には日本100名城(97番)に選定され、2020年には大手門にあたる<u>楼門</u>が木造で復元された。</p>	
<p>④ 感想： 鹿児島県は今回の旅で初めて訪れ、また歴史の授業でも西郷隆盛などの偉人が活躍した場所なので、とても楽しみにしていた。どうして二日にわたって訪れたのかというと、6日は八代から九州新幹線に乗って夕方に到着したのだけど、もう時間が遅かったので、大手門から本丸内には入れなかったから。その日は、本丸の石垣や水堀を見た後、すぐ北側にある、西郷隆盛が明治時代になってからつくった「⑮私学校」の跡地を囲む石垣を見てまわった。 本来は、翌日には宮崎県に向かう予定だったんだけど、⑯<u>台風</u>のせいで鹿児島から出られなくなったので、何と鹿児島に4泊もすることになった！でもそのおかげで、鹿児島をゆっくりと観光することができたし、改めて8日に本丸内の博物館に入って、100名城スタンプも押すことができたから良かった。</p>	

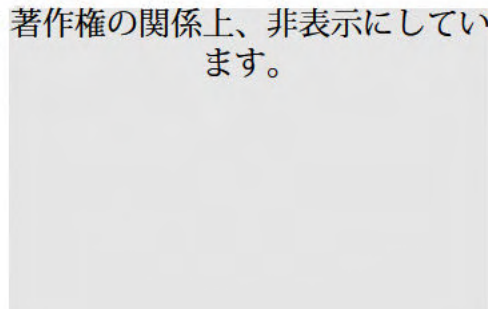
著作権の関係上、非表示にしています。

問13 下線部⑬に関連して、下の【写真4】は、鹿児島市内を走る路面電車です。路面電車をふくめて、私たちの生活には、電気が欠かせないものとなっています。発電には、さまざまな方法がありますが、その中でも太陽光発電は、再生可能エネルギーの一つとして注目されています。近年では、下の【写真5】のように、「メガソーラー」とよばれる出力規模の大きな太陽光発電が各地で設置されています。しかし、本来太陽光発電では、温室効果ガスを排出しませんが、このメガソーラーの設置に関しては、かえって温室効果ガスの増加につながるという批判もあります。なぜ、批判されているのでしょうか。わかりやすく答えなさい。

【写真4】 著作権の関係上、非表示にしています。



【写真5】 著作権の関係上、非表示にしています。



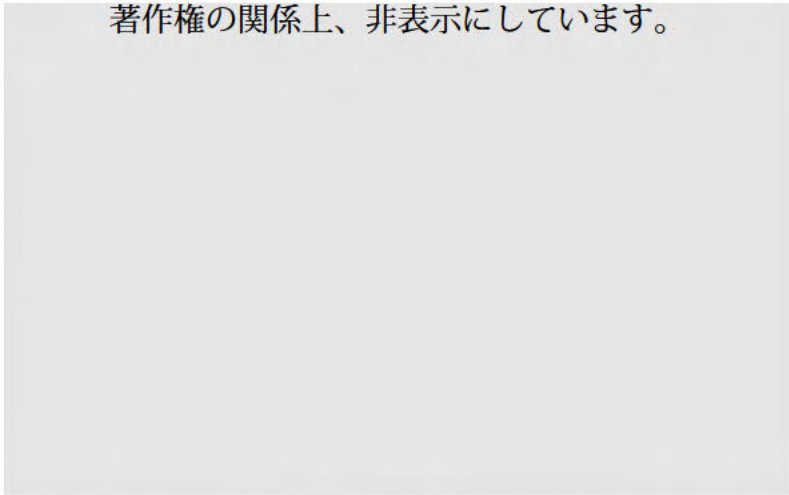
問14 下線部⑭に関連して、薩摩藩は、幕末の1863年にイギリスと戦争をした際、イギリスの軍艦から鹿児島城の本丸御殿に砲弾を撃ちこまれたことがありました。イギリスについて説明した文として正しいものを、下のア～エの中から一つ選び、記号で答えなさい。

- ア 緯度0°線は、イギリスのロンドンを通っている。
- イ 国際連盟の本部は、イギリスのロンドンに置かれていた。
- ウ 2024年の夏季オリンピックの開催地は、イギリスのロンドンである。
- エ 現在のイギリスの国王は、チャールズ3世である。

問15 下線部⑮に関連して、下の【写真6】は、ともこさんが私学校の石垣を撮影したものです。このように、石垣の表面にたくさん穴が開いているのは、1877年に起きた、鹿児島の士族たちと新政府軍との間で起きた内戦が原因です。この内戦を何といいますか、漢字で答えなさい。

【写真6】

著作権の関係上、非表示にしています。



問16 下線部⑯に関連して、台風をふくめて、日本では災害が多く発生しています。2011年の東日本大震災とその後の影響について述べた次のア～エの中から、正しいものを一つ選び、記号で答えなさい。

- ア 東日本大震災の直後、日本全国で計画停電が実施された。
- イ 東日本大震災からの災害復興を目的として設置された復興庁は、震災から10年が経った2021年をもって、その役目を終えて解散した。
- ウ 東日本大震災の直後、被災した地域とその他の地域の間で、サプライチェーンの分断が起こった。
- エ 東日本大震災で大きな被害を受けた福島県の原子力発電所から出る、放射性物質をふくんだ水を、処理したうえで海洋に放出する計画があったが、実施されていない。

【レポート7】

「出島・ ^{とうじんやしき} 唐人屋敷」(⑰長崎県長崎市)	
① 訪問日時：8月14日(月)	② 見学時間：10時半～14時半(約4時間)
③ 概要： 出島は、江戸時代に幕府が⑱オランダと貿易をする際に使われていた場所で、オランダ人たちが住んでいた。明治以降は、周囲の海の埋め立てや、河川改修によってかつての姿はわかりづらくなってしまった。しかし、近年、堀や石垣だけでなく、中の建物なども18世紀の初めのころの姿に復元された。 唐人屋敷は、江戸時代に幕府が中国と貿易をする際に使われていた場所で、中国の商人たちは、この屋敷の中に住んでいた。屋敷跡には、⑲中国の神様などをまつた建物もわずかながら残され、江戸時代に築かれた石垣も一部見ることができた。	著作権の関係上、非表示にしています。 著作権の関係上、非表示にしています。
④ 感想： この二つは、城ではないんだけど、史跡ということで、特別にレポートにまとめてみました。 出島は、歴史の授業では、周りを海に囲まれていたと習ったのに、現在はすっかり周りが埋め立てられていたので驚いた。しかし、ここ最近の復元整備によって、江戸時代の姿を取り戻しつつあるのはうれしい。オランダと⑳貿易していたときの品々もたくさん展示されていて、見ごたえがあった。 唐人屋敷は、完全になくなってしまったように見えるけど、地図と見比べると、かつての屋敷の ^{はんい} 範囲がそのまま館内町という住所になっていた。実際に行ってみたら、唐人屋敷の敷地自体が坂になっているのも初めて知れた。近くに中華街があるのも、江戸時代からの歴史がつながっているんだなあ、と実感した。	

問17 下線部⑰に関連して、あとの問いに答えなさい。



- (1) 次の表は、ともこさんが博多駅から長崎駅までの移動手段や時刻を記録したものの一部です。この表の空欄 に入る語句を、下のア～エの中から一つ選び、記号で答えなさい。

日付	出発駅	出発時刻	移動手段	到着時刻	到着駅
8/14 (月)	博多駅	8:12	リレーかもめ (<input type="text" value="W"/> 行き)	9:20	<input type="text" value="W"/> 駅
	<input type="text" value="W"/> 駅	9:23	西九州新幹線 かもめ (長崎行き)	9:54	長崎駅

ア 箱根温泉 イ 草津温泉 ウ 別府温泉 エ 武雄温泉

- (2) 太平洋戦争末期の1945年8月には、広島と長崎に^{ぼくだん}原子爆弾が投下され、多くの命が失われました。核兵器の被害を受けた、ただ一つの被爆国として、日本政府がかかげている三つの原則とは何ですか。解答欄の「核兵器を」のあとに続く部分を答えなさい。

問18 下線部⑱に関連して、下の左側の【図2】は、オランダ出身の画家ゴッホがえがいたものです。ゴッホは、右下の【図3】などの作品群をえがいた作者に影響を受けたといわれています。【図3】などの作品群をえがいた人物は誰ですか。漢字で答えなさい。



(国立国会図書館 デジタルコレクションより)

問19 下線部⑲に関連して、儒教の創始者である孔子を神としてまつる場所を「孔子廟」といいます。2013年、那覇市は孔子廟である「久米至聖廟」(【写真7】)に、市が所有する公園の敷地を無償で提供しました。このことに対して、2021年に最高裁判所は憲法違反であると判断をくださいました。その理由を、わかりやすく説明しなさい。



(那覇市観光資源データベース ウェブサイトより)

問20 下線部⑳に関連して、日本は、外国との間でさまざまな貿易をおこなっています。次の表は、2021年の日本国内の積卸港別貿易額(輸出額と輸入額の合計)の上位四つの港を並べたものです。表中の空欄 に入る語として適切なものを、下のア～エの中から一つ選び、記号で答えなさい。

順位	港名	輸出額(億円)	輸入額(億円)
1位	成田国際空港	165,336	183,535
2位	<input type="text" value="X"/> 港	123,154	55,311
3位	東京港	68,132	104,240
4位	横浜港	75,845	61,294

(財務省「貿易統計」より作成)

ア 名古屋 イ 神戸 ウ 福岡空 エ 関西国際空

【レポート8】

「原城」(長崎県南島原市)	
① 訪問日時：8月15日(火)	② 見学時間：8時～10時半(約2時間半)
<p>③ 概要：</p> <p>原城は、有馬氏によって築かれた城である。16世紀の末から改修され、現在も残る石垣や空堀が築かれた。その後、江戸時代となり、有馬氏が移った後、廃城となったが、島原・⑲の乱のさいには一揆軍がたてこもり、決戦の地となった。乱の後、幕府によって石垣などが崩されている。</p> <p>1938年に国の史跡に指定され、2018年には⑳世界遺産にも登録された。また、2017年には続日本100名城(188番)にも選定された。</p>	<p>著作権の関係上、非表示にしています。</p>
<p>④ 感想：</p> <p>この城も、教科書に載っている城なので、今回の旅で絶対に来たい城だった。今の原城跡は、海も近く、おだやかでのどかな田舎という感じだったけど、ここでかつて半年ほど激しい戦いがあった、多くの農民たちが亡くなったなんて信じられなかった。崩されているとはいえ、石垣や空堀は見ごたえがあるので、ぜひ訪れてほしい。</p>	<p>著作権の関係上、非表示にしています。</p>

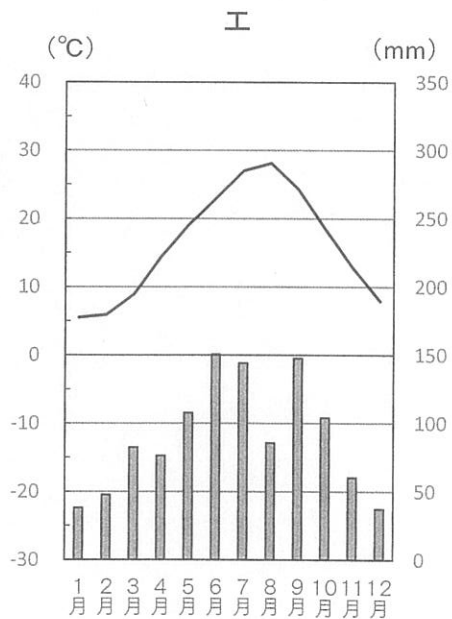
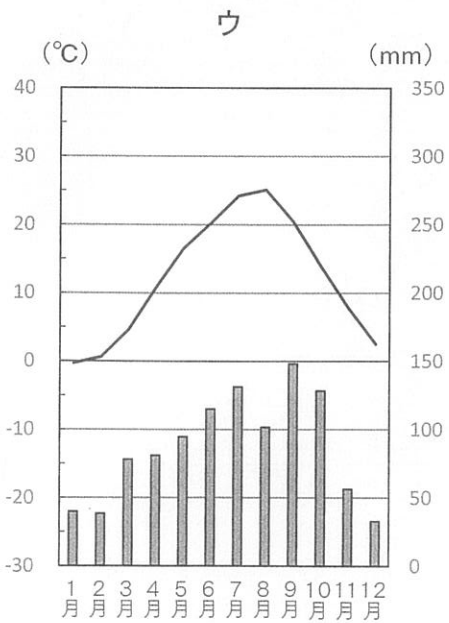
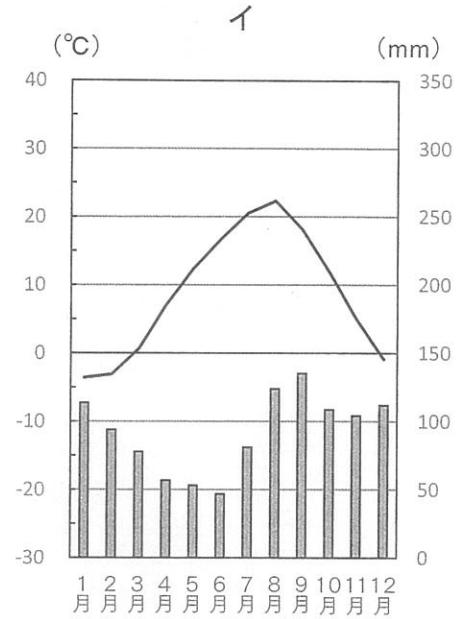
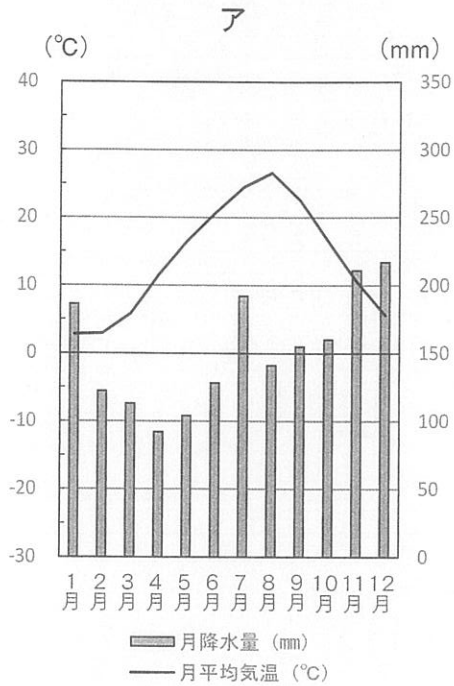
問21 文中の空欄⑲に入る地名を漢字で答えなさい。

問22 下線部⑳に関連して、世界遺産にはさまざまな種類があります。その中でも、「無形文化遺産」というものがあり、現在日本国内では、20件以上が登録されています。その中の一つに「櫓」を原料とする工芸品を作る技術があります。この技術によって作られる工芸品は何ですか。漢字で答えなさい。

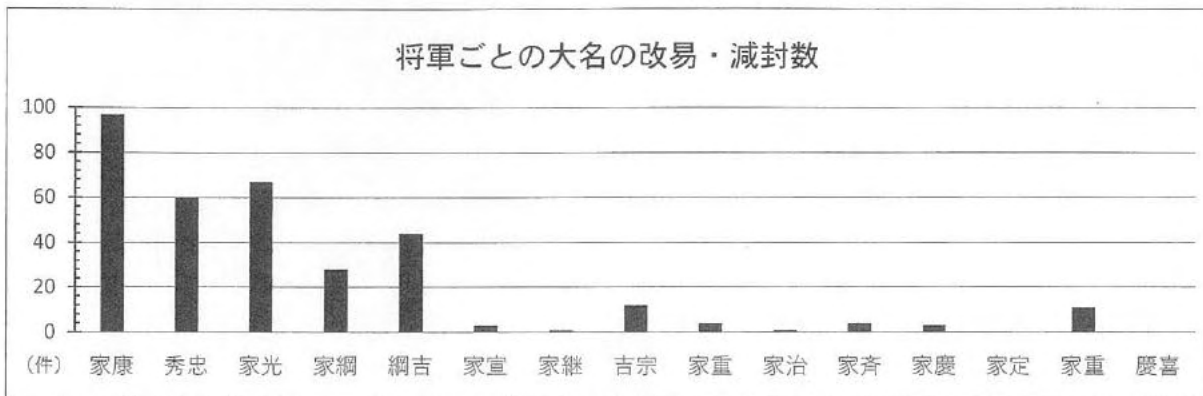
【レポート9】

「島原城」(長崎県島原市)	
① 訪問日時：8月15日(火)	② 見学時間：13時～15時半(約2時間半)
<p>③ 概要：</p> <p>島原城は、江戸時代の初めに築かれた城である。</p> <p>㉓本丸と二の丸がすべて石垣で囲まれていて、天守をはじめとして50棟もの櫓がある、大城郭であった。</p> <p>明治時代に入ると廃城となり、建物は撤去されてしまったが、現在は鉄筋コンクリート造の天守や櫓が復興されている。2006年には、日本100名城(91番)に選定され、2016年には、長崎県の史跡に指定された。</p>	<p>著作権の関係上、非表示にしています。</p>
<p>④ 感想：</p> <p>㉔島原城を築いた松倉氏の領地は4万石しかなかったのに、こんなに高い石垣や多くの櫓のある豪華な城を造ろうとして、農民に対して過酷な税を課したことが原因で、島原の乱が起きたと言われている。そう考えると憎いのだけど、やはり石垣や天守を目にすると、格好いいなあと思ってしまった。</p>	

問23 下線部②に関連して、島原城の本丸と二の丸は、かつて廊下橋^{ろうか}とよばれる屋根のついた木の橋で接続されていました。同じような構造をもった城として、香川県の高松城が知られています。下のア～エの雨温図は、札幌市、新潟市、松本市、高松市のもので、高松市にあたるものを、ア～エの中から選び、記号で答えなさい。




問24 下線部④に関連して、松倉氏は島原の乱が起きた責任をとらされて、大名としての領地を取り上げられました。これを改易げんぽうといいます。次のグラフは、江戸時代の将軍ごとの、大名の改易や減封（領土の削減）がおこなわれた件数を表しています。また【図4】は、家綱が将軍に就任したさいに起きた事件をえがいたものです。これをふまえて、家綱の代以降、改易や減封の件数が減っていった理由は何でしょうか。わかりやすく説明しなさい。



(ただし、家康の時期は、将軍就任前のものもふくみます。)

【図4】

著作権の関係上、非表示にしています。



【レポート10】

「名護屋城」(佐賀県唐津市)	
① 訪問日時：8月16日(水)	② 見学時間：10時～14時(約4時間)
<p>③ 概要：</p> <p>名護屋城は、⑳豊臣秀吉が、朝鮮出兵を始める前に築かせた城である。秀吉の死後は、大陸侵攻が中止となったため、廃城となり、江戸時代には一揆などのたてこもりを防ぐために、石垣が崩された。</p> <p>1955年には国の特別史跡に指定され、2006年には、日本100名城(87番)にも選定された。</p>	著作権の関係上、非表示にしています。
<p>④ 感想：</p> <p>佐賀県の城に来るのは、何年か前の㉑ゴールデンウィーク以来だ。ここも教科書で出てくる城で、秀吉を初めとして、日本中の大名が集まっていた場所なので、ある意味㉒日本の首都のようになっていた。崩れた石垣もまた味があって良い。天守台からの景色も海が見えてとても良く、風が気持ちよかった。市街地化していないので、すべての曲輪を回ったけど、広すぎるのと暑くて、疲れ果てた。</p>	著作権の関係上、非表示にしています。

問25 下線部㉑に関連して、豊臣秀吉は織田信長の家臣としてしだいに台頭して、天下を取った人物です。次のア～エは、織田信長と豊臣秀吉のおこなったことを説明したものです。ア～エを年代が古い方から順に並びかえ、記号で答えなさい。

- ア 桶狭間の戦いで今川義元を討ち取った。
- イ 大阪(坂)城を築いて政治の拠点とした。
- ウ 比叡山延暦寺を焼き打ちした。
- エ 小田原征伐をおこない、北条氏を滅ぼした。

問26 下線部㉒に関連して、ゴールデンウィーク中の5月3日は、憲法記念日です。日本国憲法第11条と第97条を引用した下の【文章】中の、空欄 Y に共通して当てはまる語句を答えなさい。

【文章】

第11条

国民は、すべての基本的人権の享有を妨げられない。この憲法が国民に保障する基本的人権は、侵すことのできない Y として、現在及び将来の国民に与えられる。

第97条

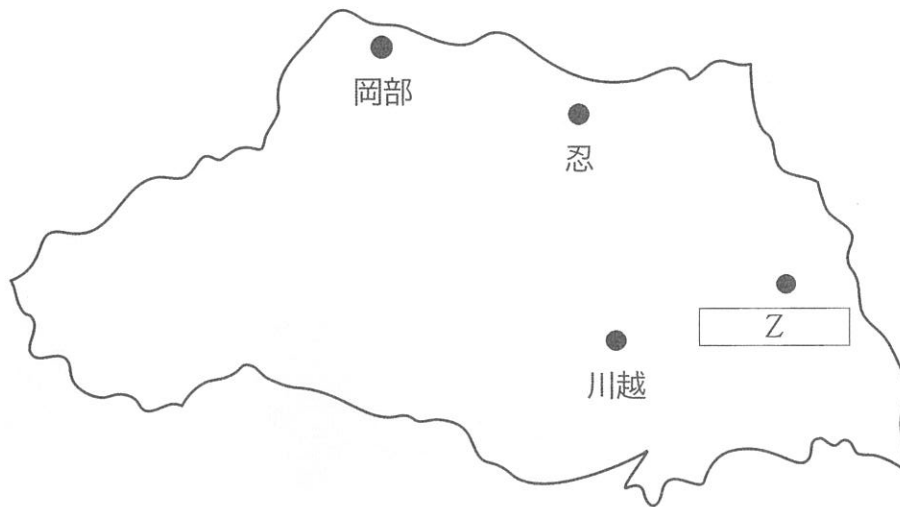
この憲法が日本国民に保障する基本的人権は、人類の多年にわたる自由獲得の努力の成果であつて、これらの権利は、過去幾多の試練に堪へ、現在及び将来の国民に対し、侵すことのできない Y として信託されたものである。

問27 下線部⑳に関連して、日本の首都とされる東京には、国会や中央省庁など、国の機関が多く集まっています。これらの説明として正しいものを、次のア～エの中から一つ選び、記号で答えなさい。

- ア 各省庁の長官や大臣は、すべて国会議員から任命されなければならない。
- イ 日本の国会は衆議院と参議院という二つの議院で構成されているが、任期はともに4年である。
- ウ 最高裁判所の裁判官に対し、衆議院議員総選挙のさいに、国民審査がおこなわれることがある。
- エ 内閣総理大臣は天皇によって指名され、国会での多数決によって承認される。

問28 次の【地図3】は、江戸時代の末に、武蔵国に置かれていた藩の中心地（城や陣屋）があった場所を●で示したものです。地図中の空欄 に適する藩の名前を漢字で答えなさい。

【地図3】



問題は以上です。

問1		問2		問3	
問4	の戦い			問5	
問6	(1)		(2)	絵詞	
問7		問8		問9	
問10	条約				
問11		問12			
問13					
問14					

※

問15		問16	
問17	(1)		
	(2)	核兵器を	
問18			
問19			
問20		問21	
問22			
問23			
問24			
問25		→	
問26			問27
問28			

※

座席番号

受験番号	氏名

※