

令和6年度 第1回入試 入学試験問題

社 会

氏 名	
-----	--

受験上の注意

1. 試験時間は30分間です。
 2. 解答用紙の座席番号と、机に貼られている座席番号が合っているかを確認してください。
 3. 試験監督の指示に従って、問題冊子には氏名を、解答用紙には受験番号・氏名を書いてください。
 4. 印刷が読みにくかったり、解答用紙が破れたり汚れたりした場合は、静かに手をあげて試験監督に知らせてください。
 5. 気分が悪くなったときは、静かに手をあげて試験監督に知らせてください。
 6. 問題を解き終わっても、途中退室はできません。
- ※ 字数制限のある問いでは、句読点や符号（ ， 。 「 」など）も1字と数えます。

1

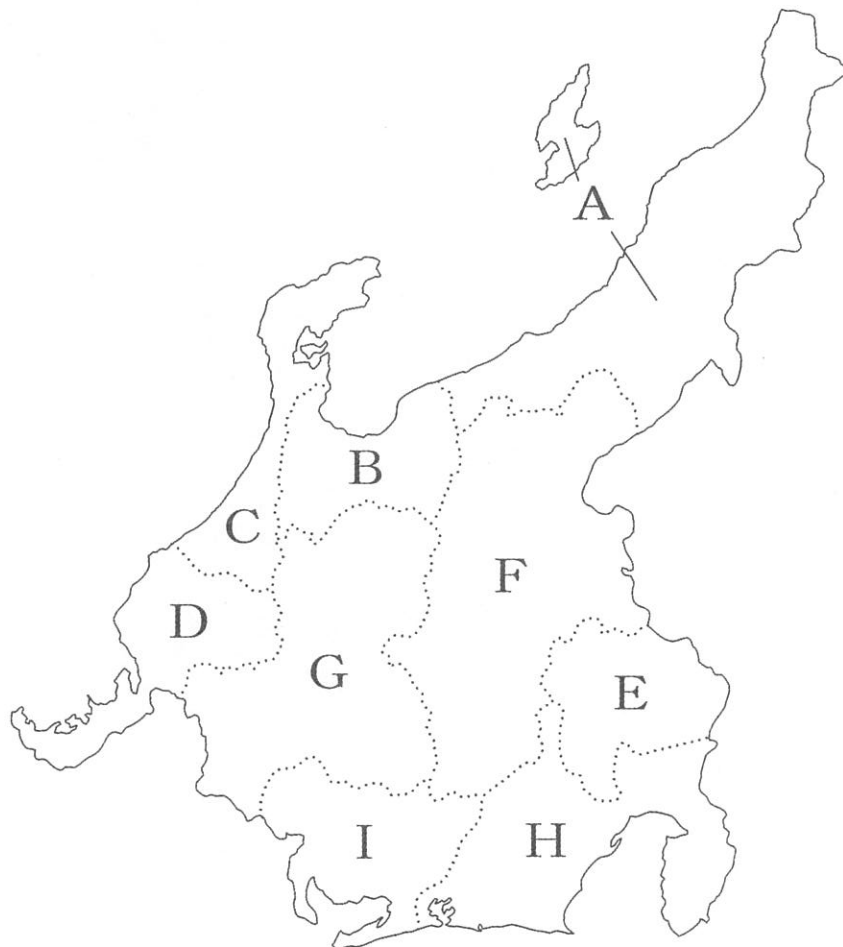
次の「文章」と「地図」を読み、あとの問いに答えなさい。

文章

中部地方の中央には①3000m級の山々が連なっており、いくつかの火山もみられます。川の上流は山がちで平地が少ないですが、下流には②平野が広がっています。

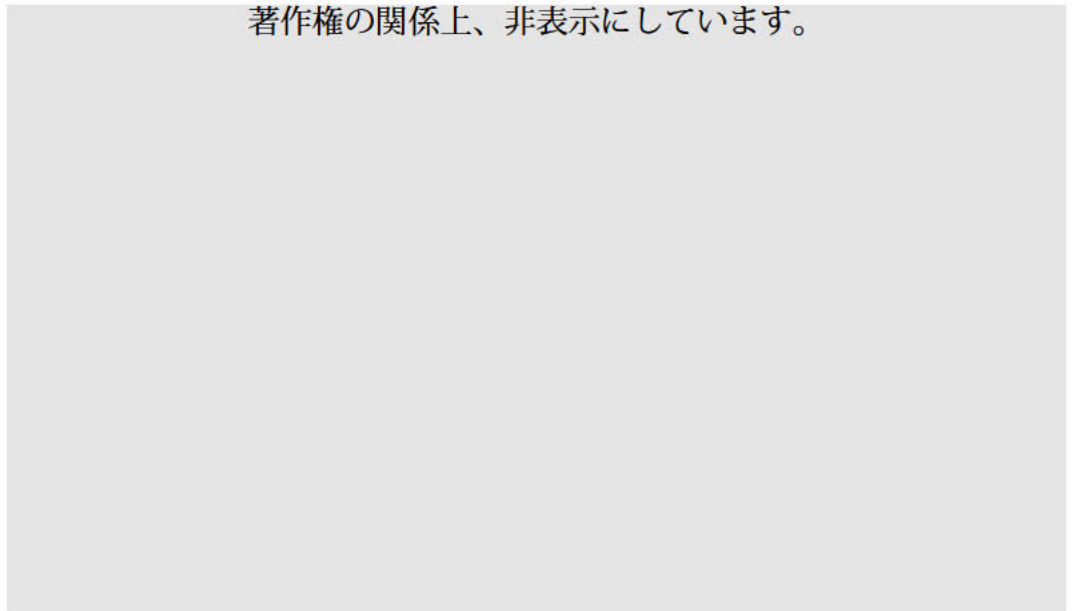
また、第一次産業や③第二次産業もさかんに行われており、日本の中枢を担っています。北陸地方では、④冬に雪が多く、その雪を生かした産業も行われています。近年では、⑤外国人労働者を多く受け入れている地域もあり、グローバル化が進んでいます。

地図

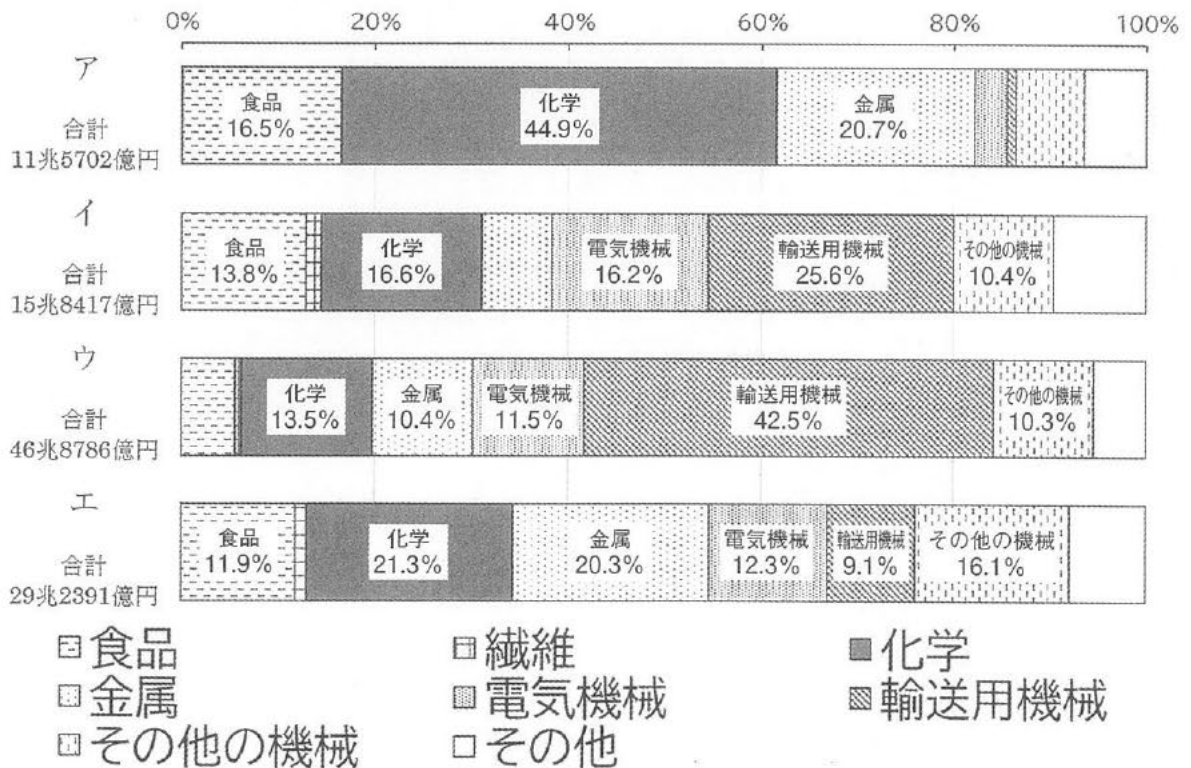


問1 下線部①について、「日本アルプス」と呼ばれる3つの山脈の名称を、解答欄に従ってそれぞれ漢字で書きなさい。

問2 下線部②について、次の写真は地図中Bで撮影されたものです。このような集落がみられる平野の名称を、解答欄に従って書きなさい。



問3 下線部③について、次のア～エのグラフは、日本のある工業地帯、および工業地域の産業別出荷額割合を示したものです。東海工業地域を示したものとして正しいものをア～エから1つ選び、記号で答えなさい。



(「2020年工業統計調査」より作成)

問4 下線部④について、(1)・(2)の問いに答えなさい。

(1) 特定の地域にある原料や古くから伝わる技術を利用して、特産品を製造する産業の名称を、解答欄に従って漢字で書きなさい。

(2) (1)の産業のうち、地図中Cの代表的な伝統的工芸品として正しいものを次のア～エから1つ選び、記号で答えなさい。

ア 西陣織 イ 有田焼 ウ 輪島塗 エ 南部鉄器

問5 下線部⑤について、次の表は日本の都道府県別外国人労働者数の上位5都道府県を示したものであり、表中のア～エには埼玉県、東京都、大阪府、地図中Iのいずれかが当てはまります。地図中Iに当てはまるものをア～エから1つ選び、記号で答えなさい。

都道府県別外国人労働者数(2022)

都道府県	人数(人)
ア	500,089
イ	188,691
ウ	124,570
神奈川県	105,973
エ	92,936

(厚生労働省「外国人雇用状況」の届出状況まとめより作成)

問6 地図中Aの県庁所在地の雨温図として正しいものを次のア～エから1つ選び、記号で答えなさい。

著作権の関係上、非表示にしています。

問7 地図中Iの西部にみられる「輪中」とはどのようなものですか、簡潔に説明しなさい。

問8 次の写真は世界遺産に登録された「合掌造り集落」です。この集落がみられる県を地図中A～Iから2つ選び、記号で答えなさい。

著作権の関係上、非表示にしています。

問9 次のア～ウの文が説明している県を，地図中A～Iから1つずつ選び，記号で答えなさい。

ア 扇状地の地形を利用した果物の栽培がさかんで，ぶどう・ももの生産量がいずれも日本一である。

イ 北部には豪雪地帯が，南部にはリアス海岸がみられ，その海岸沿いには原子力発電所が多く立地している。

ウ 避暑地として有名な軽井沢があり，毎年観光客が多く訪れる。

2

あとの問いに答えなさい。

問1 原始時代について説明した文として正しいものを次のア～エから1つ選び、記号で答えなさい。

ア 旧石器時代には、ナウマンゾウやオオツノジカなどの大型動物が絶滅したため、ニホンジカやイノシシなど中小動物が狩猟の対象となった。

イ 縄文時代には、木の実が多くとれるようになったが、収穫量が不安定なため、定住は行われなかった。

ウ 弥生時代には、大陸から水稲耕作とともに青銅器が伝わったが、鉄器は古墳時代に入ってはじめて伝わった。

エ 古墳時代には、渡来人によって土木や須恵器の製法などの技術だけでなく、漢字・儒教・仏教などの文化も伝わった。

問2 青森県には縄文時代前期～中期まで約1500年間続いた集落の遺跡があります。この遺跡には大型建造物の跡など、他の縄文時代の遺跡にはみられない特徴があることで有名です。この遺跡の名称を、解答欄に従って漢字で書きなさい。

問3 国風文化について説明した文として正しいものを次のア～エから1つ選び、記号で答えなさい。

ア 日本で最初の勅撰和歌集として『万葉集』がつくられた。

イ 清少納言が『源氏物語』を著した。

ウ 阿弥陀仏にすがり、極楽浄土に往生することをめざす信仰が流行した。

エ 藤原道長が別荘として中尊寺金色堂を建立した。

問4 ある天皇が自身の子に譲位をして、上皇として実権を握ったことから院政が始まりましたが、この天皇（上皇）の人物名を、解答欄に従って漢字で書きなさい。

問5 次のア～エを時代順に並べ替えたとき，3番目になるものを1つ選び，記号で答えなさい。

ア 観阿弥と世阿弥が将軍の保護を受けて，能を完成させた。

イ 平氏の焼打ちによって火災にあった東大寺の再建のために，源頼朝は資金提供を行った。

ウ モンゴル軍が博多湾に侵攻してきたが，御家人たちの抵抗や暴風雨による損害を受けたため，モンゴル軍は引き上げた。

エ 千利休がわび・さびの精神を茶に取り入れ，わび茶を大成させた。

問6 次の資料Ⅰ・資料Ⅱは、中世の畿内周辺のおもな関所・港の地図と室町時代に関所にかけられた税（関銭）に関する資料です。これらの資料について説明した文として適当なものを次のページのア～エから2つ選び、記号で答えなさい。

資料Ⅰ 畿内周辺のおもな関所・港

著作権の関係上、非表示にしています。

資料Ⅱ 「近江朽木関関銭」

一、海藻	一駄 ^{いちだ} * ¹ 七文、かちに* ² 三文
一、魚	一駄七文、かちに三文
一、鉄	一駄十文、かちに三文
一、銅	一駄二十文、かちに五文
一、苧 ^{からむし} * ³	一駄七文、かちに七文

* 1 馬で運ぶこと、ここでは馬 1 匹で運んだ際にかかる関銭を指す

* 2 1 人が背負って運ぶ荷物のこと、ここでは 1 人で背負って運んだ際にかかる関銭を指す

* 3 衣服の原料となったもの

ア 加太（現在の和歌山県）から京都に荷物を運ぶ場合、関銭を一切払わずに到着することはできない。

イ 小浜（現在の福井県）から京都に荷物を運ぶ場合、関銭を一切払わずに到着することはできない。

ウ 朽木関（現在の滋賀県）を通る際の関銭は、3 人で銅を背負って運ぶ場合よりも、馬を 2 匹もちいて魚を運ぶ場合の方が高い。

エ 朽木関を通る際の関銭は、3 人で海藻を背負って運ぶ場合よりも、馬を 1 匹もちいて鉄を運ぶ場合の方が高い。

問 7 次の絵画の作者名を書きなさい。

著作権の関係上、非表示にしています。

問8 次のア～エが示す出来事を時代順に並べ替えたとき、3番目になるものを1つ選び、記号で答えなさい。

著作権の関係上、非表示にしています。

問9 明治維新後、天皇を中心とした中央集権国家の形成のために、薩摩藩・長州藩・土佐藩・肥前藩の四藩は朝廷（天皇）に人民と領地を返納しました。この出来事の名称を漢字で書きなさい。

問10 アメリカによる日本の占領政策のあり方は、1950年以降に大きく変化しました。なぜ変化したのか、またどのように変化したのか、軍事面や朝鮮半島の情勢に着目して、簡潔に説明しなさい。

問11 次の資料Ⅰ・資料Ⅱを読み、これらの資料について説明した文として最も適当なものを次のページのア～エから1つ選び、記号で答えなさい。

資料Ⅰ

一、日本国とソヴィエト社会主義共和国連邦との間の戦争状態は、この宣言が効力を生ずる日に終了し、両国の間に平和及び友好善隣関係が回復される。

四、ソヴィエト社会主義共和国連邦は、国際連合への加入に関する日本国の申請を支持するものとする。

六、ソヴィエト社会主義共和国連邦は、日本国に対し一切の賠償請求権を放棄する。

九、日本国及びソヴィエト社会主義共和国連邦は、両国間に正常な外交関係が回復された後、平和条約の締結に関する交渉を継続することに同意する。

ソヴィエト社会主義共和国連邦は日本国の要望にこたえ、かつ日本国の利益を考慮して、歯舞群島および色丹島を日本国に引き渡すことに同意する。ただし、これらの諸島は日本国とソヴィエト社会主義共和国連邦との間の平和条約が締結された後に、現実に引き渡されるものとする。

(一部要約しています)

資料Ⅱ

- 一、日本国と中華人民共和国との間のこれまでの不正常な状態は、この共同声明が発出される日に終了する。
- 二、日本国政府は、中華人民共和国政府が中国の唯一の合法政府であることを承認する。
- 三、中華人民共和国政府は、台湾が中華人民共和国の領土の不可分の一部であることを重ねて表明する。日本国政府はこの中華人民共和国政府の立場を十分理解し、尊重し、ポツダム宣言第八項に基づく立場を堅持する。
- 五、中華人民共和国政府は、中日両国国民の友好のために、日本国に対する戦争賠償の請求を放棄することを宣言する。

(一部要約しています)

- ア 資料Ⅰを調印した内閣のときに、教育基本法が制定された。
- イ 資料Ⅱを調印した内閣総理大臣はノーベル平和賞を受賞した。
- ウ 資料Ⅰ・資料Ⅱによると、日本はソヴィエト社会主義共和国連邦と中華人民共和国に賠償金の支払いを行った。
- エ 資料Ⅰの調印のあとに日韓基本条約の締結が行われ、その後資料Ⅱの調印がなされた。

問12 冷戦の終結後、地域紛争の増加を受け、日本はある法律を定め、自衛隊をカンボジアに派遣しました。この法律の名称を、解答欄に従って3文字で書きなさい。

3

A 三権に関するあとの問いに答えなさい。

問1 日本の国会による、行政権と司法権への抑制の組み合わせとして正しいものを次のア～カから1つ選び、記号で答えなさい。

	行政権への抑制	司法権への抑制
ア	内閣不信任決議	弾劾裁判
イ	衆議院の解散	弾劾裁判
ウ	弾劾裁判	内閣不信任決議
エ	違憲立法審査	内閣不信任決議
オ	内閣不信任決議	違憲立法審査
カ	弾劾裁判	違憲立法審査

問2 日本の国会について、(1)・(2)の問いに答えなさい。

(1) 日本の国会議員に占める女性の割合の少なさは大きな問題となっています。次の文中の□に当てはまる語句を書きなさい。

□ギャップ指数と呼ばれる独自の数値で評価された世界各国の男女間の平等についての調査(2023年6月)では、日本は政治参加の分野で格差が大きく、調査対象となった146か国中125位となりました。

(2) 1946年4月に行われた衆議院議員選挙で当選した女性議員数は何人ですか。女性議員数として正しいものを次のア～エから1つ選び、記号で答えなさい。

ア 9人 イ 19人 ウ 39人 エ 59人

問3 日本の行政権を担当する機関の仕事として正しいものを次のア～エから1つ選び、記号で答えなさい。

ア 法律や条約の公布 イ 最高裁判所長官の指名
ウ 栄典の授与 エ 国会の召集

B 次のサミット（主要国首脳会議）開催年表を見て、あとの問いに答えなさい。（なお、問題作成の都合上、一部省略しています。）

回	年	開催国	開催地
1	1975	A	ランブイエ
24	1998	イギリス	バーミンガム
26	2000	日本	B
34	2008	日本	C
38	2012	アメリカ	キャンプデービッド
40	2014	ベルギー	ブリュッセル
42	2016	日本	D
49	2023	日本	E
50	2024	F	プーリア州

問1 年表中Aに当てはまる国名として正しいものを次のア～エから1つ選び、記号で答えなさい。

ア イギリス イ アメリカ ウ フランス エ カナダ

問2 年表中B～Eに当てはまる開催地の組み合わせとして正しいものを次のア～エから1つ選び、記号で答えなさい。

ア B 沖縄県 C 三重県 D 大阪府 E 広島県
 イ B 東京都 C 沖縄県 D 北海道 E 長崎県
 ウ B 沖縄県 C 北海道 D 三重県 E 広島県
 エ B 三重県 C 沖縄県 D 北海道 E 長崎県

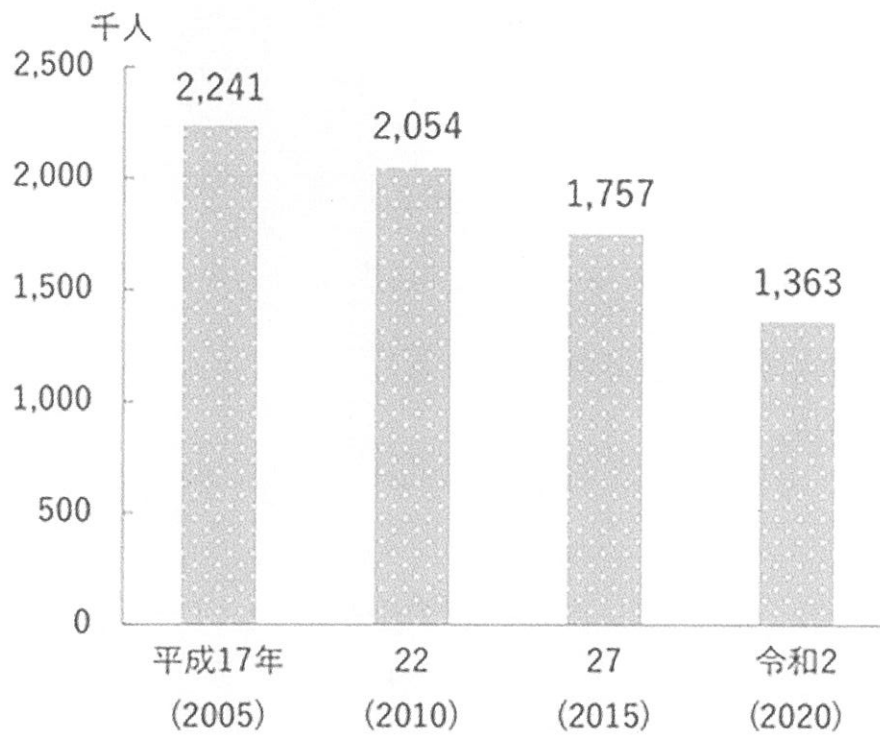
問3 年表中Fに当てはまる国名として正しいものを次のア～エから1つ選び、記号で答えなさい。

ア イタリア イ フランス ウ ドイツ エ スペイン

問4 1998年の第24回サミットから2013年の第39回サミットまではG8での開催でしたが、第40回からは1か国が外れてG7での開催となりました。この外れた国の名称を書きなさい。

4 次のグラフは、基幹的農業従事者数（農業を主な仕事としている人の数）の推移を示したものです。グラフから、日本では農家の人手不足が問題となっていることがわかります。その問題を解決するために、どのような取り組みが必要ですか、具体例を挙げて50字以内で説明しなさい。

基幹的農業従事者数



(農林水産省『令和3年度 食料・農業・農村白書』より引用)

問題は以上です。

