

1 次の文を読んで、文中の (1) ~ (12) について、後の同番号の各問いに答えなさい。

世界の情勢の変化によって日本国内では、(1)農水産物や(2)工業製品が、余ったり不足したりすることがしばしばみられます。たとえば、(3)2023年9月、(4)福島第1原子力発電所の処理水の海洋放出を受け、(5)中国が(6)日本産の水産物の輸入を全面的に停止した結果、日本各地で水産物が余ってしまいました。そのため、(7)北海道森町では、輸出できずに水産会社の冷どう庫で保管されているホタテを町が買い取り、全国の学校給食用に無償で提供することを決めました。

また、新型コロナウイルス感染症が流行した時期には、世界的な半導体(集積回路)の不足が問題になりました。テレワークが急速に普及し、パソコンの需要が増加したことが、その背景のひとつであるといわれました。日本国内で生産する半導体を増やして安定的に供給する必要性が増し、政府による工場誘致の働きかけもあったことから、台湾の有力企業が(8)熊本県菊陽町への進出を決めました。この場所に決まった理由のひとつは、(9)熊本空港に近く、製品の輸送に便利であることが考えられます。キャベツ畑などの(10)農地が広がり、(11)牛舎が点在していた地域に、2022年から工場建設が始まっており、今後、本格的な生産が開始される予定です。そのため菊陽町では雇用機会が増えることから、この先も(12)人口の増加が予想されています。

(1) これについて、次の各問いに答えなさい。

(1) 日本では、食生活の変化とともに米の消費量が減り、米が余るようになってきました。そのため1970年ころから、農業政策の一環として、大豆や麦などほかの農作物への転作をすすめて、稲の作付け面積を減らしてきました。この農業政策の名称を漢字で書きなさい。

著作権の関係上、非表示にしています。

(2) 右の図は、四国地方における野菜産出額・果実産出額・漁業産出額にしめる4県の割合をあらわしたものです。愛媛県と高知県にあてはまるものを図中のア～エからそれぞれ選んで、愛媛県→高知県の順にその記号を書きなさい。

(2) これについて、次の表は、鉄鋼切断品・衛生用紙・ガソリン・しょうゆの出荷額上位府県を、それらの主要な原材料である鉄鉱石・木材・原油・大豆の輸入先上位国とともにあらわしたものです。衛生用紙と木材の組み合わせにあてはまるものを表中のア～エから選んで、その記号を書きなさい。なお、衛生用紙とはティッシュペーパーやトイレトペーパー用紙のことです。

著作権の関係上、非表示にしています。

(3) この月に発生したアフリカ北部の災害について述べた次の文中の (a) ・ (b) にあてはまる語句の組み合わせとして正しいものを下のア～エから選んで、その記号を書きなさい。

9月8日、モロッコの●地点で (a) が発生し、土壁の家屋が倒壊して多くの死傷者が出ました。また9月11日、リビアの▲地点で (b) が発生し、多くの人が亡くなり、行方不明者も多数にのぼりました。

著作権の関係上、非表示にしています。

- | | | |
|---|--------------------|------------------|
| ア | a - 大量の噴石をともなう火山噴火 | b - 極度の乾燥による森林火災 |
| イ | a - 大量の噴石をともなう火山噴火 | b - 大雨による洪水 |
| ウ | a - マグニチュード6.8の地震 | b - 極度の乾燥による森林火災 |
| エ | a - マグニチュード6.8の地震 | b - 大雨による洪水 |

(4) これがある福島県について、右の図を見て、次の各問いに答えなさい。

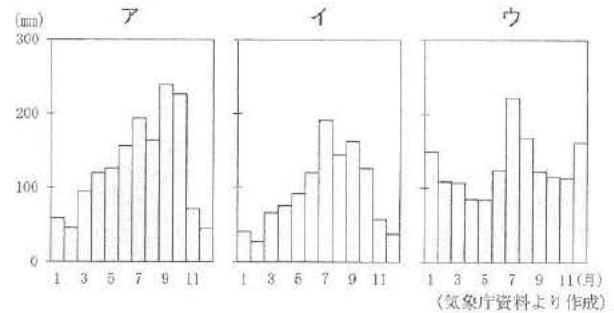
- ① 図中の (X) ・ (Y) にあてはまる山脈・高地の名称の組み合わせとして正しいものを右のア～エから選んで、その記号を書きなさい。

	X	Y
ア	越後	阿武隈
イ	越後	北上
ウ	飛騨	阿武隈
エ	飛騨	北上

- ② 図中の猪苗代湖から流れ出る日橋川は、日本海に注ぐある河川の支流のひとつであり、この河川の下流域では1960年代なかばから公害病が発生しました。この河川を次のア～エから選んで、その記号を書きなさい。

- ア 阿賀野川 イ 信濃川
ウ 神通川 エ 最上川

- ③ 右の図は、右上の図中の喜多方市・郡山市・浪江町の月別降水量をあらわしたものです。郡山市と浪江町にあてはまるものをア～ウからそれぞれ選んで、郡山市→浪江町の順にその記号を書きなさい。



(5) これについて述べた文として正しいものを次のア～エから選んで、その記号を書きなさい。

- ア 中国の人口が2023年にインドの人口を下回ったことを受けて、中国政府は一人っ子政策の廃止を決めた。
イ 中国南西部はインドとの国境にあたり、人やモノの行き来がさかんなため、人口が集中して多くの都市が発達している。
ウ 日本は、中国からたくさんの衣類を輸入しているが、イタリアから輸入する衣類に比べると価格の安い製品が中心である。
エ 横浜市・新潟市・那覇市には、中国系住民が集まって住む中華街があり、飲食店などが立ちならんでいる。

(6) この生産量について、左下の図Pは、沖合漁業と沿岸漁業の生産量の推移をあらわしたものです。同様に遠洋漁業と養殖業の生産量の推移をあらわした図として正しいものを右下のア～エから選んで、その記号を書きなさい。

著作権の関係上、非表示にしています。

(7) これについて、右の図は、北海道西部における代表的な半導体工場・製鉄所・造船所の所在地をあらわしたものです。半導体工場と製鉄所にあてはまるものを図中のア～ウからそれぞれ選んで、半導体工場→製鉄所の順にその記号を書きなさい。

著作権の関係上、非表示にしています。

(8) この町の水道について述べた次の文中の () に共通してあてはまる語を漢字3字で書きなさい。

日本の多くの地域において水道には河川水が用いられますが、熊本県菊陽町は、阿蘇山に近く () が豊富なことから、町内の水道はすべて () が用いられます。なお、菊陽町の () は、自然にわき出てくるものと、ポンプでくみ上げるものがあり、そのまま飲めるほどきれいな () ですが、安全のために消毒しています。

- (9) これについて、右の表は、熊本空港・仙台空港・高松空港における午前7～9時台の旅客便の出発予定時刻をあらわしたものです。熊本空港と仙台空港にあてはまるものを表中のA～ウからそれぞれ選んで、熊本空港→仙台空港の順にその記号を書きなさい。

著作権の関係上、非表示にしています。

- (10) これに関して、次の文は、三重県伊賀地方で撮影した農地の写真について説明したものです。文中の (a) ・ (b) にあてはまる語句の組み合わせとして正しいものを下のA～エから選んで、その記号を書きなさい。

写真1は、2023年9月下旬に撮影したものであり、(a) 直後の田の様子です。また写真2は、写真1の場所から少しはなれた高齢者が多く住む地域において、同じ日に撮影したものであり、(b) 田の様子です。

著作権の関係上、非表示にしています。

- ア aー稲刈り bー耕作が放棄されている イ aー稲刈り bー二毛作で麦が栽培されている
ウ aーしろかき bー耕作が放棄されている エ aーしろかき bー二毛作で麦が栽培されている

- (11) ここではおもに肉牛や乳牛が飼われています。右の図は、日本の肉牛・乳牛・豚の飼育頭数にしめる九州地方・関東地方・北海道地方の割合をあらわしたものです。肉牛にあてはまるものをA～ウから、関東にあてはまるものをカ・キからそれぞれ選んで、肉牛→関東の順にその記号を書きなさい。



















著作権の関係上、非表示にしています。

- (12) これについて、右の図は、関東地方、新潟県を除く中部地方、近畿地方の都府県における都府県外へ通勤や通学で流出する人口の割合と、就業者数にしめる製造業に就く人数の割合の高低を、次の表にしたがって異なる模様でぬりわけたものです。なお、静岡県はまだぬり分けられていません。これらを見て、下の各問いに答えなさい。


著作権の関係上、非表示にしています。

		就業者数にしめる製造業に就く人数の割合	
		高い(20%以上)	低い(20%未満)
都府県外へ通勤や通学で流出する人口の割合	高い(5%以上)		(a)
	低い(5%未満)	(b)	(c)

- ① 上の表中の (a) ～ (c) にあてはまる模様の組み合わせとして正しいものを右のA～カから選んで、その記号を書きなさい。

	ア	イ	ウ	エ	オ	カ
a						
b						
c						

- ② 静岡県にあてはまる模様を次のA～エから選んで、その記号を書きなさい。

- ア  イ  ウ  エ 

2 次の文を読んで、文中の (1) ~ (9) について、後の同番号の各問いに答えなさい。

(1)近鉄奈良駅前の広場に立つ行基像。奈良時代の僧である行基は、民衆のために川に橋をかけたり、貧しい人たちの救済などの福祉事業に取り組んだりしたことから、ボランティア活動の先がけといわれることがあります。

ボランティアとは、自発性・社会性・無償性を原則とする活動とされています。(2)兵庫県南部地震(阪神・淡路大震災)では、全国各地から多数のボランティアがかけつけ、1995年は「ボランティア元年」とよばれるようになりました。ボランティア活動の範囲は、自然災害からの復旧・復興のみならず、教育や福祉、まちづくりや地域活性化、国際貢献など多岐にわたります。近年では、新型コロナウイルスの感染が拡大するなかでオンラインを活用した学習支援が行われたり、(3)SNS(ソーシャル・ネットワーキング・サービス)を利用した募集や広報が行われたりするなど、社会情勢の変化に応じた試みもみられます。

(4)国や地方自治体もボランティア活動を奨励しており、(5)特定非営利活動促進法では、NPO(非営利組織)に(6)税金の優遇措置を定めるなど、その活動を後押ししています。国際的にも、(7)国連総会は12月5日を国際ボランティア・デーと定めており、国連機関や(8)NGO(非政府組織)で多くのボランティアが活動しています。

行基が活躍した時代も、人びとが疫病や天変地異で苦しめられていた時代です。グローバル化が進んだ現代においても、(9)環境問題などさまざまな社会的課題の解決にむけて、ボランティアの果たす役割への期待は高まっています。

- (1) これは近畿日本鉄道(以下、近鉄)の駅です。近鉄について述べた次の文中の(a)・(b)にあてはまる語を(a)はカタカナ6字で、(b)は漢字4字で、それぞれ書きなさい。

近鉄は、少子高齢化に加え、新型コロナウイルス感染症の流行によって利用客が減少していること、また車両・設備の更新や(a)の推進などの費用がかかることから、(b)省に運賃の値上げ申請を行いました。その結果、2022年9月にこれが認められ、2023年4月1日より値上げが実施されました。なお、(a)とは、一般的に障がいのある人や高齢者が生活する際に障壁となるものを取り除くことを意味し、具体的には駅構内にスロープ、エレベーター、多機能トイレなどの設置を進めることです。

- (2) このとき、震度7が観測されました。昨年までに震度7が観測された地震として、兵庫県南部地震(阪神・淡路大震災)のほかに、新潟県中越地震、東北地方太平洋沖地震(東日本大震災)、熊本地震、北海道胆振東部地震があります。右の表は、これらの地震による被害の様子をあらわしたものです。新潟県中越地震にあてはまるものを表中のA~Eから選んで、その記号を書きなさい。

	全壊した住家	関連するできごと
A	122,006 棟	原子力発電所の事故が発生した。
I	104,906 棟	高速道路の橋脚が倒壊した。
U	8,667 棟	城の天守閣が大きな被害を受けた。
E	3,175 棟	走行中の新幹線が脱線した。
O	469 棟	大規模停電が発生した。

(令和4年版防災白書などより作成)

- (3) これについて述べた次の文中の(a)・(b)にあてはまる語句の組み合わせとして正しいものを下のA~Eから選んで、その記号を書きなさい。

これまでSNSなどインターネット上での情報の規制は、憲法が保障する(a)の制限につながることから、慎重さが求められてきました。しかしながら、インターネットを利用した人権侵害や犯罪被害が深刻化するなか、近年では規制が強まりつつあります。たとえば、インターネット上での誹謗中傷の問題に対処するため、2022年に(b)が厳罰化されました。

- A a-思想の自由 b-脅迫罪 I a-思想の自由 b-侮辱罪
 U a-表現の自由 b-脅迫罪 E a-表現の自由 b-侮辱罪

- (4) これについて、次の各問いに答えなさい。

① 国の政治のしくみについて述べた文として正しいものを次のA~Eから選んで、その記号を書きなさい。

- A 内閣総理大臣は、憲法の規定により、衆議院において多数をしめた政党の党首が選ばれる。
 I 内閣総理大臣は、内閣の最高責任者として、国務大臣を任命したりやめさせたりすることができる。
 U 最高裁判所の長官は、内閣によって指名され、国会による同意を得たのちに天皇によって任命される。
 E 最高裁判所の長官は、国民から選ばれた裁判員による弾劾裁判によってやめさせられることがある。

② 地方自治のしくみについて、奈良県を例にして述べた文として正しいものを次のA~Eから選んで、その記号を書きなさい。

- A 奈良県知事は、奈良県議会が作成した予算案を拒否することができる。
 I 奈良県議会は、奈良県知事に対する不信任の議決を行うことができる。
 U 奈良県の条例は、県民のみに適用されることから、裁判所による違憲審査の対象とはならない。
 E 奈良県の財政は、県民の税金のみでまかなわれ、国が補助金を支出する対象とはならない。

(5) これに関して、法律やその制定過程について述べた文として正しいものの組み合わせを下のア～エから選んで、その記号を書きなさい。

- a 国会が毎年4月に召集されることは、法律によって定められている。
- b 昭和の日や憲法記念日などの国民の祝日は、法律によって定められている。
- c 法律案は、原則として委員会で審査が行われたのちに、本会議で審議が行われる。
- d 法律案は、参議院より先に衆議院で審議されなければならない。

ア a・c イ a・d ウ b・c エ b・d

(6) これについて述べた次の文 a・b の正誤の組み合わせとして正しいものを下のア～エから選んで、その記号を書きなさい。

- a 消費税の税率は、経済情勢の変化に応じて、内閣総理大臣が政令によって定めている。
- b 消費税、所得税、法人税のなかで、昨年度の国の税収に占める割合がもっとも大きかったのは法人税である。

ア a-正 b-正 イ a-正 b-誤 ウ a-誤 b-正 エ a-誤 b-誤

(7) ここで採択された条約に女子差別撤廃条約があります。

右の表は、アメリカ・韓国・ドイツ・日本の4か国について、同条約を批准しているかどうかをあらわしたものです。それに加えて、ジェンダーギャップ指数(2023年)の順位と、過去に女性が大統領・首相に就任したかどうかについてもあらわしています。ドイツと日本にあてはまるものを表中のア～エからそれぞれ選んで、ドイツ→日本の順にその記号を書きなさい。

著作権の関係上、非表示にしています。

(8) これは、日本では1960年代から設立数が増加し、1990年代にはとくに多くのNGOが設立されました。1960年代から1990年代の日本でおこったできごとについて述べた文として正しいものを次のア～エから2つ選んで、その記号を書きなさい。

- ア 高い経済成長率が続くなか、大阪で万国博覧会が開催された。
- イ 第一次石油危機によって財政赤字が深刻化したため、消費税が導入された。
- ウ 急激に上昇していた土地や株式の価格が下落に転じ、バブル経済が崩壊した。
- エ 沖縄がアメリカから返還され、東京オリンピックに沖縄出身選手が日本代表として出場した。

著作権の関係上、非表示にしています。

(9) これについて、地球温暖化防止にむけた取り組みのなかで、再生可能エネルギーによる発電は有効な方法のひとつとされています。右の図は、日本における太陽光・地熱・風力による発電量の推移をあらわしたものです。太陽光と風力にあてはまるものを図中のア～ウからそれぞれ選んで、太陽光→風力の順にその記号を書きなさい。

3 次の文を読んで、文中の(1)～(8)について、後の同番号の各問いに答えなさい。

昨年、『古事記』の編さん者である(1)太安万侶の没後1300年をむかえました。その編さんは、(2)稗田阿礼が暗誦していた歴史書の内容などを、太安万侶が文字に書きおこす形で行われました。『古事記』は朝廷が作成を命じた歴史書であり、朝廷はほかにも(3)『日本書紀』をはじめとして公式な歴史書を編さんさせています。こうした歴史書は国史とよばれます。書物の形として残っているのは10世紀初めの『日本三代実録』が最後で、以降も国史の編さんは進められましたが、完成したものはありません。

明治時代になり新政府ができると、天皇から「国史が途絶えて続かないというのは、あまりにも不完全なことである。今こそ(4)鎌倉時代以降の武家政権の弊害を除き、政治を復興したのだから、国史の校正局を開き、かつての(5)偉業を継いで……人としてのあるべき道を知らしめよ。」という指示がだされ、国史の編さんを行うことが決定されました。ここからは、天皇を中心とする(6)あらたな国家のありかたが歴史的に正しいものであることを示そうという意図が読み取れます。しかし事業は難航したため、政府は歴史書にかわり、史料集である『大日本史料』の編さんを始めました。その編さんは、第二次世界大戦での敗戦を受けて一時中断されましたが、(7)1952年から出版を再開し、現在も事業が引き継がれています。

明治政府にかぎらず、あらたに成立した政府や王朝が歴史書をつくらせることは、(8)中国において古くからみられます。日本についての記述が残る最古の書物である『漢書』のほか、(9)あわせて24の歴史書が、清朝において公式なものとして定められました。こうした歴史書は、その成立の背景から、編さんを命じた政府や王朝にとって不都合な内容は除かれたり書きかえられたりしているとみてよいでしょう。

(1) この人物の墓の碑文には、太安万侶が平城京の左京四条四坊に住んだことが記されています。これについて、次の各問いに答えなさい。

① 平城京について述べた次の文 a・b の正誤の組み合わせとして正しいものを下のア～エから選んで、その記号を書きなさい。

- a 平城京から出土した木簡のなかには、調として都に納められた地方の特産物について、その品名だけでなく産地名も記されたものが見ついている。
- b 天皇が派遣した役人に全国の土地と人民を統治させる公地公民制がとられたため、地方の支配地を失った豪族は平城京に移り住んで、朝廷の役人として仕えた。

ア a-正 b-正 イ a-正 b-誤 ウ a-誤 b-正 エ a-誤 b-誤

② 四条大路や四坊大路とは、平城京のなかにつくられた道路の名称であり、前者は東西、後者は南北の道を示します。平城京における南北の道のうち、羅城門と宮城とを結ぶ中央の大通りの名称を解答らんにあわせてひらがな3字で書きなさい。

(2) このほかにも、歴史を知るうえでは絵画資料を参考にすることがあります。これについて、次の各問いに答えなさい。

著作権の関係上、非表示にしています。

① 右の図は、平安時代の宮中の様子がえがかれたものです。これについて述べた次の文中の()にあてはまる語を漢字4字で書きなさい。

これは、叙位(位階をさずける朝廷の儀式)の場面です。貴族社会では、こうした政務に関する儀式だけでなく、3月3日の上巳や5月5日の端午などの節会といった多様な()が発達し、手順や作法が細かく決められていました。

② 右の図は、室町時代の田植えの様子がえがかれたものです。この図中のA～Cについて述べた次の文 a～c の正誤の組み合わせとして正しいものを下のア～カから選んで、その記号を書きなさい。

著作権の関係上、非表示にしています。

- a Aでは、田植えの作業のそばで、豊作を祈願するために神仏に狂言を奉納している。
- b Bでは、このころあらたに肥料として用いられるようになった干したイワシを田の土に混ぜている。
- c Cでは、牛に鉄製の農具を引かせることで、田の土を耕している。

ア a-正 b-正 c-誤 イ a-正 b-誤 c-正 ウ a-正 b-誤 c-誤
エ a-誤 b-正 c-正 オ a-誤 b-正 c-誤 カ a-誤 b-誤 c-正

(3) これについて、次の史料Xは『日本書紀』、史料Yは中国の歴史書からの抜粋であり、一部をわかりやすく書き改めたものです。それぞれの史料中の「推古天皇十五年」と「大業三年」が同じ年にあたります。史料X・Yとこのころの日本について述べた下の文 a・b の正誤の組み合わせとして正しいものを下のア～エから選んで、その記号を書きなさい。

X 推古天皇十五年……大礼の小野妹子を中国に派遣し……十六年……中国の使者裴世清と従者十二人とが小野妹子に従って筑紫に到着した。……九月……客人の裴世清が帰路についた。よってふたたび小野妹子を大使とし、……客人に付き添わせた。天皇は中国の皇帝にあいさつのことばを送り、そこに「東の天皇が、謹んで西の皇帝に申し上げる……。」と書いた。

Y 大業三年、倭の王が使者を派遣してきた。……その国書には「太陽が昇るところにいる天子が、書を太陽が沈むところにいる天子に届ける。息災か。」と書かれていた。皇帝はこれを見て……「野蛮人の国書に無礼きわまるものがある。二度と私に取りつぐな。」と言った。翌年、皇帝は文林郎の裴世清を倭に使者として派遣した。
※中国の官職のひとつ。

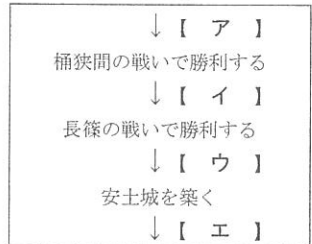
- a 「大業」という年号が中国で使用されていたことに配慮して、「国書」では年号が用いられなかったが、日本には独自の年号が存在した。
- b 「文林郎」など中国の官職を参考にして、「裴世清」が帰国したのちに、日本でも官僚制度として冠位十二階の制が整えられた。

ア a-正 b-正 イ a-正 b-誤 ウ a-誤 b-正 エ a-誤 b-誤

(4) これについて、次の各問いに答えなさい。

- ① 最初の武家政権とされる鎌倉幕府について述べた文として下線部が正しいものを次のア～エから選んで、その記号を書きなさい。
 - ア 源頼朝は征夷大將軍の地位に就くと、源義経に奥州藤原氏の追討を命じ、これにしたがわなかった義経を滅ぼした。
 - イ 幕府は承久の乱で京都の朝廷に勝利すると、それまで東国においていた守護と地頭を西国にもおいた。
 - ウ 北条泰時が定めた御成敗式目には、北条氏に反発する御家人を統制するために執権の権限拡大が盛りこまれた。
 - エ モンゴル軍の攻撃を受けて、幕府は御家人だけでなく、將軍と主従関係がない武士にも九州の防備を命じた。

② 右の図は、織田信長が権力を拡大する過程のできごとを年代順にならべたものです。織田信長が足利氏の將軍を京都から追放した時期としてあてはまるものを図中のア～エから選んで、その記号を書きなさい。



③ 武家政権は、江戸幕府の將軍であった徳川慶喜が政権を天皇に返上したことで終わりました。徳川慶喜の出身である水戸藩について述べた次の文中の ア ～ エ から正しいものを選んで、その記号を書きなさい。

水戸藩は、尾張藩・紀伊藩とならんで徳川一門が藩主を務めました。こうした藩は、アその領地や領民を幕府が直接支配する親藩に分類されます。そのなかでも水戸藩は、イ藩主が参勤交代を行わないことを徳川家康以来の歴代將軍から認められていました。また水戸藩は歴史書の編さん事業を行ったことでも知られます。幕末にはその事業を通じて、天皇を中心とする政治をめざす思想が高まりました。こうした思想は水戸学とよばれ、藩の学校として設立された弘道館でも教えられました。ここは、ウのちに五箇条の御誓文を起草する木戸孝允が水戸藩士時代に学んだことで知られます。エ版籍奉還に続く廃藩置県の実施を通じて水戸藩が廃止されたあとも編さん事業は引き続き行われ、1906年によく完成しました。

(5) このひとつとして、明治時代には議会が開かれました。明治時代の議会について述べた次の文 a・b の正誤の組み合わせとして正しいものを下のア～エから選んで、その記号を書きなさい。

- a 自由民権運動を指導した板垣退助は、政府が議会の開設を約束すると、自由党を設立してその党首となった。
 - b 大日本帝国憲法により内閣や議会の制度が定められると、議会は伊藤博文を初代内閣総理大臣に選出した。
- ア a-正 b-正 イ a-正 b-誤 ウ a-誤 b-正 エ a-誤 b-誤

(6) この年に、連合国軍による占領が終わり日本は独立を回復しました。占領下の日本でおこったできごとについて述べた文としてあてはまるものを次のア～エから選んで、その記号を書きなさい。

- ア 選挙法が改正され、衆議院議員選挙で女性の候補者が初めて当選した。
- イ 地方から大都市の工場などに集団就職した若者が、「金の卵」とよばれた。
- ウ アメリカがビキニ環礁で行った水爆実験により、日本の漁船が被曝した。
- エ 朝鮮戦争が勃発した際に設置された警察予備隊をもとに、自衛隊が設立された。

(7) この国と日本とのかかわりについて述べた文として正しいものを次のア～エから選んで、その記号を書きなさい。

- ア 明との貿易が開始されると留学僧の往来も増加し、その一人である雪舟は中国で水墨画の技術を学んだのち、帰国して足利義満の保護を受けた。
- イ 江戸幕府が鎖国政策を行うなかでも、幕府が発行した朱印状をもつ日本の商人は清との貿易を認められ、その拠点として中国沿岸部に日本町が形成された。
- ウ 遼東半島に進軍したロシア軍を乃木希典率いる日本軍が撃破し、ロシアを中国から撤退させたことで、日本は南満州鉄道を中国から対価として獲得した。
- エ 日本が中国東北部を軍事占領し、満州国としてその独立を宣言するなかで、日本から中国東北部への移民が本格化し、土地の開拓が進められた。

(8) これらは、1739年から1784年にかけて出版されました。この期間のできごとについて述べた文としてあてはまるものを次のア～エから選んで、その記号を書きなさい。

- ア 歌川広重がえがいた浮世絵を、オランダの画家であるゴッホがまねて油絵の作品を残した。
- イ 近松門左衛門が、人形浄瑠璃の脚本のひとつとして『曾根崎心中』を書いた。
- ウ オランダの医学書を、杉田玄白や前野良沢が翻訳し、『解体新書』として出版した。
- エ 伊能忠敬が幕府に命じられて行った海岸線の測量事業をもとに、日本地図が作成された。

4 次の文を読んで、文中の (1) ~ (7) について、後の同番号の各問いに答えなさい。

日本には、(1)文化庁のホームページによると5700ほどの(2)博物館(類似施設などをふくむ)があります。これらの年間入館者総数は、2017年には約3000万人を数え、私たちにとって身近な施設といえるのではないのでしょうか。

「博物館」という言葉は、江戸時代末期に(3)欧米へ派遣された使節が残した現地の記録などを通じて日本に広まっていったとされています。明治時代には、(4)ウィーン万博への出品準備として湯島聖堂で最初の博覧会が開かれました。これが現在の(5)東京国立博物館の創設につながっており、日本における本格的な博物館の始まりとされます。

1923年におこった(6)関東大震災は、東京に壊滅的な被害をもたらしました。東京国立博物館(当時の東京帝室博物館)も例外ではなく、旧本館などが大きな損害を受けました。幸い陳列品の被害は少なかったため、翌年には展示が再開されました。その後、6年の歳月をかけて新しく建設されたのが現在の本館で、1938年に開館すると多くの入場者が押しかけました。(7)太平洋戦争が始まり、空襲が激化すると東京帝室博物館は閉鎖されましたが、戦後、1947年に東京国立博物館として再開されました。

(1) これに関して、近年の官公庁をめぐる動きについて述べた文として正しいものを次のア～エから選んで、その記号を書きなさい。

- ア 外国人観光客の増加によって業務が拡大したため、観光庁が観光省に格上げされた。
- イ 東京への行政機関の集中を避けるため、省庁の地方移転の先がけとして宮内庁が京都市に移された。
- ウ 子ども子育て世帯のさまざまな課題への対策を一元的に行うため、こども家庭庁が設置された。
- エ 国内の銀行に対する監督を強化するため、財務省のもとに金融庁が組み入れられた。

(2) これについて、次の各問いに答えなさい。

① 博物館のひとつである国立科学博物館について述べた次の文中の () にあてはまる語を下のア～エから選んで、その記号を書きなさい。

国立科学博物館では、慢性的な財政難の状態にあり、近年は入館料収入の減少や光熱費の高騰の影響もあって、動物や化石などの標本を十分に管理できないという懸念が生じていました。そこで、この博物館は、これらの標本の管理費用などを得るために1億円を目標金額にした () を実施し、インターネット上で資金を募りました。その結果、多くの寄付金が集まり、開始初日で1億円をこえ、最終的に支援総額はおよそ9億2000万円となりました。

- ア クラウドファンディング イ スタートアップ ウ ビッグデータ エ マイクロファイナンス

② アイヌ文化の展示や調査研究などに特化した国立アイヌ民族博物館が北海道にあります。江戸時代、アイヌの人びとはさまざまな地域と交易を行っていました。これについて述べた次の文中の (a) ・ (b) にあてはまる語句の組み合わせとして正しいものを下のア～エから選んで、その記号を書きなさい。

アイヌの人びとは松前藩と交易を行い、(a) などと引きかえに、米や酒などを手に入れました。また、(b) とも交易を行って、絹織物入手しました。それは松前藩を通じて江戸の将軍に献上され、蝦夷錦として珍重されました。

- ア a-銅・硫黄 b-樺太を通じて中国 イ a-銅・硫黄 b-千島列島を通じてロシア
- ウ a-ニシン・昆布 b-樺太を通じて中国 エ a-ニシン・昆布 b-千島列島を通じてロシア

③ 博物館の地図記号が、2002年からあらたに用いられるようになりましたが、反対に廃止された地図記号もあります。2013年に廃止された地図記号を次のア～エから選んで、その記号を書きなさい。

- ア  (茶畑) イ  (くわ畑) ウ  (消防署) エ  (税務署)

(3) これには、さまざまな人物が参加しています。次の文は、そのうちの一人があらわした書物の一部をわかりやすく書き改めたものです。文中の () にあてはまる語を漢字2字で書きなさい。

もし人民が暴政を避けたいと思うのであれば、ただちに () を志して自ら才能や徳義を高め、政府と向かい合っ
て同位同等の地位に立たねばならない。これがすなわち私の勸める () の目的である。……われわれ日本国民も今
より () を志し、氣力を確かにして、まず一身の独立をはかり、それによって一国の富強を実現すれば、どうして
西洋人の力を恐れることがあるだろうか。

(4) これには、岩倉使節団が訪れています。岩倉使節団が欧米を訪問していたころの明治政府の政策について述べた文として正しいものを次のア～エから選んで、その記号を書きなさい。

- ア 江戸時代に被差別身分とされた人びとが大規模な差別撤廃運動をおこすと、政府は解放令をだしてこれをしずめた。
- イ 政府は学制を公布して小学校への通学を義務化した。国家の財政が厳しく、学校の建設費は地元住民の負担とした。
- ウ 政府は軍隊の近代化を進めるために徴兵令をだし、士族を中心とする20歳以上の男子に一定期間の兵役を義務付けた。
- エ 地租を耕作者一人ひとりに現金で納めさせることで、政府は米の収穫量に左右されない税収を得ようとした。

(5) これについて、次の各問いに答えなさい。

① 右のA・Bは、東京国立博物館の収蔵品です。これらについて述べた次の文a・bの正誤の組み合わせとして正しいものを下のア～エから選んで、その記号を書きなさい。

- a Aは女性をかたどった土偶であり、渡来人によって伝えられた工芸技術を用いて作製され、子孫繁栄を祈る儀式で用いられた。
- b Bは武人をかたどった埴輪であり、大王の権威を示すために作製され、大和政権が軍事的支配を進めていた東北地方で多くみられた。

ア aー正 bー正 イ aー正 bー誤 ウ aー誤 bー正 エ aー誤 bー誤

② 東京国立博物館は国立文化財機構が運営しています。この機構が運営する国立博物館は、東京都のほか、京都府・奈良県・福岡県にあります。これら4都府県について、次の各問いに答えなさい。

i 右の表は、東京都・京都府・奈良県・福岡県における農業産出額上位5品目（生乳・鶏卵・肉類などの畜産品はふくまない）をあらわしたものです。奈良県にあてはまるものを表中のア～エから選んで、その記号を書きなさい。

	ア	イ	ウ	エ
1位	米	米	米	こまつな
2位	ねぎ	かき	いちご	ほうれんそう
3位	茶(生葉)	いちご	ぶどう	日本なし
4位	荒茶	ほうれんそう	なす	切り葉
5位	ほうれんそう	きく(切り花)	みかん	ブルーベリー

統計年次は2021年。推計値による統計である。(農林水産省資料より作成)

ii 京都府と福岡県で生産される伝統的工芸品にあてはまるものを次のア～エからそれぞれ選んで、京都府→福岡県の順にその記号を書きなさい。

ア 小千谷縮 イ 九谷焼 ウ 久留米緋 エ 西陣織

(6) これ以降、1930年代までの日本の社会や経済について述べた文として正しいものを次のア～エから選んで、その記号を書きなさい。

- ア 大阪や愛知などの官営紡績工場では機械化が進み、生産量が大はばに増えた綿糸は輸出されるようになった。
- イ 東京では銀行の倒産があいつぎ、預金者が銀行に押しかけて騒動となったため、政府は治安維持法を制定した。
- ウ アメリカで始まった不景気が日本におよぶなか、東北地方では農作物の価格が暴落し、農村の困窮が深刻化した。
- エ 京浜工業地帯の工業生産が停滞する一方、鉄鋼の国産化をはかるために、九州北部に八幡製鉄所が建設された。

(7) この戦争下、人びとは戦争への協力を求められ、生活は大きく制限されることになりました。次の文は、右の写真について説明したものです。文中の()にあてはまる語句を書きなさい。

右の写真は、第二次世界大戦中の東京帝室博物館構内の様子を撮影したものです。戦争が長期化するなか、()が深刻化してきました。右の写真から、開放された構内の土地を利用して、その状況を改善するための作業を人びとが行っている様子がわかります。

著作権の関係上、非表示にしています。

著作権の関係上、非表示にしています。

受験番号	
------	--

令和6年度 東大寺学園中学校入学試験問題

社会 解答用紙

*右側の下線部には何も記入しないこと

1 (1)① ② → (2) (3)

(4)① ② ③ → (5) (6)

(7) → (8)

--	--	--

 (9) →

(10) (11) → (12)① ②

* _____

2 (1) a

--	--	--	--	--	--

 b

--	--	--	--

(2) (3) (4)① ② (5)

(6) (7) → (8)

--	--

 (9) →

* _____

3 (1)① ②

--	--	--

 大路 (2)①

--	--	--	--

(2)② (3) (4)① ② ③

(5) (6) (7) (8)

* _____

4 (1) (2)① ② ③ (3)

--	--

(4) (5)① ② i ii → (6)

(7)

* _____

** _____