

## 第1回入学試験問題

# 社 会

次のページを開き、試験開始の合図があるまでに、  
〈解答上の注意〉を必ず読んでください。  
なお、解答用紙は最終ページにはさみこんであります。



## < 解答上の注意 >

- 1、問題冊子は1ページから22ページまであります。試験開始の合図後、ただちにページ数を確認してください。
- 2、問題冊子は試験終了後に回収します。
- 3、試験終了の合図で鉛筆を置き、指示に従って問題冊子と解答用紙を提出してください。
- 4、解答用紙は最終ページにはさみこんであります。

試験開始の合図があるまで次のページを開かないでください。

1 次の文章を読み、以下の問に答えなさい。

みなさんは、学校教育について深く考えたことはありますか。この中学受験に臨むにあたって、みなさんはさまざまな教育を受けてきましたね。

日本の学校教育の歴史を振り返ると、飛鳥時代までさかのぼることができます。

(1) 701年に□□□□が制定されると、国家の体制が整備されました。それともなって、公的な教育制度が確立し、官吏養成機関として「大学」が設置されました。(2) 「大学」については、有名な『源氏物語』にもその様子が描かれています。

やがて、武士の時代が到来すると、武士にも教育が広がりました。鎌倉時代には現在の神奈川県に金沢文庫が設置され、さらに室町時代には上杉憲実が現在の栃木県に足利学校を再興しています。特に(3) 足利学校に関しては、戦国時代に来日した外国人が「坂東の大学」と評しており、非常に活気があったことが伝わっています。

江戸時代に入ると、細かい身分制度が定着していくなかで、寺子屋や藩校、郷学、私塾など(4) さまざまな教育機関が登場するようになりました。それぞれの立場で必要とされる能力を伸ばすことがおもな目的であり、授業の内容に差こそありますが、庶民にも教育が浸透していきました。また、幕府の公式の教育機関として昌平坂学問所が開校され、近代の大学につながっていきます。

明治時代に入ると1872年の学制によって「国民皆学」が目指され、就学率は少しずつ上昇していきました。モースなどお雇い外国人を大学に招き、西洋学問の導入をはかるなど、国家の近代化を教育が担いました。また、女子教育の広がりも見られ、女学校が設立されました。その結果、(5) 多くの女性が社会で活躍するようになりました。明治時代末期から大正時代初期にかけ、青鞥社で女性の解放を目指した平塚らいてうはその代表です。一方で、次第に国家の統制が強まりました。教育勅語や国定教科書制度などはその一例であるといえるでしょう。第二次世界大戦中には、小学校が国民学校と改称され、教育内容も戦争の士気を上げるための思想教育や、軍事や技術の訓練が増え、(6) 学校教育は戦争の影響を強く受けることとなりました。

著作権の関係上、非表示にしています。

終戦を迎えた日本では教育改革が行われ、教育の民主化が進められました。日本国憲法には「教育を受ける権利」が記され、日本だけではなく、国際的にも(7) 子どもの権利条約のなかに教育を受ける権利が記されています。このようにして、今日を生きるみなさんには教育の機会が等しく保障されています。この教育を受ける権利を、どのように使いますか。

問1 波線部(1)について、文中の□□□□にあてはまる語句は何ですか。答えなさい。

※ 問題は次のページに続きます。

問2 波線部(2)について、『源氏物語』の「少女」の巻を讀むと、光源氏が息子の夕霧を大学へ入学させるという節が登場します。次の文章は、その背景を簡単に説明したものです。□Xと□Yにあてはまる文章としてそれぞれ適当なものを資料1と資料2をもとに1つずつ選び、正しい組み合わせをア～エの記号で答えなさい。

光源氏は太政大臣であったので、その嫡子<sup>\*</sup>である夕霧も大学に行かせなくても、必然的に□X以上の高い地位や役職に就けると周りから思われていました。しかし、光源氏は夕霧を大学に行かせることに決めました。その理由は、光源氏自身が□Yという気持ちがあったからだと言われています。

※嫡子…正妻の長男

資料1 地位により就くことのできる役職

地位	役職
正・従一位	太政大臣
正・従二位	左大臣 右大臣
正三位	大納言
従三位	中納言 など
正四位	上 中務卿
	下 参議 など
従四位	上 左大弁・右大弁
	下 神祇伯

資料2 父・祖父の地位にもとづき  
息子・孫が自動的に就くことのできる地位

父・祖父の地位	嫡子	嫡子以外
正・従一位	従五位下	正六位上
正・従二位	正六位下	従六位上
正・従三位	従六位上	従六位下
正四位	正七位下	従七位上
従四位	従七位上	従七位下

X

A 正五位下            B 正六位上

Y

- C 亡くなったあとに時代が移り変わったとしても、息子には学問を身に付けてほしい
- D 中国へ留学せず高い地位に就くことができなかったので、息子には大学に行って留学をしてほしい

ア X-A Y-C

イ X-B Y-C

ウ X-A Y-D

エ X-B Y-D

問3 波線部(3)について、

- ① 次の図は、この外国人を示した絵です。彼の所属するキリスト教の会派の名称を答えなさい。

著作権の関係上、非表示にしています。

- ② 「坂東太郎」とよばれる利根川では、下流域の野田や銚子で、江戸時代からある生産品が盛んに作られています。次の図は、江戸時代の製造の様子をあらわしており、表は生産量の多い都道府県のランキングです。ある生産品とは何ですか。答えなさい。

著作権の関係上、非表示にしています。

順位	都道府県	出荷数量 (kl)	国内シェア率 (%)
1	千葉県	266,030	37.80
2	兵庫県	109,898	15.62
3	群馬県	46,113	6.55
4	愛知県	39,827	5.66
5	香川県	36,735	5.22

(令和2年における農林水産省大臣官房資料より作成)



問4 波線部(4)について、

- ① 次の図は江戸時代の寺子屋の様子を描いたものです。この図から読み取れる内容として適当なものを1つ選び、ア～エの記号で答えなさい。


ア 寺子屋ではそろばんを使った教育が重視されていました。

イ 寺子屋では一人ひとり学習進度が異なっていました。

ウ 寺子屋では女子が教育を受けることは許されていませんでした。

エ 寺子屋ではスペイン風邪の流行により、黙食が義務付けられていました。

著作権の関係上、非表示にしています。



- ② 江戸時代に鳴滝塾という私塾を開いた人物はだれですか。適当なものを1つ選び、ア～エの記号で答えなさい。

ア ペリー

イ ハリス

ウ モリソン

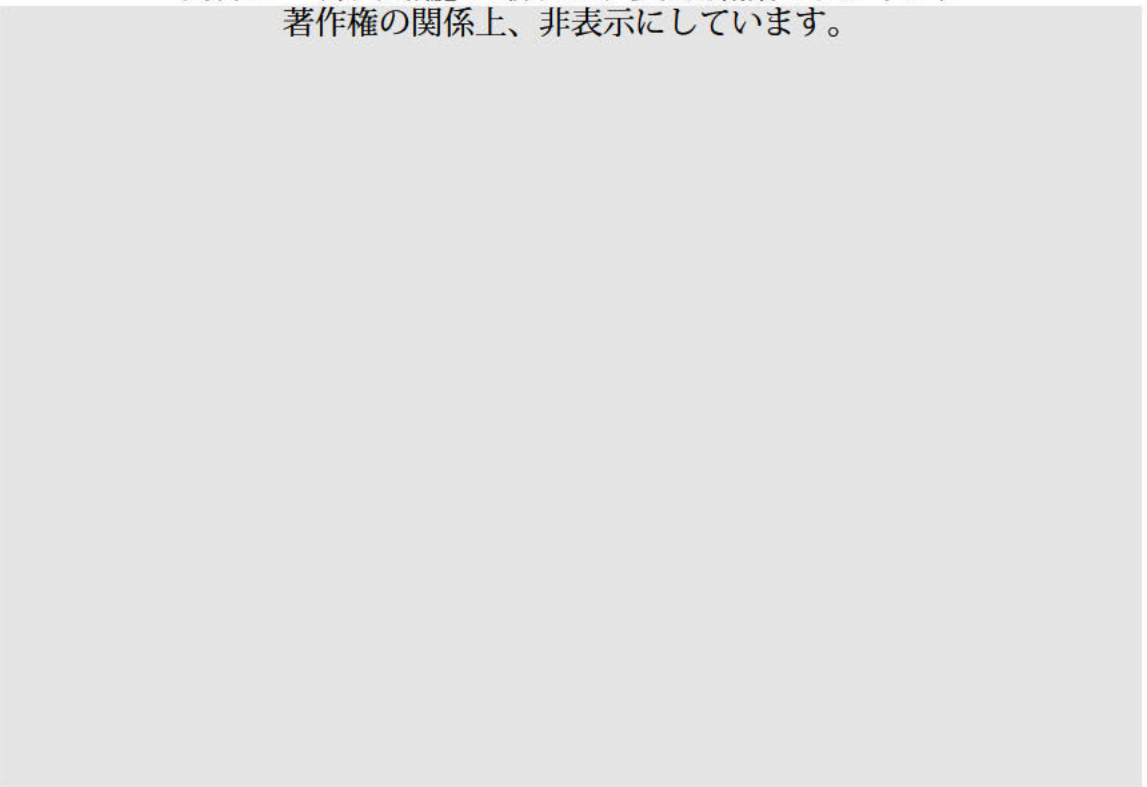
エ シーボルト

問5 波線部(5)について、資料1は大正時代における女子学生が就職したい職業ランキング(人数)、資料2は大正・昭和時代に『婦人公論』という女性雑誌の記事に取り上げられた職業ランキング(回数)です。「タイピスト」についての文章として適当なものを1つ選び、ア～エの記号で答えなさい。

資料1 女子学生が就職したい職業ランキング  
著作権の関係上、非表示にしています。



資料2 『婦人公論』に取り上げられた職業のランキング  
著作権の関係上、非表示にしています。



- ア わたしの職業は、女性自身においても社会的にもあこがれのある職業でした。雑誌によく取り扱われる職業であり、また身近な職業として、イメージしやすいことが理由だと考えられます。
- イ わたしの職業は、女性に希望者が多い職業であったため、雑誌に継続的に取り上げられました。しかし、目新しい職業という一面もあり、社会的評価は当初低くなっていました。
- ウ わたしの職業は、明治時代からあります。大正時代に書かれた作品では低賃金・長時間労働と紹介されるなど課題も多く、就職したい職業には選ばれませんでした。
- エ わたしの職業は、女性の社会進出のシンボルとして注目を集めました。しかし、社会の見る目は厳しく、女性が就職したい職業にも選ばれませんでした。それが理由なのか、雑誌に取り上げられなくなってしまいました。

著作権の関係上、非表示にしています。

問6 波線部(6)について、写真Aは終戦前の各学校に設置された奉安殿とよばれる施設で、写真Bは奉安殿に向かって整列している様子です。記録にはこの後、校長や教員、児童全員が奉安殿に拝礼をしたと残っています。この奉安殿におさめられているものは教育勅語と何ですか。適当なものを1つ選び、ア～エの記号で答えなさい。

ア その年に収穫された野菜や果物

イ 学校を運営するお金や学校に関する文書

ウ 天皇・皇后の写真

エ 仏像や経典

著作権の関係上、非表示にしています。

問7 波線部(7)について、子どもの権利条約が国連総会で採択された1989年に起こった出来事として、適当なものを1つ選び、ア～エの記号で答えなさい。

ア 第四次中東戦争をきっかけに第一次オイルショックが起こりました。

イ 東日本大震災が起こり、防災対策が見直されました。

ウ アジア初のサッカーワールドカップが日本と韓国で行われました。

エ 元号が「昭和」から「平成」へと変わりました。



2 次の文章を読み、以下の問に答えなさい。

みなさんは高知県に行ったことがありますか。明治維新の立役者の一人、坂本龍馬の出身地であるだけでなく、輝く太陽、南国のような暖かさ、美しく広がる雄大な太平洋など、豊かな自然の魅力にあふれるところです。今日は、そのような高知県の魅力を見ていきましょう。

高知県は東西に広がる県で、太平洋に突き出している岬が2つあります。1つは県の東に位置する<sup>(1)</sup>□□岬、もう1つは西に位置する<sup>あしずり</sup>足摺岬です。□□岬は台風の上陸が多いことから、台風銀座とよばれることもあります。また、日本の中では南に位置することもあいて、<sup>(2)</sup>温暖な気候と豊富な降水量ゆえに亜熱帯の植物が多く自生しており、まるで南国にいるような気分を味わうことができます。温暖な気候をいかした<sup>(3)</sup>農業もさかんに行われており、年間を通してスイカやメロンを食べることのできる施設もあります。

このような美しい自然は、県内のいたるところで見ることができ、中でも<sup>しまんと</sup>四万十川はその美しさで有名です。<sup>(4)</sup>高知県の西部を流れ、「日本最後の清流」ともいわれる四万十川の下流域は、応仁の乱を避けてこの地に下り、戦国大名となった土佐一条氏によって整備されました。現在の四万十市にあたるこの地域は、四万十川を桂川に、支流の後川を賀茂川に見立て、<sup>うしろがわ</sup>碁盤の目状に町を区画するなど、その地形は京都を思い起こさせるつくりとなっています。以後、この地域では公家文化が長く栄え、「土佐の小京都」ともよばれました。

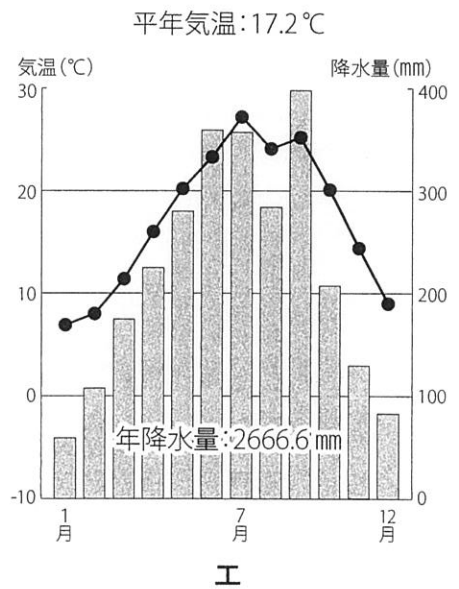
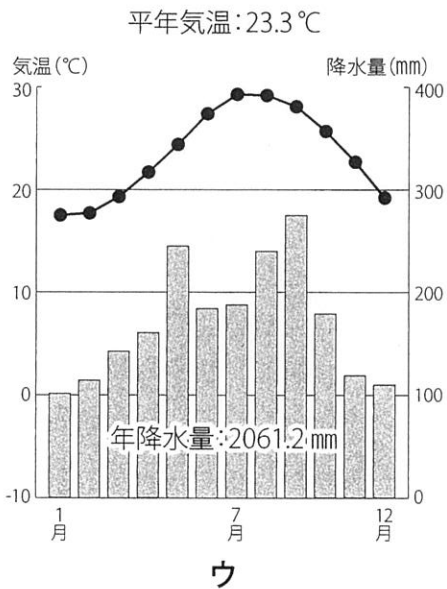
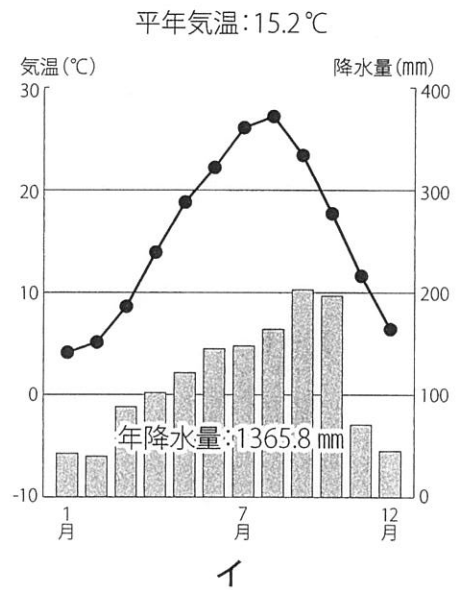
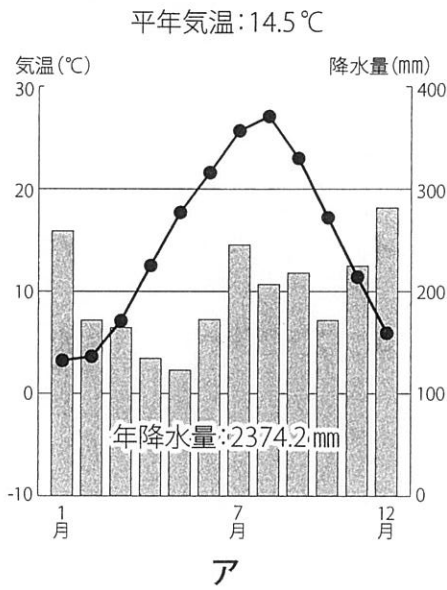
また、江戸時代初期から発達し、高知県の地形を生かした特産品として最も有名なものの1つがカツオ漁です。東西に長い高知県は、700kmを超える海岸線を有しており、その海岸線の全ての領域でカツオ漁が行われています。また、<sup>(5)</sup>高知県のカツオ漁は一本釣りの形態をとっており、そうした他県との違いも、高知のカツオを有名にしている要因となっています。

一方で、新たな観光資源を模索している地域もあります。高知県東部の北川村では、工業団地を<sup>ゆうち</sup>誘致する構想をくつがえし、2000年に<sup>(6)</sup>芸術と自然に触れることのできる「モネの庭」を開園しました。高知県は植物学の第一人者である牧野富太郎の出生地ということもあり、豊かな自然と共生することを目指しています。自然環境を重視した高知県の取り組みは、近年世界の注目が集まっているSDGsの観点からも、そして<sup>(7)</sup>高知県をより魅力ある県にするためにも、必要なことです。そのような高知の今を体感しに、ぜひ一度足を運んでみませんか。

著作権の関係上、非表示にしています。

問1 波線部(1)について、文中の□□にあてはまる語句を、解答欄に合わせて答えなさい。

問2 波線部(2)について、高知市の雨温図はどれですか。適当なものを1つ選び、ア～エの記号で答えなさい。



問3 波線部(3)について、次の表はある野菜の収穫量トップ4の都道府県を表したものです。X・Yにあてはまる野菜の名称の組み合わせとして適当なものを1つ選び、ア～エの記号で答えなさい。

X	
都道府県名	収穫量(t)
茨 城	33,400
宮 崎	26,800
鹿 児 島	13,300
高 知	13,000

Y	
都道府県名	収穫量(t)
高 知	39,300
熊 本	33,300
群 馬	27,400
茨 城	18,100

(農林水産省 作物統計調査(2021年)より作成)

ア X-なす Y-ピーマン

イ X-なす Y-しょうが

ウ X-ピーマン Y-なす

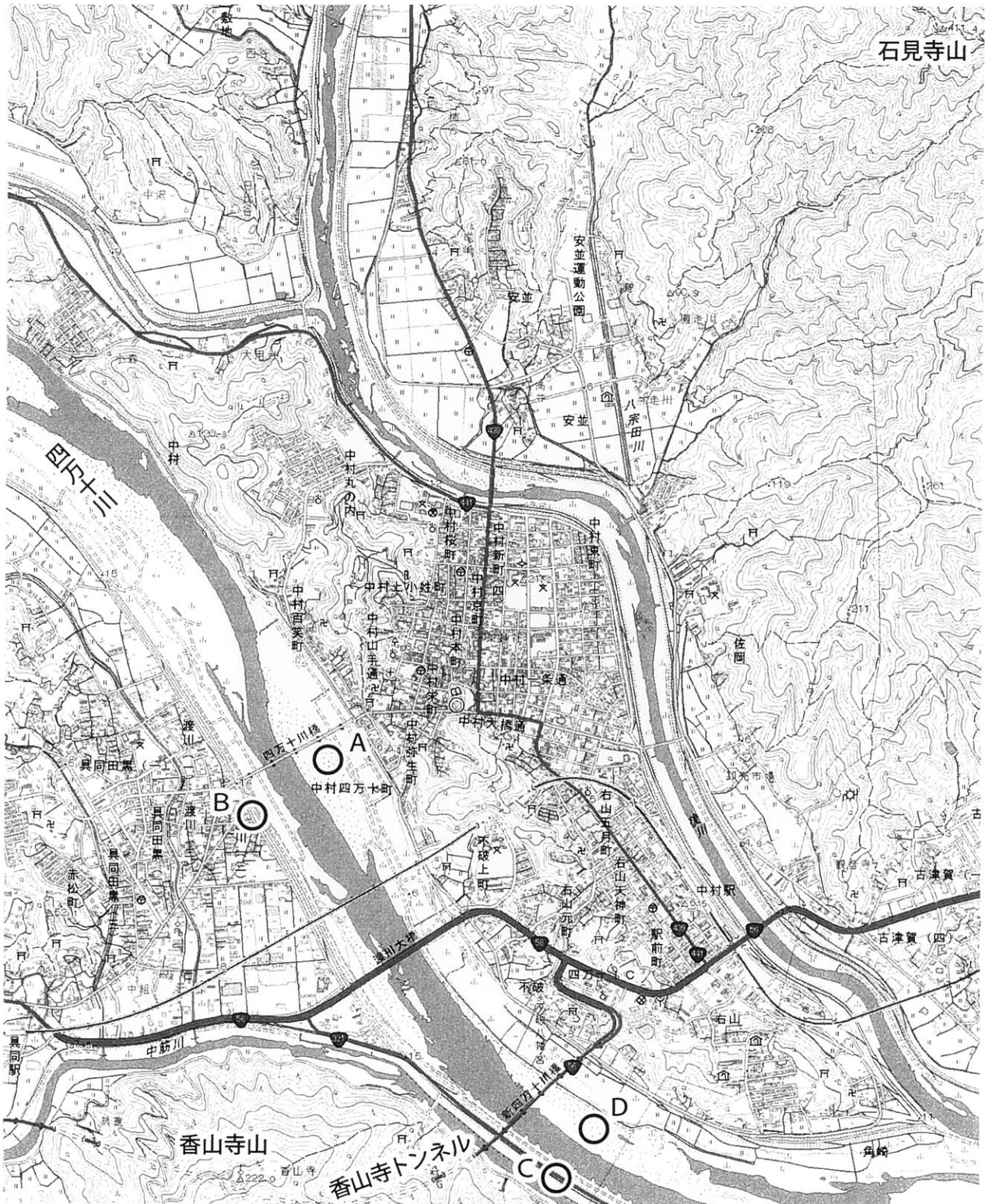
エ X-ピーマン Y-しょうが



問4 波線部(4)について、

- ① 次の地形図から読み取れることとして適当でないものを1つ選び、ア～エの記号で答えなさい。なお、下線部の情報は誤りではありません。

地形図



(国土地理院発行 2万5千分の1地形図「四万十」原寸より作成)

- ア 具同駅から中村駅まで鉄道で移動しようとする、トンネルを抜けたあとに大きく右にカーブします。
- イ 香山寺トンネルの入り口から出口までの直線距離は地図上で6cmですので、実際の距離は約1500mです。
- ウ 石見寺山と香山寺山の山頂の標高差は200mを越え、こう配は香山寺山の方が急になっています。
- エ 四万十川と後川にはさまれた地域には市街地が広がっており、市役所や税務署、裁判所などの主要な建物が集まっています。

- ② 次の文章は、ある地点から四万十川を見た様子を表したものです。ある地点とは、前ページの**地形図**のうち、どの場所にあたりますか。適当なものを1つ選び、**A～D**の記号で答えなさい。

この地点から四万十川を見ると、川は左から右へと流れています。下流に目を向けると、鉄道橋の向こうに、国道が通っていることが分かります。

問5 波線部(5)について、淑徳花子さんは、高知県の伝統的な漁法であるカツオの一本釣りについて調べるうちに、カツオ漁業がかかえる問題について興味を持ちました。そこで、資料1・2を用いて「高知県のカツオ漁業の現状と対策」というレポートを作成しました。これについて、以下の問に答えなさい。

資料1 太平洋中西部<sup>※</sup>におけるカツオ漁獲量の推移(漁法別)  
著作権の関係上、非表示にしています。

資料2 太平洋におけるカツオの分布、産卵場、推定北上経路  
著作権の関係上、非表示にしています。



- ① レポートの空欄  にあてはまる文章として適当なものを1つ選び、ア～ウの記号で答えなさい。
  
- ② レポートの空欄  ・  にあてはまる文章として適当なものを1つずつ選び、エ～クの記号でそれぞれ答えなさい。

「高知県のカツオ漁業の現状と対策」

6年1組 淑徳花子

中西部太平洋でのカツオ漁獲量が年々増加する一方、高知県におけるカツオの一本釣の水揚げ量は減少しています。原因はさまざま考えられますが、そのうちの1つとして、と考えられます。

高知県のカツオの漁獲量を増やすためには、だと思います。一方で、SDGsの観点から、だと思います。

- ア 地球温暖化と海水温上昇により、寒流に乗って日本近海にやってくるカツオの量が減ったため
- イ カツオが産卵し育つ海域で、さまざまな国々がカツオを取ることに伴い、潮流によって日本近海までやってくるカツオの量が減ったため
- ウ 海面上昇によりそれまで養殖場として使用していたマングローブが水没し、生産量が減ったため

- エ 潮流の流れを速くすることで、カツオが日本近海にたどり着きやすい環境をつくるべき
- オ 漁船から出される排気ガスの量を減らして地球温暖化を食い止めるため、操業する漁船の数を減らすべき
- カ 取るカツオのサイズを一定以上の大きさに限定することで、産卵する前のカツオを取らないようにするべき
- キ 淡水で育てた稚魚を太平洋へと放流することで、カツオの数を増やすべき
- ク まき網を使って取るのではなく、竿を使用した一本釣りで取るようにすることで、漁獲量を制限するべき

問6 波線部(6)について、次の会話文を読み、空欄 、 にあてはまる語句として適当なものを、それぞれ答えなさい。

担 任 : 高知県北川村には、「モネの庭」という観光地があります。モネは知っていますか？

花子さん : 「<sup>すいれん</sup>睡蓮」で有名なフランスの画家ですよ。

担 任 : そうです。モネは日本文化を好み、浮世絵もコレクションしていたのですよ。

花子さん : 浮世絵は、海外でも人気ですよ。なぜ、海外で広まったのでしょうか。

担 任 : 一説には、日本から輸出されていた割れ物である  の<sub>こんぼう</sub>梱包に、浮世絵が使われていたともいわれています。

花子さん : 表を見てみると、1882年以降、 が徐々に輸出品としての順位を上げ続けていることが分かりますね。梱包材として使われていた説があるということは、明治時代の浮世絵は、 価格で扱われていたものだったのですね。

表 神戸港における輸出品目別順位表  
著作権の関係上、非表示にしています。

問7 波線部(7)について、さまざまな要因により、高知県などの地方から都市部へと人口が流出し問題となっています。このような、都市部への人口流出などによって人口が著しく減少することを何といいますか。漢字2文字で答えなさい。

**3** 以下の問に答えなさい。

**問1** 2023年5月、日本でG7  サミットが行われ、世界の平和をはじめ、環境や経済、人権など様々なことが話し合われました。 にあてはまる地名を答えなさい。

**問2** 日本国憲法には、「日本国民は、正当に選挙された国会における代表者を通じて行動」することが定められています。選挙について述べた文章として、適切なものを1つ選び、**ア～エ**の記号で答えなさい。

**ア** 18歳になれば日本に住んでいる人は誰でも選挙権を行使できます。

**イ** インターネットを使って投票することができます。

**ウ** 選挙運動として応援演説を行った人にはお礼にお金を渡すことができます。

**エ** 25歳以上の日本国民は衆議院議員総選挙の候補者になることができます。



問3 次の表は、衆議院議員総選挙における全候補者・当選者の女性の割合を示したものです。この表を年代が古い順に並べたものとして適当なものを1つ選び、ア～エの記号で答えなさい。なお、A～Cにはそれぞれ「1946年(昭和21年)」「1990年(平成2年)」「2021年(令和3年)」のいずれかがあてはまります。

年 代	A	B	C
候補者	6.9 %	2.9 %	17.7 %
当選者	2.3 %	8.4 %	9.7 %

(内閣府 男女共同参画局 HP より作成)

ア A → B → C

イ A → C → B

ウ B → A → C

エ B → C → A

問4 日本銀行は日本の中央銀行としていくつかの役割を持っています。以下の説明の正誤の組み合わせとして適当なものを1つ選び、ア～エの記号で答えなさい。

a 「発券銀行」としての役割を持っており、日本銀行券と硬貨を発行することができます。
b 「銀行の銀行」としての役割を持っており、普通銀行以外の企業と取引を行うことができます。

	a	b
ア	正	正
イ	正	誤
ウ	誤	正
エ	誤	誤



1/16 問題不備が判明したため削除しております。

問6 誰にも知られたくないことを秘密にしておくことは基本的人権の1つですが、国民が知りたいと思うことを広く伝える権利も日本国憲法で認められています。この権利として適当なものを1つ選び、ア～エの記号で答えなさい。

ア 報道の自由

イ 思想・良心の自由

ウ 教育を受ける権利

エ プライバシーの権利

問7 あなたの身の回りの様々なことに税金が使われています。次の選択肢のうち、税金で運営されているものとして適当でないものを1つ選び、ア～エの記号で答えなさい。

ア ごみの回収

イ 公園

ウ 警察・消防

エ 電気・水道



1

問1 

--	--	--	--

 問2 

--

問3 

①		②	
---	--	---	--

問4 

①		②	
---	--	---	--

 問5 

--

 問6 

--

 問7 

--

2

問1 

--	--

 岬 問2 

--

 問3 

--

 問4 

①		②	
---	--	---	--

問5 

①		②	B		C	
---	--	---	---	--	---	--

問6 

X		Y	
---	--	---	--

問7 

--	--

3

問1 

--

 問2 

--

 問3 

--

 問4 

--

問5 

--	--	--	--


 問6 

--

 問7 

--

↓ ここにシールを貼ってください ↓



240140

受験 番号	
----------	--

氏 名	
--------	--