

2024年度

入学試験問題

社 会

注 意 事 項

- 1 試験開始の合図があるまで、この問題冊子の中及び解答用紙を見てはいけません。
- 2 問題の内容に関する質問には、一切答えられません。ただし、試験中に問題冊子の印刷不鮮明、ページの落丁・乱丁、解答用紙の汚れ等に気付いた場合は、静かに手をあげて試験監督に知らせてください。
- 3 この問題冊子も回収するため、試験開始前に試験監督の指示に従い表紙下の受験番号欄に、受験番号（数字）を記入してください。
- 4 解答用紙には、次の欄があります。

① 受験番号欄

試験開始後すぐに、受験番号を記入してください。

② 解答欄

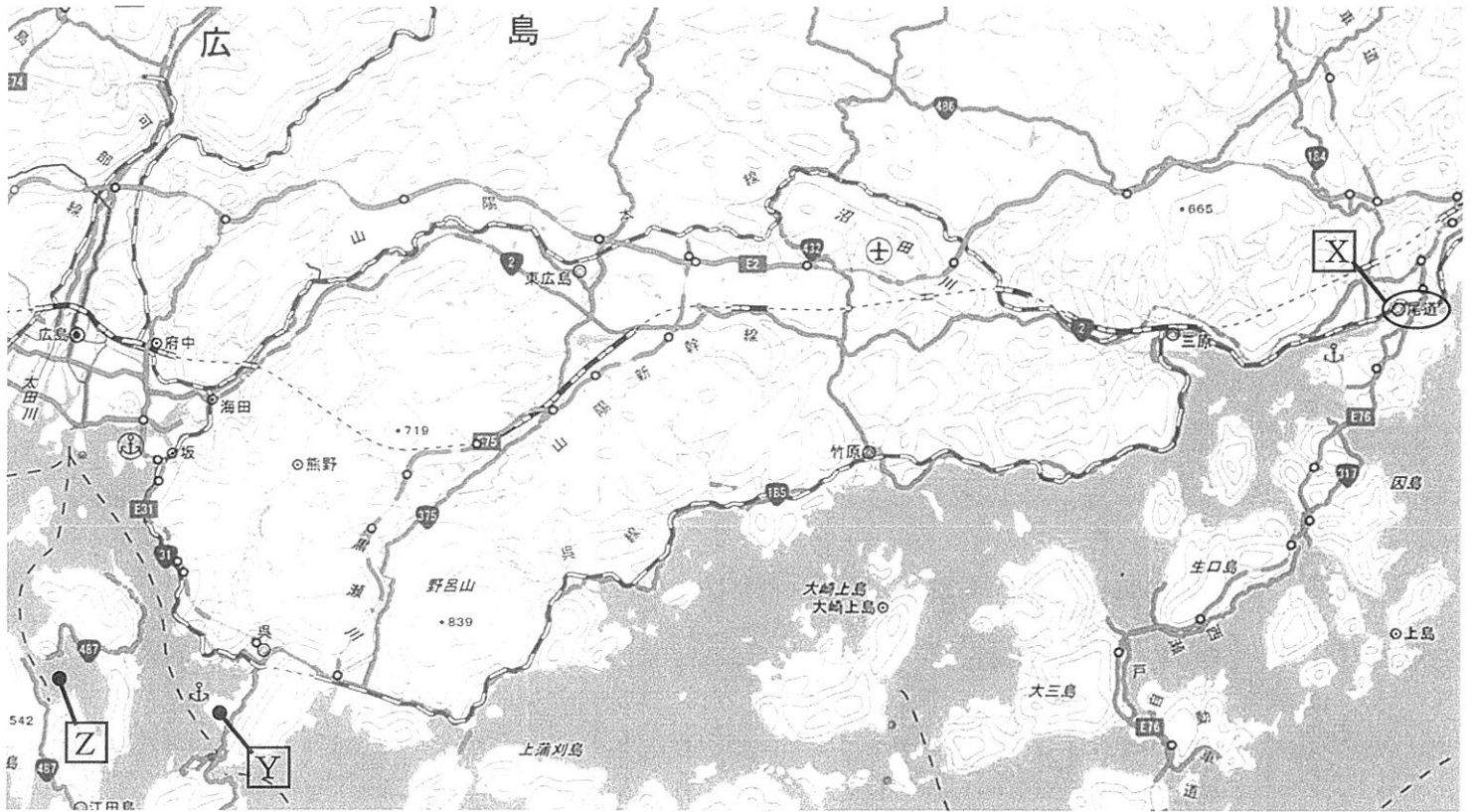
解答は、解答欄をはみ出さずにていねいに記入してください。はみ出すと採点されない場合があります。

③ シール貼り付け欄

試験監督の指示に従い、QRコードシールを1枚貼り付けてください。

受 験 番 号			

- 1 広尾学園中学校の3年生は修学旅行で広島県を訪れることになりました。そこで、中学3年生のタイスケくんは、修学旅行の事前学習として広島県について調べました。広島県の一部を示した次の図1を見て、あとの問いに答えなさい。



国土地理院 地理院地図（電子国土 Web）より引用。

図1

問1 タイスケくんは図1に **X** で示された一帯の近年の地図と昔の地図を見比べて、どのような変化が生じたのかを確認しました。次の図2は2023年発行、次ページの図3は1977年発行の2万5000分の1地形図「尾道」を一部抜粋したものです（原寸ではない）。また、あとの文（I～III）は、図2、3を比較して読み取れることについて述べたものです。I～IIIの正誤を判断し、その組み合わせとして正しいものを、次ページのア～クから1つ選び、記号で答えなさい。

著作権の関係上、非表示にしています。

図2

著作権の関係上、非表示にしています。

図 3

- I 1977 年から 2023 年の間に日本の重工業が不振におちいったため、この地域にあった造船所はその全てが閉鎖されました。
- II 1977 年から 2023 年の間に新しい橋ができたものの、^{わたり舟}渡舟の路線数は減少していません。
- III 1977 年から 2023 年の間に岩屋山の東隣の丘陵地で宅地開発が進み、果樹園は見られなくなりました。

	ア	イ	ウ	エ	オ	カ	キ	ク
I	正	正	正	正	誤	誤	誤	誤
II	正	正	誤	誤	正	正	誤	誤
III	正	誤	正	誤	正	誤	正	誤

問 2 広島県の空中写真を見ていたタイスケくんは、図 1 中の **Y** 付近に大規模な工場があることに気付きました。次の図 4 中のア～エは、**Y** 付近も含まれる瀬戸内工業地域と、関東内陸工業地域、京葉工業地域、東海工業地域における 2020 年の製造品出荷額等の業種別構成、および製造品出荷額等を調べた結果を示したものです。瀬戸内工業地域に当てはまるものを、図 4 中のア～エから 1 つ選び、記号で答えなさい。

著作権の関係上、非表示にしています。

図 4

問 3 広島県の空中写真を見ていたタイスケくんは、図 1 中の **Z** 付近に、次の図 5 に示された特徴的な景観がみられることに気付きました。調べてみると、この景観は海面養殖業の設備が存在するためにつくり出されていることがわかりました。海面養殖業など日本の漁業について調べたタイスケくんが作成した、次ページの表 1、図 6、図 7 をみて、あとの問い (i～iv) に答えなさい。



100m

地理院地図 電子国土 Web より引用。

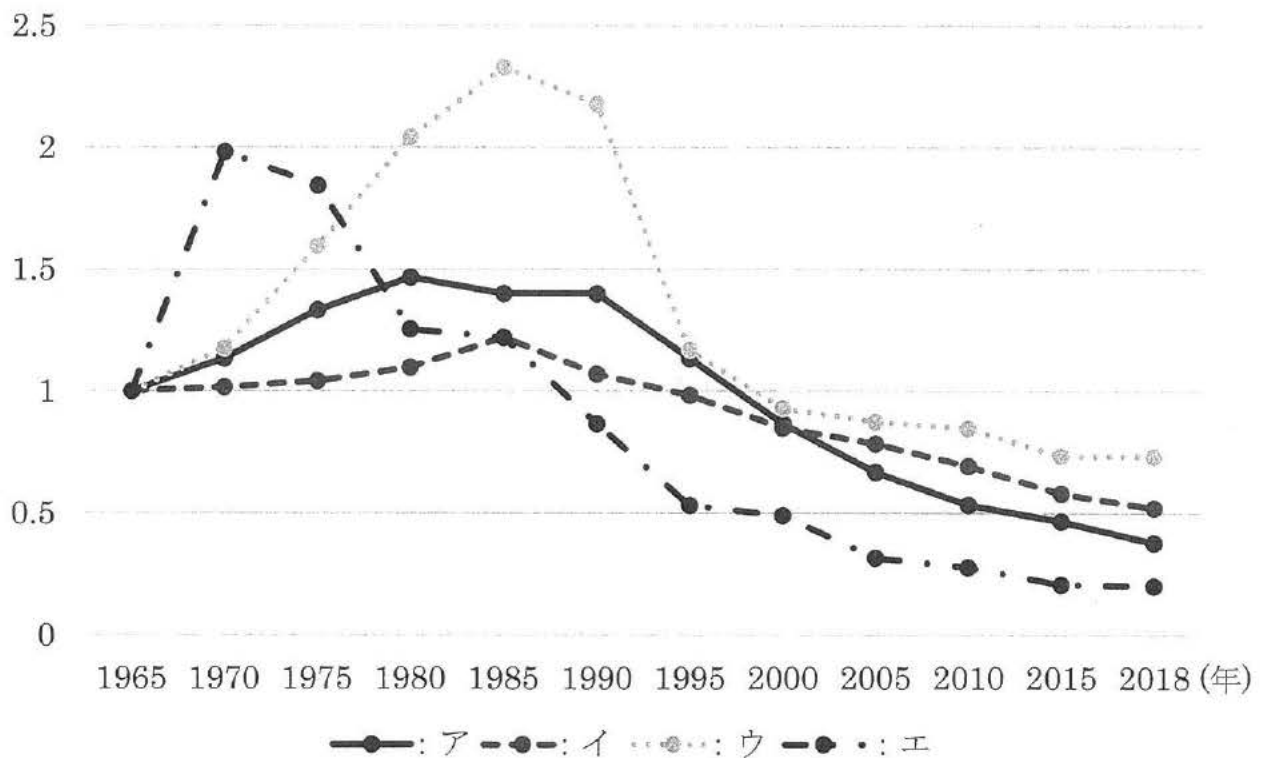
図 5

表 1
著作権の関係上、非表示にしています。

広島県で海面養殖業が盛んに行われているのは、入り江と岬が複雑に入り組んだ構造となっていて、波のおだやかな海岸が広くみられることが理由のひとつです。このような海岸は、**F**の侵食によって形成された谷が、海面の下へ水没することで形成されました。このような海岸はリアス海岸と呼ばれ、東北地方では**G**の海岸に広くみられます。

図 6

(生産量)



水産庁の資料により作成。

図 7

i) 表 1 は、5 つの水産物について、2000 年、2010 年、2021 年における海面養殖業の収穫量と、2021 年における収穫量上位 3 道県の名称およびそれぞれの占める割合を示したものです。A に当てはまる水産物の名称をひらがなで答えなさい。

ii) 表 1 中の B～E の水産物は「くろまぐろ」、「こんぶ類」、「ぶり類」、「ほたてがい」のいずれかです。「ぶり類」と「ほたてがい」の組み合わせとして正しいものを、次のア～シから 1 つ選び、記号で答えなさい。

	ぶり類	ほたてがい
ア	B	C
イ	B	D
ウ	B	E
エ	C	B
オ	C	D
カ	C	E
キ	D	B
ク	D	C
ケ	D	E
コ	E	B
サ	E	C
シ	E	D

iii) 広島県で海面養殖業が盛んな理由のひとつに、この地域の地形の特色が影響していると聞いたタイスケくんは、その地形について調べた結果をまとめた図 6 を作成しました。図 6 中の空欄 F、G に当てはまる語句の組み合わせとして正しいものを、次のア～エから 1 つ選び、記号で答えなさい。

	ア	イ	ウ	エ
F	河川	河川	氷河	氷河
G	太平洋側	日本海側	太平洋側	日本海側

iv) 図 7 は、タイスケくんが海面養殖業以外の日本の漁業について調べ、作成したものです。図 7 中のア～エは沿岸漁業、遠洋漁業、沖合漁業、内水面漁業*の 1965～2018 年間の各年の生産量の推移を、それぞれの 1965 年の生産量を 1 として示しています。遠洋漁業に当てはまるものを、図 7 中のア～エから 1 つ選び、記号で答えなさい。

*河川や湖沼などの淡水で行われる漁業のこと。

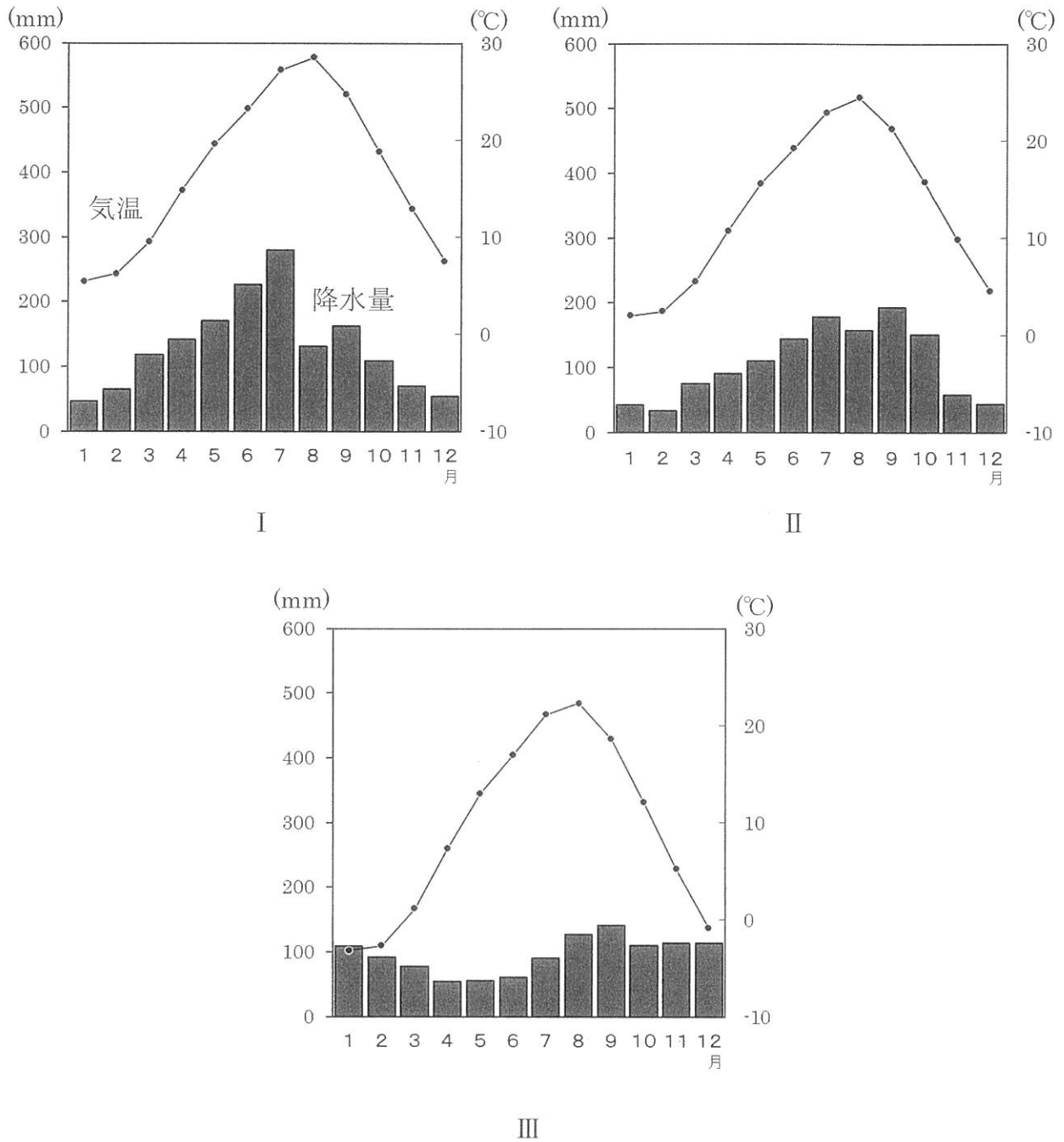
問 4 社会科の授業で、ある地域の特徴を理解するためには他の地域と比較して
 ことが大事だと学んだタイスケくんは、広島市、および広島市と同じ地方^{ちゅうすう}中枢都
 市とされている3市（札幌市、仙台市、福岡市）、さらにこれら4市が含まれる4
 道県に関する情報をまとめた資料を作成しました。その資料が次の図8です。図
 8をみて、あとの問い（i, ii）に答えなさい。

広島市		札幌市	
この市の雨温図 A	この市が属する 道県内にある世界遺産 D	この市の雨温図 B	この市が属する 道県内にある世界遺産 E
仙台市		福岡市	
この市の雨温図 C	この市が属する 道県内にある世界遺産 なし	この市の雨温図 	この市が属する 道県内にある世界遺産 F

雨温図は気象庁の資料により作成。

図 8

i) 次の図9は、図8中のA～Cに当てはまる雨温図を示したものです。図8中のA～Cと図9中のI～IIIとの組み合わせとして正しいものを、下のア～カから1つ選び、記号で答えなさい。



気象庁の資料により作成。

図9

	ア	イ	ウ	エ	オ	カ
A	I	I	II	II	III	III
B	II	III	I	III	I	II
C	III	II	III	I	II	I

ii) 次の図 10 は、図 8 中の D～F に当てはまる世界遺産を撮影したものです。図 8 中の D～F と図 10 中の I～Ⅲとの組み合わせとして正しいものを、下のア～カから 1 つ選び、記号で答えなさい。

著作権の関係上、非表示にしています。



図 10

	ア	イ	ウ	エ	オ	カ
D	I	I	II	II	III	III
E	II	III	I	III	I	II
F	III	II	III	I	II	I

2 次の文章を読んで、あとの問いに答えなさい。

2023年3月、韓国の尹錫悦^{ユンソンニョル}大統領が来日して岸田文雄首相と（国際会議を除けば）12年ぶりの日韓首脳会談を行いました。また、5月には岸田首相が訪韓しました。両国は、未来志向と歴史認識の継承などを共有しました。「近くて遠い隣人」と呼ばれる日本と韓国ですが、両国の歴史を振り返ることで、未来の日本と朝鮮半島の関係のあるべき姿を考えていきましょう。

①日本と朝鮮半島の関係は、4世紀末頃から歴史資料にも表れます。この時期、朝鮮半島には高句麗・百済・新羅の三か国と南部の伽耶^{かや}地域があり、日本はこれらの国々と戦ったり、②人的・文化的交流をしたりしていました。7世紀後半に高句麗・百済が減びると、日本は新羅との関係を強化しました。③奈良時代には一時的に関係が悪化しましたが、それを除けば両国は定期的に使節を送り合うなど、良好な関係を維持していました。新羅が減びると朝鮮半島は高麗が支配するようになりました。日本は高麗と国交を結びませんでした。貿易や人の移動は活発に行われました。

そして、14世紀末になると、④海外との積極的な貿易を目指していた が高麗に代わった朝鮮王朝と国交を開きました。これ以降、日本と朝鮮の関係で重要な役割を果たすようになったのが、 を支配する宗氏でした。豊臣秀吉の⑤朝鮮出兵で国交が断絶した後、江戸幕府と朝鮮王朝の国交回復を仲介したのも宗氏でした。江戸時代の日本は鎖国政策をとっていましたが、朝鮮王朝は国交を結んでいた数少ない国の一つであり、200年以上にわたって活発な交流が続きました。

しかし、⑥明治時代になると、日本政府は欧米列強と同じように植民地を獲得しようと考え、朝鮮王朝に様々な圧力を加えました。そして、20世紀に入り日本は 戦争に勝利すると朝鮮半島を植民地化してしまったのです。日本は、朝鮮の人々の同化をはかるとともに、抗議行動や独立運動を弾圧し、朝鮮を太平洋戦争が終わるまで統治しました。

敗戦後、日本はアメリカの占領下におかれましたが、朝鮮半島はアメリカ・ソ連の影響下におかれ、アメリカの支持を受けた大韓民国（韓国）とソ連の支持を受けた朝鮮民主主義人民共和国（北朝鮮）に分裂しました。そして、1950年には⑦朝鮮戦争が勃発しました。朝鮮戦争をきっかけに日本は独立し、経済的に復興しましたが、韓国・北朝鮮両国とは国交を正常化していませんでした。その後、日本は韓国との国交正常化に向けて交渉を重ね、1965年に 内閣が韓国の朴正熙^{パクチョンヒ}政権と日韓基本条約を結んで両国の国交が正常化しました。この際、両国はいくつかの課題をめぐって対立しましたが、未来での解決を約束して棚上げされることになりました。この時の課題も含めて、日韓関係にはまだいくつもの問題が残っています。しかし、歴史を振り返れば、日本と朝鮮半島は良好な関係にあった時期の方が長いことがわかります。このことを思

い返し、未来志向の関係を築いて解決していきたいですね。

問 1 文章中の空欄 **A** ～ **D** にあてはまる語句を漢字で答えなさい。

※ **A** と **D** は人名を漢字 4 字で答えること。

問 2 下線部①に関連して、次のア～エは、日本と朝鮮半島に関係する古代の史料を現代語訳したものです。これらを時代の古い順に並べ替えなさい。

- ア. 倭国が海を渡り、百済などを攻めて臣民としてしまいました。好太王は自ら水軍を率いて百済を討伐しました。その後、再び倭国が攻めてきましたが、これを撃退しました。
- イ. 日本と百済の軍は先を争って大唐軍を攻めましたが、大唐軍に左右から攻められ、たちまちに敗れました。水中に落ちて戦死する者が多く出ました。
- ウ. 倭王の興が亡くなり、弟の武が新しい王となりました。武は宋の順帝に上表して、朝鮮半島南部の支配を主張し、安東大將軍倭王に任命されました。
- エ. 欽明天皇の時代に、百済の聖明王が、はじめて仏像や経典、僧侶を送ってきました。

問 3 下線部②について述べた文として誤っているものを次のア～エから 1 つ選び、記号で答えなさい。誤っているものがない場合はオを答えなさい。

- ア. のぼりがまとすえ器を作る技術が伝えられました。
- イ. 製鉄の技術が伝わり、鉄製の農具や武器が作られるようになりました。
- ウ. 豊作を祈る祭りが大陸から伝わり、埴輪が作られるようになりました。
- エ. 養蚕と機織りの技術が伝わり、絹織物が作られるようになりました。

問 4 下線部③は、日本が新羅の対応に不満を持ったことで起こりました。その理由を、次の資料を参考にして、解答用紙に合うように漢字 2 字で答えなさい。

ある年、新羅の使者が来日して入京した。新羅は国号を軽々しく改めて王城国と名乗ったため、無礼であるとして使者を追い返した。

別の年、また新羅の使者が来日した。九州で応対した役人は朝廷に次のように報告した。「新羅の使者はこれまで貢物みつぎものと呼んでいたものを改めて、土産物みやげと呼んで渡しに来ました。これは非常に無礼です」。朝廷は新羅の使者を速やかに追い返すよう命じた。

(『続日本紀』)

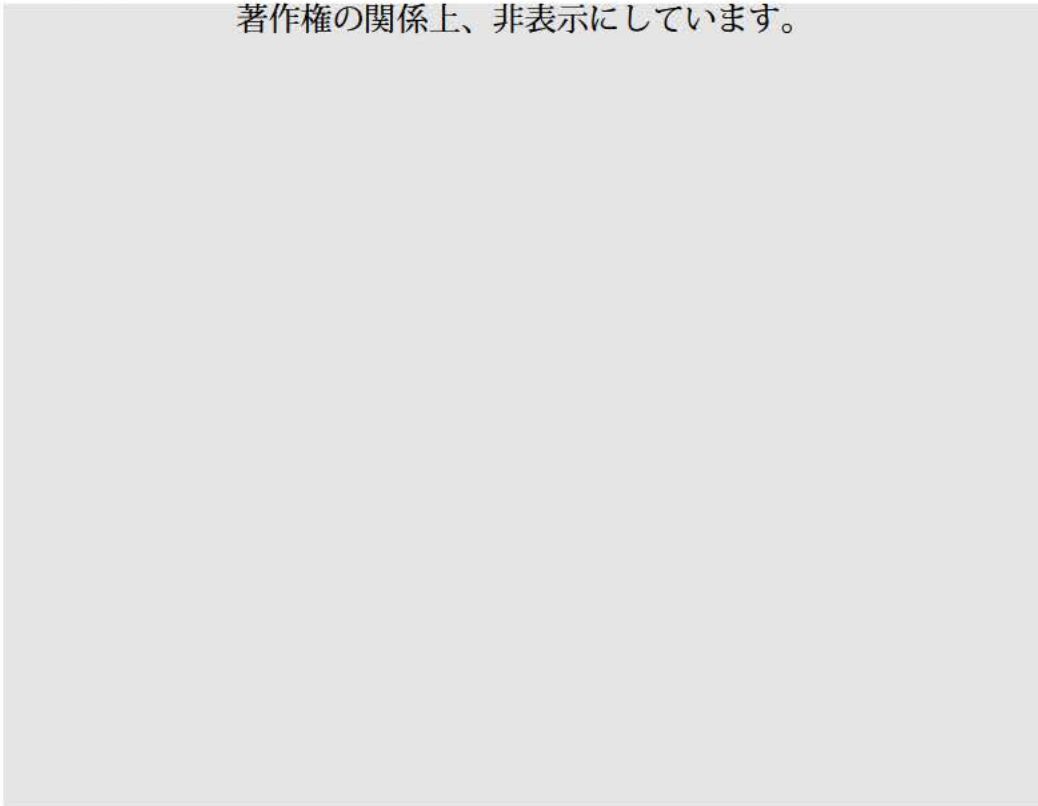
問5 下線部④に関連して、次の地図中の●は、中世の日本に存在した港のおおよその位置を示しています。いずれにも含まれない地名を、下のア～オから1つ選び、記号で答えなさい。



ア. 堺 イ. 十三湊^{とさみなと} ウ. 博多 エ. 大輪田泊 オ. 敦賀^{つるが}

問 6 下線部⑤では、朝鮮人の知識人・技術者が日本に連れてこられました。その影響により江戸時代の日本で発達したものを、次の写真ア～エから 1 つ選び、記号で答えなさい。

著作権の関係上、非表示にしています。



問 7 下線部⑥について述べた文として誤っているものを次のア～エから 1 つ選び、記号で答えなさい。 誤っているものがない場合はオを答えなさい。

- ア. 江戸時代までは主に米などの年貢を農民に納めさせていましたが、明治時代には土地の所有者に土地の価格を基準とした税を金銭で納めさせる方式に変更しました。
- イ. 欧米にならった近代的な軍隊を組織するため、満 20 歳以上の男性に兵役の義務が課せられましたが、その代わりに兵役を終えた男性全員に選挙権が与えられました。
- ウ. 日本国民に近代的な学校教育を受けさせようと、フランスの学校制度を取り入れた学制を定め、6 歳以上の男女が教育を受けることができる小学校を全国に設置しようとした。
- エ. 欧米の知識や技術を取り入れるため、大森貝塚を発見した動物学者のモースや、西洋医学を教えたベルツなどのお雇い外国人を招きました。

問 8 下線部⑦が日本に与えた影響について述べた文として誤っているものを次のア～エから 1 つ選び、記号で答えなさい。誤っているものがない場合はオを答えなさい。

- ア. 朝鮮半島に出兵したアメリカ軍から大量の軍需品などの注文を受けたため、特需景気と呼ばれる好景気が発生しました。
- イ. 日本の独立後も東アジアに軍事拠点を置きたいアメリカは、日米安全保障条約を結んで引き続き日本に基地を置きました。
- ウ. GHQ は日本の防衛力を強化するため、日本政府に警察予備隊を設置するよう命じました。
- エ. 東アジアの安定を目指すアメリカが日本を早く独立させようと講和を急いだため、日本はソ連や中国などを除く 48 か国とサンフランシスコ平和条約を結びました。

3 次の文章を読んで、あとの問いに答えなさい。

①紛争、貧困、飢餓、エネルギー、気候変動、②感染症など、人類は数多くの課題に直面しています。このままの状態では、人類が安定してこの地球で暮らしていくことができなくなると心配されています。その危機感から、2015年に「国連 な開発サミット」が開かれ、世界中のさまざまな立場の人々が話し合っ、課題を整理し、解決方法を考えました。その時に決められた2030年までに達成すべき具体的なゴール（目標）は、略してSDGsと呼ばれています。SDGsは、私たちみんなが、ひとつしかないこの地球で暮らし続けられる世界を実現するために進むべき道を示しています。また、それぞれのゴールの下には、③掘り下げて具体策や数値目標などを示した169のターゲットがあり、それらも参考にされ、国や④地方公共団体、企業やNPO、個人が、さまざまな取り組みを行っています。

SDGsという言葉は多くの人に知られていますが、実は国連でSDGsという名前で採択されたわけではありません。17の目標で構成されているSDGsは、採択された文書の一部に記載されているものであって、文書の正式名称は「Transforming Our World（我々の世界を変革する）」といます。参加国すべてが「我々の世界を変革（Transform）する」ということに同意したのです。Transform（トランスフォーム）とは「原型をとどめないレベルでの変容」を表します。例えば、さなぎが蝶に変わるような変容を意味する言葉です。SDGsは、世界を変革（Transform）するための手段なのです。

著作権の関係上、非表示にしています。

- 目標 1 貧困をなくそう
- 目標 2 飢餓をゼロに
- 目標 3 すべての人に健康と福祉を
- 目標 4 質の高い⑤教育をみんなに
- 目標 5 ジェンダー平等を実現しよう
- 目標 6 安全な水とトイレを世界中に
- 目標 7 エネルギーをみんなにそしてクリーンに
- 目標 8 働きがいも⑥経済成長も
- 目標 9 産業と技術革新の基盤をつくろう
- 目標 10 人や国の不平等をなくそう
- 目標 11 住み続けられるまちづくりを
- 目標 12 つくる責任つかう責任
- 目標 13 気候変動に具体的な対策を
- 目標 14 海の豊かさを守ろう
- 目標 15 陸の豊かさも守ろう
- 目標 16 平和と⑦公正をすべての人に
- 目標 17 パートナリシップで目標を達成しよう

問 1 空欄 にあてはまる語句を、漢字 4 字で答えなさい。

問 2 下線部①について、国際連合には、平和と安全を守ることを役割とする機関として安全保障理事会があります。安全保障理事会について述べた文として、正しいものを、次のア～エからすべて選び、記号で答えなさい。

- ア. 常任理事国は、アメリカ・中国・ロシア・イギリス・フランスです。
- イ. 非常任理事国の 10 か国は総会によって選ばれますが、日本が非常任理事国選ばれたことはありません。
- ウ. すべての常任理事国をふくむ過半数の賛成によって議案は可決されます。
- エ. 全理事国 15 か国のうち、14 か国が賛成をした場合でも決定できないことがあります。

問3 下線部②について、感染症の予防や環境衛生の改善は、日本の社会保障制度の四つの柱のなかでは、「公衆衛生」に分類されます。そのほかの柱である「社会保険」「社会福祉」「公的扶助」について述べた文として、誤っているものを、次のア～エから1つ選び、記号で答えなさい。

- ア. 年金保険の制度では、高齢者へ給付する費用を、主に現役で働いている世代が支払う保険料でまかなう方式を採用しています。
- イ. 所得の低い人に対して生活費などを国が支給する生活保護は、社会福祉の制度に分類されます。
- ウ. 介護保険の制度では、保険料を積み立てるだけでなく、介護を受ける人が、サービスにかかる費用の一部を自己負担することになっています。
- エ. 労働者が仕事中にケガをした場合などにお金が支給される制度は、労働者災害補償保険といわれます。

問4 下線部③について、SDGsの17のゴール（目標）の下には、169のターゲットが示されています。次のターゲットは、どのゴール（目標）を具体的に掘り下げたものか、以下のア～エのうちから1つ選び、記号で答えなさい。

ターゲット

「2030年までに、弱い立場にある人々、女性、子供、障害者及び高齢者のニーズに特に配慮し、公共交通機関の拡大などを通じた交通の安全性改善により、全ての人々に、安全かつ安価で容易に利用できる、持続可能な輸送システムへのアクセスを提供する。」

著作権の関係上、非表示にしています。

ア

イ

ウ

エ

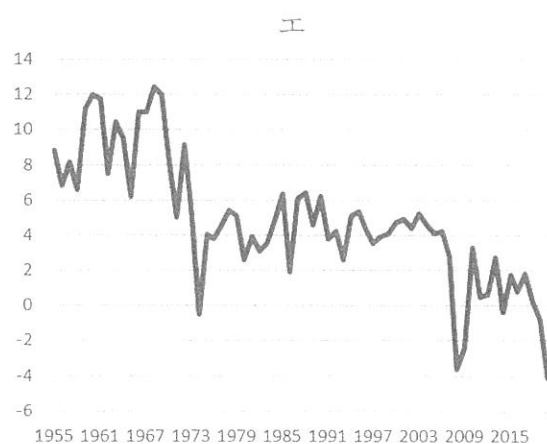
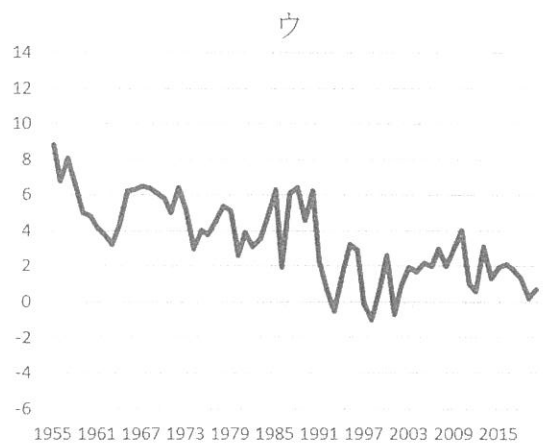
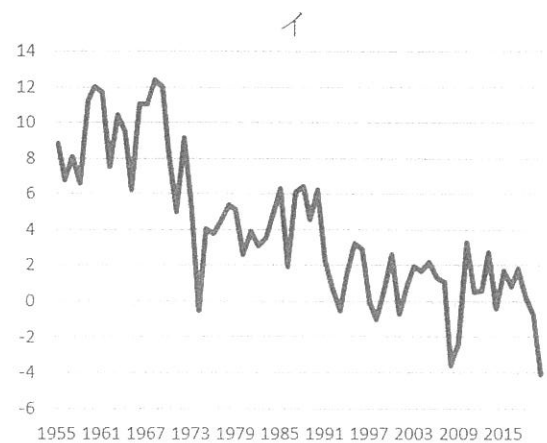
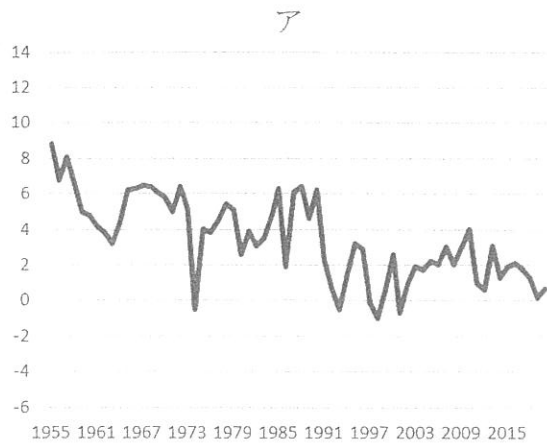
問5 下線部④について、地方公共団体の政治のしくみについて述べた文として、誤っているものを、次のア～エから1つ選び、記号で答えなさい。

- ア. 首長（都道府県知事や市町村長）は、条例や予算の議決に反対のときは、地方議会に議決のやり直しを求めることができます。
- イ. 地方議会は、出席議員の4分の3以上の賛成で首長を不信任とすることができます。
- ウ. 地方公共団体の住民は、有権者数の50分の1以上の署名を集めて選挙管理委員会に提出することで、地方議会の解散を請求することができます。
- エ. 地方公共団体の住民は、有権者数の50分の1以上の署名を集めて首長に提出することで、条例の制定や改正を請求することができます。

問6 下線部⑤について、日本国憲法が保障する基本的人権を「平等権」「自由権」「社会権」「基本的人権を守るための権利」の4つに分類した場合、「教育を受ける権利」と同じ分類になる人権を次のア～オからすべて選び、記号で答えなさい。

- ア. 勤労の権利
- イ. 知る権利
- ウ. 思想・良心の自由
- エ. 参政権
- オ. 学問の自由

問7 下線部⑥について、国の経済成長は、GDPの増加率、つまり経済成長率で示されます。次のア～エのグラフは、経済成長率の推移を表したものです。グラフの横軸は西暦による時系列を示しており、縦軸の数値は前年と比べての上昇率(%)を表したものです。1955年から2020年までの日本の経済成長率の推移のおおよその傾向を示しているグラフとして最も適当なものを次のア～エのうちから1つ選び、記号で答えなさい。



内閣府「経済社会総合研究所」国民経済計算より作成

問 8 下線部⑦について、この目標では、すべての人が司法のもと基本的人権が守られ、社会秩序が保たれることとされていますが、日本の司法制度について述べた文として、誤っているものを、次のア～エから 1 つ選び、記号で答えなさい。

- ア. 法律や行政処分などが、国の最高法規である憲法に違反していないかどうかを判断する違憲立法審査権は、最高裁判所のみがもつ権限です。
- イ. 裁判官として適しているかどうかを、国民の投票により審査する国民審査の対象は、最高裁判所の裁判官のみです。
- ウ. 国民から選ばれた裁判員が、法律の専門家である裁判官とともに話し合いに参加する裁判員制度は、重大な刑事裁判の第一審にのみ導入されています。
- エ. 最高裁判所と下級裁判所のすべての裁判官のうち、最高裁判所の長官のみ内閣により指名されます。

- 4-I 下の年表は各国の「女性参政権の獲得年」を一覧にしたものです。年表中の Z の時期には欧米の多くの国で女性参政権が獲得されています。この期間のイギリスを撮影した写真を参考に、年表中の Z の時期に起こっている出来事をふまえて、ヨーロッパの多くの国で女性参政権が獲得された理由を「地位」という語句を使用して説明しなさい。

著作権の関係上、非表示にしています。

4-Ⅱ 近年は、原料高、人件費高騰^{とう}などといった様々な理由から多くの商品が値上がりをしています。みなさんの中で大好きな人が多いディズニーランドにおけるパークチケットの価格も 2023 年 10 月に値上げをしました。元々、大人料金は 7,900～9,400 円でしたが、10 月 1 日以降は 7,900～10,900 円になっています。ただ、よく見ると、最高料金は値上がりしているものの最低料金には変化がなく、値段の幅が広がっています。このような商品の値段に幅がある仕組みは「ダイナミック・プライシング」と呼ばれます。そのときそのときの消費者の需要の量やその予測、商品やサービスの供給の状況に基づき、値段が変化します。以下の図1を見てください。人が混む土曜日や日曜日の値段が高くなっており、平日は比較的安くなっています。このような例は、チケットだけではなく、ホテルや電車の利用、洋服や食料品でも行われています。近年ではAIなどによる予測や電子タグを利用して細かな値段設定が行われるようになってきています。高速道路では特定の時間や区間で、道路の混雑状況などに応じて料金を変動させることで混雑緩和を目指す「ロードプライシング」も導入されました。

需要の少ない日に利用する消費者にとってメリットの大きい「ダイナミック・プライシング」ですが、この仕組みは導入する側の企業にとってもメリットがあります。企業側のメリットを2つ、わかりやすく説明しなさい。

図1
著作権の関係上、非表示にしています。

2024年度 入学試験問題 社会① 解答用紙

1

問1		問2	
----	--	----	--

問3	i		ii		iii		iv	
----	---	--	----	--	-----	--	----	--

問4	i		ii	
----	---	--	----	--

2

問1	A					B	
	C					D	

問2	→	→	→	問3	
----	---	---	---	----	--

問4	新羅が			な関係を主張したため。
----	-----	--	--	-------------

問5		問6		問7		問8	
----	--	----	--	----	--	----	--

3

問1					問2			問3			問4	
----	--	--	--	--	----	--	--	----	--	--	----	--

問5		問6		問7		問8	
----	--	----	--	----	--	----	--

4-I

--

4-II

↓ここにシールを貼ってください↓



241214

--

受験番号

--	--	--	--