

F 社 会

(40分)

答えはすべて 解答用紙 に書き入れること。

【この冊子について】

1. 試験開始の合図があるまで、この冊子に手をふれてはいけません。
2. この冊子の2～3ページは白紙です。問題は4～23ページです。
3. 解答用紙は、冊子の中央にはさまっています。試験開始の合図後、取り出して解答してください。
4. 試験中に印刷のかすれやよごれ、ページのぬけや乱れ等に気づいた場合は、静かに手を挙げて先生に知らせてください。
5. 試験中、冊子がバラバラにならないように気をつけてください。

【試験中の注意】 以下の内容は、各時間共通です。

1. 試験中は先生の指示に従ってください。
2. 試験中、机の中には何も入れないこと。荷物はイスの下に置いてください。
3. 先生に申し出ればコート・ジャンパー等の着用を許可します。
4. かぜ等の理由でハンカチやティッシュペーパーの使用を希望するときは、先生の許可を得てから使用してください。
5. 試験中に気持ちが悪くなったり、どうしてもトイレに行きたくなったりした場合は、静かに手を挙げて先生に知らせてください。
6. 試験中、机の上に置けるのは次のものだけです。これ以外の物品を置いてはいけません。
 - ・黒しんのえん筆またはシャープペンシル
 - ・消しゴム ・コンパス
 - ・直定規 ・三角定規一組 (10cm程度の目盛り付き)
 - ・時計 ・メガネ筆箱も机の上には置けませんので、カバンの中にしまってください。
7. 終了のチャイムが鳴り始めたら、ただちに筆記用具を置いてください。
8. 答案を回収し終えるまで、手はひざの上に置いてください。

このページは白紙です。

このページは白紙です。

1

次の文章を読み、あとの問いに答えなさい。

ちょうど 100 年前の 1924 年は、前年に起こった（ ）を受けて、災害対策や土地利用の見直しなどを含めた帝都復興計画が進められていた時期にあたります。6 月には第二次護憲運動の高まりを受けて加藤高明内閣が発足し、加藤内閣は翌年、①普通選挙法や治安維持法を成立させることとなります。7 月には改正度量衡法が施行され、国際的に広く使用されている単位系である②メートル法へ移行しました。それまで日本で広く用いられていた尺貫法もしばらく使用されていましたが、1950 年代には法的に使用が禁じられます。10 月には東京都北区に設置された③岩淵水門の完成によって、新たに開削された荒川放水路（現在の荒川）への注水が開始されました。この放水路は、1910 年に隅田川の決壊などで起こった大水害をきっかけに、首都の水害対策の必要性から建設が始まりました。なお 1982 年には、大洪水にも耐えられる設計の新水門が完成し、旧水門は運用を終えています。

2024 年は和暦（元号）では令和 6 年、干支は甲辰にあたります。同じ干支である 1964 年は、アジア初となるオリンピックが東京で開催された年で、日本はオリンピック景気などの好景気が続く高度経済成長の時代でした。自動車・鉄道・航空など④輸送・交通インフラの整備、オリンピック選手団や観光客受け入れのためのホテル建設、各種工業の発達を背景にして、国民の生活水準が高まった時代でした。オリンピック閉会式の翌日には池田勇人首相が退陣を表明し、その後 1972 年まで続くことになる⑤佐藤栄作内閣が発足しました。

産業構造や社会制度、国民の生活は変化し続けてきました。この先も⑥AI（人工知能）技術の発達などによって、私たちの働き方や社会の劇的な変化が予想されます。2024 年には「物流 2024 年問題」が懸念されていますが、AI 活用やDX（デジタルトランスフォーメーション）化が解決の糸口として期待されています。

問 1 文章中の空らん（ ）にあてはまる語句を答えなさい。

問 2 下線部①について、選挙に関する次の設問に答えなさい。

- (1) 日本の選挙制度の変遷について述べた次のア～オの文のうち、下線部の内容が正しいものを二つ選び、記号で答えなさい。

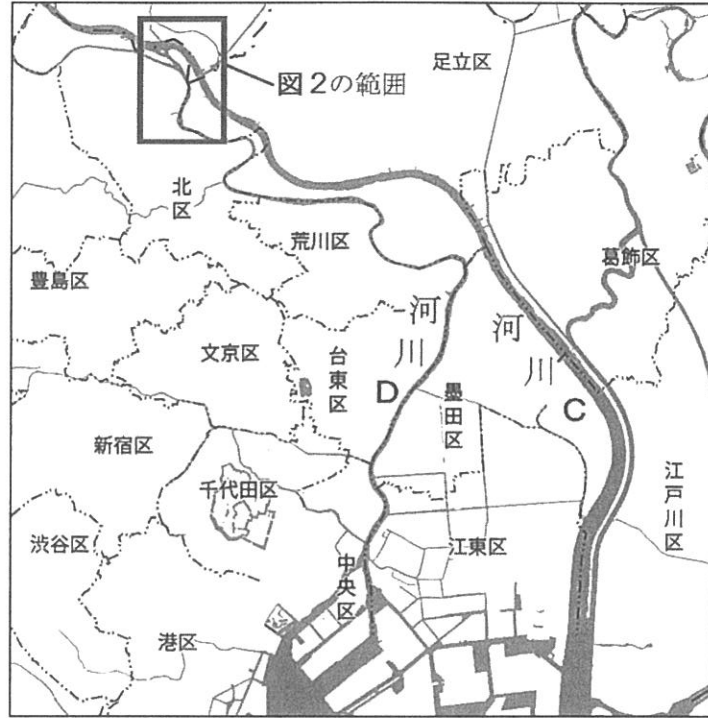
- ア 1890 (明治 23) 年の衆議院議員選挙において、選挙権を有するのは直接国税を 25 円以上納める満 30 歳以上の男性のみであった。
- イ 1925 (大正 14) 年の普通選挙法成立によって、納税の有無にかかわらず、満 25 歳以上の男性が選挙権を有することになった。
- ウ 1945 (昭和 20) 年の衆議院議員選挙法改正により、女性の参政権が認められ、満 25 歳以上の男女が選挙権を有することになった。
- エ 2003 (平成 15) 年の公職選挙法改正により、自筆が出来ない場合に、投票所において親族が代理記載することが認められた。
- オ 2013 (平成 25) 年の公職選挙法改正により、候補者や政党がウェブサイト等や電子メールを利用して選挙運動を行うことが認められた。
- (2) 現在の選挙制度下において選挙権または被選挙権が認められないケースを、次のア～エから一つ選び、記号で答えなさい。なお、示されている事項以外は、選挙権・被選挙権を有する条件を満たしているものとします。

ア	参議院議員選挙	選挙権	選挙期日 (投票日) に誕生日を迎え、満 18 歳となる。
イ	市長選挙	選挙権	満 18 歳、高等学校に在学中である。
ウ	衆議院議員選挙	被選挙権	満 42 歳、現在の居住地から遠く離れた、自身の出身地の小選挙区から立候補する。
エ	市議会議員選挙	被選挙権	満 58 歳、告示日の 1 か月前に、他県から市内へ転居し立候補する。

問 3 下線部②について、次の設問に答えなさい。

- (1) 現在の 1 メートルは、「1 秒の 299,792,458 分の 1 の時間に光が真空中を伝わる長さ」と定義されていますが、18 世紀末にフランスで制定された際には現在と異なる定義でした。その際、「地球の北極点から赤道までの子午線上の長さ」の何分の 1 と定義されたか、答えなさい。
- (2) メートル法に関連した単位として誤っているものを、次のア～エから一つ選び、記号で答えなさい。
- ア キログラム イ バレル ウ ヘクタール エ リットル
- (3) バビロニアで発達した天文学では 60 進法が用いられ、現在も時間や角度を表す単位には、60 進法による時間 (度)・分・秒が使用されています。地球上の緯度 1 分に相当する長さをもとに定義された、長さの単位を答えなさい。

問4 下線部③について、図1・図2を見て、あとの文章を読み、続く設問に答えなさい。



(地理院地図より作成)

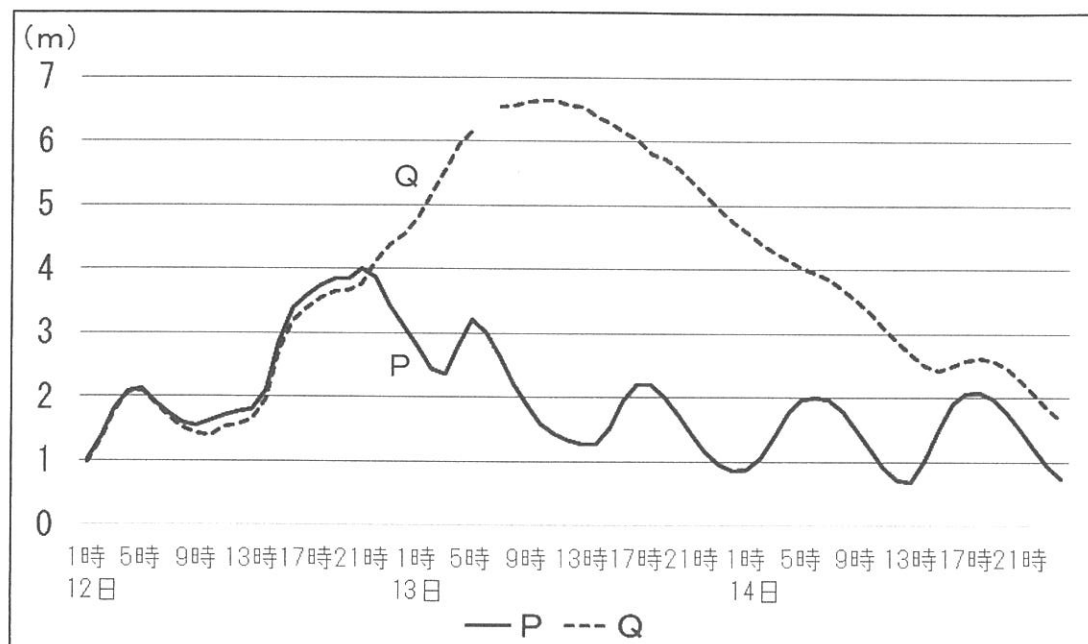
図1



(地理院地図より作成)

図2

令和元年東日本台風（台風 19 号）によって記録的な大雨が観測された、
2019 年 10 月 12 日～14 日における図 2 中の◆E・F 付近の河川水位の状況



データには一部欠測がある。

(国土交通省「水文水質データベース」より作成)

図 3

《新岩淵水門の役割》

大雨によって河川水位が上がった際に、岩淵水門を（ i ）ことによっておもに河川（ ii ）の下流域における氾濫・洪水被害を防ぐことを目的としている。図 3 に示された水位変化のうち（ iii ）は、図 2 中の地点◆Eにあたる。

- (1) 河川 C と河川 D の名称を、それぞれ答えなさい。
- (2) 文章中の（ i ）～（ iii ）にあてはまる語句の正しい組み合わせを、次のア～クから一つ選び、記号で答えなさい。

	ア	イ	ウ	エ	オ	カ	キ	ク
i	閉じる	閉じる	閉じる	閉じる	開く	開く	開く	開く
ii	C	C	D	D	C	C	D	D
iii	P	Q	P	Q	P	Q	P	Q

問5 下線部④について、次の図4は日本国内の輸送機関別輸送量割合の推移を示したもので、(A)・(B)は貨物・旅客^{りよかく}のどちらか、X～Zは自動車・船舶^{せんぱく}・鉄道のいずれかです。貨物と船舶にあたるものの組み合わせとして正しいものを、あとのア～カから一つ選び、記号で答えなさい。

著作権の関係上、非表示にしています。

図4

	ア	イ	ウ	エ	オ	カ
貨物	A	A	A	B	B	B
船舶	X	Y	Z	X	Y	Z

問6 下線部⑤について、次の設問に答えなさい。

(1) 佐藤栄作の首相としての在職期間（1964年11月～1972年7月）に起こった出来事として誤っているものを、次のア～エから一つ選び、記号で答えなさい。

ア 小笠原諸島の施政権が、アメリカ合衆国から日本に返還された。

イ 日本で初めての万国博覧会が、大阪で開催された。

ウ アポロ11号によって、人類初の月面着陸が達成された。

エ エジプトとシリアがイスラエルに攻撃を開始し、第四次中東戦争が起こった。

(2) 佐藤栄作は1974年にノーベル平和賞を受賞しました。ノーベル平和賞は人物のみならず団体も授与対象となっており、2020年にはWFPが受賞しています。WFPの紋章を、次のア～エから一つ選び、記号で答えなさい。

著作権の関係上、非表示にしています。

ア イ ウ エ

問7 下線部⑥について、2023年にはChatGPTなどA I言語モデルを活用したチャットサービスが話題となり、世界中で利用者が一気に増えました。しかし、内容や質問の形式によっては不正確な回答や、不自然な言葉づかいも見られます。

次のア～エの文は、文章中に示されたことがらについて、あるA Iチャットサービスに事前知識をあたえず質問を直接提示し、そこから得られた回答の一部です。これらのうち内容に明らかな誤りを含むものを一つ選び、記号で答えなさい。

ア 治安維持法は、社会主義運動や共産主義運動の抑制を目的として制定された。その濫用や政府の不当な圧力、特に言論・表現の自由に対する制約が懸念された。

イ 尺貫法は、古代中国と日本で用いられた長さや重さの単位制。単位には尺や貫などがあるが、国際的な統一には適さず、現代ではあまり使用されなくなった。

ウ 高度経済成長期は、1950年代～70年代初頭の時期。製造業における品質の安定や生産性の向上が実現し、アジアや世界市場への製品の輸出で外貨を獲得した。

エ 物流2024年問題は、コンピューターの時刻や日時の処理に起因する誤作動により、正確な運搬や配送が影響を受けるおそれがある課題。

2

M君は、旅行で訪れたことのある名所やその地域の名物について、印象に残っているものを県ごとにまとめました。これらの文章を読み、あとの問いに答えなさい。

A 県

庄内平野の南部に位置する鶴岡市の①羽黒山は、昔から修験道の信仰の場として知られています。石段が2,000段以上続く参道を1時間以上かけて歩き、山頂の出羽神社に向かいましたが、途中で法螺貝を持った山伏とすれ違いました。

南陽市では、山の斜面にブドウなどの果樹園が広がる景観が記憶に残っています。季節によってサクランボ、モモ、ナシ、リンゴなど様々な果物が収穫されるそうです。道の駅で購入したラ・フランスのゼリーと羊羹がとても美味しかったです。

B 県

(i) 半島に位置する指宿市では、砂蒸し風呂や温泉、黒豚のしゃぶしゃぶを堪能しました。(i) 半島周辺には、黒牛や地鶏、山川漁港や枕崎漁港で水揚げされるカツオ、知覧で栽培される茶など、地場産品が豊富にあります。

練乳をかけてフルーツをふんだんに盛り付けた、「白熊」と呼ばれるかき氷が県内外で知られていますが、黒糖から作った黒蜜をかけたかき氷もありました。県内の奄美群島などでサトウキビの生産が多く、黒糖を使った郷土料理も豊富です。

C 県

安曇野市は、県中部の(ii) 盆地に広がる安曇野地域に由来する地名で、古くは安曇平とも呼ばれていたそうです。北アルプスから流れる川の堆積物がつくった

(iii) という地形が広がり、地表の水が地下に浸透してしまうため、堰と呼ばれる用水路を利用したかんがい農業が行われてきました。見学したわさび農園では、豊富できれいな湧き水を利用して栽培が行われていました。またこの地域では、小豆や野菜など様々な材料の餡を、小麦粉やソバ粉を練った生地で包んで焼いた「おやき」も有名で、大変美味しく何種類も食べてしまいました。

D 県

(iv) 市は、島しょ部で作られる柑橘類、近海で獲れる魚介類をはじめ食材が豊富で、特に生口島で食べたタコの天ぷらは絶品でした。本州四国連絡道路の一つによって愛媛県今治市と結ばれていますが、その途中にある因島には、村上水軍のうち因島村上氏の拠点がありました。島が多く密集し、狭い航路や複雑な潮流が多い海域において、水先案内や海上警護も行っていたそうです。夏に訪れた際に開催されていた因島水軍まつりでは、迫力ある水軍太鼓の演奏や小早舟レースを見ることができました。

E 県

一 関市の厳美溪では、溪谷の対岸のお店からロープを使って運ばれる「空飛ぶ団子」が観光客に人気です。この地域には団子や餅のお店が多いことに気がきました。冠婚葬祭や季節の行事の際には餅がふるまわれ、様々な味付けで食べる文化があるそうです。久慈市で食べた「まめぶ汁」にも、クルミの入った団子が使われていました。この団子は小麦粉を練ったものです。②コンブや煮干しの出汁で、様々な具材を煮込んであります。

雫石市や滝沢市にまたがる広大な小岩井農場では、③酪農や畜産を中心に様々なものが生産されています。ここで飲んだ牛乳は濃厚なのに飲みやすく、あっという間に飲み干してしまいました。

問1 文章中の (i) ~ (iv) にあてはまる地名・語句を、それぞれ答えなさい。

問2 下線部①について、羽黒山の位置に最も近い緯度・経度の組み合わせを、次のア～カから一つ選び、記号で答えなさい。

	ア	イ	ウ	エ	オ	カ
北緯	39度	39度	39度	41度	41度	41度
東経	134度	137度	140度	134度	137度	140度

問3 下線部②について、E県東部ではコンブやワカメ、カキなどの養^{よう}殖^{しょく}がさかんで、また様々な魚種が漁獲されます。これらの背景について述べた文として正しいものを、次のア～エから一つ選び、記号で答えなさい。

- ア 遠く沖合まで緩^{ゆる}やかな傾斜^{けいしゃ}の海底^{かいぞう}が続き、広大な大陸棚^{たいりくだな}がある。
- イ 海岸近くまで山地^{せま}が迫り、森からの豊かな栄養分^{えいようぶん}が海に運ばれる。
- ウ 潮目では暖水^{ぬまづみ}が冷水^{れいすい}の下に潜^{もぐ}り込み、湧昇^{ゆうしょうりゅう}流^{りゅう}をとまなう対流^{たいりゅう}が発生する。
- エ 単調な砂浜^{すなはま}の海岸線^{かいがんせん}が続き、伝統的に地引き網漁^{あみ}が発達している。

問4 下線部③について、M君は酪農に関するデータを調べ、次の表1・図1・図2にまとめました。これらの図表について、あとの設問に答えなさい。

表1

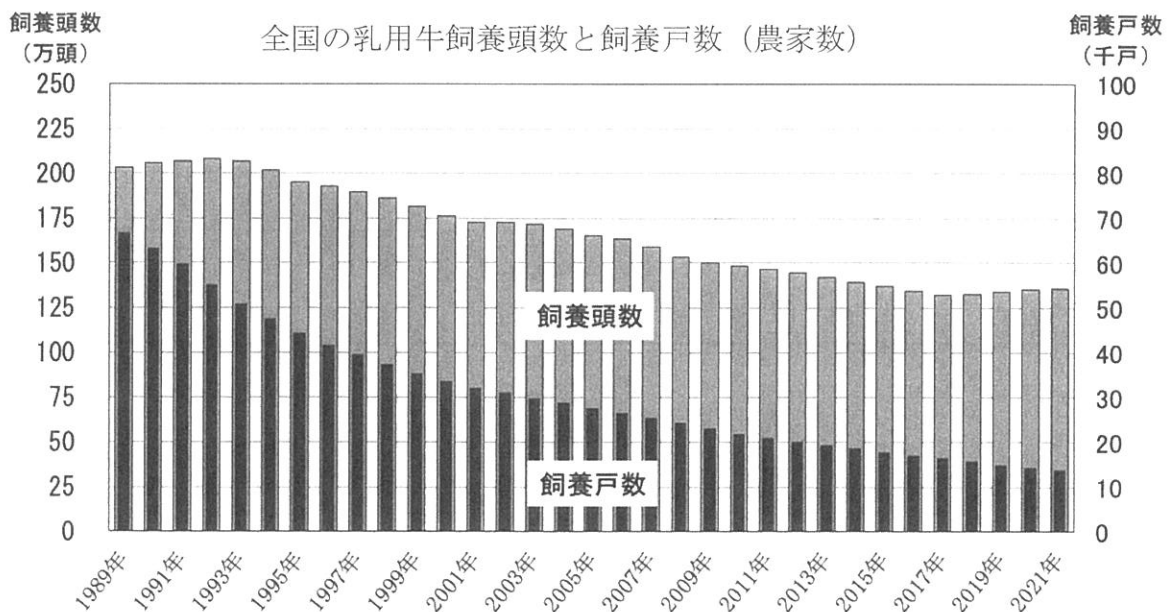
全国に占める地域別生乳生産量割合と用途内訳

	全国に占める 生乳生産量の割合 (%)	生乳の用途内訳 (%)		
		牛乳等向け	乳製品向け	その他
F	7.1	73.2	26.1	0.7
G	14.9	90.7	8.5	0.8
H	56.6	15.3	84.1	0.6

統計は2022年。F～Hは、関東・東山^{とうざん}、東北、北海道のいずれかである。

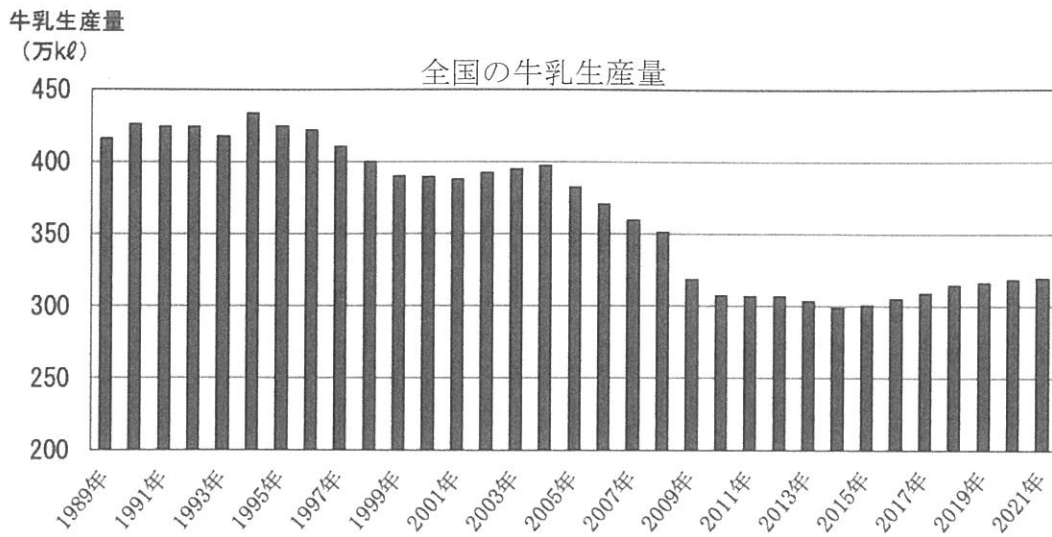
関東・東山は、関東1都6県および山梨県・長野県を示す。

(農林水産省統計より作成)



(農林水産省統計より作成)

図1



(農林水産省統計より作成)

図 2

(1) 表 1 中の F～H は、関東・東山、東北、北海道のいずれかにあたります。地域と記号の正しい組み合わせを、次のア～カから一つ選び、記号で答えなさい。

	ア	イ	ウ	エ	オ	カ
関東・東山	F	F	G	G	H	H
東北	G	H	F	H	F	G
北海道	H	G	H	F	G	F

(2) 次の文章は、これらの図表や酪農業に関連してO君が述べた意見です。文章中の下線部ア～オのうち、内容が誤っているものをすべて選び、記号で答えなさい。

《O君の意見》

肉用牛の飼育に比べて、ア 乳用牛の飼育は涼しい地域が適していますが、表1を見ると関東地方でも酪農は行われていることが分かりました。生乳の用途の違いは、消費地との距離や輸送時間、消費期限やコストも関係していると思います。

図1を見ると、日本の酪農業の将来が心配になります。イ 全国の飼養頭数はこの30年間でおよそ70万頭減っています。また、ウ 農家一戸あたりの飼養頭数が減っていることから、大規模に経営している外国に比べて価格競争で負け、安い乳製品が多く輸入されるようになることも心配です。日本は飼料の多くを輸入に頼っており、エ トウモロコシなど飼料の価格が高騰していることも、酪農はじめ畜産業の経営を難しくしている原因だと考えられます。

飲用の牛乳はすべて国産であると聞いたことがあります。図2を見るとこの30年間で、オ 牛乳生産量はおよそ半分にまで減っています。一方で、一人あたりの消費量が減少したため、生乳や牛乳が余り、廃棄される量が増えたというニュースも目にしました。

私たちが牛乳や乳製品を多く消費することも大事ですが、おいしくて安全な日本の乳製品を外国に広くPRして、海外への輸出・販売をもっと増やすことが出来れば、日本の酪農業の発展につながると思います。

問5 次のア～オは、A県～E県のいずれかの伝統的工芸品です。A県とC県の伝統的工芸品をそれぞれ一つ選び、記号で答えなさい。

ア 飯山仏壇 イ 大島紬 ウ 熊野筆 エ 天童将棋駒 オ 南部鉄器

問6 A県～E県の5県を比較した統計について、次の設問に答えなさい。

- (1) 次の図3は、A県～E県のいずれかの製造品出荷額等割合（2019年）を示したグラフで、ア～エはA県～D県のいずれかです。B県とD県にあたるものを、それぞれ図中のア～エから一つ選び、記号で答えなさい。

著作権の関係上、非表示にしています。

図3

(2) 次の表2は、A県～E県のいずれかの自動車・船舶・鉄道に関する指標で、ア～エはB県～E県のいずれかです。B県とC県にあたるものを、それぞれ表中のア～エから一つ選び、記号で答えなさい。

表2
著作権の関係上、非表示にしています。

(3) 次の表3は、A県～E県のいずれかの県庁所在都市における、年較差（最暖月平均気温と最寒月平均気温の差）、年降水量、1月と7月の日照時間を示したものです。A県にあたるものを、表中のア～オから一つ選び、記号で答えなさい。

表3

	年較差 (°C)	年降水量 (mm)	日照時間 (時間)	
			1月	7月
ア	20.1	2434.7	132.6	185.5
イ	23.1	1572.2	138.6	173.4
ウ	25.1	1206.7	79.6	144.5
エ	25.1	1279.9	115.6	130.5
オ	25.8	965.1	128.4	168.8

(気象庁資料より作成)

3

社会科の授業で、生徒が「歴史カルタ」を作りました。絵札には、歴史上の人物や文学作品、絵画、建築物などの名称と絵が書かれており、読み札には、生徒が考えた「5・7・5」の音韻（文字）による、絵札の題材についての句が書かれています。以上をふまえたうえで、あとの問いに答えなさい。なお、生徒が考えた読み札の句は先生の監修を経ているため、内容についての誤りはないものとします。（絵札は、本問では省略します。）

〔歴史カルタ・読み札の句A〕

- ① 「名執権 貞永式目 武士の法」
- ② 「草履とり のちに太閤 天下取り」
- ③ 「遣隋使 “日出づる国” の 手紙持ち」
- ④ 「米将軍 財政赤字を 建て直し」
- ⑤ 「唐の僧 失明くじけず 日本へ」
- ⑥ 「侘び求め 奥の細道 旅に出る」
- ⑦ 「いざ鎌倉”の 時は今だと 尼将軍」
- ⑧ 「女王の 治める国は 邪馬台国」
- ⑨ 「大政奉還 最後の将軍の 花道か」
- ⑩ 「島原の乱 奇跡の少年 リーダーに」

〔歴史カルタ・読み札の句B〕

- ⑪ 「長安の 文化を求めて 海を越え」
- ⑫ 「かな文字で 光源氏の 物語」
- ⑬ 「東山 書院造の たたずまい」
- ⑭ 「広重や 東海道を いざ進まん」

問1 〔歴史カルタ・読み札の句A〕①～⑩で読まれている歴史上の人物の名前を、それぞれ答えなさい。

問2 〔歴史カルタ・読み札の句B〕⑪～⑭について、次の設問に答えなさい。

(1) ⑪について、この句の内容にあてはまらない人物を、次のア～エから一つ選び、記号で答えなさい。

ア 阿倍仲麻呂

イ 犬上御田歙

ウ 空海

エ 菅原道真

(2) ⑫について、この句の物語と同様に、平安時代になんか文字で書かれた文学作品を、次のア～カから二つ選り、記号で答えなさい。

- | | | |
|--------|-------|--------|
| ア 御伽草子 | イ 徒然草 | ウ 土佐日記 |
| エ 平家物語 | オ 方丈記 | カ 枕草子 |

(3) ⑬について、この句で読まれている建築物としてふさわしいものを、次のア～エから一つ選り、記号で答えなさい。

著作権の関係上、非表示にしています。

ア

著作権の関係上、非表示にしています。

イ

著作権の関係上、非表示にしています。

ウ

著作権の関係上、非表示にしています。

エ

(4) ⑭について、この句で読まれている作品としてふさわしいものを、次のア～エから一つ選り、記号で答えなさい。

著作権の関係上、非表示にしています。

ア

著作権の関係上、非表示にしています。

イ

著作権の関係上、非表示にしています。

ウ

著作権の関係上、非表示にしています。

エ

4

次の文章は、ある日の中学校における先生と生徒2人（春樹・夏男）の会話です。これを読み、あとの問いに答えなさい。

春樹：この学校の授業はどれも面白い^{おもしろ}いためになるけれど、そのなかでも私が一番好きなのは、中3社会科の地域調査の授業です。毎週楽しみにしています。

夏男^{なつお}：僕も地域調査の授業は好きだな。先生の話聞いてノートをとる授業もいいけれど地域調査の授業は自分たちでテーマを決めていろいろと調べたり、友達と話し合ったりするのがとても楽しいよ。

先生：この学校の地域調査の授業は、2002（平成14）年から全国の中学校で始まった「総合的な学習の時間」の取り組みとして始められたんだ。

夏男：さすが先生、昔のことをよく知っていますね。

先生：私は①1990年代のはじめに本校に着任して以来、現在まで30年以上この学校に勤めているからね。②明治時代から続くこの学校の長い歴史のなかで、教育内容も大きく変わってきたけれど、最近の地域調査の授業は面白い取り組みだと思うよ。

春樹：地域調査の「東京探検」で取り上げられる場所は、やはり23区が圧倒的に多いですね。

先生：そうだね。やはり23区には、歴史的な建造物や長い伝統のある場所がたくさんあるからね。最近の先輩たちが取り上げた事例では、③文京区から台東区にかけての「谷根千^{やねせん}」や、古書店街が並ぶ神田神保町^{かんたじんぼうちょう}、「おじいちゃん・おばあちゃん^{すがも}の原宿」と呼ばれる^{すがも}が印象的だったね。

春樹：僕は東京都の市部である多摩地域に住んでいるので、地域調査の「東京探検」の授業で23区^{たま}の場所ばかりが取り上げられるのは、何となく残念な気がします。

夏男：それは同感だな。僕も東京都の市部に住んでいるので、地域調査の授業では23区ではなく、多摩地域の場所を取り上げたいと思っています。僕は声を大にして言いたい、「23区だけが東京都じゃない！」って。

先生：それはまったくその通りだ。本校から近い23区内の場所を取り上げる生徒が多いのはたしかだけど、「東京探検」でどこを調べるかは君たちの自由だ。君たちが自分たちの住んでいる多摩地域に興味を持っているなら、その地域について調べたらいい。

春樹：私は西東京市という市に住んでいます。西東京市は、2001（平成13）年に④二つの市^{がっぺい}が合併してできた市です。西東京市は東京23区の一つである練馬区^{ねりま}とも接していて、名前は西東京市だけど、東京都全体の地図で見ると東京都のほぼ中央に位置しています。あと、下野谷遺跡^{したのやいせき}という⑤縄文時代^{じょうもん}の大規模な集落の跡が発掘され、現在ではその一部が公園として整備されています。

先生：春樹君は西東京市に住んでいるんだね。君たちはまだ生まれていなかったからあまり知らないと思うけれど、西東京市が誕生した頃は⑥平成の大合併^{ころ}といって、日本全国で市町村の合併を政府が主導して推進していた時期なんだ。現在私が住んでいる（⑦）市も浦和市^{うらわ}と大宮市と与野市の3市が2001年に合併してできた市で、西東京市誕生と同じ年だね。

夏男：僕は国分寺市に住んでいます。国分寺市は、その名の通りかつて武蔵国^{むさしのくに}の国分寺があったところで、とても住みやすい街です。武蔵国分寺跡は現在では公園として整備されていて、小学生の時に社会科見学でも行きました。あと、この辺りは落ち着いていて環境^{かんきょう}がいいので、隣接^{りんせつ}している国立市^{くにたち}や小金井市^{こがねい}などとあわせて、大学や高校がたくさんあります。

先生：国分寺はその名の通り、歴史を感じさせる街だね。多摩地域にはその他にも、歴史と関連の深い地名がたくさんある。国分寺と同じ⑧奈良時代に関連するものでは、たとえば調布^{りつりょう}という地名は、律令制度下の税制である租庸調^{そようちょう}に由来するものだし、府中^{ふちゅう}という地名は、かつて武蔵国の国府が置かれていたことに由来する地名なんだ。

夏男：やっぱり、多摩地域も歴史の宝庫だな。

先生：君たちが言うとおりの、23区だけが東京都じゃない。市部・多摩地域についても積極的に問いを見つけて、研究を深めてほしいな。

春樹・夏男：はい！！

問1 下線部①について、先生がこの学校に勤務している期間（1990年代～現在）に起こった、以下の〈世界〉と〈日本〉の出来事を、それぞれ年代の古い順に並びかえ、記号で答えなさい。

〈世界〉

- ア アメリカ同時多発テロ事件の発生
- イ ソビエト連邦の崩壊
- ウ 新型コロナウイルスの世界的流行の開始
- エ ロシアによるクリミア半島の併合宣言

〈日本〉

- カ 東日本大震災と福島第一原子力発電所事故
- キ 「平成」が終わり「令和」になる
- ク 阪神・淡路大震災
- ケ 東京オリンピック・パラリンピック開催

問2 下線部②について、明治時代から現在にいたるまで、この学校の長い歴史のあいだには、近代日本の歩みとともに、いくつもの大きな戦争がありました。このことについて、以下の〈A〉～〈D〉に答えなさい。

〈A〉 日清戦争に関連して、次の設問に答えなさい。

(1) 日清戦争の講和条約である下関条約により日本は遼東半島を獲得しましたが、ロシアを中心とした三国干渉によって、清に返還することになりました。干渉をおこなったロシア以外の二つの国の組み合わせとして正しいものを、次のア～カから一つ選び、記号で答えなさい。

- ア アメリカ・イギリス イ アメリカ・ドイツ ウ アメリカ・フランス
- エ イギリス・ドイツ オ イギリス・フランス カ ドイツ・フランス

(2) 三国干渉後、日本では中国のある故事成語をスローガンに掲げ、ロシアへの復讐を誓う社会的空気が民衆のあいだに広まりました。この故事成語を、次のア～エから一つ選び、記号で答えなさい。

- ア 臥薪嘗胆 イ 捲土重来 ウ 吳越同舟 エ 四面楚歌

 日露戦争にちろに関連して述べた文として誤っているものを、次のア～エから一つ選び、記号で答えなさい。

- ア 日露戦争のさなか、ロシアで「血の日曜日事件」をきっかけに革命運動が起こった。
- イ 日本海海戦では、東郷平八郎とうごうへいはちろう率いる日本艦隊かんたいがロシアのバルチック艦隊に勝利した。
- ウ アメリカの仲介ちゅうかいで、陸奥宗光外相むつむねみつがいしろうがポーツマスでロシアとの講和条約に調印した。
- エ 賠償金ばいしょうが取れない講和条約に国民の不満が爆発し、日比谷焼打ち事件ひびやが起こった。

<C> 第一次世界大戦に関連して、次の設問に答えなさい。

- (1) 第一次世界大戦終結時、敗戦国ドイツと連合国の間で結ばれた講和条約について、調印の舞台ぶたいとなったフランスの宮殿きゆうでんの名称を、カタカナで答えなさい。
- (2) 第一次世界大戦後、戦争の抑止と世界平和の維持を目的として設立された国際連盟において、事務次長をつとめた日本人の名前を答えなさい。

<D> 第二次世界大戦に関連して、次の設問に答えなさい。

- (1) ナチスによるユダヤ人迫害はくがいから救うために、いわゆる「命のビザ」を発行してユダヤ人の海外逃亡とうぼうを助けた杉原千畝すぎはらちうねは、当時どこの領事館ふにんに赴任していたか、次のア～エから一つ選び、記号で答えなさい。

ア エストニア イ フィンランド ウ ラトビア エ リトアニア

- (2) 日本が終戦を迎えた日（1945（昭和20）年8月15日）における日本の内閣総理大臣を、次のア～エから一つ選び、記号で答えなさい。

ア 近衛文麿このえふみまろ イ 鈴木貫太郎すずきかんたろう ウ 東条英機とうじょうひでき エ 米内光政よないみつまさ

問3 下線部③について、文京区と台東区に位置する施設や地名の組み合わせを、次のア～エからそれぞれ一つ選び、記号で答えなさい。

- ア 上野恩賜公園おんし、上野動物園、国立西洋美術館、東京国立博物館、浅草寺せんそう
- イ お台場海浜公園かいひん、迎賓館赤坂離宮げいひんかん、芝公園りきゆう、増上寺しば、東京タワー
- ウ 銀座、日本橋、築地場外市場つきじ、築地本願寺、浜離宮恩賜庭園
- エ 小石川植物園、東京大学本郷キャンパス、東京ドーム、湯島聖堂、湯島天神

問4 下線部④について、二つの市の組み合わせとして正しいものを、次のア～エから一つ選び、記号で答えなさい。

- ア 昭島市あきしまと日野市 イ 稲城市いなぎと多摩市
- ウ 田無市たなしと保谷市ほうや エ 羽村市はむらと福生市ふっさ

問5 下線部⑤について、縄文時代の生活様式について述べた文として正しいものを、次のア～エから一つ選び、記号で答えなさい。

- ア 文様が少なく、高温で焼くため赤褐色をした、かたくて薄手の土器がつくられた。
- イ 人々が食べた貝の殻や魚・動物の骨などは一定の場所に捨てられ、貝塚ができた。
- ウ 米はネズミや湿気を防ぐために高床倉庫におさめ、杵と臼で脱穀して食べた。
- エ 外敵を防ぐために、周りに濠や柵をめぐらせた環濠集落がつけられた。

問6 下線部⑥について、20世紀末から21世紀初頭にかけておこなわれた、いわゆる「平成の大合併」によって、日本全国の市町村数は、現在の数に近くなりました。この「平成の大合併」によって、日本全国の市町村数はおよそいくつからいくつに減少したか、次のア～エから一つ選び、記号で答えなさい。

- ア (大合併前) 約 10,000 → (大合併後) 約 5,500
- イ (大合併前) 約 5,500 → (大合併後) 約 3,200
- ウ (大合併前) 約 3,200 → (大合併後) 約 1,700
- エ (大合併前) 約 1,700 → (大合併後) 約 900

問7 文章中の空らん (⑦) にあてはまる市の名前を答えなさい。

問8 下線部⑧について、奈良時代の日本について述べた文として誤っているものを、次のア～エから一つ選び、記号で答えなさい。

- ア 710年、唐の長安にならった平城京が、律令国家の新しい都となった。
- イ 成人男性には租のほかに、布や特産物を都に納める調・庸の税が課された。
- ウ 仏教の力で伝染病や災害から国家を守ろうと、国分寺と国分尼寺が建てられた。
- エ 国ごとに国府と呼ばれる役所が置かれ、地方の豪族が国司に任命され政治を行った。

受験番号	氏名

1

問1 問2 (1) (2)

問3 (1) 分の1 (2) (3)

問4 (1) C D (2) 問5

問6 (1) (2) 問7

2

問1 i 半島 ii 盆地 iii iv 市

問2 問3 問4 (1) (2)

問5 A県 C県 問6 (1) B県 D県 (2) B県 C県 (3)

3

問1

① <input type="text"/>	② <input type="text"/>	③ <input type="text"/>	④ <input type="text"/>
⑤ <input type="text"/>	⑥ <input type="text"/>	⑦ <input type="text"/>	⑧ <input type="text"/>
⑨ <input type="text"/>	⑩ <input type="text"/>		

問2 (1) (2) (3) (4)

4

問1 世界 → → 日本 → →

問2 A (1) (2) B

C (1) 宮殿 (2) D (1) (2)

問3 文京区 台東区 問4 問5 問6

問7 市 問8