

社 会

注 意 事 項

- 1 試験開始の合図があるまで、この問題冊子の中及び解答用紙を見てはいけません。
- 2 問題の内容に関する質問には、一切答えられません。ただし、試験中に問題冊子の印刷不鮮明、ページの落丁・乱丁、解答用紙の汚れ等に気付いた場合は、静かに手をあげて試験監督に知らせてください。
- 3 この問題冊子も回収するため、試験開始前に試験監督の指示に従い表紙下の受験番号欄に、受験番号（数字）を記入してください。
- 4 解答用紙には、次の欄があります。

①受験番号欄

試験開始後すぐに、受験番号を記入してください。

②解答欄

解答は、解答欄をはみ出さずにていねいに記入してください。
はみ出すと採点されない場合があります。

③シール貼り付け欄

試験監督の指示に従い、QRコードシールを1枚貼り付けてください。

受 験 番 号			

1 次の文章は、ヨーロッパから東京の中学校に留学中のエマさんと同級生の広樹さんが、夏休みを前に日本での旅行について話し合っているものです。これを読んで、あとの問いに答えなさい。

広樹：今年（2024年）は、日本で①東海道新幹線が開通してちょうど60年目なんだよ。世界で最初の鉄道は、19世紀後半に で開通したことは有名だけど、世界で初めて高速鉄道が走ったのは日本だということは案外知られていないよね。

エマ：その時の高速鉄道って、どのくらいのスピードが出たの？

広樹：最高時速200kmで、開業した翌年の1965年には東京から新大阪までの移動時間がそれまでの約半分になったんだ。

エマ：日本の新幹線は世界的に有名よ。日本を追いかけるように、ヨーロッパでも次々と高速鉄道が開通したの。フランスの「TGV」や とヨーロッパ大陸をつなぐ「ユーロスター」などは、日本の新幹線の技術をいかして、今やヨーロッパの重要な②インフラとなったわ。

広樹：新幹線も、私たちの国にとって必要不可欠なインフラだよ。開業から60年の間に、北海道から九州まで縦断して走るようになったんだよ。

エマ：ところで、夏休みに新幹線に乗って日本の祭りを見に行きたいんだけど、どの地方がおすすめかしら？

広樹：それなら東北地方がいいんじゃないかな。夏休みには、③各地方で大きな祭りが見られるし。

エマ：行ってみたいわ！ほかに日本らしさを楽しめるところがありますか？

広樹：北陸新幹線では、車窓から雄大な北アルプスや日本海の風景を楽しめるよ。山がちな地形や④日本の川の特徴がよくわかると思う。北陸新幹線は、2024年3月には⑤敦賀市まで延長されるよ。

エマ：ありがとう。いろいろ行ってみたいところが増えました。そういえば高速鉄道は、近年ではユーラシア大陸を一つに結ぼうとする の躍進がめざましく、すでに世界最長の路線網を構築しているそうよ。

広樹：そうなんだ。私も海外の高速鉄道に乗ってみたいくなってきたよ。

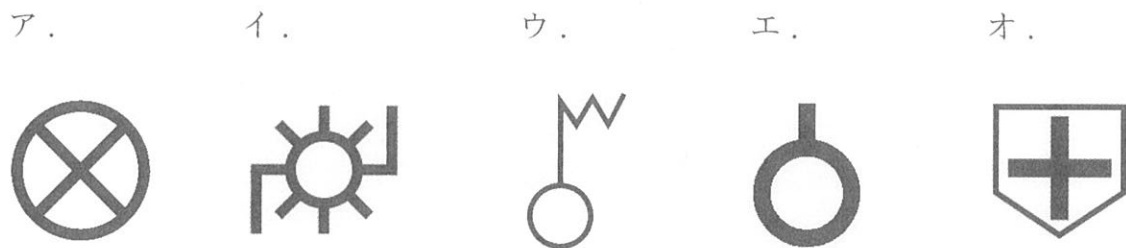
問1 下線部①について、次の図Ⅰ～Ⅴは日本の都道府県の形を示したものです。これらを東京から東海道新幹線に乗るときに通過する順番に並びかえたとき、3番目に通る県の県庁所在地はどこですか。ただし、この新幹線が通らない県の図も1つ含まれています。また、これらの図は同じ縮尺ではありません。



問2 文章中の空欄 ・ に入る適切な国名の組合わせとして正しいものを、次のア～エから1つ選び、記号で答えなさい。

- ア. Xーイギリス Yーインド イ. Xーイギリス Yー中国
- ウ. Xードイツ Yーインド エ. Xードイツ Yー中国

問3 下線部②について、次の地図記号ア～オのなかから、インフラに関わるものとして適切ではないものを1つ選び、記号で答えなさい。



問4 下線部③について、あとの問いに答えなさい。

(1) 日本の各地方の都市のうち、行政・経済の中心的な役割を果たし、政府の
出先機関や大型の商業施設などが集まる人口50万人以上の都市を何と
いいますか。漢字6字で答えなさい。

(2) 東北地方では、冬の間農家の副業などとして、地元でとれる材料を使
って伝統工芸品が作られてきました。次の写真が示す、夏祭りの【写
真a】【写真b】と同じ県で作られている伝統工芸品の組み合わせとし
て正しいものを、あとのア～エから1つ選び、記号で選びなさい。

著作権の関係上、非表示にしています。

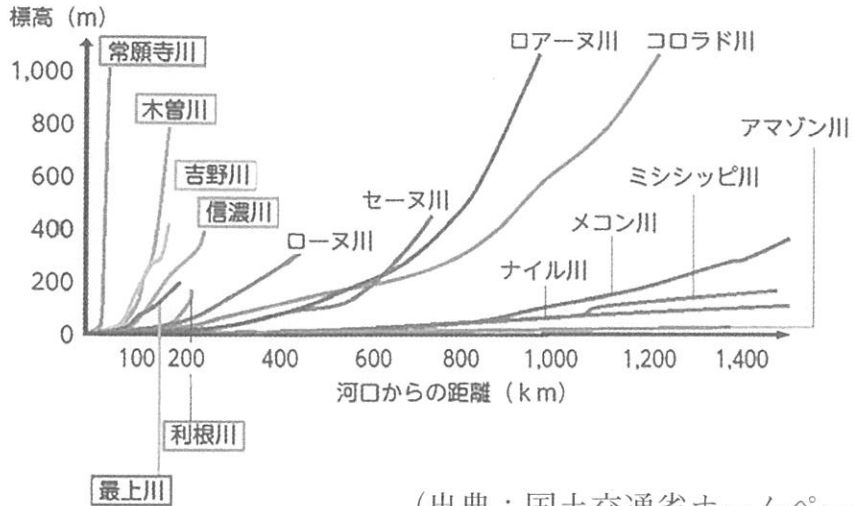
ア. 【写真a】—信楽焼

イ. 【写真a】—熊野筆

ウ. 【写真b】—津軽塗

エ. 【写真b】—南部鉄器

問5 下線部④について、次の図は日本と世界の川の特徴を示したものです。この図を参考にして、次の文X・Yについて、その正誤の組合わせとして正しいものを、あとのア～エから1つ選び、記号で答えなさい。



(出典：国土交通省ホームページより)

X 日本の川は、日本アルプスを起源として流れる常願寺川や木曾川、信濃川に見られるように、世界の川と比べて短く、流れが急であることがわかります。
 Y 河口からの距離が長いということは、それだけ流域面積が広いということを示しています。

- | | | | |
|--------|-----|--------|-----|
| ア. X－正 | Y－正 | イ. X－正 | Y－誤 |
| ウ. X－誤 | Y－正 | エ. X－誤 | Y－誤 |

問6 下線部⑤について、次の文章は日本海側にある敦賀市について述べたものです。これを読んで、あとの問いに答えなさい。

日本列島は中央の山地にさえぎられ、日本海側の物資を太平洋側へ山を越えて大量に運ぶことは大変でした。江戸時代以降、日本海側の海上交通網が整備され、北海道から敦賀など北陸の港を経由し、本州西端の（あ）海峡を抜けて大阪へ、という航路が使われてきました。

明治初期の鉄道計画には、日本海側と太平洋側の主要都市を結ぶため、東京～京都間の幹線に加え、東京～横浜間、京都～神戸間、（い）の湖畔～敦賀間の支線開通が決まっていました。敦賀から（い）を経て淀川水系を通り京都・大阪へ運ばれていた物資が、鉄道開設により陸路のみでも可能になりました。

- (1) 文章中の空欄（あ）・（い）に入る適切な語句を答えなさい。
- (2) 次の雨温図ア～エのなかで、敦賀市の気候に最も近い形のはどれですか、記号で答えなさい。

著作権の関係上、非表示にしています。

問7 新幹線で旅行をしたエマさんは、日本の人口について次のような仮説をたてました。この仮説の根拠として用いるのにふさわしい図表として正しいものを、あとのア～エから2つ選び、記号で答えなさい。

仮説：日本の人口は東京と新幹線の停車駅周辺に集中しており、それ以外は過疎化が進んでいるのではないか。

- ア. 戦後から現在にいたる都市ごとの人口の推移を表してみよう。
- イ. 地域ごとの職業別総生産額の割合を色分けして表してみよう。
- ウ. 人口密度のちがいを色のちがいで表してみよう。
- エ. 一人あたりの旅行支出を都市ごとに表してみよう。

2 広尾学園小石川では、2022年4月、生徒の声によって将棋部が創部されました。それから2年、部員数は20名をこえ、活動の幅を広げています。以下の文章は、日本将棋連盟のホームページから引用した将棋の歴史に関するものです。これを読んで、あとの問いに答えなさい。なお、文章は一部改めた箇所があります。

将棋の起源は、①古代インドのチャトランガというゲームにあるという説が最有力です。それがヨーロッパやアジアの各地に広がり、さまざまな類似の遊戯ゆうぎに発展したと考えられています。西洋ではチェス、中国ではシャンチー、朝鮮半島ではチャンギ、そして日本では将棋となりました。

日本で将棋が行われていたことを示す最古の遺物として、現状では②1992年に奈良県の興福寺境内こうふくじけいだいから発掘された1058年頃の駒が最古といわれています。あわせて練習用しんぎように書かれた木片からは「酔象すいぞう」も出土しました。この駒は、真後ろに動けないだけで玉と同じ動きをし、酔象が成る(注)と「太子たいし」に変わり、玉将(王将)と同じ働きになります。たとえ玉を取られても太子が存在する場合は、太子が取られるまで対局を続けることができました。

③1058～64年頃に成立した藤原明衡ふじわらのあきひらの著書と推定される『新猿楽記しんざるがくき』には、将棋に関する最古の記述があります。右衛門尉うゑもんじゆうの娘の「気装人けしょうびと(恋人のこと)」が多趣味で、そのうちの 하나가将棋という設定でした。

時代が進むにつれて、マス目を増やしたり、駒の種類を増やすなどルールが改められてきました。将棋史上で特筆すべきこととして、日本では相手側から取った駒を自分側の駒として盤上に打って再使用できるルール、つまり持ち駒の使用が挙げられます。駒の取り捨てでは勝負がつかなくなることが多かったために、相手の駒を取ったら自分の持ち駒として使うことができるようにした、と推定されます。

1612年、幕府は将棋の大橋宗桂おおはしそけい・囲碁かの加納算砂かのうさんさ（本因坊算砂ほんいんぼう）らに俸禄を支給しました。やがて彼らは、家元いえもととして将棋所・碁所を称するようになります。

8代将軍（A）は、1716年に将軍の御前ごぜんで指す「御城将棋」を年に一度、11月17日に行うことを制度化しました。現在、日本将棋連盟では1975年からこの日を「将棋の日」と定めて各地でイベントを行っています。歴代の将軍は将棋を愛好しましたが、なかでも10代将軍（B）は熱中し、自ら七段を唱えます。また、図式集つめしょうぎ（詰将棋集）『御撰象碁攷格ごせんしょうぎこうかく』も著しました。

ところが、1867年に江戸幕府が滅亡すると、将棋の家は経済的な基盤を失い、終焉を迎えます。④明治時代に入ってから、将棋は、新聞などに掲載されるようになることで広く人々に受け入れられ、これを新たな基盤として現在まで続く発展を遂げることになりました。

(注) 成る：「歩」などの駒が、敵陣に入ると裏返すことができ、それによって裏に書かれている格上の駒の動きができるようになること。


問1 下線部①について、古代インドで生まれ、中国・朝鮮半島を経て日本に伝わったものとして仏教が知られています。次の年表のⅠ～Ⅳの時期のなかから、開祖であるシャカが生まれた時期と仏教が日本に伝わった時期の組み合わせとして正しいものを、あとのア～エから1つ選び、記号で答えなさい。

↑ ↓	Ⅰ
57年	匈奴の王が後漢に使いを送る
↑ ↓	Ⅱ
239年	邪馬台国の卑弥呼が魏に使いを送る
↑ ↓	Ⅲ
607年	聖徳太子らが小野妹子を隋に送る
↑ ↓	Ⅳ

- | | |
|-----------------|----------------|
| ア. シャカが生まれた時期－Ⅰ | 仏教が日本に伝わった時期－Ⅲ |
| イ. シャカが生まれた時期－Ⅰ | 仏教が日本に伝わった時期－Ⅳ |
| ウ. シャカが生まれた時期－Ⅱ | 仏教が日本に伝わった時期－Ⅲ |
| エ. シャカが生まれた時期－Ⅱ | 仏教が日本に伝わった時期－Ⅳ |


問2 下線部②について、次の図1・2は、興福寺境内からそれぞれ1992年および2013年の調査で見つかった将棋の駒を示したものです。

著作権の関係上、非表示にしています。



(1) 2013年の調査では、右の図3に示した「承徳二年」(1098年)と書かれた木片も出土しました。このような文字情報を記した木片は、荷札などにも用いられましたが、これを何といいますか、答えなさい。

著作権の関係上、非表示にしています。



(2) 図1・2およびこの駒が使われていた11世紀の政治について、次の文a～dのなかから、正しいものの組合わせを、あとのア～エから1つ選び、記号で答えなさい。

- a 現在の将棋の駒には「王将」と「玉将」がありますが、図1によると、11世紀当時は「王将」しか用いられていなかったことが考えられます。
- b 下線部②では「酔象」が成ると「太子」になるとありますが、図2によると、11世紀当時の「酔象」は成ることができなかつたことが分かります。
- c 11世紀前半には、藤原道長が天皇の母方の親戚になることで政治の実権をにぎりました。
- d 11世紀後半には、白河天皇が弟に天皇の位をゆづった後も政治の実権をにぎりつづけました。

ア. a・c

イ. a・d

ウ. b・c

エ. b・d

問3 下線部③について、あとの問いに答えなさい。

- (1) 『新猿楽記』には、八郎真人と呼ばれる商人が東北から九州にいたる広域的な交易活動を繰り広げていたことも記されています。次の表は、左大臣藤原ふじわらの頼長よりながと東北の藤原ふじわらの基衡もとひらとのあいだで行われた年貢額をめぐる交渉の経緯を示したものです。表および日本と東アジアとのかかわりについて述べた次の文 a～d のなかから、正しいものの組合わせを、あとのア～エから1つ選び、記号で答えなさい。

著作権の関係上、非表示にしています。

- a 藤原頼長は、従来からの年貢品目を減らすことなく、品目ごとの納める量を増やすよう要求してきました。
- b 大曾禰荘からの年貢に水豹皮があることから、東北地方はさらに北方地域とのつながりを持っていた可能性があります。
- c 平清盛は、中国の明との貿易の利益に目をつけ、日本からは砂金などを輸出し、中国銭や陶磁器を輸入しました。
- d フビライ・ハンに仕えたイタリア人マルコ・ポーロが日本を「黄金の国ジパング」としてヨーロッパ世界に紹介しました。

ア. a・c

イ. a・d

ウ. b・c

エ. b・d

- (2) 絵画資料は、文字史料からは読み取りにくい当時の人々の趣味や娯楽・衣服など、文化の一面を私たちに教えてくれます。次の絵画資料Ⅰ～Ⅳを年代の古い順に並べ替えたものとして正しいものを、あとのア～エから1つ選び、記号で答えなさい。

著作権の関係上、非表示にしています。

ア. Ⅰ→Ⅱ→Ⅲ→Ⅳ

イ. Ⅰ→Ⅱ→Ⅳ→Ⅲ

ウ. Ⅱ→Ⅰ→Ⅲ→Ⅳ

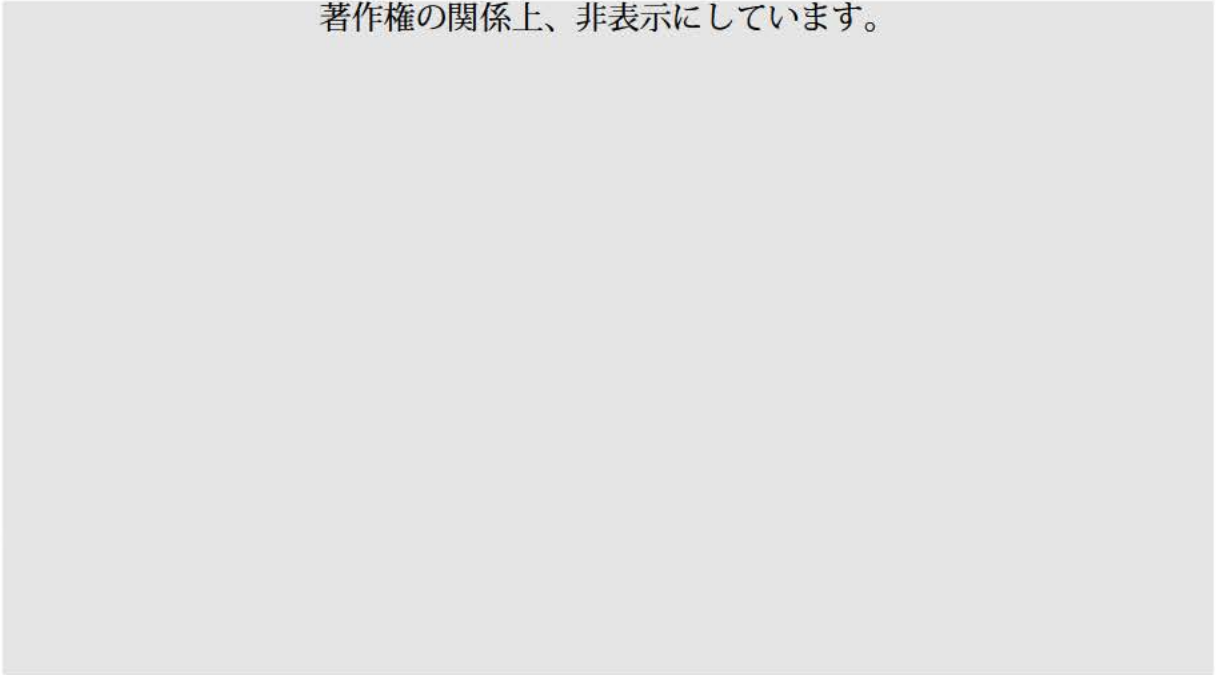
エ. Ⅱ→Ⅰ→Ⅳ→Ⅲ

問4 文章中の空欄（ A ）・（ B ）に入る人物に関することについて、あとの問いに答えなさい。

- (1) 空欄（ A ）に入る将軍が、おもに幕府の財政難に対応するために行った政治改革を何といいますか、答えなさい。
- (2) 空欄（ B ）に入る将軍の在職中、商工業の発展に注目した経済対策をとり、幕府の財政を立て直そうとした老中の人物名を答えなさい。

問5 下線部④について、「成金」などの将棋に由来する言葉も広く認識されるようになりました。次の資料Ⅰは、第一次世界大戦期に描かれた日本の風刺画です。また、資料Ⅱは、第一次世界大戦後にドイツの子どもたちが紙幣の束を積み木のようにして遊んでいる様子を撮影した写真です。

著作権の関係上、非表示にしています。



(1) 資料Ⅰ・Ⅱについて述べた次の文X・Yについて、その正誤の組合わせとして正しいものを、あとのア～エから1つ選び、記号で答えなさい。

X 資料Ⅰは、戦争にともない日本の輸出が減少したことによって貨幣の価値が失われ、紙幣が暗がりのなかで明かりをともす材料として用いられていたことを描いています。

Y 資料Ⅱは、第一次世界大戦に勝利したドイツが、イギリスなどの敗戦国から支払われた巨額の賠償金をもとに経済発展を遂げている様子を写したものです。

- ア. X－正 Y－正 イ. X－正 Y－誤
ウ. X－誤 Y－正 エ. X－誤 Y－誤

(2) 第一次世界大戦後、一般市民に向けた文化が発展しました。新聞や雑誌の発行部数は急速にのび、小説も数多く発表されました。「羅生門」や「蜘蛛の糸」などで知られる大正期に活躍した作家の名前を答えなさい。

- 3 次の文章は，新聞記事を引用したものです。この文章を読み，あとの問いに答えなさい。なお文章は一部，問題に合わせて改めた箇所があります。

著作権の関係上、非表示にしています。

問1 下線部①について、以下の資料は、これまでに開催された主要国首脳会議についてカードにまとめたものです。資料1～3の会議が開催された年の古い順に並べ替えたものとして正しいものを、あとのア～カから1つ選び、記号で答えなさい。

I：資料1

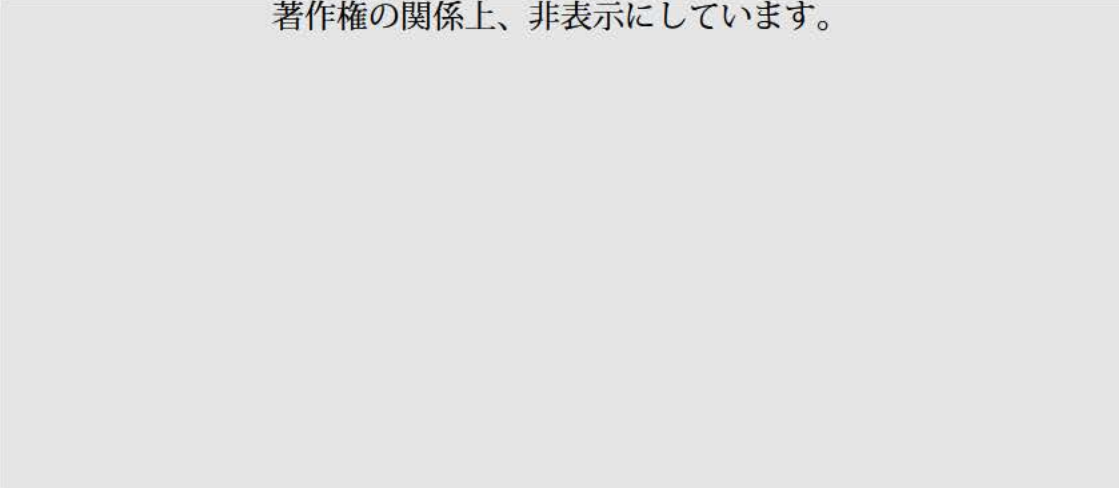
開催地：コーンウォール（イギリス）

主な議論内容：

- ・ワクチンの開発を加速化することで新型コロナウイルス感染症に打ち勝ち、より早い回復を図る。
- ・世界の団結の象徴として、安心・安全な形で東京オリンピック・パラリンピック競技大会を開催することを支持。

日本の総理大臣：菅義偉

著作権の関係上、非表示にしています。



Ⅱ：資料2

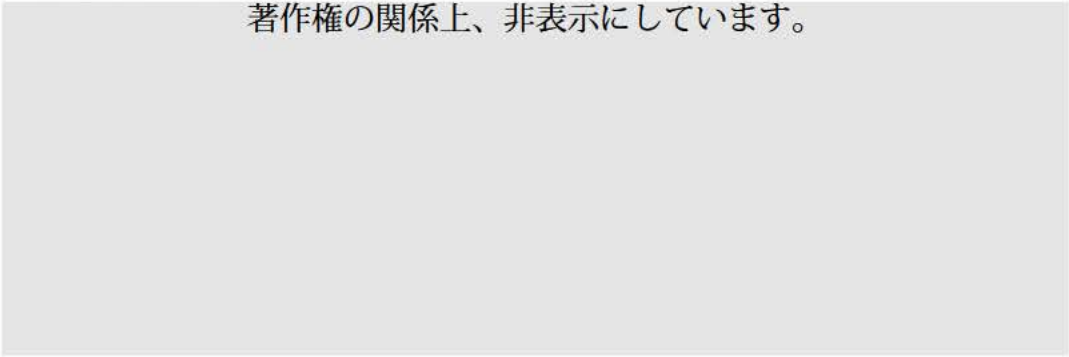
開催地：ビアリッツ（フランス）

主な議論内容：

- ・リビア内戦の休戦を支持。
- ・ジェンダー平等に関するパリ宣言を支持。
- ・ブラジル熱帯雨林で多発する森林火災に対し、消火・植林への協力、流域全体への支援で一致。

日本の総理大臣：安倍晋三

著作権の関係上、非表示にしています。



Ⅲ：資料3

開催地：伊勢志摩（日本）

主な議論内容：

- ・ロシアのクリミア併合を強く非難。
- ・地球温暖化対策の新たな枠組みとなったパリ協定の早期発効に取り組む。

日本の総理大臣：安倍晋三

著作権の関係上、非表示にしています。



ア． I → II → III

イ． I → III → II

ウ． II → I → III

エ． II → III → I

オ． III → I → II

カ． III → II → I

問2 下線部②について、日本の内閣に関して述べた次の文ア～オのうち誤っているものをすべて選び、記号で答えなさい。

ア. 内閣は、行政の仕事に関する物事を決めるために閣議を開きます。

イ. 内閣不信任案が可決された場合、総理大臣は、内閣を総辞職しなければなりません。

ウ. 総理大臣は、自衛隊の最高指揮監督権を有します。

エ. 国務大臣は、総理大臣によって任命され、過半数は国会議員から選ばれます。

オ. 最高裁判所の長官は、総理大臣によって任命されます。

問3 下線部③について、あとの問いに答えなさい。

(1) 日本において法律をつくる場合、国会に専門家をよんで、その意見を参考にすることができます。この会を何といいますか、答えなさい。

(2) 立法を担当する国会は、裁判官としての務めを果たさなかったり、ふさわしくない行いをしたりした裁判官をやめさせるかどうかを判断することができます。この時に設置される裁判所を何といいますか、答えなさい。

問4 下線部④について、グローバルサウスに関して述べた次の文 X・Y と、開発途上国で作られた原料や製品を適切な価格で購入し、生産者の自立支援等に役立てようとする活動のロゴマーク A～C との組み合わせとして正しいものを、あとのア～カから1つ選び、記号で答えなさい。

X グローバルサウスと呼ばれる国々では、近年レアメタルが多く産出され、これらを利用して半導体生産を行い、輸出を伸ばしています。

Y グローバルサウスは、経済発展をとげている国々としても近年注目されてきていますが、具体的な枠組みが定まっているわけではありません。

著作権の関係上、非表示にしています。

- ア. X-A イ. X-B ウ. X-C
エ. Y-A オ. Y-B カ. Y-C

問5 下線部⑤について、インドに関して述べた次の文 X・Y について、その正誤の組み合わせとして正しいものを、あとのア～エから1つ選び、記号で答えなさい。

X インドの自動車生産台数は、近年中国・アメリカに迫ってきています。

Y インドは、東シナ海・南シナ海の海洋秩序をまもる枠組みである QUAD に日本・アメリカ・イギリスとともに参加しています。

- ア. X-正 Y-正 イ. X-正 Y-誤
ウ. X-誤 Y-正 エ. X-誤 Y-誤

問6 下線部⑥について、次の文章は日本の省庁について話している生徒と先生の会話です。会話文中の空欄 (X)・(Y)に入る省庁の正式名称を答えなさい。

達也：広尾学園小石川は Wi-fi が備わっていて便利ですね。

先生：そうですね。学校の ICT 化はここ数年で一気に進みました。これには文部科学省をはじめ多くの省庁が関わっていたから実現できたのですが、ほかにどんな省庁があると思いますか？

達也：うーん。情報通信事業が関係してそうだから (X) 省ですか？

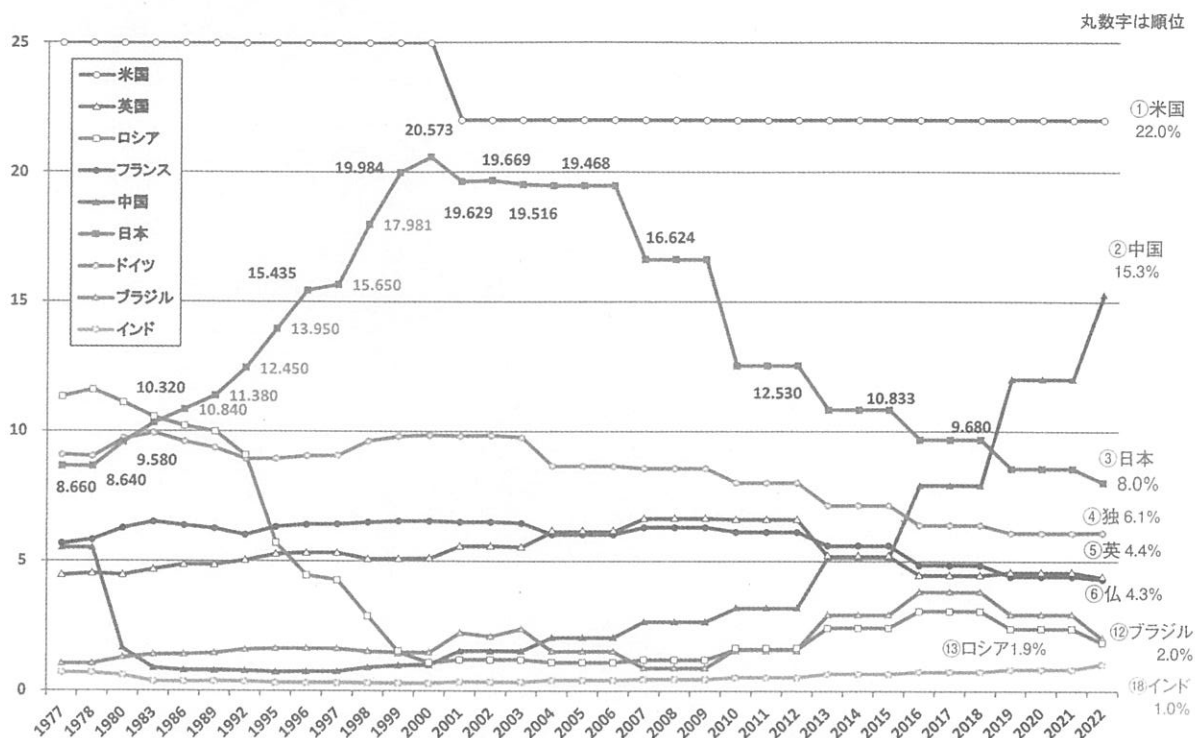
先生：そのとおり。(X) 省は消防や選挙でも知られています。

他にも、将来 ICT を活用して活躍できる人材を育てるために、ある省庁も関わっているのですが…

達也：もしかして (Y) 省ですか？ 企業活動を支援したり、貿易が盛んになるようにするためのルールを作ったりもしていますよね。

先生：(Y) 省には中小企業庁も置かれています。よく勉強していますね。

問7 下線部⑦について、次のグラフは、国際連合の分担金負担割合の変遷を示したものです。これに関する説明文X・Yについて、その正誤の組み合わせとして正しいものを、あとのア～エから1つ選び、記号で答えなさい。



(出典：外務省ホームページより)

X 21世紀初頭、日本は20%程度の分担金負担割合であり、中国は5%に満たない負担割合でした。しかしその後、日本の割合は減少し、2020年代には10%を切るまでになりましたが、中国は15%に達するほどまでに増加しました。

Y 国際連合は現在200か国以上が加盟していますが、分担金の負担割合はアメリカ・中国・日本・ドイツ・イギリスの上位5か国で70%以上を占めています。

- ア. Xー正 Yー正 イ. Xー正 Yー誤
 ウ. Xー誤 Yー正 エ. Xー誤 Yー誤

問題文は次ページに続きます。

4—I 次の史料は、鎌倉幕府の執権北条泰時が、弟の北条重時^{しげとき}に宛てた手紙の一部です。これを読んで、あとの問いに答えなさい。なお、史料は読みやすいように現代語に改めています。

さて、この式目を作ったことについては、何を根拠としたのかと、人々はきっと疑問に思うでしょう。明確な根拠に基づいているというよりは、ただ武家社会の道理に従って書いたのです。このようにあらかじめ決めておかないと、裁判の際に、ある場合は物事が正しいか誤っているかという点を二の次にして、当事者の権力が強いかわ弱いかという観点から裁定が下されたり、ある場合には裁定が下されたことを知らないふりをして、同じことについて再び訴訟をおこすことがあるかもしれません。このようなことが考えられるので、裁判の基本的な基準を定めて、当事者の地位が高いか低いかにかかわらず、えこひいきのない裁定が下されるように、詳しく記述しておいたのです。……この式目は、^{かな}仮名だけを知っている人が世間には多いので、多くの人々が理解できるように、とくに武家の人々を対象に作成したものです。これによって京都の朝廷での取り決めや律令の規定が少しも改まるようなことはありません。

問い 下線部の法典の名称を明らかにしながら、鎌倉幕府がこの法典を定めた意図を説明しなさい。

4-Ⅱ 次の文章は新聞記事を引用したものです。この文章を読み、あとの問いに答えなさい。

世界は戦争、貧困、経済格差など様々な問題に直面している。地球温暖化による気候変動や自然災害の激化など環境面での危機も差し迫っている。日本では少子高齢化が進み、生産年齢人口が減少傾向であり、自然災害などの社会問題も抱えている。

それに対応する中で AI（人工知能）や新エネルギーといった技術の革新は人類の可能性を広げるようになってきた。その中から DX（デジタルトランスフォーメーション）と呼ばれるデジタル技術による変革が起こり始め、新たな価値を生み出すようになった。

昨今、各国政府や企業は DX を推進し、生産性を向上させている。日本では政府が DX を駆使して「社会・環境・経済」の課題を解決するために下の9つの目標を設定している。

著作権の関係上、非表示にしています。

問い DX について、自分の考える身近な例を挙げなさい。さらにそれを用いて、あなたはどのような社会をつくりたいと考えますか。表の目標1～9を参考にしながら説明しなさい。

2024年度 入学試験問題 社会 解答用紙 中【2月1日午前】

※解答は解答用紙の所定の解答欄にていねいに記入しなさい。

1	問1					問2			問3			
	問4	(1)					(2)			問5		
	問6	(1)	あ					い			(2)	

2	問1			問2	(1)			(2)			問3	(1)			(2)		
	問4	(1)					(2)										
	問5	(1)			(2)												

3	問1				問2								
	問3	(1)					(2)				問4		
	問5			問6	X				Y			問7	

4	I												
---	---	--	--	--	--	--	--	--	--	--	--	--	--

4	II												
---	----	--	--	--	--	--	--	--	--	--	--	--	--

↓ここにシールを貼ってください↓



241414

--	--	--	--	--	--	--	--	--	--	--	--

受験番号		