

2024年度 第1回入学試験問題

社 会

時 間 40 分

[注 意]

1. 放送で指示があるまで、この冊子まっしを開いてはいけません。
2. この冊子は28ページまであります。ページが足りなかったり、順序がおかしかったり、また印刷が不鮮明ふせんめいで読めない部分があったりした場合には、手をあげて監督かんとくの先生に申し出なさい。
3. 問題についての質問は一切受け付けません。いっさい

(このページは空白です)

(このページは空白です)

[1] 次の問いに答えなさい。

問1 近年、インドやインドネシア、トルコ、南アフリカといったアジアやアフリカなどの新興国・途上国を総称する時に「グローバル（ ）」という言葉が使われています。この（ ）にあてはまる語句を答えなさい。なお、この言葉は、冷戦後の「第三世界」を表現する時や、立場の弱い南の国々の政治的連帯を指す呼称としても使います。

問2 2023年10月に発表された「生活の豊かさを示す指標」の1つが、過去43年間で最も高い29%に達しました。この指標は家計の消費支出に占める食料費の割合を示したもので、その割合が小さいと、生活が豊かになっていると解釈します。この指標のことを「○○○○係数」といいます。○○○○にあてはまる言葉を、カタカナ4字で答えなさい。

問3 日本国憲法第7条 [抜粋^{ぼつすい}しています] の (1) ~ (3) にあてはまる語句の組み合わせとして正しいものを、あとの**ア~ク**の中から1つ選び、記号で答えなさい。

天皇は、(1) の助言と承認により、国民のために、左の国事に関する行為を行ふ。

- 1 憲法改正，法律，政令及び条約を公布すること。
- 2 国会を(2)すること。
- 3 (3)を解散すること。
- 4 国会議員の総選挙の施行を公示すること。

- | | | | |
|----------|------------|------------|-------------|
| ア | (1) : 国会 | (2) : 召集 | (3) : 衆議院 |
| イ | (1) : 国会 | (2) : 召集 | (3) : 参議院 |
| ウ | (1) : 国会 | (2) : 招集 | (3) : 衆議院 |
| エ | (1) : 国会 | (2) : 招集 | (3) : 参議院 |
| オ | (1) : 内閣 | (2) : 召集 | (3) : 衆議院 |
| カ | (1) : 内閣 | (2) : 召集 | (3) : 参議院 |
| キ | (1) : 内閣 | (2) : 招集 | (3) : 衆議院 |
| ク | (1) : 内閣 | (2) : 招集 | (3) : 参議院 |

問4 働き方改革関連法の施行^{しんこう}により本年4月1日以降、自動車運転業務の年間時間外労働時間の上限が960時間に制限されることになりました。このことによって起こる良い影響^{えいきょう}として、トラックドライバーの労働環境^{かんきょう}の改善が想定されます。一方で、このことによって起こる悪い影響として想定される具体的な事例を1つ、10字以上20字以内で答えなさい。

【2】 次の文章を読んで、あとの問いに答えなさい。なお、引用した史料の中には読みやすく変えているものもあります。

みなさんは、小学校の国語の授業で、短歌や俳句の勉強をしたことと思います。なかには、「小倉百人一首」でカルタ遊びをした人もいるでしょう。ここでは、短歌や俳句などの歴史についてみていきましょう。

短歌は、「5・7・5・7・7」の計31音で成り立っています。一般に「和歌」といえば「5・7・5・7・7」の短歌を指しますが、実は、「5・7・5・7・7」ではない和歌も存在します。

たとえば、①『万葉集』には、短歌のほかに、「5・7・7・5・7・7」の旋頭歌、「5・7」を3回以上くりかえして、最後に7音の一句を置く「長歌」、「5・7・5・7・7・7」の「仏足石歌」などの形式の和歌も収録されています。また、『万葉集』には、天皇や貴族だけではなく、東国の人^よが詠んだ東歌^{あづまうた}や、東国から九州北部へ防衛のために派遣された(1)が詠んだ和歌も収録されています。山上憶良が詠んだ「貧窮問答歌」も、『万葉集』にあります。しかし、しだいに短歌以外の和歌は詠まれなくなったため、「和歌」といえば短歌を指すようになりました。

平安時代になると、勅撰和歌集として、紀貫之らにより『古今和歌集』がつくられました。『古今和歌集』は、その後、和歌(短歌)の手本として、長い間、重要視されました。②鎌倉時代になると、藤原定家らによって『新古今和歌集』が、鎌倉では3代将軍の(2)によって『金槐和歌集』がつくられました。なお、藤原定家は、「小倉百人一首」ゆかりの人物でもあります。

また、鎌倉時代には、短歌を「5・7・5」(長句)と「7・7」(短句)に分け、何人かで集まって長句と短句をかわるがわるに詠んでいく連歌(長連歌)がひろまり、建武の新政の頃には大変流行していたことが、③「二条河原の落書」に記されています。連歌では、最初の句を「発句」、最後の句を「」といいます。「最後の最後には」という意味の慣用句「の果て」は、実は連歌に由来しているのです。

連歌から発句だけを独立させたものが俳句です。俳句を新しい芸術として確立したのが、『奥

の細道』の作者として知られる松尾芭蕉です。俳句には、(3) が必要です。これに対して、同じ「5・7・5」の形式ながら、(3) がなく、社会や世相を批判したり、おもしろさを求めたりしたものが川柳で、老中(4) の政治を批判した「役人の 子にはぎにぎをよく覚え」が有名です。また、短歌の形式でおもしろさを求めたものを狂歌といい、④寛政の改革を批判した「世の中に 蚊ほどうるさきものはなし ぶんぶというて夜もねられず」などがあります。

俳句は、江戸時代後期になると、ありきたりな句を詠むことがよいとされましたが、明治時代になると正岡子規があらわれて、俳句・短歌に革新をもたらしました。「柿食へば 鐘が鳴るなり ⑤法隆寺」という俳句は、正岡子規の代表作です。明治時代後半には、⑥与謝野晶子が情熱的な短歌を詠み、石川啄木は自分の生活に基づいたすぐれた短歌を残しました。その後、⑦昭和の終わりには、歌人の俵方智が、日常会話を用いて短歌を詠み、短歌の世界に新たな風を吹き込みました。

現在でも、新聞には短歌や川柳の投稿欄がありますし、芸能人が俳句を詠んで、その出来ばえを競う⑧テレビ番組もあります。和歌・俳句・川柳は、今でも私たちの身近にある存在といえるでしょう。

問1 文中の(1) ～ (4) にあてはまる語句や人名を漢字で答えなさい。

問2 文中の にあてはまる語句を、ひらがな3字で答えなさい。

問3 下線部①について述べた文 a～d のうち、正しいものの組み合わせを、あとの**ア～エ**の中から1つ選び、記号で答えなさい。

a : 『万葉集』は、現在伝わっている和歌集としては日本最古である。

b : 『万葉集』は、持統天皇の命令によって奈良時代につくられた。

c : 『万葉集』には、たくさんの和歌がひらがな表記で収録されている。

d : 『万葉集』には、「令和」の由来となった文章が収録されている。

ア a・c

イ a・d

ウ b・c

エ b・d

問4 下線部②に起きた出来事として誤っているものを、次の**ア～エ**の中から1つ選び、記号で答えなさい。

ア 後白河上皇が承久の乱を起こしたが、幕府軍にやぶれて隠岐に流された。

イ 執権北条泰時が、源頼朝以来の先例や道理に基づいて御成敗式目を制定した。

ウ 元の大軍が2度にわたって日本に攻めてきたが、幕府は防衛に成功した。

エ 幕府は、困窮した御家人を救うために永仁の徳政令を出したが、混乱を招いた。

問5 下線部③の書き出しと、落書の内容について述べた文の組み合わせとして正しいものを、あとのア～エの中から1つ選び、記号で答えなさい。

【落書の書き出し】

X：祇園精舎の鐘の声 諸行無常の響きあり

Y：この頃都にはやる物 夜討・強盗・謀略

【落書の内容】

あ：後醍醐天皇の政治が京都にもたらした混乱について記されている。

い：天皇に忠義を尽くした楠木正成が戦死した悲しさについて記されている。

ア X・あ

イ X・い

ウ Y・あ

エ Y・い

問6 下線部④について述べた文として正しいものを、次のア～エの中から1つ選び、記号で答えなさい。

ア 湯島聖堂の学問所で、朱子学以外の儒学を教えることを禁じた。

イ 足高の制を設けて、幕府による人材登用をおこないやすくした。

ウ 水田を増やそうとして、印旛沼や手賀沼の干拓工事を実施した。

エ 上知令を出して、江戸・大坂周辺を幕府領にしようとした。

問7 下線部⑤について述べた文として正しいものを、次の**ア**～**エ**の中から1つ選び、記号で答えなさい。

- ア** 天武天皇が、妻の病気が良くなることを願って建立した。
- イ** 日本で最初の本格的な寺院として、飛鳥の地に建立された。
- ウ** 唐から招いた高僧のために、朝廷から提供された土地に建立された。
- エ** 金堂や五重塔、回廊の一部は、現存最古の木造建築と考えられている。

問8 下線部⑥の与謝野晶子と石川啄木について述べた次の文中の ・ にあてはまる語句の組み合わせとして正しいものを、あとの**ア**～**エ**の中から1つ選び、記号で答えなさい。

与謝野晶子は、 に出征する弟の無事を願う「君死にたまふことなかれ」という詩を発表したことでも知られている。石川啄木は、 に際して、「地図の上 朝鮮国に くらぐろと 墨を塗りつつ 秋風を聴く」という短歌を詠んでいる。

- | | | | |
|-----------------|--------|-----------------|---------|
| ア X：日清戦争 | Y：韓国併合 | イ X：日清戦争 | Y：江華島事件 |
| ウ X：日露戦争 | Y：韓国併合 | エ X：日露戦争 | Y：江華島事件 |

問9 下線部⑦に関連して、昭和時代末に国内外で起きた出来事として正しいものを、次の
ア～エの中から1つ選び、記号で答えなさい。

ア ニューヨークのワールドトレードセンターに、ハイジャックされた飛行機が突っ込むテ
ロ事件が起きた。

イ 阪神淡路大震災や地下鉄サリン事件が立て続けに起き、日本の安全神話が大きくゆらい
だ。

ウ ソ連のチェルノブイリ(チョルノービリ)原発で事故が起き、周辺の環 境に大きな影 響
を与えた。

エ 第1次オイルショックが発生し、石油の価格だけではなく、さまざまな物の価格が高騰し
た。

問10 下線部⑧に関連して、日本のテレビ放送について述べた文として正しいものを、次の
ア～エの中から1つ選び、記号で答えなさい。

ア 日本のテレビ放送は、大正時代に東京で始まった。

イ 初期のテレビ番組としては、プロレスの生中継が人気であった。

ウ カラーテレビの受信機は、家電の「三種の神器」の1つに数えられた。

エ 21世紀に映画館が普及すると、テレビ番組の視聴率はふるわなくなった。

問 11 波線部について、次の史料は「貧窮問答歌」の終わりの部分です。この「貧窮問答歌」の形式として正しいものを、あとのア～エの中から1つ選び、記号で答えなさい。

竈^{なまど}には 火^ほ気^きふき立てず 甑^{こしき}には 蜘蛛^{くも}の巢^す懸^かきて 飯^い炊^いく ことも忘れて ぬえ鳥の
のどよひ^お居るに いとのきて 短^はき物を 端^{はし}截^きると 云^いへるがごとく しもと取る
里^{さと}長^{なが}が声^{こゑ}は 寝^ね屋^や戸^とまで 来^き立^たちよばひぬ かくばかり すべなきものか 世^よの中の道

ア 短歌

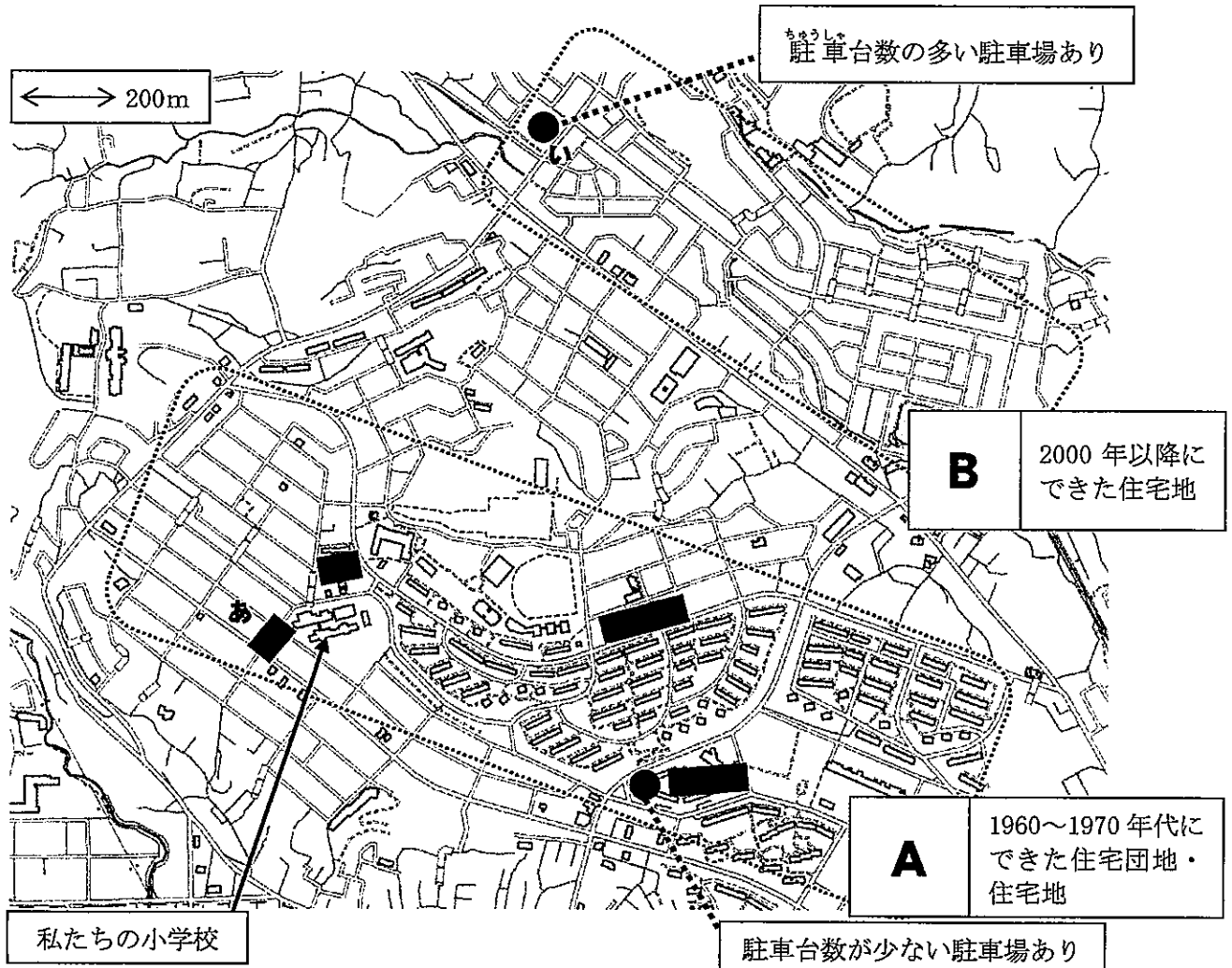
イ 長歌

ウ 旋頭歌

エ 仏足石歌

(このページは空白です)




[3] 東京都の郊外に住むセイイチさん・トオルさん・トシコさん・ミキさんのグループは、小学校の授業で近くにある商店街とスーパーマーケットを調査し、説明を加えて次の地図(図1)をつくりました。これについて、あとの問いに答えなさい。







■ : 小規模の店が並ぶ商店街 ● : 大規模なスーパーマーケット


図1 私たちの小学校付近の地図

(白地図は地理院地図 vector 白地図より作成)

問1 セイイチさんたちは、1960～1970年代にできた住宅団地・住宅地の範囲 **A** と2000年以降にできた住宅地の範囲 **B** を、図1中に  で示しました。さらに小規模の店が並ぶ商店街の位置を  ，大規模なスーパーマーケットの位置を ● で示しました。そしてこの2つの範囲に住む人々の買い物のようすを考察し、次の文にまとめました。文中の  にあてはまる文を、^{かいとうらん}解答欄の文字に続けて2行以内で答えなさい。

なお、解答の内容は、 の前後の文を参考にすること。また、解答の文中に  や ● の記号を使ってもかまいません。

A の住民は、その範囲内に  が複数あり、毎日の生活に必要な食品や商品を買いに、近くの  や ● へ徒歩や車などで行っていると考えられます。

しかし、**B** の住民は、その範囲内に  。そのこともあって、**B** にあるコンビニエンスストアでは、野菜や肉が売られていると考えられます。

問2 トオルさんは、学校のすぐ近くにある商店街**あ**の1980年頃ころのようすと2023年のようすとを商店街の方に聞き取りをして、図にしました。次の図2中の(1)～(4)には、空き地・魚屋・整骨院・豆腐屋とうふやのいずれかがあてはまります。(3)・(4)にあてはまる語句の組み合わせとして最もふさわしいものを、あとの**ア～カ**の中から1つ選び、記号で答えなさい。

(1)	道路	米屋
肉屋		八百屋
パン屋		(2)
美容院		薬屋

1980年頃のようす

(3)	道路	米屋
肉屋		(4)
たこ焼き屋		居酒屋
花屋		いっぽん 一般住宅

2023年のようす

図2

- | | | |
|----------|-----------|-----------|
| ア | (3) : 豆腐屋 | (4) : 整骨院 |
| イ | (3) : 豆腐屋 | (4) : 空き地 |
| ウ | (3) : 豆腐屋 | (4) : 魚屋 |
| エ | (3) : 整骨院 | (4) : 空き地 |
| オ | (3) : 整骨院 | (4) : 魚屋 |
| カ | (3) : 魚屋 | (4) : 空き地 |

問3 トシコさんは大規模なスーパーマーケット**い**の果実担当の方に、ドラゴンフルーツ・なし・ぶどう・みかんについて、次のI～IVの質問をしました。あとのA～Dの文は、その質問を受けて果実担当の方が話した内容です。I～IVとA～Dの組み合わせとして正しいものを、あとの**ア～ク**の中から2つ選び、記号で答えなさい。

I この果実の生産地は日本列島の太平洋側の県を中心に数多くあるようですね。東京から遠い地域での生産や生産地の地形の特色などはありますか？

II この果実は岐阜県の飛騨地方でも栽培されているようですね。この果実は主に日本では沖縄県などで栽培されているものですが、どうして飛騨地方が産地なのですか？

III この果実は**隣**の県で生産量が多く、東京へ高速道路で輸送されているようですね。生産地との**距離**の近さとともに、この果実の生産量が多くなる理由はありますか？

IV この果実は私たちの小学校の近くの多摩川沿いにある農家でも生産されているようですね。この店の近くにある農家からも仕入れをする利点はありますか？

A 一番早い**早生**とよばれるものは、9月から**収穫**が始まります。南向きの急な**斜面**で栽培されることも多く、なかでも海が望める斜面では、海からの太陽光の反射を受けてよく育つともいわれているようです。

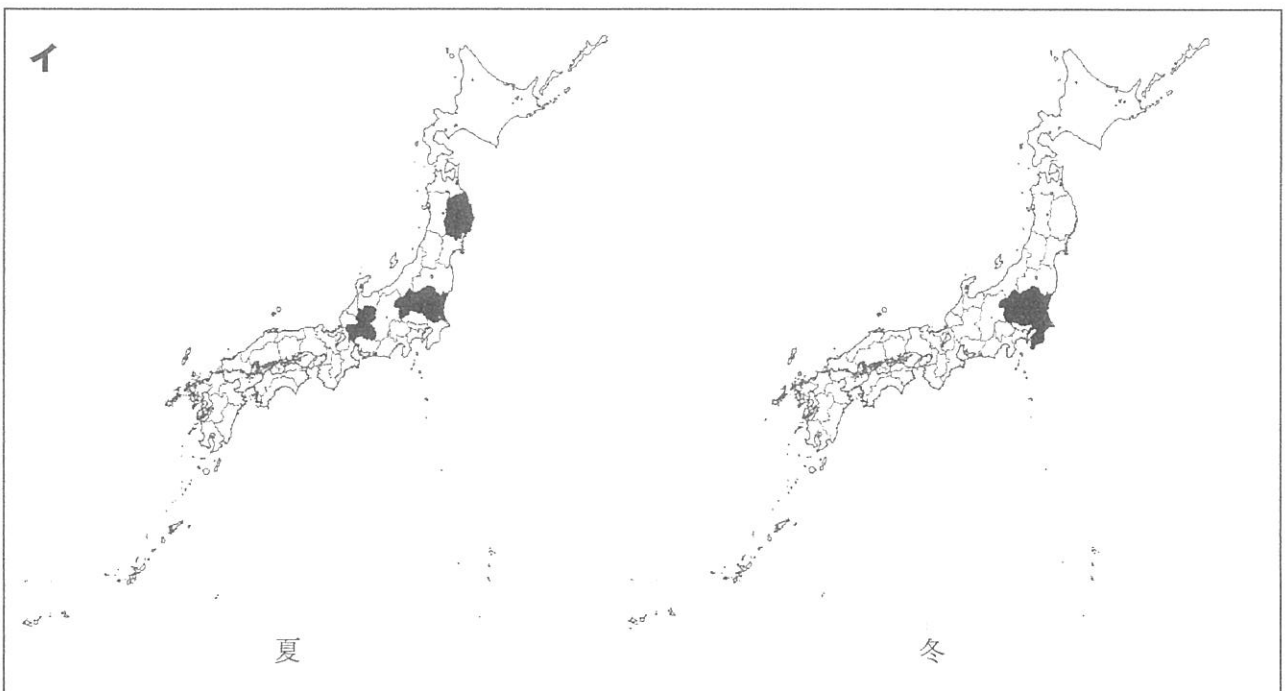
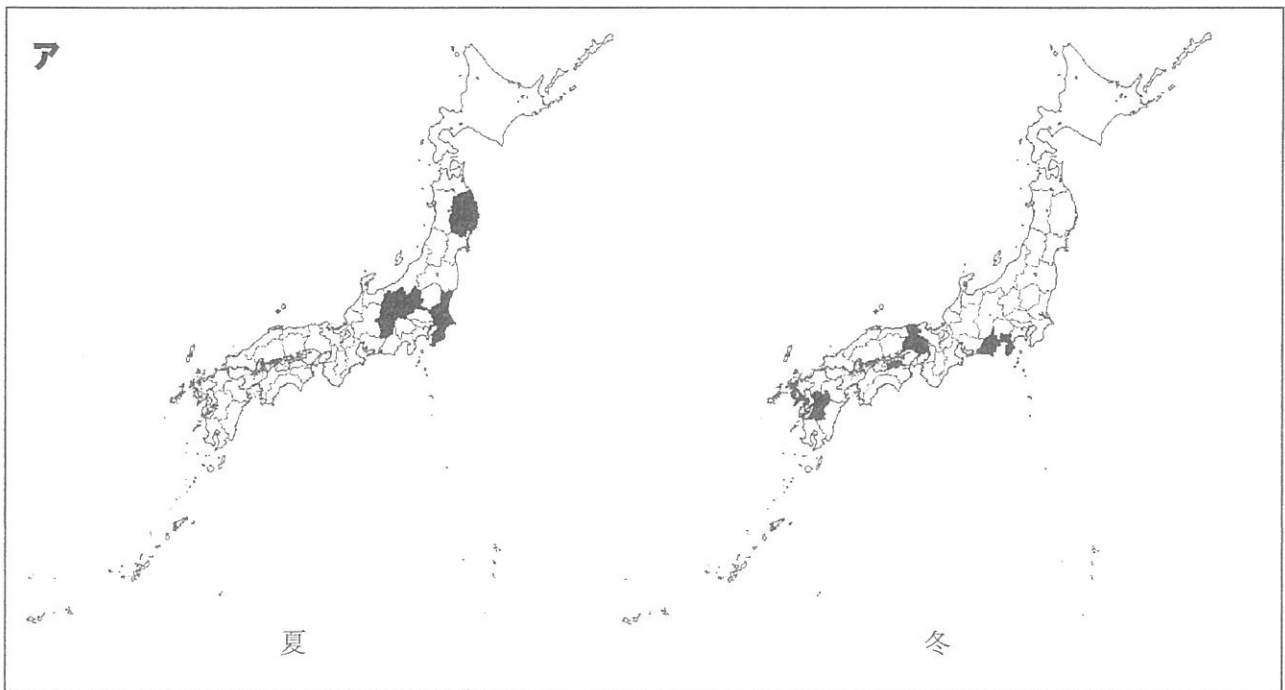
B 遠い地域などからも同じ果実は**入荷**するのですが、輸送に時間がかかるので**甘く**ならないうちに実を収穫してしまいます。しかし、生産する農家がこの店の近くにある場合、長く木に実らせ熟して甘くなったものを、すぐに売ることができます。

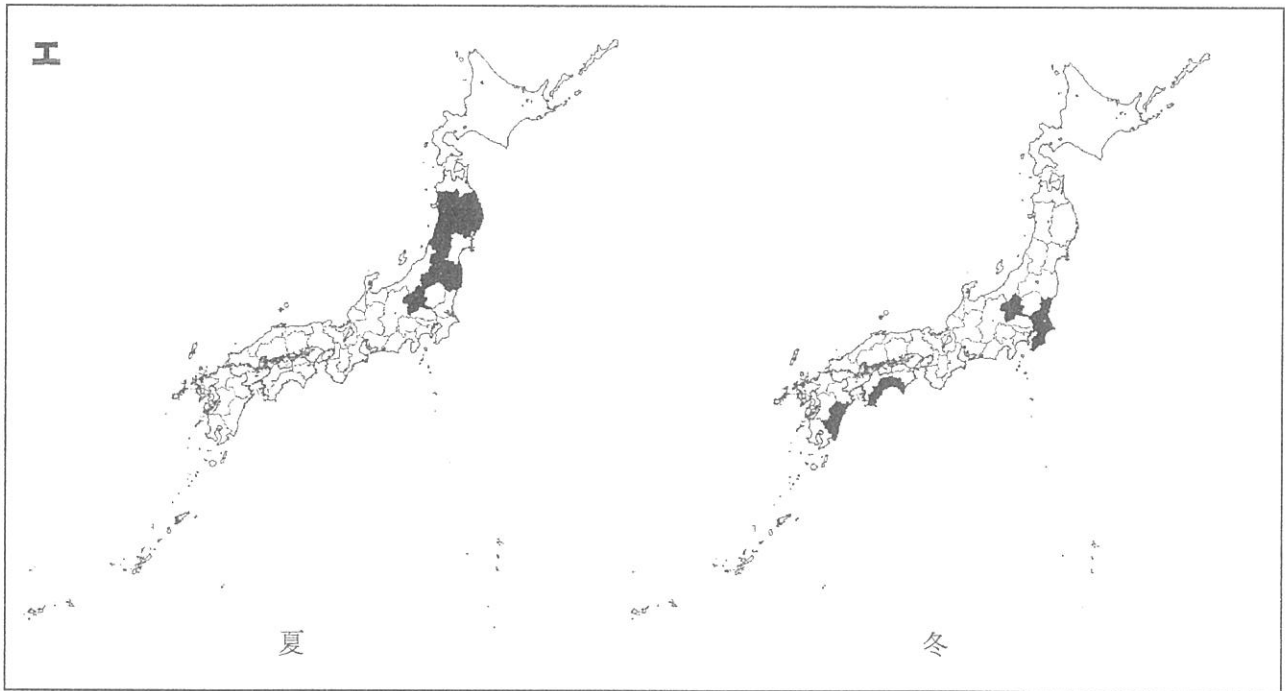
C 生産地の周囲は山地であり降水量が少なく、かつ日照時間が長くなることが一因です。また、その県の中央部には盆地があり、その盆地の周囲では多くの扇状地があるので、この果実の栽培に適しているからです。

D 生産している農園の近くで**湧き出す**温泉を利用し、温泉の熱でビニールハウスを温めることができるので、その果実を栽培することができるからです。

ア I : B **イ** I : C **ウ** II : A **エ** II : D
オ III : A **カ** III : D **キ** IV : B **ク** IV : C

問4 ミキさんは野菜担当の方から、同じ野菜でも年間ではいろいろな産地から仕入れていることを聞きました。そこで東京都中央^{おろしうり}卸売市場で取り扱^{あつか}われる野菜の生産地を、月ごとに調べてみました。次の図は、きゅうり・だいこん・ほうれんそう・レタスの夏（2022年7月）と冬（2022年12月または2023年1月）の取り扱い量が多い5都道府県を示したものです。だいこんとほうれんそうを示しているものを、次のア～エの中からそれぞれ1つずつ選び、記号で答えなさい。





(東京都中央卸売市場資料より作成)

問5 セイイチさんは日用品担当の方から、日用品に多くみられるプラスチック製品について聞き取りをし、次の文にまとめました。文中の下線部ア～エの中から誤りのあるものを1つ選び、記号で答えなさい。

プラスチックの原料は原油であり、日本は多くの割合を輸入に頼っています。また、プラスチック製品の完成品も、そのまま輸入されています。

原料の原油を輸入する際に使用される船は、主にタンカーです。タンカーは、原油を安全に運ぶために写真Aのような形をしており、ア主に西アジアの国々の港で積み込んだ原油を、直接日本の港へ運びます。また、電力・動力などをつくるための石炭を輸入する際に使用される船は、主にばら積み船です。ばら積み船は、イ形の定まらない石炭を安全に運ぶために写真Bの船を利用し、その船倉は船の揺れに耐え、積み荷がずれにくい構造をしています。石炭は主に南半球や赤道直下の国から直接日本の港へ運びます。

工業製品を運ぶ船の1つとしては、コンテナ船があげられます。コンテナという世界で統一された基準の箱を利用し、さまざまな大きさの工業製品であってもそのコンテナに入っていれば運ぶことができます。また、港では、ウコンテナを積み上げたり、移動させたりすることが港にある設備で容易にできることが写真Cでわかります。コンテナ船は、エコンテナを積み込んだ国の港を出港して日本に到着するまでに、いくつもの国や地域のさまざまな港を経由して運ぶことができます。

著作権の関係上、非表示にしています。

問6 トオルさんは、日本国内でつくられる工業製品について興味をもち、各都道府県の製造品出荷額等の総額に占める割合のうち、1つの産業で30%以上を占める都道府県を取り上げて分類してみました。次の表中の(2)にあてはまる産業として正しいものを、あとの**ア～オ**の中から1つ選び、記号で答えなさい。

(1)	群馬県・愛知県・広島県・福岡県
(2)	北海道・鹿児島県・沖縄県
(3)	山口県・徳島県
生産用機械	山梨県

(矢野恒太記念会編『データでみる県勢 2023』より作成)

ア 化学 **イ** 食料品 **ウ** 石油・石炭製品 **エ** 電子部品 **オ** 輸送用機械

問7 トシコさんは、外国からの輸入農産物が多くなる中で、地域の農業の活性化をはかることも必要だと思い、このスーパーマーケットを通じて「地産地消」の取り組みを今後さらに進めて行く場合に、どのような方法をとればよいかを考えました。その取り組みとしてふさわしくないものを、次のア～エの中から1つ選び、記号で答えなさい。

- ア このスーパーマーケットに、近くの農家の農産物を販売するコーナーをつくり、生産者のプロフィールを書いた掲示物を添えておく。
- イ このスーパーマーケットで、近くの農家で生産される農産物を利用したレシピを募集し、そのレシピでつくったおかずを販売する。
- ウ このスーパーマーケットがもつ全国の店舗に、地元の農産物を全国の農産物と一緒に混ぜて流通させて、近くの農家へ安定収入があるようにする。
- エ このスーパーマーケットが主催者となって、近くの農家と店舗利用者との交流会を企画し、農産物の試食会などをおこなう。

問8 セイイチさんたちは、聞き取りをしたスーパーマーケットが、図3中のC～F地点に新しい店舗を出店すると仮定して、各地点に店舗を出店する際の利点やその店舗の経営戦略を話し合っ、それぞれの地点についてア～エのカードにまとめて発表しました。

E・F地点の発表として正しいものを、あとのア～エの中からそれぞれ1つずつ選び、記号で答えなさい。

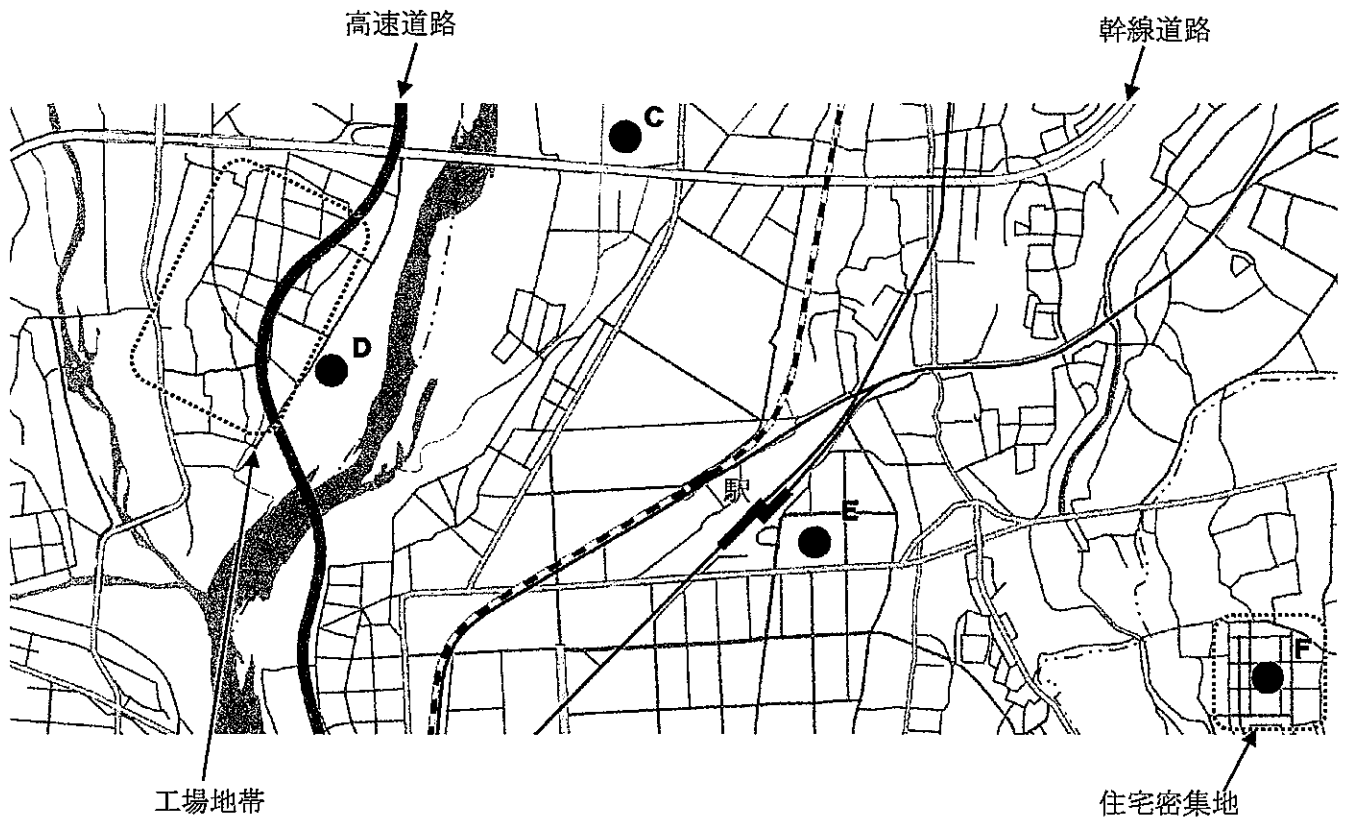


図3

(白地図は地理院地図 vector 白地図より作成)

ア セイチさん

ここは近隣きんりんから毎日徒歩で訪れる客を多く見込むことができます。日々の生活に必要とする量に対応できるように、小分けのパッケージングをするなどして、日常生活の利便性が高くなるような戦略をとります。

イ トオルさん

ここは徒歩で訪れる客を多く見込むことができます。近隣のオフィスビルで働く人の昼食や夕食向けの持ち帰り弁当・おかずなどの販売をしたり、他店より高級食材きうくを含めた幅広い価格帯の商品を扱ったりする戦略をとります。

ウ トシコさん

ここは乗用車による広範囲からの集客を見込むことができます。広い駐車場をつくり、売り場面積も広くとり、多品種の商品をそろえることで、さまざまな商品のまとめ買いの利便性が高くなるような戦略をとります。

エ ミキさん

ここは近隣の会社に勤める従業員の集客を見込むことができます。日々の仕事に必要な作業に対応できるような専門性の高い商品や、昼食向けの弁当の販売などで利便性が高くなるような戦略をとります。

[4] 次の文章を読んで、あとの問いに答えなさい。

「人は女に生まれるのではない 女になるのだ」

20世紀のフランスの哲学者シモーヌ・ド・ボエヴォワールがその著『第二の性』で記した有名な言葉です。彼女は「女は生まれてすぐに男よりも劣ったものと教え込まれ、そのようなものとして振る舞うことを強制されている」と言い、女性の解放を訴えました。

男女の社会的役割が強調されるようになったのは19世紀のことといわれています。西洋各国で工場の機械化が進むと、「男は外で働き、女は家庭を守る」という生活スタイルが理想と考えられるようになりました。その一方、現実には工場での長時間・低賃金労働に苦しむ女性も増えるようになっていきました。

① 明治時代の日本にも、こうした考え方や生活様式が流入します。 その頃の法律において、親権や財産権など非常に大きな権限を、家長とよばれる父親やその長男が行使し得たことは、
② 参政権問題とともに男女間の格差の法的側面を表すものでした。戦後、女性参政権は実現しましたが、現在でもその格差がなくなったとはいえません。

③ 国際的には両性の平等を促進する動きは活発で、1979年には女性差別撤廃条約が国際連合で採択され、1985年には日本でも男女雇用機会均等法が成立しました。 現在では「男らしさ」・「女らしさ」の社会的通念も大きく変わり、これまで女性のものとされてきた職業を男性が担ったり、男性のものとされてきた職業を女性が担ったりすることも多くなりました。少しずつではありますが、④ 男女間の平等はさまざまな分野で進んできています。

また、2023年6月にはLGBT理解増進法が制定されるなど、男女という性別をめぐる議論が多様化しています。

問1 下線部①に関連して、当時の日本にも社会的に活躍した女性を見ることはできます。次の紙幣に描かれた女性がアメリカ留学に出発した時期を、あとの〔史料〕を参考にしながら、〔年表〕中のア～オの中から1つ選び、記号で答えなさい。

著作権の関係上、非表示にしています。

〔史料〕 「開拓使長官黒田清隆の建議書」

人材育成には子どもたちを教育することが大切である。今や欧米諸国では、母親は学校を卒業し、子どもを熱心に教育している。…だから女子教育は、人材育成の根本であり、不可欠なものである。…そこで幼い女子を選び、欧米に留学させようと思う。

(わかりやすく書き直してあります)

〔年表〕

1867年 大政奉還

ア

1869年 版籍奉還

イ

1873年 征韓論争勃発

ウ

1881年 開拓使官有物払下げ事件

エ

1894年 条約改正 (治外法権撤廃)


オ

1902年 日英同盟締結

問2 下線部②について、次の(a)・(b)の問いに答えなさい。

- (a) 欧米諸国では19世紀中頃から女性参政権運動が盛り上がりを見せましたが、女性参政権に反対する声も強かったといわれます。なぜ女性参政権に反対する声が強かったのでしょうか。本文(23ページ)と次の絵を参考に25字以上35字以内で説明しなさい。

著作権の関係上、非表示にしています。



- (b) 次の〔年表〕は、主要国において女性参政権が実現した時期を表します。各国で女性参政権が実現した経緯^{けいゐ}についての説明として正しいものを、あとのア～エの中から1つ選び、記号で答えなさい。

〔年表〕 主要国において女性参政権が実現した年

1918年	イギリス
1919年	ドイツ
1920年	アメリカ
1944年	フランス
1945年	イタリア・日本

- ア** 日本では、第2次世界大戦後に施行^{しこう}された日本国憲法の規定に従って、翌年に女性参政権が実現した。
- イ** フランスでは、フランス革命期に特権階級の打倒に活躍した女性たちは、権利の拡大を主張し、女性参政権の獲得^{かくとく}に成功した。
- ウ** アメリカでは、第1次世界大戦中に、戦争への女性の協力を促^{うなが}すため女性参政権問題が協議されたが、実現したのは第1次世界大戦後のことであった。
- エ** ドイツではナチス政権崩壊^{ほうかい}後の民主化の動きの中で、新たに民主的な憲法が制定され、女性参政権が実現した。

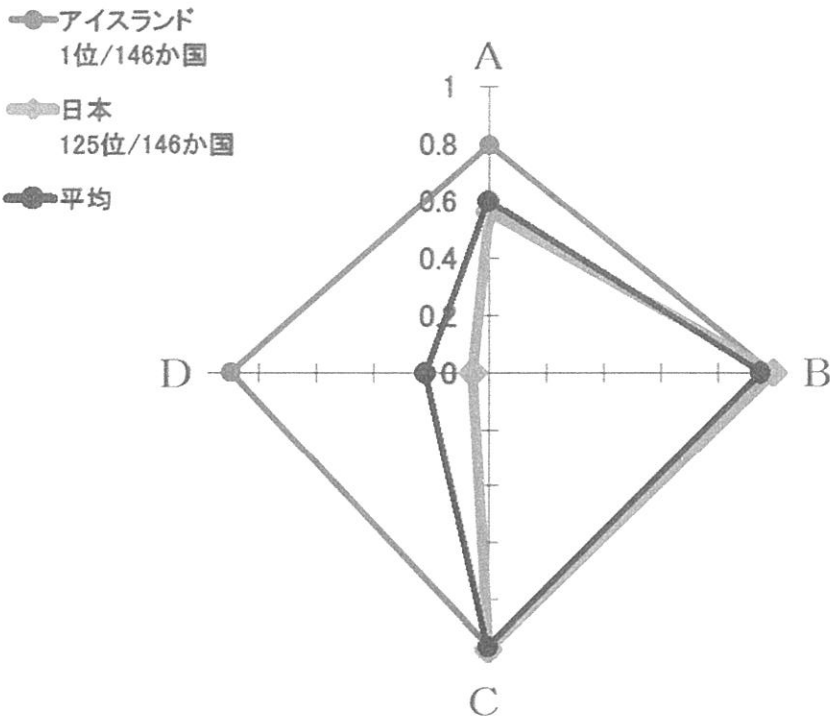
問3 下線部③について、世界経済フォーラムが2023年に発表した、男女の社会的格差に関する各国間比較^{ひかく}で、日本は146カ国中125位に位置づけられました。これは政治・経済・教育・健康の4分野にわたる男女格差を比較するもので、あとのグラフはこれを数値化したものです。グラフのAとDにあてはまるものを、あとのア～エの中から1つずつ選び、記号で答えなさい。なお、政治・経済・教育・健康の各分野において評価対象となったのは次の項目です。

政治：国会議員の男女比、閣僚^{かくりょう}の男女比など

経済：同一労働における賃金の男女格差、管理職の男女比など

教育：識字率の男女比、初等・中等・高等教育就学率の男女比

健康：出生男女比、健康寿命^{じゅんみょう}の男女比



※ グラフ中の数字はジェンダーギャップ指数（0が完全不平等，1が完全平等を示し，数値が小さいほど男女間の格差が大きいことを表します）

（内閣府男女共同参画局ウェブサイトより作成）

- ア 政治 イ 経済 ウ 教育 エ 健康

問4 下線部④について、「イクメン」という表現が一般化^{いっぱんか}してきていますが、これが「差別的表現」であるという意見もあります。「イクメン」の意味を説明した上で、その語が「差別的表現」と考えられる理由について、本文（23 ページ）を参考に2行以内で説明しなさい。

氏名

番

聖光学院中学校
2024年度

第1回 入学試験 解答用紙 社会

【注意】 解答はすべて解答用紙に記入すること。

[1]

問 1		問 2						問 3	
問 4									

[2]

問 1	(1)		(2)			(3)			(4)
問 2				問 3		問 4		問 5	
問 7		問 8		問 9		問 10		問 11	

[3]

問 1	その範囲内に								
問 2		問 3		問 4	だいごん	ほうれんそつ			
問 5		問 6		問 7		問 8	E	F	

[4]

問 1	
問 2	(a)
問 2	(b)
問 3	A D
問 4	

得点合計

--