

## 社会

### 令和6年度 渋谷教育学園渋谷中学校入学試験問題

- 注** ・答えはすべて解答らんにおさまるように記入して下さい。  
・字数の指定がある問題については、次の①と②に注意して下さい。
- ①句点（「。」）や読点（「、」）は、それぞれ1字として数えます。
  - ②算用数字を用いる場合は、数字のみ1マスに2字書くことができます。

例1) 「2024年」と書く場合 

20	24	年
----	----	---

例2) 「365日」と書く場合 

36	5	日
----	---	---

 または 

3	65	日
---	----	---

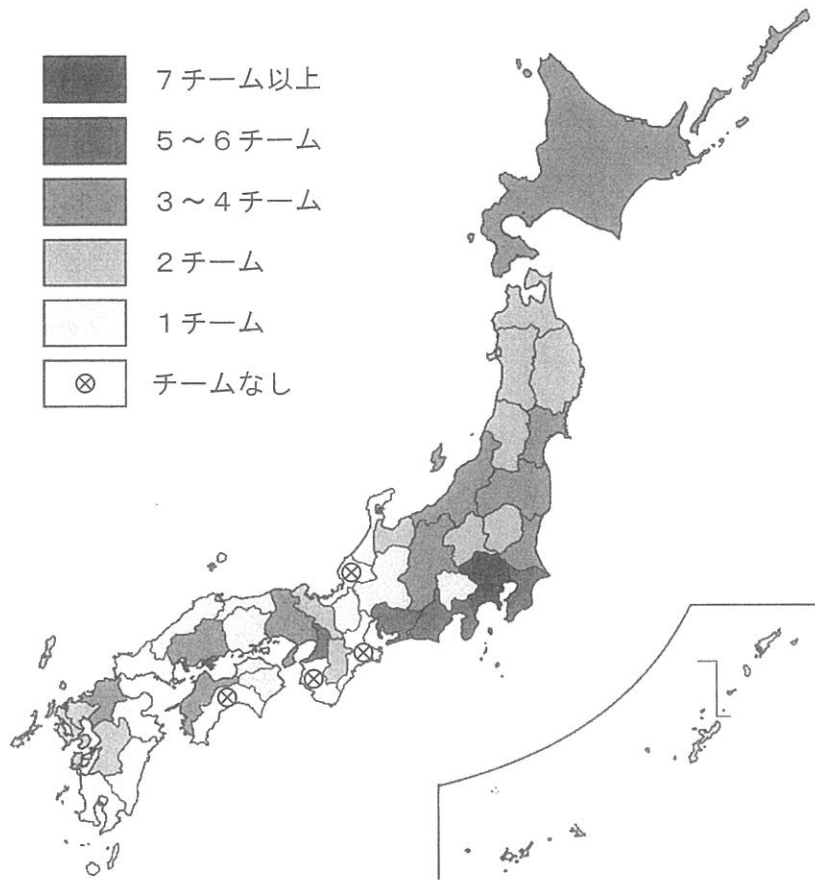
昨年（2023年）、日本プロサッカーリーグ（Jリーグ）が始まって30周年を迎えました。Jリーグが始まるまで、日本国内のプロスポーツリーグはプロ野球のみでしたが、現在では様々なプロスポーツリーグが存在しています。次の表は、2023年9月末時点における全国規模のプロスポーツリーグとその概要を、リーグの開始年順に示したものです。

競技	リーグ名	開始年	チーム数
野球	[プロ野球] セントラル・リーグ パシフィック・リーグ	1950年 （前身のプロリーグは） （1936年に開始）	12チーム （各リーグ） （6チーム）
サッカー	日本プロサッカーリーグ （Jリーグ）	1993年	60チーム （J1：18チーム） （J2：22チーム） （J3：20チーム）
バスケット ボール	ジャパン・プロフェッショナル ・バスケットボールリーグ （Bリーグ）	2016年	38チーム （B1：24チーム） （B2：14チーム）
サッカー （女子のみ）	日本女子プロサッカーリーグ （WEリーグ）	2021年	11チーム

※プロとアマチュアが併存したリーグや、特定の地域におけるプロスポーツリーグは、上記に含まない。

※プロ野球2軍は、セントラル・リーグやパシフィック・リーグのチームと重複するため、上記に含まない。  
（各リーグのウェブサイトをもとに作成）

問1 次の地図は、表に示されたプロスポーツリーグについて、2023年9月末時点の都道府県別のプロチーム数を地図に示したものです。図から読み取れる情報について説明した下の文A・Bの内容の正誤の組み合わせとして適当なものを、あとのア～エから1つ選び、記号で答えなさい。



(各リーグのウェブサイトをもとに作成)

A チームなしの県は、すべて2023年9月末時点で営業運転中の新幹線が通らない県である。

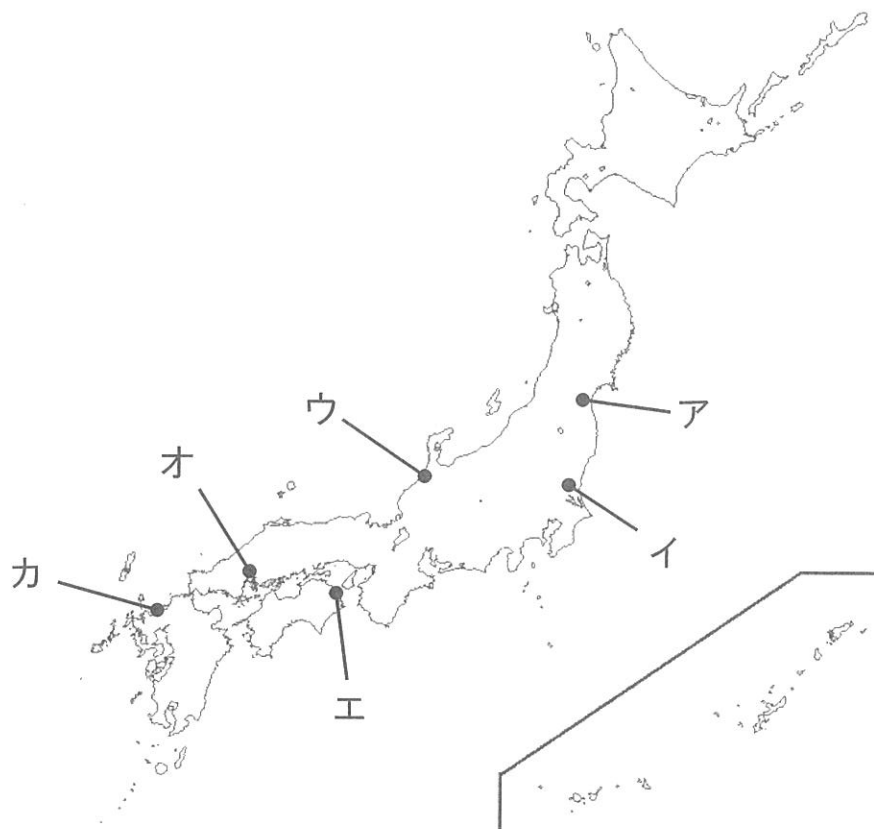
B 政令指定都市がある都道府県は、すべてチーム数が2つ以上ある。

- ア. A : 正    B : 正            イ. A : 正    B : 誤  
 ウ. A : 誤    B : 正            エ. A : 誤    B : 誤

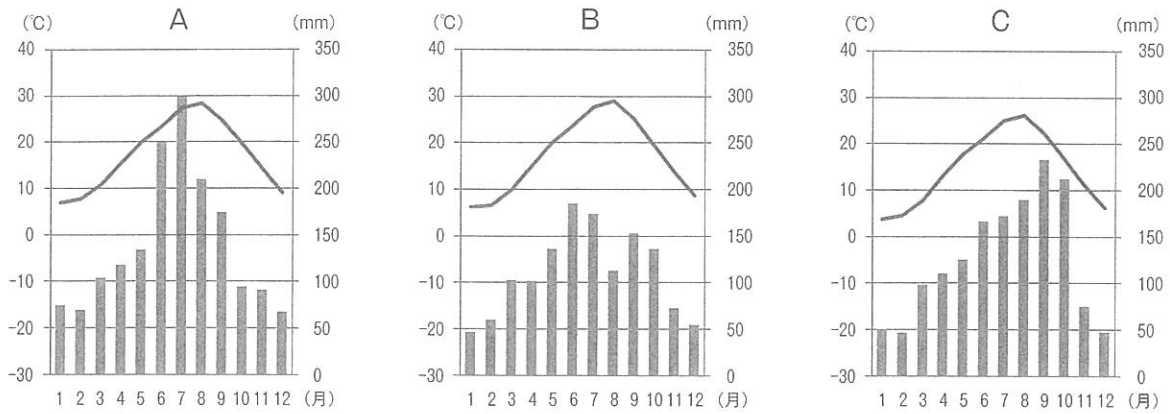
問2 Jリーグのチームの多くは、所在する都市の歴史・文化・自然環境などを由来としてチーム名が付けられています。次の①～③の由来のチームが所在する都市を、あとの地図中のア～カからそれぞれ1つずつ選び、記号で答えなさい。

- ① イタリア語で「渦」を意味する言葉から命名。豪快な渦潮のようにパワー・スピード・結束力を兼ね備え、観客を興奮の渦に巻き込むチームを目指す。
- ② 英語で「葵」を意味する言葉から命名。かつてこの都市を治めた藩の家紋「三つ葉葵」から引用した。
- ③ 「織姫」と「彦星」とされる星の名前を合わせて命名。この都市で夏に開催される大規模な祭りにちなんでいる。

(説明文は各チームのウェブサイトをもとに作成)



問3 次の雨温図A～Cは、プロ野球チームがある大阪府大阪市、埼玉県所沢市、福岡県福岡市のいずれかのもので、雨温図と都市の組み合わせとして適当なものを、あとのア～カから1つ選び、記号で答えなさい。



(気象庁資料より作成)

- ア. A：大阪市      B：所沢市      C：福岡市
- イ. A：大阪市      B：福岡市      C：所沢市
- ウ. A：所沢市      B：大阪市      C：福岡市
- エ. A：所沢市      B：福岡市      C：大阪市
- オ. A：福岡市      B：大阪市      C：所沢市
- カ. A：福岡市      B：所沢市      C：大阪市

問4 次の表は、Jリーグ創設当時加盟チームがあった千葉県市原市、神奈川県川崎市、静岡県静岡市、広島県広島市のいずれかにおける、化学工業製造品出荷額、輸送用機械器具製造品出荷額、漁獲量、小売業年間商品販売額を示したものです。川崎市にあてはまるものを、表中のア～エから1つ選び、記号で答えなさい。

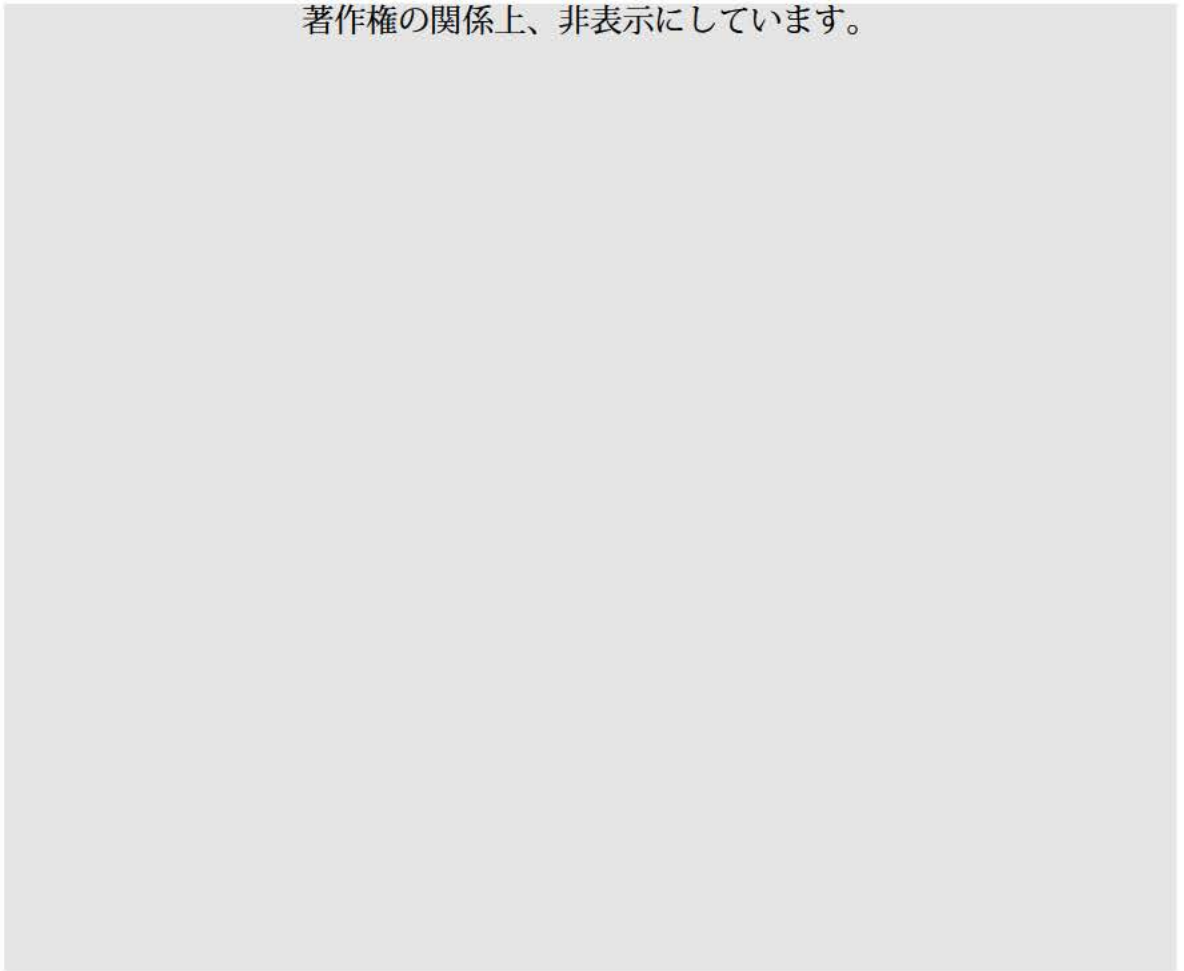
	化学工業製造品 出荷額 (億円) 2019年	輸送用機械器具製造品 出荷額 (億円) 2019年	漁獲量 (トン) 2018年	小売業年間商品 販売額 (億円) 2015年
ア	9,198	5,437	—	12,287
イ	411	18,915	153	14,633
ウ	13,609	584	—	2,663
エ	1,100	558	2,839	7,968

※ 「—」はデータ無しを意味する

(「2020年工業統計調査」、「海面漁業生産統計調査」、「平成28年経済センサス」より作成)

問5 次の地形図は、熊本県のJリーグチームが本拠地とするスタジアム周辺のもので、この地域に関するあとの設問に答えなさい。

著作権の関係上、非表示にしています。



(1) 地形図から読み取れる情報について説明した次の文①・②の内容の正誤の組み合わせとして適当なものを、あとのア～エから1つ選び、記号で答えなさい。

- ① 地図中のA地点からは、B地点を直接見ることができる。
- ② 「J A熊本果実連工場」の南側には、区画整理された畑が広がる。

ア、①：正 ②：正      イ、①：正 ②：誤  
ウ、①：誤 ②：正      エ、①：誤 ②：誤

- (2) 熊本市の市街地は、台地から低地にかわる場所に位置していることから、各所で地下水が湧き出ています。そしてその地下水の水質に優れるため、約74万人の市民の水道水のすべてを地下水でまかなっています。なぜ熊本市の地下水は豊富で水質に優れているのか、次の図をもとに、45字以内で説明しなさい。

著作権の関係上、非表示にしています。

- (3) (2)のような地下水をいかして、この地域ではある製品の生産が1980年代に最盛期をむかえました。

- (a) 生産がさかんになった製品として最も適当なものを、次のア～エから1つ選び、記号で答えなさい。

ア. 腕時計      イ. 液晶パネル      ウ. 集積回路      エ. ソーラーパネル

- (b) その製品の生産において、日本は1980年代には世界一を誇りましたが、1990年代以降は海外との競争が激しくなったため日本企業のシェアが低下し、現在では海外企業のシェアが日本企業を大きく上回っています。現在、その製品の受託生産（他のメーカーから注文を受けて生産）で世界シェア1位の企業が、2025年の稼働をめざしてこの地域に新工場を建設しており、地元への経済効果が期待されています。その企業の本社がある国・地域として適当なものを、次のア～エから1つ選び、記号で答えなさい。

ア. 韓国      イ. シンガポール      ウ. 台湾      エ. 香港

問6 近年、プロチームと地域のファンとの関係を重視して設計されたスタジアムが各地で建設されており、その1つに愛媛県今治市にJリーグチームの本拠地として建設された「里山スタジアム」があります。今治市では、チームが地域と協力して様々な取り組みをしており、その中に「今治SDGsマテリアリティ」とよばれる事業があります。マテリアリティとは重要課題のことを指します。

次の表は、「今治SDGsマテリアリティ」の事業案の一部をまとめたものです。また下のア～エは、SDGsのゴールのうち4つを示しています。表中のA～Dには、ア～エのいずれかがあてはまります。Aにあてはまるものを、ア～エから1つ選んで記号で答え、そのゴールの空らんに入る語句を答えなさい。

SDGsのゴール	関連する事業案
A	<ul style="list-style-type: none"> <li>・一人親家庭無料制度、遠征費等のための給付型基金などの充実</li> <li>・バス送迎の充実</li> <li>・ウォーキングサッカーの実施</li> <li>・特別支援学校でのサッカー教室の機会を増やす</li> </ul>
B	<ul style="list-style-type: none"> <li>・衣食住のセーフティーネット作り（古着の再分配、フードバンク、子ども食堂、空き家の再活用支援）</li> <li>・FC今治アカデミー基金の設立</li> <li>・波止浜<sup>※1</sup>に募金箱を設置</li> </ul>
C	<ul style="list-style-type: none"> <li>・高齢者の健康寿命を延ばす活動の実施（健康診断や運動教室）</li> <li>・インクルーシブなメンバーでの事業実施</li> <li>・朝活アースランド<sup>※2</sup>の実施</li> <li>・Jリーグウォーキングとの連携</li> <li>・大人のサッカー教室実施</li> <li>・FC今治体育授業を発信</li> </ul>
D	<ul style="list-style-type: none"> <li>・365日人が行きかう里山スタジアムの実現</li> <li>・アースランド<sup>※2</sup>の整備など公園管理業務、アースランドにおける各種事業の充実</li> <li>・アカデミー生やレディース選手などへの空き家の紹介</li> <li>・グリーンインフラ（自然環境が有する機能を社会における様々な課題解決に活用しようとする考え方）の推進</li> </ul>

※1 波止浜：今治市内の地区名

※2 アースランド：今治市郊外の丘陵地にある公園（正式名は「しまなみアースランド」）

（今治夢スポーツ ウェブサイトより作成）

著作権の関係上、非表示にしています。



九州の歴史に関して、それぞれの問いに答えなさい。

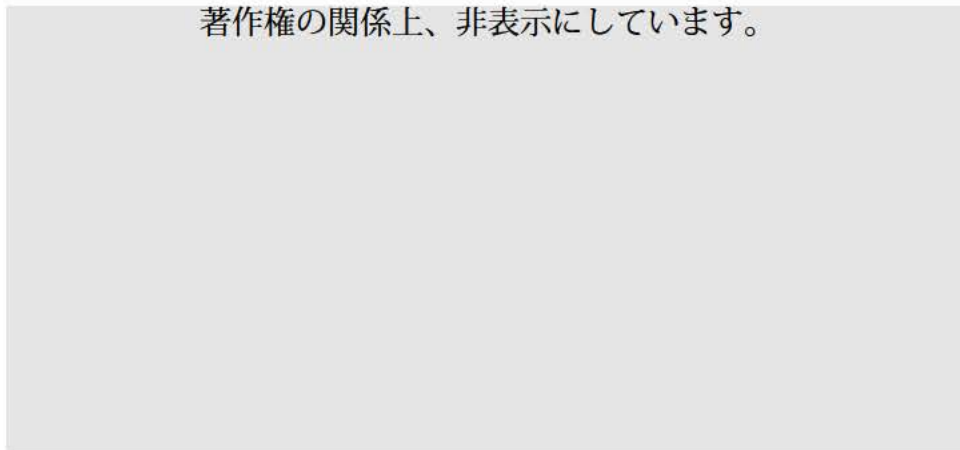
問1 九州北部は朝鮮半島や中国の大陸にも近く、古代から外交の窓口や、先進的な文化が伝わる場所として重要な役割を担っていました。そのため、現地では古代の遺跡や重要な文化財が多く発掘されています。これに関連した設問にそれぞれ答えなさい。

(1) 現在の福岡市にある板付遺跡は、今からおよそ2300年前頃、日本に稲作が伝わったことを示す最古の遺跡の1つとされており、その後、弥生時代にかけて稲作は本土全体に広まります。弥生時代の人々はどのような道具を用いて稲作を行っていたのか、説明した文として誤っているものを、次のア～エから1つ選び、記号で答えなさい。

- ア. 鉄でつくられた鋤（すき）で土を耕した。
- イ. 青銅でつくられた鎌（かま）で稲を収穫した。
- ウ. 磨製石器の技術でつくられた石包丁で稲の穂を刈りとった。
- エ. 木でつくられた臼（うす）と杵（きね）で稲の穂から粒を取り分けた。

(2) 現在の福岡市の志賀島で、古代の外交を知るための大きな手がかりとなる次の金印が発掘されています。この金印に刻まれている文字を、漢字5字で書きなさい。

著作権の関係上、非表示にしています。



(3) (2)の金印がおくられた時代の日本について説明した文としてふさわしいものを、次のア～エから1つ選び、記号で答えなさい。

- ア. 全国的に小さな国々に分かれていて、それぞれの国に権力者がいたとされる。
- イ.畿内に、巨大な前方後円墳がつくられるほど強い権力を持った権力者がいたとされる。
- ウ. 関東地方から九州地方まで、広い範囲を勢力におさめる権力者がいたとされる。
- エ. 十年ほど続いた戦乱をおさめ、うらないで人々を率いた女性の権力者がいたとされる。

問2 北九州に置かれた役所である大宰府は、古代から都に次いで政治・外交的に重要な場所であったため、大宰府に関連する歌は多くよまれてきました。大宰府に関連する以下のA～Cの歌について、設問にそれぞれ答えなさい。

A 初春の令月にしてきよく風和らぎ  は鏡前の粉を抜き 蘭は珮後（はいご）の香を薫らす

(730年頃、大宰府の長官であった大伴旅人がよんだとされる)

<現代語訳>

新春のよき月（現在の2月初旬頃）、空気は美しく風はやわらかく、 は美女が鏡の前に装う粉のように白く咲き、蘭は身を飾るような香りをただよわせている。

B 父母が 頭かきなで 幸（さ）くあれて 言ひし言葉ぜ 忘れかねつる

(755年頃、大宰府へ向かった丈部稲麻呂がよんだとされる)

<現代語訳>

父母が私の頭をなでて、無事であれと言ったその言葉が忘れられない。

C 住み馴（な）れし ふるき都の恋しさは 神も昔に 思ひ知るらむ

(1183年頃、大宰府で平重衡がよんだとされる)

<現代語訳>

住み慣れた古い都を恋しく思う気持ちは、きっと神もご存知だったことでしょう。

(1) Aの歌は、現在の元号「令和」の由来となったとされている歌です。Aの歌の空らんには、現在も「太宰府天満宮」を彩る花の名が入ります。空らんに入る花の名を、漢字で答えなさい。

(2) Bの歌は、駿河国（現在の静岡県）に住んでいた一般の成人男性である丈部稲麻呂という人物が、故郷から大宰府へ向かう途中によんだとされている歌です。この人物がなぜ大宰府へ向かったのか、25字以内で説明しなさい。

(3) Cの歌は、平氏の一門である平重衡がよんだとされていますが、どのような背景からよんだものだと考えられますか。最もふさわしいものを、次のア～エから1つ選び、記号で答えなさい。

- ア. 一門で神のような絶対的権力を手に入れた平氏が、繁栄する都を思ってよんだ歌だと考えられる。
- イ. 日宋貿易の拠点の近くに新たな都をつくった平氏が、その都の繁栄を願ってよんだ歌だと考えられる。
- ウ. 源氏との戦いに敗れて都を追われた平氏が、かつていた都をしのいでよんだ歌だと考えられる。
- エ. 戦いに敗れ一族の滅亡が決定的となった平氏が、最期に神と都を思ってよんだ歌だと考えられる。

(4) 次のア～エのうち、Cの歌がよまれた後つくられたものとしてふさわしいものをすべて選び、記号で答えなさい。

著作権の関係上、非表示にしています。

著作権の関係上、非表示にしています。

著作権の関係上、非表示にしています。

著作権の関係上、非表示にしています。

問3 江戸時代の福岡藩は、長崎の防衛を担当していたことから海外の事情に対する関心が高く、19世紀に入ると世界の地理や歴史を研究する蘭学者が多数あらわれました。次に示すのは、青木興勝という蘭学者が1804年頃に記したとされる、自身の海防・貿易に関する考え方をまとめた「答問十策」の一部です。これを読み、それぞれの設問に答えなさい。

「答問十策」

第一策 ( X ) との貿易について

( X ) との貿易は、相手国に莫大な利益があり、我が国には全く利益がないから停止すべきである。また、金銀銅の輸出は禁止すべきである。白石先生は金銀銅の流出について深くなげいており、金銀銅の積み出しを計算して制限する計画を立てていたのである。

第三策 享和3(1803)年に長崎に来航したアメリカ船への対応について

長崎奉行が、神祖からのご法度を守り、交易を求めて来航したアメリカ船を追い返したのはふさわしいことであったといえる。

第四策 中国との貿易について

中国からやって来る布や磁器などは無益だが、薬材(薬の原料)はなくてはならないものであるから、これを第一として注文をし、中国との交易を続けるべきである。

第五策 キリスト教の禁制について

世界各国の地誌によれば、日本・中国・朝鮮・( Y ) は直行(※)の文字を用いている。キリスト教の禁制と並行して、横文字を用いる国はことごとく「禁制」だと考えるべきだ。中でも( Z ) は格別で、その昔は微力の国であったのに、この頃勢力を拡大して諸国を従わせ、ついに蒙古東北の地勢をきわめ、満州の東カムチャツカの地に至るアジアの方まで押領しようとしている。

がかつてこの国のことを嘆き綴り、その身を禁錮させられたきっかけとなった書などを吟味すれば、制限を緩めて( Z ) の商船を受け入れると後々悔やむことになると言えるだろう。

※「直行」…ここでは「たて書き」の意味。

(国立国会図書館デジタルコレクションより一部改変)

- (1) この資料が書かれた当時の日本の国際関係をふまえて考えたとき、資料中の空らん ( X ) ~ ( Z ) に入る国の説明としてふさわしいものを、次のア~カからそれぞれ1つずつ選び、記号で答えなさい。

- ア. この国出身の人物が種子島に漂着したことで、日本に鉄砲のつくり方や技術が伝わった。  
イ. 中国がこの国とのアヘン（薬物）をめぐる戦争に敗れ、江戸幕府は外国船への対応を検討し直した。  
ウ. 江戸に通信使と呼ばれる使節をおくっていたこの国には、倭館と呼ばれる日本人の滞在場所が置かれた。  
エ. この国からは薩摩藩に特産物がおさめられたり、江戸幕府の将軍が代わるごとに使節がおくられたりした。  
オ. この国の人々から得た海外情報の報告書は風説書と呼ばれ、ヨーロッパの情勢を知る貴重な手段だった。  
カ. 幕末に日本がこの国と結んだ和親条約には、国境に関する取り決めが含まれていた。

- (2) 資料中の空らん  に入る人物としてふさわしいものを、次のア~エから1つ選び、記号で答えなさい。

- ア. 高野長英      イ. 林子平      ウ. 吉田松陰      エ. 渡辺崋山

問4 福岡県には多くの鉱山があり、明治時代から昭和時代にかけて、そこには多くの炭坑（鉱）労働者たちがいました。これについて、それぞれの設問に答えなさい。

- (1) 次の(A)・(B)は、大正時代、福岡県の田川郡にあった峰地（みねぢ）炭坑で起きたできごとについて、後の時代に描かれたものです。(B)に描かれているできごとが起きた経緯を、(A)をふまえて60字以内で説明しなさい。なお、説明書きは、絵に書かれている文章を簡略化したものです。

著作権の関係上、非表示にしています。

(2) 戦時下に入ると、政府の政策によって福岡県の産業や人々の生活も大きな影響を受けることになりました。これに関連した資料と、当時の状況を説明した下の文を読み、説明文中の空らん  ・  に入る適切な語句を、それぞれ漢字2字で答えなさい。

〈政府による産業統制に関する年表〉

1937年	輸出入品等に関する臨時措置に関する法律(臨時措置法)・臨時資金調整法制定	軍需物資の輸入優先・輸入原料による生産が制限される
1938年	国家総動員法制定	国家総力戦遂行のため、国家のすべての人的・物的資源を政府が統制・運用できるようになる
1944年	炭鉱労働における「急速転換」実施	樺太および釧路における炭鉱労働者が筑豊に集中させられ、戦時炭鉱増産がはかれる

著作権の関係上、非表示にしています。

〈説明文〉

戦争の開始とともに産業に関する政府の統制が強まり、 や石炭など軍需産業に関連したものの生産が強化された。一方、それらはすべて戦時体制を支えるものとして使用されたため、 は不足し、別の材料によって多くの代用品が作られた。

3

ある大学の研究機関が、小学校6年生の希望者を対象に、主権者として政治を体験的に学ぶ講座（ワークショップ）を開いています。児童AとBが参加し、案内役の大学生と意見交換をしながら講座に取り組もうとしています。次の会話文を読んで、それぞれの問いに答えなさい。

大学生：皆さんに、Ⅰ：民主主義、Ⅱ：専制主義、Ⅲ：寄合の3枚のカードを用意しました。それぞれの仕組みについて意見交換をしていきましょう。



児童A：Ⅰの民主主義の良い点は、憲法で国民の主権が認められていて、公正な選挙で政府がつくられることです。そうすれば、政府の国民に対する（ 1 ）を防げる仕組みです。新聞などのマスメディアは定期的に（ 2 ）を行っていて、その評価や支持が低いと次の選挙で（ 3 ）可能性が高くなるので、政府は国民のことを考えた政策を行う必要があります。

児童B：Ⅱの専制主義は強力なリーダーが中心にいるから、良い点はリーダーに権力が集まっているので、長期的な国家戦略に取り組むことができること。課題は権力間で監視しお互いを抑止しあう（ 4 ）の機能が働かなくなると、政府による（ 5 ）が起きやすくなることだと思う。政府を批判する（ 6 ）や、対立政党や候補の排除をすれば、政権を維持し続けられるね。

大学生：Ⅲの寄合は、室町時代の（ 7 ）が続く時期に、自治的な共同体の惣村で行われました。良い点は、年齢が高い指導者の乙名（おとな）のもとで、農民たちが直接話し合うので、（ 8 ）意識が高いことと言えます。課題は、寄合で決定した（ 9 ）などには今の時代と比べると近代的な法律上の根拠がないので、その場の雰囲気や話し合いの流れ、人間関係で決まるのが弱点です。では次に、国民の義務について、意見交換をしていきましょう。

児童B：義務は全員同じ負担にするほうが良いのか、それとも各個人が負担できる役割を義務としたほうが良いのかな。どうやったらみんなが納得するのだろう。Ⅰの民主主義だと、考えにばらつきも出るだろうな。

大学生：納税の義務では、すべての人が同じ税率を負担する（ 10 ）と、収入によって税率がことなる（ 11 ）があります。（10）、（11）を含めて納めた税金は、働けなくなった時にも安心して暮らせる（ 12 ）につながっています。

児童A：安心であることは、社会全体の幸福につながると思います。病気やケガは予期できないし、年を取った時のことまでを考えれば、納税の義務にも納得できます。



問1 3枚のカードに関する【i】～【iii】の問いにそれぞれ答えなさい。

【i】 Iの民主主義に関して、文中の（ 1 ）～（ 3 ）にあてはまる語句の組み合わせとして正しいものを、次のア～エから1つ選び、記号で答えなさい。

- |    |          |         |            |
|----|----------|---------|------------|
| ア. | (1)情報の管理 | (2)国政調査 | (3)野党が連立する |
| イ. | (1)権利の侵害 | (2)世論調査 | (3)議席を減らす  |
| ウ. | (1)情報の管理 | (2)世論調査 | (3)議席を増やす  |
| エ. | (1)権利の侵害 | (2)国政調査 | (3)政権交代する  |

【ii】 IIの専制主義に関して、文中の（ 4 ）～（ 6 ）にあてはまる語句の組み合わせとして正しいものを、次のア～エから1つ選び、記号で答えなさい。

- |    |         |          |          |
|----|---------|----------|----------|
| ア. | (4)三権分立 | (5)権力の濫用 | (6)言論の弾圧 |
| イ. | (4)違憲審査 | (5)条約の破棄 | (6)報道の自由 |
| ウ. | (4)違憲審査 | (5)情報の操作 | (6)言論の弾圧 |
| エ. | (4)三権分立 | (5)公共の福祉 | (6)報道の自由 |

【iii】 IIIの寄合に関して、文中の（ 7 ）～（ 9 ）にあてはまる語句の組み合わせとして正しいものを、次のア～エから1つ選び、記号で答えなさい。

- |    |           |         |        |
|----|-----------|---------|--------|
| ア. | (7)南北朝の動乱 | (8)強制参加 | (9)律・令 |
| イ. | (7)承久の乱   | (8)当事者  | (9)掟   |
| ウ. | (7)承久の乱   | (8)強制参加 | (9)律・令 |
| エ. | (7)南北朝の動乱 | (8)当事者  | (9)掟   |

問2 国民の義務に関する問題【i】【ii】に答えなさい。

【i】 日本国憲法における国民の義務は、納税、勤労、教育を受けさせることです。過去に日本でも国民に課していた義務で、現在の韓国やイスラエルなどでも行われている制度は何か答えなさい。

【ii】 納税の義務に関する文中の（10）～（12）にあてはまる語句の組み合わせとして正しいものを、次のア～エから1つ選び、記号で答えなさい。

- |            |         |          |
|------------|---------|----------|
| ア. (10)住民税 | (11)消費税 | (12)安全保障 |
| イ. (10)消費税 | (11)所得税 | (12)安全保障 |
| ウ. (10)消費税 | (11)所得税 | (12)社会保障 |
| エ. (10)住民税 | (11)消費税 | (12)社会保障 |

問3 次の記事を読んで、現在の世界の政治に関する説明として最もふさわしいものを、次のア～エから1つ選び、記号で答えなさい。

著作権の関係上、非表示にしています。

- ア. 2000年代に入り、東南アジアの専制主義国家は欧米など民主主義国家による経済活動の制限に対抗するために連携を深め、巨大経済圏の東南アジア諸国連合（ASEAN）をつくった。
- イ. 1992年に国連環境開発会議（地球サミット）が開かれ、グローバルな温暖化対策の連携により民主的な政治体制が広がり、パリ協定の締結につながった。
- ウ. 21世紀にアジア・アフリカ・南アメリカの新興国や途上国の中には、政治的に専制主義国家の体制をとる国が多くなっている。
- エ. バイデン米大統領の「民主主義の再生、強化には不断の努力が必要だ」という発言には、急速に広まるA I技術が専制主義国家によって生み出されていることへの、強い危機感が表れている。

問4 民主主義国家と専制主義国家によって世界が2つに分かれ、対話をする機会が減り対立する危険があります。それはどのような危険性が高まることにつながるのか、次の文中の

・  に適する言葉を入れて完成させなさい。

なお、 は漢字2字、 は漢字1字で答えなさい。

世界が分断すると、第二次世界大戦後の  期のように、 の力を利用して対立の解決をはかろうとする危険性が高まる。

問題は以上です。











