

2025年度

## 第1回 入学試験問題

# 社 会

(30分, 70点)

### 受験についての注意

1. 試験開始の合図があるまで、問題用紙を開かないでください。
2. 問題は ①～③ まであります。
3. 各問題とも、解答は解答用紙（別紙）の所定の欄に記入してください。
4. 解答用紙には受験番号、氏名を必ず記入し、最後にもう一度確認してください。

## お詫びと訂正

本校第1回中学入試（社会）の中で訂正がございました。深くお詫び申し上げますとともに、下記の通り訂正させていただきます。

### ◇問題文 8 ページ目

(1) Yの文章を下記の通り訂正させていただきます。

訂正前	Y.写真 2 は骨角器で、釣針などの魚 <sup>ぎよ</sup> 撈 <sup>ろう</sup> 用具として使用された。
訂正後	Y.写真 2 は骨角器で、釣針などの魚 <sup>ぎよ</sup> 撈 <sup>ろう</sup> 用具として使用された。

### ◇問題文 14 ページ目

(4) ①のグラフに下記の注を追加させていただきます。

**(注) 2023 年度以前は決算額、2024 年度は当初予算額である。**

### ◇問題文 15 ページ目

(5) ②の文章を下記の通り訂正させていただきます。

訂正前	この補助金を何というか、答えなさい。
訂正後	この <b>使い道が自由な</b> 補助金を何というか、答えなさい。


1 次の文章を読んで、各問いに答えなさい。

三重県は紀伊半島の東側にあり、太平洋に面している。a 三重県の東部には太平洋につきでたりアス海岸の志摩半島がある。滋賀県との境には（ 1 ）山脈があり、奈良県との境には紀伊山地が<sup>つ</sup>らなっている。

三重県の農牧業は、b 稲作のほかに、c みかんや茶の栽培がさかんであることに加えて、d 松阪牛などの銘柄牛（ブランド牛）<sup>めいがらぎゅう</sup>が全国的に有名である。また、工業においても、三重県の北東部は（ 2 ）工業地帯にふくまれ、輸送用機械や電子部品、化学製品の生産がさかんである。さらに三重県には、e 伊勢神宮をはじめ、歴史ある建物が数多くある。

(1) 下線部 a について、図 1 は志摩半島とその周辺の様子をあらわした地図である。図 1 中の X 半島と Y 湖の名称をそれぞれ答えなさい。

著作権の関係上、非表示にしています。



(2) 空欄（ 1 ）・（ 2 ）にあてはまる語句をそれぞれ答えなさい。

(3) 下線部 **b** について、第二次世界大戦後から現在までの日本の米の生産に関して述べた文として正しいものを、次のア～エのうちから1つ選び、記号で答えなさい。

ア. 米の生産は、筑後川周辺の筑紫平野に代表されるように、九州地方で全国の4分の1を生産し続けている。

イ. 各地で銘柄米（ブランド米）の生産に力を入れるようになり、日本の米の生産量は増加し続けている。

ウ. 食生活の変化により、米の消費量は年々減少傾向にあるため、日本は米を輸入していない。

エ. 1970年ごろから、米の生産をおさえる生産調整（減反政策）が行われたが、現在は廃止されている。

(4) 下線部 **c** について、表1は、みかんと茶の生産（2022年）がさかんな都道府県上位5つをまとめたものである。表1中の  にあてはまる都道府県名を答えなさい。

著作権の関係上、非表示にしています。

- (5) 下線部 **d** に関連して、次のア～エは、豚、採卵鶏<sup>けい</sup>、乳用牛、肉用牛の飼養頭数または羽数（2023年）のいずれかの上位5都道府県を表している。肉用牛として正しいものを、次のア～エのうちから1つ選び、記号で答えなさい。

著作権の関係上、非表示にしています。

(6) 下線部 e について、次の地形図は伊勢神宮がある三重県伊勢市のものである。この地形図を見て、あとの問いに答えなさい。

- ① 伊勢神宮とは一般的な呼び方で、実際には豊受大神宮（外宮）と皇大神宮（内宮）からなっている。写真 1 は豊受大神宮（外宮）に近い撮影地 1 で、写真 2 は皇大神宮（内宮）に近い撮影地 2 で、それぞれ撮影したものである。毎年多くの参拝客が通るこれらの通りに共通するまちの工夫を、石畳み風の路面であることや、バリアフリー化が進んでいること以外に、写真をみて答えなさい。


著作権の関係上、非表示にしています。

著作権の関係上、非表示にしています。

- ② 図2は、撮影地1付近のかつて銀行があった建物にはってあったポスターを図化したものである（問題作成上、一部改変）。図2中のAにあてはまる都市名として正しいものを、次のア～エのうちから1つ選び、記号で答えなさい。

ア. 大津            イ. 名古屋            ウ. 金沢            エ. 津

著作権の関係上、非表示にしています。



- ③ 撮影地1から撮影地2までの直線距離が、地図上で約10 cmであったとする、このときの実際の距離として正しいものを、次のア～エのうちから1つ選び、記号で答えなさい。

ア. 約1500 m            イ. 約2500 m            ウ. 約5000 m            エ. 約7500 m



- ④ 家族と伊勢市に旅行にきた<sup>ひかる</sup>照さんは、「皇大神宮（内宮）」をお参りしたあと、バスに乗って「宇治山田駅」に移動した。次の文章は、その時の様子をまとめたものである。この文章を読んで、バスが通った地点として正しいものを、地図中のア～エのうちから1つ選び、記号で答えなさい。

著作権の関  
係上、非表  
示にしてい  
ます。

バスは大きな通りではなく、「猿田彦神社」のわきを通って高台にある細い道を進んで行きました。通り沿いには、昔からあるような住宅が立ち並んでいました。途中で、大きな道路と交差し、その後「近鉄鳥羽線」の上を通りました。

真っすぐで広い道路ではなく、どうして細いこの道をバスが運行しているのか、あとで調べてみました。すると、この道は伊勢街道とって、古くからこの地域の交通・文化の中心であったことが分かりました。歴史を感じることができる旅になりました。

2 次の文章を読んで、各問いに答えなさい。

栃木県には、a 旧石器時代や縄文時代の遺跡や古墳が多数存在する。現在の栃木県域は、今から約1350年前の（ 1 ）世紀後半にヤマト朝廷の支配下に置かれ、b 下野国となった。

c 鎌倉幕府が成立すると、足利・宇都宮などの下野の武士団は（ 2 ）御家人となった。d 室町時代に関東管領・上杉憲実が開いた足利学校について、（ 3 ）フランシスコ・ザビエルは、「日本国中最も大にして最も有名なる坂東の大学」と書き送っている。

e 江戸時代には日光道中や奥州道中が整備され、宿場も栄えた。足利は、京都の西陣から技術を導入し、隣接する（ 4 ）の桐生とともに絹織物の産地となった。

廃藩置県後、1873年に現在の栃木県が成立した。近代では、足尾銅山鉍毒事件を訴えた（ 5 ）が有名だが、その足尾銅山は日本を代表する鉍山で、f 日本の近代化に貢献した。また、宇都宮は軍需産業が振興し、g 戦後は北関東工業地域の主要工業都市となった。名物の宇都宮餃子は、満州に駐屯した兵士が持ち帰ったことに始まるとされる。

(1) 下線部 a について、次の写真 1・2 の道具の名称と使い方を説明した後の文 X・Y について、その正誤の組み合わせとして正しいものを、次のア～エのうちから 1 つ選び、記号で答えなさい。

著作権の関係上、非表示にしています。

X. 写真 1 は石斧で、主に木を伐採するために使用された。  
Y. 写真 2 は骨角器で、釣針などの魚撈用具として使用された。

ア. X 正 Y 正                      イ. X 正 Y 誤  
ウ. X 誤 Y 正                      エ. X 誤 Y 誤

(2) 空欄（ 1 ）に入る漢数字として正しいものを、次のア～エのうちから 1 つ選び、記号で答えなさい。

ア. 五              イ. 六              ウ. 七              エ. 八

- (3) 下線部 **b** について、この旧国名の読み方をひらがなで答えなさい。
- (4) 下線部 **c** について、鎌倉幕府に関する次の文 **I**～**III** について、古いものから年代順に正しく並べたものを、次の **A**～**カ** のうちから 1 つ選び、記号で答えなさい。

- I** 京都に六波羅探題を置いて、朝廷の監視や西国御家人の取りしまりにあたせた。
- II** 御家人の生活を救うために、借金の取り消しを命じる徳政令を出した。
- III** 執権の北条泰時は、御成敗式目を定めた。

- A.** I—II—III      **イ.** I—III—II      **ウ.** II—I—III  
**E.** II—III—I      **オ.** III—I—II      **カ.** III—II—I

- (5) 空欄 ( 2 ) ・ ( 3 ) に入る文の組み合わせとして正しいものを、次の **A**～**E** のうちから 1 つ選び、記号で答えなさい。

- A.** 2 : 将軍と主従関係をむすんだ武士である  
3 : 日本に鉄砲を伝えた
- イ.** 2 : 将軍と主従関係をむすんだ武士である  
3 : 日本にキリスト教を伝えた
- ウ.** 2 : 幕府に抵抗する武士である  
3 : 日本に鉄砲を伝えた
- E.** 2 : 幕府に抵抗する武士である  
3 : 日本にキリスト教を伝えた

- (6) 下線部 **d** について、この時代の産業について述べた次の文 **A**・**B** と、それぞれに最も関係する語句 **W**～**Z** との組み合わせとして正しいものを、次の **A**～**E** のうちから 1 つ選び、記号で答えなさい。

- A** かんがい技術の発達により二毛作が各地に広がり、近畿地方では三毛作が行われたところもあった。
- B** 高い利子で庶民に金を貸して、富をたくわえた。

- W** 水車      **X** 千歯こき      **Y** 酒屋      **Z** 問丸
- A.** A—W      B—Y      **イ.** A—W      B—Z  
**ウ.** A—X      B—Y      **E.** A—X      B—Z

- (7) 下線部 e について、次の史料 1 は、寛政の改革を批判した狂歌である。寛政の改革を行った白河藩主の名前をあげ、改革が批判された理由を説明しなさい。

著作権の関係上、非表示にしています。

- (8) 空欄 ( 4 ) に入る県名として正しいものを、次のア～エのうちから 1 つ選び、記号で答えなさい。

ア. 埼玉県      イ. 千葉県      ウ. 茨城県      エ. 群馬県

- (9) 空欄 ( 5 ) に入る人名を答えなさい。

- (10) 下線部 f について、次の表 1 は、日本の主要輸出品上位 6 品目の変化をあらわしたものである。表中の空欄に共通して入る品目として正しいものを、次のア～エのうちから 1 つ選び、記号で答えなさい。

著作権の関係上、非表示にしています。

ア. 生糸      イ. 砂糖      ウ. 米      エ. 毛織物

- (11) 下線部 **g** について、第二次世界大戦後の出来事について述べた次の文 **W**～**Z** について、正しいものの組み合わせを、次の **ア**～**エ** のうちから 1 つ選び、記号で答えなさい。

- W** 1945年12月に衆議院議員の選挙法が改正され、満18歳以上のすべての男女に選挙権があたえられた。
- X** 農地改革の結果、ほとんどの小作人は、農地を持つ自作農になった。
- Y** 朝鮮では、ソ連のあとおしで、大韓民国が成立した。
- Z** 佐藤栄作内閣のとき、沖縄がアメリカから日本に復帰した。

- ア.** W・Y      **イ.** W・Z      **ウ.** X・Y      **エ.** X・Z

③ 次の文章を読んで、各問いに答えなさい。

a 財務省は、2023年度の国の一般会計の税収は72兆761億円で、前年度を約9,000億円上回ったと発表した。b 法人税の税収が伸び、4年連続で過去最高を更新した。

政府は、毎年 c 予算を立てて、計画に沿って必要な政策を行っている。そのために集められる一年間の収入を歳入といい、歳入の中心になるのが d 税収である。税収が増えたとしても、e 歳出に対して税収が不足することがあり、その場合は国債を発行して、歳入の不足を補っている。

現在、深刻な財政赤字が続いており、国債を毎年発行してきた結果、2024年度末には国債残高が1,105兆円にのぼると見込まれている。国の f 基礎的財政収支（プライマリーバランス）の黒字化を目指し、政策を行うための経費を借金することなくまかなえることが、財政再建に向けた一歩となる。

(1) 下線部 a に関連して、財務大臣の定める計画に<sup>したが</sup>従って日本銀行券の製造を行う独立行政法人として正しいものを、次のア～エのうちから1つ選び、記号で答えなさい。

ア. 造幣局      イ. 国際協力機構      ウ. 国立公文書館      エ. 国立印刷局

(2) 下線部 b について、税金はどこの財源になるのか、また、その納め方によって分類することができる。法人税の分類として正しいものを、次のア～エのうちから1つ選び、記号で答えなさい。

ア. 国 税・直接税  
イ. 国 税・間接税  
ウ. 地方税・直接税  
エ. 地方税・間接税

- (3) 下線部 c について、予算が成立するまでの流れをまとめた次の表を見て、あとの問いに答えなさい。

時期	区分	説明
5月～8月	各省庁	1年間に必要な金額を算出し、財務省に提出する。
9月	財務省	各省庁から提出された金額や内容が妥当かどうかなどを調べて、認めるかどうかを決め、その結果を内閣に報告する。
12月	㉠内閣	財務省の報告をもとに「予算案」を作成する。
1月	国会	「予算案」は1月に召集される㉡国会で審議し、㉢国会の議決を経て「予算」として成立する。

〔国税庁HPより作成〕

- ① 下線部㉠について、財務省の報告をもとに内閣が予算案を作成する場合、内閣総理大臣とすべての国务大臣が出席する会議で決定する必要がある。この会議を何と  
いうか、答えなさい。
- ② 下線部㉡について、国会の種類に関する説明文として正しくないものを、次のア～エのうちから1つ選び、記号で答えなさい。
- ア. 常会は、毎年1回、1月中に召集され、会期は150日間である。
- イ. 臨時会は、内閣が必要と認めるとき、または、いずれかの議院の総議員の3分の2以上の要求があったときに召集される。
- ウ. 特別会は、衆議院解散による総選挙の日から30日以内に召集される。
- エ. 緊急集会は、衆議院の解散中、国会の議決を必要とする緊急の問題が生じた場合に、内閣の求めに応じて開かれる。
- ③ 下線部㉢について、国会の議決には、両院の議決の一致が必要である。両院の議決が異なる場合、意見を調整するために開かれるものを何と  
いうか、答えなさい。

(4) 下線部 d について、次の「一般会計税収の推移」のグラフを見て、あとの問いに答えなさい。

- ① グラフ中の①～③には、所得税、法人税、消費税のいずれかがあてはまる。消費税にあてはまるものを①～③のうちから1つ選び、記号で答えなさい。また、そのように判断した理由を、グラフから分かることに触れて説明しなさい。



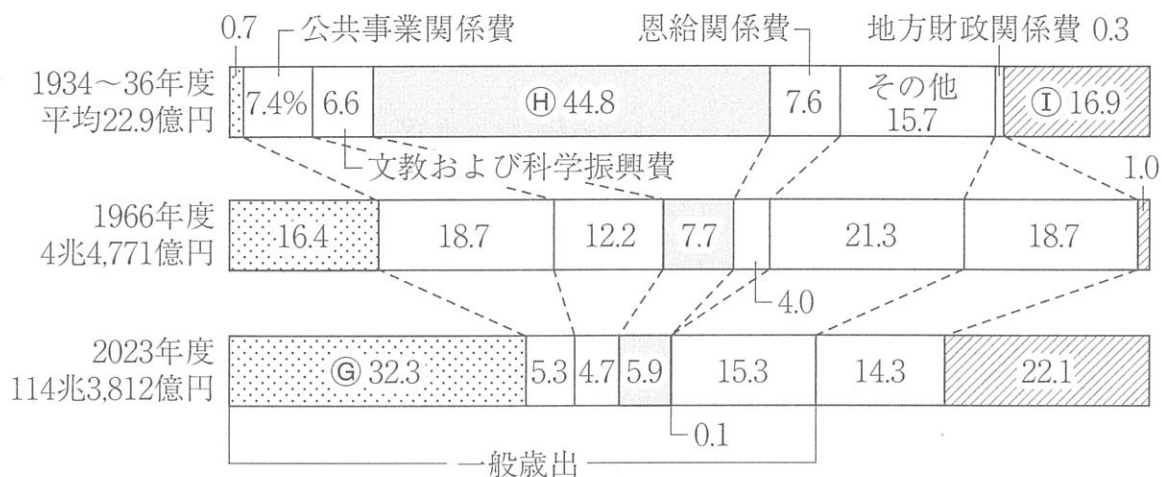
[財務省HPより作成]

- ② 消費税に関する説明として正しくないものを、次のア～エのうちから1つ選び、記号で答えなさい。
- ア. 消費税は、税金を最終的に負担するのは消費者だが、納税の手続きをするのは小売店なので、間接税になる。
  - イ. 消費税には、高所得者が多くの税金を負担し、低所得者の税負担を軽くする累進課税制度が適用されている。
  - ウ. 消費税は、同じ税率で課税されるので、低所得者の方が所得に占める税負担の割合が高くなる、逆進性という問題が生じやすい。
  - エ. 消費税率10%のうち、7.8%は国税、2.2%が地方税となっている。



(5) 下線部 e について、あとの問いに答えなさい。

① 歳出に関する次のグラフを見て、グラフ中の㊸～㊺にあてはまる項目の組み合わせとして正しいものを、次のア～エのうちから1つ選び、記号で答えなさい。



(注) 1934～36年度平均歳出および1966年度は補正後予算、2023年度は当初予算

[財務省資料等より作成]

	㊸	㊹	㊺
ア	防衛関係費	国債費	社会保障関係費
イ	防衛関係費	社会保障関係費	国債費
ウ	社会保障関係費	防衛関係費	国債費
エ	社会保障関係費	国債費	防衛関係費

② グラフ中の「地方財政関係費」のなかには、地方公共団体間の収入の格差をなくすための国の補助金が含まれている。この補助金を何というか、答えなさい。

(6) 下線部 f について、プライマリーバランス（基礎的財政収支）とは、社会保障や公共事業をはじめ政策を行うための経費を、税収だけでまかなえているかどうかを示す指標である。現在の日本のプライマリーバランスの状態として正しいものを、次のア～ウのうちから1つ選び、記号で答えなさい。

ア

歳入	歳出
新たな借金	借金返済
税収	経費

イ

歳入	歳出
新たな借金	借金返済
税収	経費

ウ

歳入	歳出
新たな借金	借金返済
税収	経費

[財務省HPより作成]



2025年度 獨協埼玉中学校第1回入学試験〔社会〕 解答用紙

	(1) X	半島		湖
1	(2) 1	2		
	(3)	(4)	(5)	
	①			
	(6)	②	③	④

□

□

□

小計 1  
□

	(1)	(2)		
3	(3) ①	②		
	(3) ③			
	記号			
	理由			
	(4) ①			
	(5) ②		②	
	(5) ①			
	(6)			

□

□

□

小計 3  
□

2	(1)	(2)	(3)	
	(4)	(5)	(6)	
	①			
	(7)	(8)	(9)	(10)
	(10)	(11)		

□

□

小計 2  
□

合計  
□

受験番号	氏名
------	----