

# 社 会

(第1回)

## 注 意

1. 問題冊子と解答用紙が配られたら、まず**解答用紙の決められたところに座席番号、受験番号、氏名**を書いてください。
2. 試験開始の合図があるまで、問題冊子を開かないでください。
3. 試験開始の合図があったら、問題冊子のページ数を確かめてから始めてください。
4. この問題冊子は**12ページ**あります。ページの不足や乱れがあったら、だまって手をあげてください。
5. 印刷のはっきりしていないところがあったら、だまって手をあげてください。
6. 試験終了の合図があったら、すぐ鉛筆をおいてください。
7. その後、解答用紙を集めますので、解答用紙を机の上に、表を上にしておいてください。(問題冊子は持ち帰ってかまいません。)

次の **文章 1** ～ **文章 3** を読み、後の問いに答えなさい。

### 文章 1

開智中学校のある①埼玉県は海に面していませんが、島国である日本には、数多くの島があります。

日本にはいくつの島があるのでしょうか。②海上保安庁が1987年に、海図上の海岸線が0.1km以上のものを島として数えたところ、6,852の島があることがわかりました。それ以来、この数字が「日本の島の数」として用いられてきましたが、国土地理院が2022年1月時点の電子国土基本図を用いて海岸線が0.1km以上の島を数えなおしたところ、日本には14,125の島があると発表しました。

14,125も島がある日本で、最も多くの島を持つ都道府県はどこでしょうか。それは長崎県で、1,479もの島があり、③長崎県の面積の約4割を島が占めています。長崎市にある、④江戸時代にオランダとの貿易の拠点となった出島は、「日本初の本格的な人工の島」とも呼ばれますが、現在では島の周囲が埋め立てられ、本土と陸続きになっています。

2番目に島の数が多い都道府県は、1,473島がある北海道です。⑤北方領土の3島について、北海道で4番目に大きな島は利尻島で、利尻富士ともよばれる利尻山という火山の島です。北海道で5番目に大きな島は奥尻島で、1993年の⑥地震では数mもの津波に襲われて大きな被害が出たことでも知られています。また北海道には、無人島としては日本最大の面積を持つ渡島大島もあります。

3番目に島の数が多い都道府県は1,256島を持つ鹿児島県で、世界遺産に登録されている屋久島や奄美大島、徳之島などがあります。また、奄美大島の北の十島村には宝島という島があり、⑦1824年にイギリス人が来島し、幕府の役人との間で小規模な戦いが行われたことでも知られています。

著作権の関係上、非表示にしています。

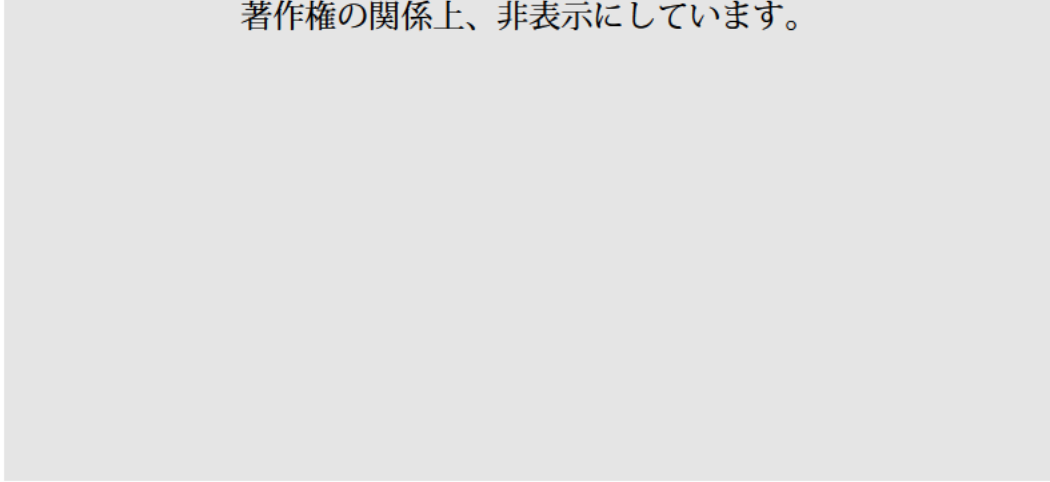
海がなければ島もないと思うかもしれませんが、北海道の⑧洞爺湖や阿寒湖など、湖の中に島がある場所もあります。国土地理院の調べた14,125の島には、湖沼にある島や人工的に作られた島は含まれていません。

湖にある島にも人が住んでいることがあります。島根県の中海に浮かぶ大根島や江島がそれにあたります。2005年までは、この2島と周辺の小さな島だけで八束町という地方自治体を構成していました。

埼玉県と同じく滋賀県も海に面していませんが、琵琶湖には沖島という、200人ほどの人が住んでいる島があります。大根島や江島は本州と橋でつながっていますが、沖島に渡る橋はなく、船でしか行くことができません。沖島には小学校がありますが、⑨高齡化・過疎化が進む沖島では、小学生の数が少なくなっています。そのため、島の外から通う生徒を募集したり、オンラインで他の小学校と交流も行ったりしています。

海に面している都道府県では、大阪府だけ島がありません。ただし大阪府には関西国際空港や、来年度に⑩大阪万博が開かれる予定の夢洲など、人工的に作られた島がいくつか見られます。

著作権の関係上、非表示にしています。



問1 下線部①に関連して、海に面していない県は埼玉県以外にも7つありますが、その7つのうちで最も東にある県庁所在地名を漢字で答えなさい。

問2 下線部②に関連して、海上保安庁を管轄する省として正しいものを、次のア～エから一つ選び、記号で答えなさい。

ア 外務省      イ 環境省      ウ 国土交通省      エ 防衛省

問3 下線部③に関連して、長崎県には大きな島がいくつかありますが、次のア～エのうち、長崎県にないものを一つ選び、記号で答えなさい。

ア 天草諸島      イ 壱岐      ウ 五島列島      エ 対馬

問4 下線部④に関連して、出島のオランダ人は、貿易をするだけでなく、蘭学も日本にもたらしました。江戸時代のオランダや蘭学についての説明として最も適切なものを、次のア～エから一つ選び、記号で答えなさい。

ア 幕府は鎖国中でも、出島のオランダ商館長に、海外の出来事を記した報告書を提出させ、海外の情報を手に入れていた。

イ 将軍が代替わりするたびに、オランダ通信使が出島から江戸に出向いて将軍にあいさつし、オランダ産の生糸や木綿を将軍に献上した。

ウ 徳川綱吉はキリスト教に関係ないオランダ語の本を輸入することを解禁し、昌平坂学問所で蘭学を教えさせた。

エ 江戸時代後半になると、全国各地にあった寺子屋で、百姓や町人の子どもたちに、蘭学の知識にもとづいた数学や、オランダ語が教えられた。

- 問5 下線部⑤に関連して、北方領土は北方四島ともいわれますが、3つの島と1つの群島から成っています。その群島の名前を、解答欄に合うように漢字で答えなさい。
- 問6 下線部⑥に関連して、日本を襲う巨大地震の発生源として警戒されているのが、駿河湾から九州東方沖まで続く海底にある、深さ約4,000mの細長い溝です。この溝の名前を答えなさい。
- 問7 下線部⑦に関連して、この事件を知った江戸幕府は、翌年の1825年に、日本沿岸に無許可で来航した外国船を、見つけ次第砲撃することを命じる法令を出しました。この法令の名前を漢字で答えなさい。
- 問8 下線部⑧に関連して、洞爺湖は、2008年にG 8洞爺湖サミットが行われ、8か国の首脳が会議を行いました。2023年に広島で行われたサミットはG 7、つまり7か国の首脳によって行われました。洞爺湖サミットには参加したが、広島サミットには参加していない国の名前を答えなさい。
- 問9 下線部⑨に関連して、沖島の高齢化・過疎化の原因のひとつとして、漁業以外に目立った産業がないことがあげられます。沖島では、ただ漁業を行うだけでなく、取れた魚を加工して「沖島の味」として販売することで島おこしをはかっています。このように、漁業や農業をする人が集まって、生産だけでなく、自分たちで工場での加工や店での販売まで行う取り組みを何と言いますか、答えなさい。
- 問10 下線部⑩に関連して、大阪万博の公式キャラクターである、ミャクミャクとして正しいものを、次のア～エから一つ選び、記号で答えなさい。

著作権の関係上、非表示にしています。

## 文章2

日本の東西南北の端も、すべて島にあります。このうち、日本最北端の択捉島は、沖縄島の2倍以上の面積があります。択捉島には留別村、紗那村、薬取村の3村がありますが、現在はロシアの実効支配下に置かれているため、日本の⑩村役場はなく、日本国民の住民もいません。ロシア国民は択捉島全体で6,000人以上住んでいるものの、日本は択捉島の3村の人口を調査できないので、日本の統計上では住民を0人として扱っています。

日本最南端である沖ノ鳥島は、東西4.5km、南北1.7kmのサンゴ礁の小さな島です。このサンゴ礁は干潮時に陸地となる部分がありますが、満潮時はそのほとんどが沈み、あわせて10miの2つの小島がわずかに残るだけになります。⑫「海洋法に関する国際連合条約」では、満潮時に沈んでしまう陸地は島とは認められません。ですから、日本政府は⑬この小島が波で削られて小さくなって沈んでしまうことを防ぐため、周囲をコンクリートなどで保護しています。

沖ノ鳥島から一番近い島は、沖縄県にある沖大東島という島です。この島は現在無人島ですが、近くには人が住む北大東島と南大東島という島があります。両島とも、沖縄島から東に360kmほど離れていて、その間に全く島がなく、交通不便なため長らく無人島でした。1885年に日本政府が正式に日本領と宣言し、1900年に玉置商会という会社が、⑭伊豆諸島の八丈島から開拓団を南大東島に送ったことで有人島となりました。南北大東島は沖縄島からあまりにも遠いため、開拓当初は行政機関が一切置かれず、会社が島を統治しました。⑮島民は国の選挙権があっても投票することができず、お金も日本円ではなく⑯会社が発行するいわゆる「大東島紙幣」が使われました。1946年にアメリカの軍政下に入った際、初めて地方自治体である北大東村と南大東村が発足しました。

日本最東端である南鳥島も、⑰気象庁職員や海上自衛隊員などが常駐していますが、沖ノ鳥島と同じように、一般の人は特別な許可がなければ訪れることはできません。

日本最西端は⑱与那国島の西崎とされていましたが、2019年に国土地理院が地図を改訂した際に、西崎の110m西にあるトゥイシという小島が掲載され、これが新しい最西端になりました。なお、西崎には一般の人でも立ち入ることができ、西崎からトゥイシを見ることができます。

著作権の関係上、非表示にしています。

著作権の関係上、非表示にしています。

問11 下線部⑩に関連して、宝島のある十島村は、7つの島に756人が分かれて住んでいます。十島村の村役場はどの島にもなく、鹿児島市の港の近くにありま。村内に村役場があるよりも鹿児島市にある方が住民にとって都合がよいからですが、その理由を【表1】と【表2】を参考にして、考えて説明しなさい。

著作権の関係上、非表示にしています。

著作権の関係上、非表示にしています。

問12 下線部⑫に関連して、条約は、ある国がその内容に合意して参加することで、その国は条約の取り決めに従うこととなります。現在の日本で、条約を結ぶことができる機関が、他にもできることとして正しいものを、次のア～エから一つ選び、記号で答えなさい。

- ア 通常国会を召集する。
- イ 弾劾裁判を行う。
- ウ 最高裁判所の長官を指名する。
- エ 法律が憲法に違反していないか判断する。

問13 下線部⑬に関連して、沖ノ鳥島の2つの小島が満潮時に沈んでしまうと、日本は排他的経済水域を大きく失うこととなります。

(1) 沖ノ鳥島が沈んでしまうと失うことになる排他的経済水域の面積として最も近いものを、次のア～エから一つ選び、記号で答えなさい。

- ア 400km<sup>2</sup>                      イ 4,000km<sup>2</sup>
- ウ 40,000km<sup>2</sup>                エ 400,000km<sup>2</sup>

(2) 沖ノ鳥島が沈んでしまう危険性は、地球温暖化で海水面が上昇することにより高まります。地球温暖化の原因である二酸化炭素などの温室効果ガスを減らす取り組みについて述べた文として正しいものを、次のア～エから一つ選び、記号で答えなさい。

- ア 温室効果ガスは先進国が多く排出している<sup>はたしゆつ</sup>ので、排出量の少ない発展途上国の排出枠を先進国が購入することにより、各国の排出量を均等にすることをカーボンニュートラルという。
- イ 温室効果ガスの排出について、削減<sup>さくげん</sup>しきれなかった分を、他の場所で排出削減や吸収の取り組みをしたり、そのような事業に出資したりすることをカーボンオフセットという。
- ウ 大気中の二酸化炭素はゼロに近ければ近いほど望ましいので、大気中の二酸化炭素量をゼロにすることを目指す取り組みをゼロエミッションという。
- エ 二酸化炭素は炭素が燃えて酸素と結びつくことで発生するので、将来的に地上から炭素をなくしていくことを目指し、それを達成した社会を脱炭素社会という。

問14 下線部⑭に関連して、八丈島には、同じ伊豆諸島の大島に島流しになった源為朝<sup>ためとも</sup>にまつわる伝説がいくつか残されています。源為朝は、父である源為義<sup>ためよし</sup>とともに崇徳上皇側につき、後白河天皇側についた兄である源義朝<sup>よしとも</sup>と戦いました。このできごとを何と言いますか、答えなさい。

問15 下線部⑮に関連して、日本では1925年に普通選挙法が制定され、25歳以上の男性に選挙権が与えられました。政府にとって普通選挙が行われると都合の悪いことがあったので、同じ年に別の法律も作りました。この法律の名前を漢字で答えなさい。

問16 下線部⑯に関連して、会社は自由に「大東島紙幣」を発行できましたが、紙幣を大量に発行しても島が豊かになるわけではありません。紙幣を大量に発行しても、島が豊かにならない理由を、価値という言葉を用いて、わかりやすく説明しなさい。


問17 下線部⑰に関連して、気象庁職員や海上自衛隊員は公務員にあたります。公務員は憲法第15条により、「全体の  であつて、一部の  ではない」と定められています。 に当てはまるものを、次のア～エから一つ選び、記号で答えなさい。

ア 管理者      イ 主権者      ウ 奉仕者      エ 立法者



問18 下線部㊸に関連して、西を「いり」と読むのは、沖縄に伝わる独自の読み方です。このように沖縄には独自の文化があります。沖縄の伝統的工芸品に琉球びんがたがありますが、以下のうち、琉球びんがたの写真として最も適切なものを、次のア～エから一つ選び、記号で答えなさい。

著作権の関係上、非表示にしています。



### 文章 3

国土交通省は、本州、北海道、九州、四国、沖縄島を本土とし、それ以外を離島りとうとしています。日本で最も大きな離島は択捉島で、2番目に大きな離島は国後島です。この2つの島は沖縄島より大きいです。沖縄島の次に大きな島は佐渡島です。かつては⑱順徳上皇や日蓮などの歴史上の人物が、佐渡島に島流しになりました。⑳島流しになった人により、佐渡島に京都から文化が伝えられることもありました。江戸時代には、昨年世界遺産に登録された金山の開発が進み、また北前船の寄港地として、経済や文化が繁栄はんえいしました。

本土である本州なども、日本にある14,125の島に含まれます。一般的には、㉑オーストラリア以上の広さをもつ陸地が大陸、それより小さいものは島とされます。日本の本州は世界で7番目に大きな島になります。

世界で一番大きな島は、大部分が北極圏にあるグリーンランドです。日本の約6倍の面積がありますが、人口は6万人弱しかありません。氷におおわれた島ですが、10世紀に「赤髪あかがみのエリク」という人物が開拓を試みた際、㉒事実と異なる「緑の土地」と名付けて、ともに開拓する仲間を集めたという説があります。

㉓インドネシアには日本の面積より大きい島が3つあります。そのうち世界で2番目に大きい㉔ニューギニア島と、3番目に大きい㉕カリマンタン（ボルネオ）島は、他の国にもまたがっています。そして㉖ジャワ島は、面積では世界13番目ですが、人口が約1億3,700万人と、世界で最も多くの人々が住む島です。日本の本州は世界で2番目に人口の多い島で、人口が1億人を超える島は世界でこの2つしかありません。

本州の次に大きい、世界で8番目に大きな島は、本校の高校2年生がフィールドワークで行く、イギリスのグレートブリテン島です。その次に大きな、世界で9番目に大きい島が、カナダにあるヴィクトリア島です。ヴィクトリア島という名前は、19世紀にカナダを治めていた、イギリスの㉗ヴィクトリア女王にちなんで名づけられました。

今回は日本や世界の様々な島についてふれてみました。埼玉県に島はありませんが、皆さんもぜひ、これを機会に島にまつわる様々なことを調べてみてください。

問19 下線部㉑に関連して、順徳上皇は、1221年に父の上皇が幕府を倒すために挙兵したことに協力したものの、幕府に敗れたために佐渡島に流されました。この1221年に発生したできごとを何と言いますか、答えなさい。

問20 下線部㉒に関連して、佐渡島は能楽が盛んな島として知られています。その理由の一つに、室町時代にある人物が京都から佐渡島に流されたことがあげられます。父と共に能楽を大成し、『風姿花伝』を書いたことでも知られる、この人物の名前を漢字で答えなさい。

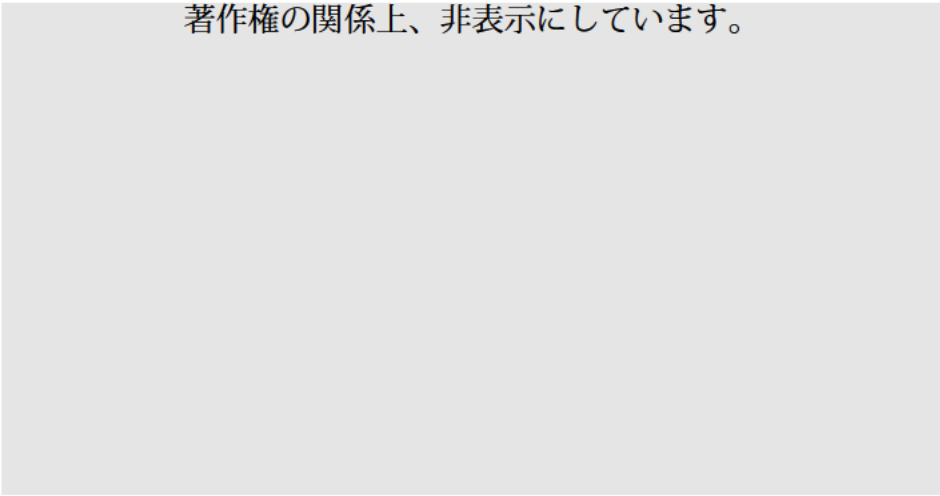
問21 下線部㉓に関連して、オーストラリアの経済の中心はシドニーです。次のア～エの雨温図は、それぞれシドニー、さいたま市、シンガポール、ロンドンのものですが、シドニーにあたるものを選び、記号で答えなさい。

著作権の関係上、非表示にしています。

問22 下線部⑳に関連して、インターネットには事実と異なる情報が出回ることがあるので注意が必要です。こうした誤ったニュースのことを  ニュースということがあります。 に入る言葉をカタカナで答えなさい。

問23 下線部㉑に関連して、インドネシアは日本と同様、稲作が盛んなことで知られています。この写真の建物は、収穫したもみを乾燥させ、出荷するまで温度を管理しながら保存するためのものですが、これを何と言いますか。カタカナで答えなさい。

著作権の関係上、非表示にしています。



問24 下線部㉒に関連して、ニューギニア島は太平洋戦争の戦場となり、多くの日本兵が感染症や栄養失調で亡くなったことで知られています。次のア～エは、いずれも太平洋戦争中のできごとですが、起こった順に並びかえて、解答欄に合うように答えなさい。

- ア 真珠湾攻撃                      イ 広島に原爆投下  
ウ ミッドウェー海戦              エ ポツダム宣言受け入れ

問25 下線部㉓に関連して、カリマンタン島をはじめとするインドネシア各地では、数多くの高床式の住居が見られます。かつては日本でも、高床式の倉庫がよく利用されていました。

- (1) 高床倉庫は、すでに弥生時代に、収穫した米を保管するためなどに使われていました。静岡市にある、弥生時代の代表的な遺跡の名前を、解答欄に合うように漢字で答えなさい。
- (2) 奈良市にある正倉院も、高床式が採用されています。正倉院は、聖武天皇の使っていた品々を、東大寺の大仏にささげるために、聖武天皇の後である光明皇后により建てられました。光明皇后の父は、大宝律令をつくったことで有名ですが、この人物の名前を漢字で答えなさい。

問26 下線部㉔に関連して、ジャワ島では、2023年に最高時速350kmの高速鉄道が開業しました。この高速鉄道建設を支援したのが中国です。この支援は、中国を起点にユーラシア大陸全域や南太平洋を結ぶ経済圏を築こうという構想に基づいて行われました。中国が進めている、この経済圏構想を何と言いますか。漢字4文字で答えなさい。

問27 下線部㉕に関連して、ヴィクトリア女王の次にイギリス王になったのは、息子であるエドワード7世で、彼の後を継いで次のイギリス王になったのは、息子のジョージ5世です。日本の国会議員でも、子どもが親のあとを継いで議員になる例は多くあります。このような議員は  議員と呼ばれますが、  に入る言葉を漢字2文字で答えなさい。

問題は以上です。

問1		問2		問3		問4	
問5	群島	問6					
問7		問8					
問9		問10					

※

問11							
-----	--	--	--	--	--	--	--

問12		問13 (1)		(2)			
問14				問15			

問16							
-----	--	--	--	--	--	--	--

※

問17		問18	
-----	--	-----	--

問19		問20	
-----	--	-----	--

問21		問22	
-----	--	-----	--

問23			
-----	--	--	--

問24	→	→	→
-----	---	---	---

問25 (1)		遺跡	(2)	
---------	--	----	-----	--

問26				
-----	--	--	--	--

※

問27		
-----	--	--

座席番号

受験番号	氏名

※