

令和7年度 第1回入試 入学試験問題

# 社 会

氏 名	
-----	--

## 受験上の注意

1. 試験時間は30分間です。
  2. 解答用紙の座席番号と、机に貼られている座席番号が合っているかを確認してください。
  3. 試験監督の指示に従って、問題冊子には氏名を、解答用紙には受験番号・氏名を書いてください。
  4. 印刷が読みにくかったり、解答用紙が破れたり汚れたりした場合は、静かに手をあげて試験監督に知らせてください。
  5. 気分が悪くなったときは、静かに手をあげて試験監督に知らせてください。
  6. 問題を解き終わっても、途中退室はできません。
- ※ 字数制限のある問いでは、句読点や符号（ ， 。 「 」など）も1字と数えます。

1 次の文章を読み、あとの問いに答えなさい。

日本は、その位置・地形・地質・気象など複数の条件から、自然災害が発生しやすく、特に地震や火山活動などが多い国です。その原因として、日本列島は4枚の( 1 )が会うところに位置していることが挙げられます。直近の火山活動としては、2014年に発生した①長野県と②岐阜県にまたがる( 2 )での噴火が知られています。日本には気象庁が選定する活火山が111(2017年現在)ありますが、③四国地方には活火山がありません。また、国土の多くが山地であるため、④河川は急勾配で流れも速く、短時間で増水しやすい構造になっています。気候の面では、おおむね温帯に位置し四季があるため、台風・大雨などの気象によって⑤土砂災害が発生しやすい条件下にあります。

災害大国の日本で暮らす私たちは、災害のリスクが常に身近にあることを意識して生活する必要があります。そして、⑥どのような災害が自分や家族の身に降りかかる可能性があるかを自治体のWebサイトなどで調べ、リスクに備えることが重要です。

問1 文章中の( 1 )に当てはまる語句をカタカナで書きなさい。

問2 下線部⑥について、長野県の県庁所在地における雨温図として正しいものを次のア～エから1つ選び、記号で答えなさい。

著作権の関係上、非表示にしています。

問3 下線部②について、岐阜県の伝統的工芸品として正しいものを次のア～エから1つ選び、記号で答えなさい。

ア 加賀友禅      イ 会津塗      ウ 美濃焼      エ 越前和紙

問4 文章中の( 2 )に当てはまる語句として正しいものを次のア～エから1つ選び、記号で答えなさい。

ア 大雪山      イ 御嶽山      ウ 榛名山      エ 岩木山

問5 下線部③について、次の表は、四国地方の県が関係する、ある野菜・果実の収穫量の全国に占める割合(2021年)を示したものです。表X～Zに当てはまる野菜・果実の組み合わせとして正しいものを下のア～カから1つ選び、記号で答えなさい。

著作権の関係上、非表示にしています。

ア	X さつまいも	Y みかん	Z 日本なし
イ	X さつまいも	Y かき	Z キウイフルーツ
ウ	X だいこん	Y みかん	Z いちご
エ	X だいこん	Y かき	Z いちご
オ	X にんじん	Y みかん	Z キウイフルーツ
カ	X にんじん	Y かき	Z 日本なし

問6 下線部④について、(1)・(2)の問いに答えなさい。

(1)「日本最後の清流」といわれる、高知県を流れる河川の名称を漢字で書きなさい。

(2)日本には「三大急流」と呼ばれる河川があります。その河川を次の【語群】のア～コから選び、流域が西から順になるように解答欄に従って記号で答えなさい。

【語群】

ア 石狩川    イ 利根川    ウ 長良川    エ 球磨川    オ 信濃川  
カ 北上川    キ 富士川    ク 千曲川    ケ 最上川    コ 木曾川

問7 下線部⑤について、土砂災害を防ぐためには森林の役割が重要とされています。

これに関連する(1)・(2)の問いに答えなさい。

(1)日本の国土に対する森林面積の割合として適切な数値を、解答欄に従って書きなさい。

(2)日本における林業従事者は、近年減少傾向にあります。その理由を、国内の事情と、国際的な事情の観点からそれぞれ簡潔に説明しなさい。

問8 下線部⑥について、1959年に発生した伊勢湾台風による大きな被害を受けて、国土ならびに国民の生命、身体および財産を災害から保護するために、1962年に施行された法律の名称を書きなさい。

## 2 あとの問いに答えなさい。

問1 次の【写真】 a・bと、関連する【説明】 X・Yとの組み合わせとして正しいものを下のア～エから1つ選び、記号で答えなさい。

著作権の関係上、非表示にしています。

【説明】 X 穂先をつみ取る穂首刈りが行われていた。  
Y 比較的薄手で硬く、米の煮炊きに用いられた。

ア a—X      イ a—Y      ウ b—X      エ b—Y

問2 7世紀末、天武天皇のころにつくられた日本最古の貨幣の名称を漢字で書きなさい。

問3 大宝律令のもとでは、公地公民制の原則にのっとり、班田収授が行われました。次の資料Ⅰ・資料Ⅱを読み、(1)～(3)の問いに答えなさい。なお、資料は一部要約しています。

著作権の関係上、非表示にしています。

- (1) 大宝律令の制定に関わった、中臣鎌足の子の人物名を漢字で書きなさい。
- (2) 資料Ⅰ・資料Ⅱから読み取れる内容として誤っているものを次のア～エから1つ選び、記号で答えなさい。
- ア この家族に与えられる口分田の面積は合計で8段である。
  - イ 女子1人に与えられる口分田は1段120歩である。
  - ウ 計帳には個人を特定するため、特徴や健康状態などが記載された。
  - エ 口分田は6歳になった時、全ての人に与えられた。

(3) 大宝律令は「律」と「令」が初めて同時に出されたものですが、律と令のそれぞれの内容を解答欄に従って簡潔に説明しなさい。

問4 次のできごとを時代順に並べ替えた時、3番目になるものをア～エから1つ選び、記号で答えなさい。

ア 源義経によって追い詰められた平氏一門は、壇の浦で滅亡した。

イ 坂上田村麻呂は征夷大將軍に任命され、蝦夷征討のため東北へ遠征を行った。

ウ 鳥羽法皇の死後、皇族や摂関家内部の対立が激しくなり、京都で内乱が起こった。

エ 菅原道真は、唐の衰退と航路の危険性を理由に遣唐使廃止を天皇に訴えた。


問5 鎌倉幕府滅亡後、足利尊氏や新田義貞など有力御家人を味方につけ親政を行った天皇を、解答欄に従って漢字で書きなさい。

問6 3代將軍徳川家光によって定められ、主従関係の確認のために大名を江戸に来させた制度の名称を漢字で書きなさい。

問7 江戸幕府滅亡後、鳥羽・伏見の戦いをきっかけに旧幕府軍と新政府軍との間で戦いが行われました。この一連の戦いの名称を漢字4文字で書きなさい。

問8 次のア～エは、それぞれある時期における日本の領土を示した地図です。時代順に並べ替えた時、3番目になるものをア～エから1つ選び、記号で答えなさい。

著作権の関係上、非表示にしています。





問9 次の【人物】 a・bと、関連する【文章】 X・Yとの組み合わせとして正しいものを下のア～エから1つ選び、記号で答えなさい。

【人物】 a 平塚らいてう      b 市川房枝

【文章】 X 元始、女性は実に太陽であった。真正の人であった。今、女性は月である。他によって生き、他の光によって輝く病人のような蒼白い顔の月である。

Y 天は人の上に人を造らず、人の下に人を造らずと云<sup>い</sup>へり。されば天より人を生ずるには、万人は万人、皆同じ位にして、生れながら貴<sup>き</sup>賤<sup>せん</sup>上下の差別なく…

ア a—X      イ a—Y      ウ b—X      エ b—Y

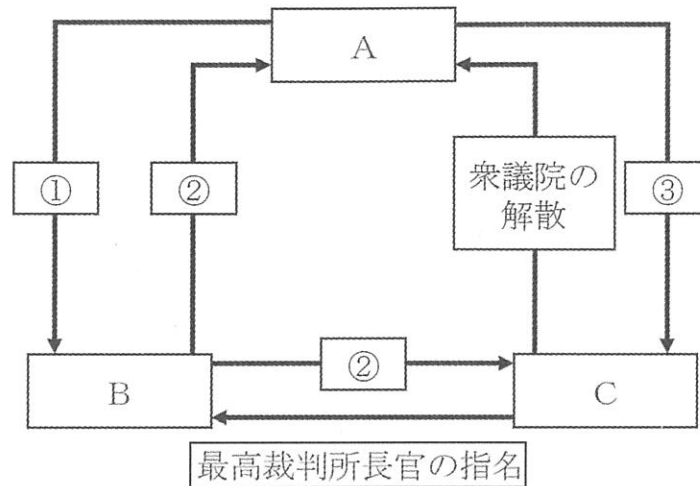
問10 日本人で初めてノーベル物理学賞を受賞した人物名を漢字で書きなさい。

問11 太平洋戦争終結後の日本の様子として誤っているものを次のア～エから1つ選び、記号で答えなさい。

著作権の関係上、非表示にしています。

# 3

A 次の図を見て、あとの問いに答えなさい。



問1 図中の ① ~ ③ に当てはまる語句の組み合わせとして正しいものを次のア~カから1つ選び、記号で答えなさい。

- |   |            |            |            |
|---|------------|------------|------------|
| ア | ① 内閣不信任の決議 | ② 違憲審査権    | ③ 国会召集の決定  |
| イ | ① 内閣不信任の決議 | ② 国会召集の決定  | ③ 弾劾裁判所の設置 |
| ウ | ① 弾劾裁判所の設置 | ② 内閣不信任の決議 | ③ 国政調査権    |
| エ | ① 弾劾裁判所の設置 | ② 違憲審査権    | ③ 内閣不信任の決議 |
| オ | ① 国会召集の決定  | ② 国政調査権    | ③ 違憲審査権    |
| カ | ① 国会召集の決定  | ② 弾劾裁判所の設置 | ③ 違憲審査権    |

問2 図中の A ~ C に当てはまる機関の名称をそれぞれ漢字で書きなさい。

問3 次のX・Yの文を読み、下線部の語句が正しく使用されている場合には○を、誤っている場合には適切な語句をそれぞれ書きなさい。

X 最高裁判所の裁判官は、国民投票により、投票者の過半数がその裁判官をやめさせたほうが良いと判断した場合、罷免されます。

Y 目標の達成や自分たちの利益のために、国民の意見や考えをまとめ、世論という形で内閣に影響を与える団体を地方公共団体といいます。

B 次の文章と日本の主な税収の推移が示されているグラフを読み、あとの問いに答えなさい。

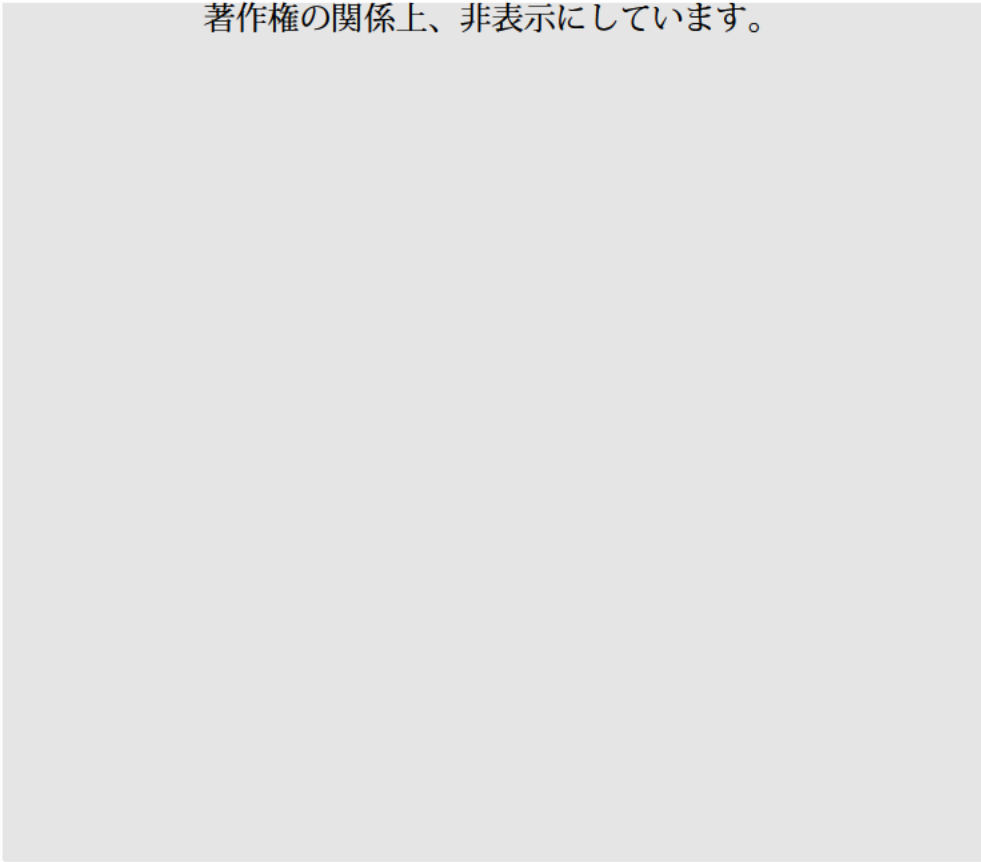
文章

日本では財政赤字が拡大しています。特に①社会保障関係費は増加傾向にあり、国は対策として、1989年から  による②税収確保に努めていますが、それだけでは不足している状況です。

財政赤字が続くと、一般に  ことが予想されるため、現在の状況を改善する必要があると言われてしています。

グラフ

著作権の関係上、非表示にしています。



問1 下線部①について、この理由として誤っているものを次のア～エから1つ選び、記号で答えなさい。

- ア 介護報酬ほうしゅうが上昇傾向にあるから。
- イ 薬の価格が上昇傾向にあるから。
- ウ 年金給付費が上昇傾向にあるから。
- エ 少子化対策費が上昇傾向にあるから。

問2 文章中の「あ」の推移を示すグラフとして正しいものをグラフ中のA～Cから1つ選び、記号で答えなさい。

問3 下線部②について、税を負担する人と税を納める人が同一の税金の種類の名称を漢字で書きなさい。

問4 文章中の「い」に当てはまる文として最も適当なものを次のア～エから1つ選び、記号で答えなさい。

- ア 円安が進み、海外へのモノの輸出が減る
- イ 円高が進み、海外へのモノの輸出が増える
- ウ 現役世代の負担が増える
- エ 将来世代の負担が増える

問5 グラフ中のAが示す税についての説明として正しいものを次のア～エから1つ選び、記号で答えなさい。

- ア この税金は、2024年6月に政府による定額減税が実施された。
- イ この税金は、累進課税が適用されていない。
- ウ この税金は、低所得者ほど税負担が重くなる。
- エ この税金は、地方税に分類される。

**4** 2024年7月から新紙幣が発行されました。近年、電子決済の普及が進む中で現金を持ち歩くメリットは何ですか。あなたの意見を50字以内で書きなさい。

問題は以上です。







