

2025 年度

昭和学院秀英中学校

第 1 回入学試験

問題用紙

社会

- ※ 試験開始の合図があるまで、この冊子を開かないでください。
- ※ 解答用紙には、指定のシールを貼<sup>は</sup>り、受験番号を記入してください。
- ※ 解答は、解答欄<sup>らん</sup>からはみ出さないように記入してください。
- ※ 試験終<sup>しゅうりょう</sup>了後は、解答用紙を提出し、この冊子は持ち帰ってください。

※このページには問題はありません。

※このページには問題はありません。

1 日本の自然災害について述べた次の文章を読み、以下の設問に答えなさい。

日本には様々な①自然災害がみられる。わが国には世界の約7%に当たる111の②活火山が分布し、マグニチュード6.0以上の地震の約21%が集中する。③洪水や土砂災害も発生しやすい。いくつかの災害が同時あるいは連続して発生する災害は、「複合災害」と呼ばれる。大地震に伴い、原発事故や、埋立地や河川の跡などで〔 〕現象の被害が生じた東日本大震災は複合災害である。

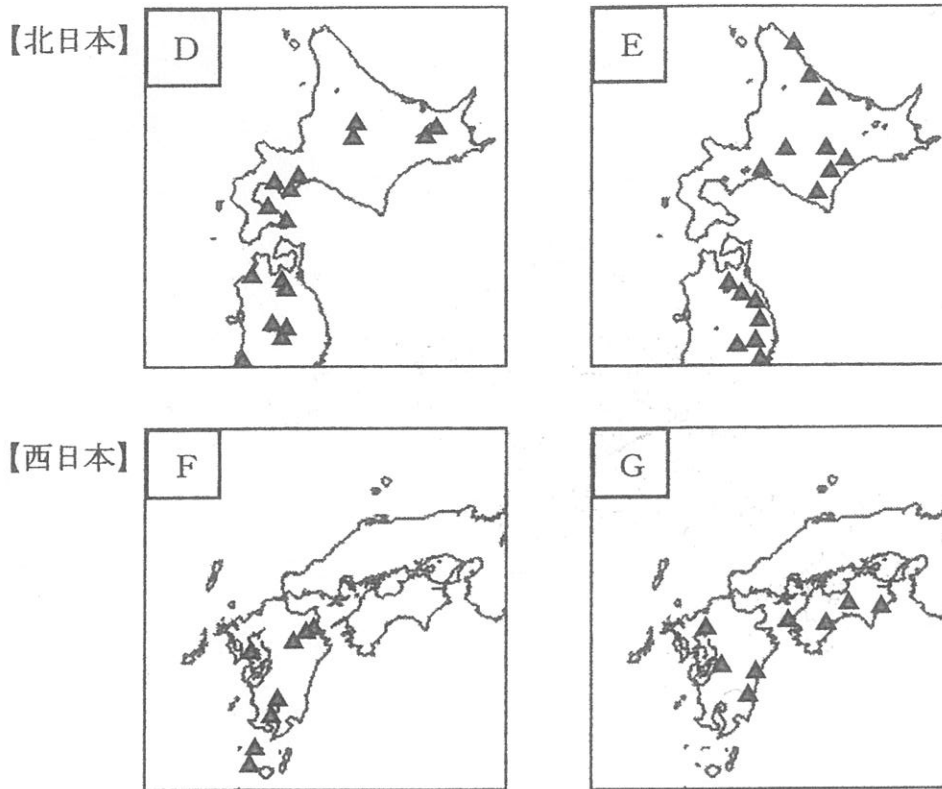
問1 下線部①に関連して、次の写真1中のA～Cは火山噴火、洪水、津波のいずれかによる災害に備えてつくられた設備です。A～Cと災害との組合せとして最も適当なものを下のア～カより一つ選び、記号で答えなさい。

著作権の関係上、非表示にしています。

	ア	イ	ウ	エ	オ	カ
A	火山噴火	火山噴火	洪水	洪水	津波	津波
B	洪水	津波	火山噴火	津波	火山噴火	洪水
C	津波	洪水	津波	火山噴火	洪水	火山噴火

問2 下線部②に関連して、次の図1中のD～Gは北日本と西日本における主な活火山\*の分布を示します。分布の正しい組合せを下のサ～セより一つ選び、記号で答えなさい。

\*火山監視・警報センターにおいて火山活動が24時間体制で監視されている火山。



気象庁の資料により作成。

図 1

	サ	シ	ス	セ
北日本	D	D	E	E
西日本	F	G	F	G

問3 下線部③に関連して、次の図2は雨量と、河川の水位の変化を模式的に示したものです。図2中のX・Yは、都市化が進んだ地域を流れる河川と、進んでいない地域を流れる河川のいずれかです。都市化が進んだ地域を流れる河川に当たるものはどちらか、そのように判断した理由とともに以下の語句をすべて用いて60字以内で答えなさい。語句は繰り返し用いてもよいが、使用した語句には下線を引きなさい。

語句 緑地 地面

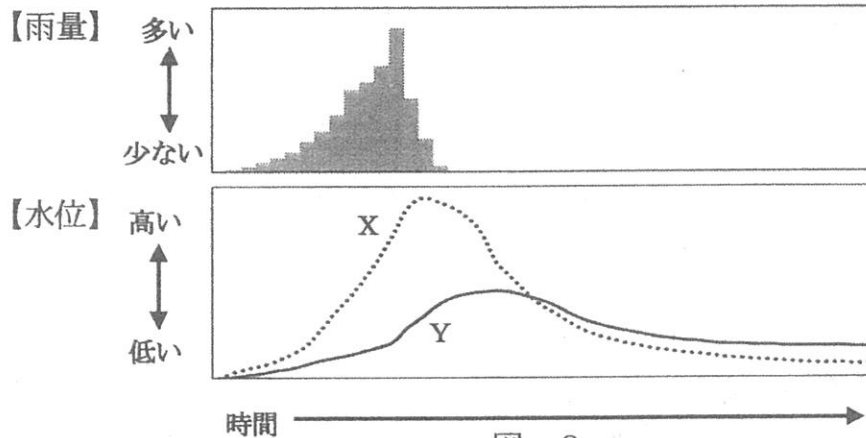


図 2

問4 文章中の〔 〕に当てはまる最も適切な語句を答えなさい。

2 市町村別に区分された次の図1を見て、北海道地方に関する以下の設問に答えなさい。

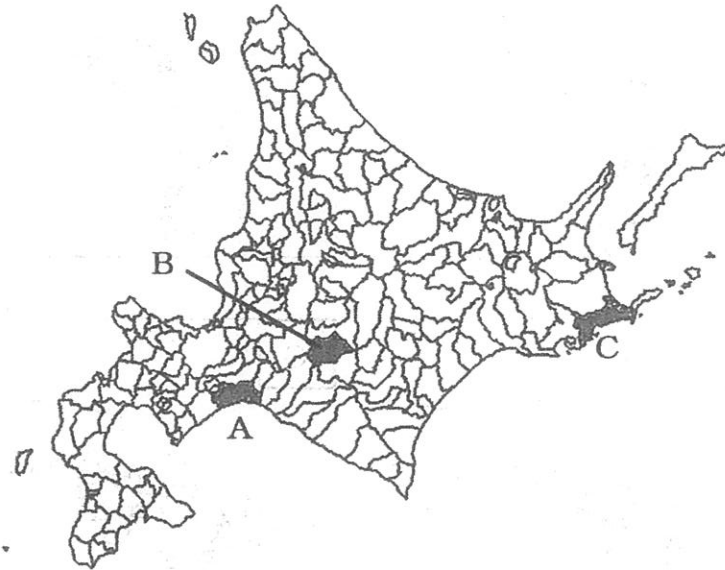
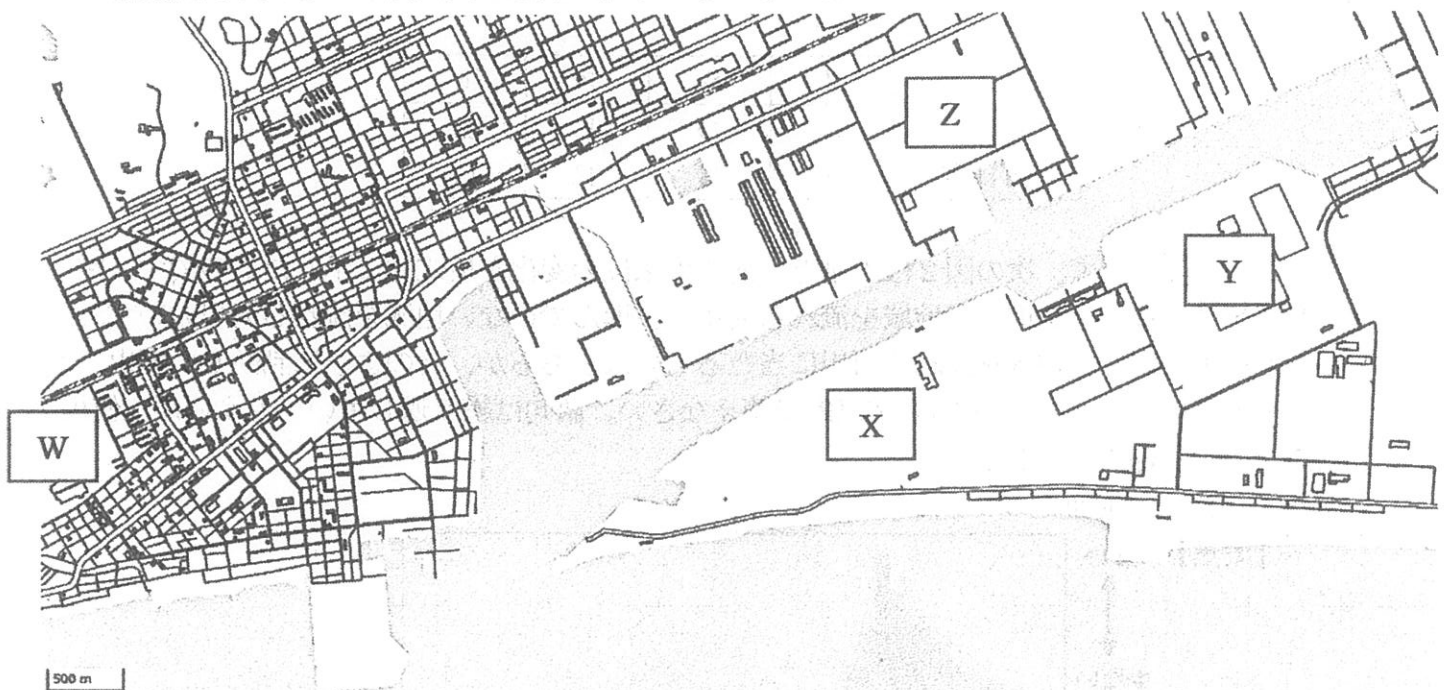


図 1

問1 図1中のAは、道央を代表する重化学工業の盛んな都市です。図2は、図1中のAの工業集積地を拡大したものです。図2を見て、下の①・②の各設問に答えなさい。



W：製紙パルプ工業    X：石油精製業    Y：自動車工業    Z：金属工業

地理院地図により作成。

図 2

- ①この工業都市の名称を解答欄に適する形で答えなさい。
- ②この都市で工業が発達した背景に港の整備が挙げられます。図2と同じタイプの港が見られる地点を図3中のd・eより、港の説明として適当なものを説明文F・Gよりそれぞれ選び、その組合せとして最も適当なものを、次のア～エより一つ選び、記号で答えなさい。



図 3

【説明文】

- F 天然の良港をそのままいかしている。
- G 人工的に深く掘り込んでつくられている。

	ア	イ	ウ	エ
地点	d	d	e	e
説明文	F	G	F	G

問2 次の図4は、図1中のBにおける人口の変化を示します。図4について述べた下の文章中の( 1 )～( 3 )に当てはまる最も適当な語句または文の組合せを、後のカ～スより一つ選び、記号で答えなさい。

著作権の関係上、非表示にしています。

Bでは過疎化が進行し、1960年の4705人をピークに人口は減少に転じた。しかし、1980年代に( 1 )開発が進められ15～64歳の人口が回復する。1990年代には全国的な景気低迷がBの主産業にも影響を与え、人口は再び減少した。近年は主産業の再建に成功し、2015年以降は人口が回復の兆しを見せている。また、1990年と2020年を比較すると( 2 )ことがわかる。なお、2050年には20～39歳の女性の割合は、2020年に対し49.8%減少するが、総人口は38.2%の減少にとどまるとみられている。これは( 3 )によるものと考えられる。

- ( 1 ) : J 炭田 K リゾート  
 ( 2 ) : L 高齢化に歯止めがかかった M 高齢化が進行した  
 ( 3 ) : N 育児手当の支給 O 雇用機会の拡大

	カ	キ	ク	ケ	コ	サ	シ	ス
( 1 )	J	J	J	J	K	K	K	K
( 2 )	L	L	M	M	L	L	M	M
( 3 )	N	O	N	O	N	O	N	O

問3 図1中のCで盛んな産業とその理由について述べた文として最も適当なものを、次のタ～テより一つ選び、記号で答えなさい。

- タ Cは北海道内でも夏の気温が高い地域であるため、小豆生産が盛んである。  
 チ Cは北海道内でも夏の気温が高い地域であるため、酪農が盛んである。  
 ツ Cは北海道内でも夏の気温が低い地域であるため、小豆生産が盛んである。  
 テ Cは北海道内でも夏の気温が低い地域であるため、酪農が盛んである。

3 秀太さんのクラスでは、夏休みの宿題として2023年から2024年にかけての歴史に関するニュースを調べてまとめる課題が出されました。調べ学習を簡潔にまとめた次のレポート資料を読み、以下の設問に答えなさい。

資料1「西郷隆盛が大久保利通に送った手紙、約100年ぶりに見つかる」

岩倉使節団の一員としてアメリカに滞在中だった大久保利通にあてて西郷隆盛が書いた手紙が、約100年ぶりに見つかりました。手紙は①昭和二（1927）年刊行の「大西郷全集」に写真付きで紹介されていましたが、行方がわからなくなっていました。

この手紙では、「佐賀が少々動揺している」など前年に行われた②廃藩置県後の国内の不穏な状況や、島津家の動向などについて報告が行われていることがわかりました。また、大久保が送ってきた写真に対し「いかにも醜い様子だ」と記すなど、写真嫌いの西郷を象徴する有名な一文がつけられていて、この時期の③西郷隆盛と大久保利通の関係が悪くなかったことがわかります。

資料2「山口県で生産された平安時代の貨幣が見つかる」

平安時代に貨幣の鑄造所があった山口市の国史跡「周防鑄銭司跡」<sup>すおうじゆせんしあと</sup>で、日本で生産された12種類の④「本朝（皇朝）十二銭」の一つ「富寿神宝」<sup>ふじゅしんぼう</sup>が見つかりました。見つかった富寿神宝は直径23ミリ、厚さ1.5ミリ、重さ1.7グラムで818～834年に生産されたと考えられています。当時、都以外の地域では米や布が貨幣の代わりに用いられており、「本朝（皇朝）十二銭」がどの程度流通したのかはわかりません。調べた結果、⑤日本で本格的に貨幣が流通するようになったのは、鎌倉時代以降ということがわかりました。



### 資料3 「甲子園球場、今年で開場 100 年に」

2024 年は、兵庫県西宮市にある甲子園球場が開場してちょうど 100 年の節目の年となりました。甲子園球場はプロ野球・阪神タイガースの本拠地で、春と夏に高校野球の大会が行われていることでも知られています。⑥太平洋戦争の際には、球場は軍事施設として利用され、昭和二十(1945)年には空襲による攻撃を受けました。また、平成七(1995)年の阪神・淡路大震災に際して、スタンドに亀裂が入るなど一部が損傷しましたが、損傷のたびに修復されて現在も利用され続けています。甲子園球場は⑦大正・昭和・平成・令和と長い歴史を刻み続けています。

### 資料4 「山城の国一揆に関する新資料が見つかる」

室町時代、京都府南部の国人や農民らがおこした「⑧山城の国一揆」に関する文書の写しが見つかりました。この資料は、一揆を起こした国人や農民が記したもので、自治が終了した後も自分の村を自分で守ろうという自衛の意識が根強く残ったことがわかるものです。この文書には⑨1450～1590 年の内容があり、敵の軍勢に攻め込まれそうになると、国人らがひんぱんに連絡を取りあつてどこを守るかを話し合ったり、敵にスパイを送る計画を立てたりした様子などが細かく記されていたそうです。室町時代の人々が、自分の身を自分で守ろうとする考え方を持っていたことがわかりました。

### 資料5 「佐渡島の金山、世界文化遺産に登録」

新潟県の「佐渡島の金山」が世界文化遺産として登録されることが、インドの首都ニューデリーで開かれたユネスコの世界遺産委員会で決まりました。

佐渡の金山が登録された理由の一つには、ヨーロッパなど海外では機械による採掘を行っていた時期も、⑩幕府の「鎖国」の影響で手作業による採掘を続け、技術力や生産体制を高めた点にあったとされています。「佐渡島の金山」の世界文化遺産の登録は、日本国内の文化遺産としては 2021 年 7 月に登録された「⑪北海道・北東北の縄文遺跡群」以来となります。今回の決定で国内の世界遺産は、文化遺産と自然遺産あわせて 26 件となりました。

### 資料6 「藤原定家の『古今和歌集』の注釈書、原本が見つかる」

鎌倉時代を代表する歌人、⑫藤原定家 (1162～1241 年) が自筆した『古今和歌集』の注釈書「顕注密勘」の原本が見つかりました。「顕注密勘」は、藤原定家が平安時代の古今和歌集の解釈を記した注釈書で、いくつもの写しが作られていましたが、原本となる自筆の存在は知られていませんでした。藤原定家の子孫として代々、和歌の文化を受け継いできた冷泉家<sup>れいぜい</sup>で、令和四(2022)年から行われてきた調査で、⑬古今和歌集に関する資料が納められた箱の中で見つかったということです。この発見により古今和歌集に対する藤原定家自身の考えをたどることができるようになったため、専門家は「国宝級の発見」と考えています。

問1 下線部①に関連して、昭和二(1927)年7月『羅生門』、『芋粥』、『蜘蛛の糸』などの作品で知られる作家が亡くなりました。この人物として正しいものを、後のア～オより一つ選び、記号で答えなさい。

ア 夏目漱石 イ 芥川龍(竜)之介 ウ 石川啄木 エ 三島由紀夫 オ 樋口一葉

問2 下線部②に関連して、廃藩置県に関して述べた次の文 X・Y について、その正誤の組合せとして正しいものを、後のア～エより一つ選び、記号で答えなさい。

- X 廃藩置県により県が置かれたことを受けて、政府は全国を直接支配する中央集権体制をつくるため、版籍奉還を行った。
- Y 廃藩置県当初は江戸時代の藩を基準に県を置いたため、現在の都道府県の数よりも置かれた県数は少なかった。

	ア	イ	ウ	エ
X	正	正	誤	誤
Y	正	誤	正	誤

- 問3 下線部③に関連して、西郷隆盛と大久保利通は、大久保の帰国後、政府のあり方をめぐって対立しました。郷里の鹿児島に戻った西郷隆盛は、のちに大きな争乱を起こすことになります。西郷隆盛が政府に不満をもつ人々とともに起こした争乱の名称を答えなさい。
- 問4 下線部④に関連して、「本朝（皇朝）十二銭」の一つで、都で流通していた記録が残る、8世紀はじめに日本でつくられた貨幣はなんですか。その名称を答えなさい。
- 問5 下線部⑤に関連して、鎌倉時代になると、それまでの米や絹などの物々交換に代わり、貨幣が普及していきました。一方で、鎌倉・室町時代に日本国内で流通した貨幣は、江戸時代以降に国内で流通した貨幣と大きく異なる点があります。異なる点を、15字以上25字以内で説明しなさい。
- 問6 下線部⑥に関連して、太平洋戦争の展開に関して述べた次のア～オの内容を古い順に並べ、4番目になることがらを選び、記号で答えなさい。
- ア 米軍がサイパン島を占領し、ここから出撃した爆撃機による空襲が日本国内の軍事基地や都市を中心に始まった。
- イ 沖縄に上陸した米軍に打撃を与えるため、航空機や魚雷などに人員を乗せたまま敵艦に体当たりさせる特別攻撃（特攻）が行われた。
- ウ 米軍の根拠地の一つだったハワイの真珠湾を攻撃し、同時にイギリス領だったマレー半島への上陸が行われた。
- エ 太平洋上のミッドウェー島沖で日米の海軍機動部隊同士が戦い、日本側は主力空母4隻を失う敗北をした。
- オ 米軍によって広島と長崎に原子爆弾（原爆）が投下され、広島で20万人以上、長崎で14万人以上の命が奪われた。
- 問7 下線部⑦に関連して、平成年間（1989～2019）に起こった出来事について述べた文章として、正しいものを次のア～エより一つ選び、記号で答えなさい。
- ア 消費税の引き上げが行われ、3%の消費税が5%へと引き上げられた。
- イ 改正民法が施行され、成年年齢が約140年ぶりに20歳から18歳に引き下げられた。
- ウ 冷戦のなかロサンゼルスでオリンピックが開催され、ソ連などの国々が参加を取りやめた。
- エ 日本と中華人民共和国との間で日中平和友好条約が結ばれ、日中の関係が深まった。
- 問8 下線部⑧に関連して、室町時代におこった一揆に関して述べた以下の文章として、正しいものを次のア～エより一つ選び、記号で答えなさい。
- ア 所領の細分化による御家人たちの窮乏を背景にして、幕府に徳政令を要求する永仁の徳政一揆がおこった。
- イ 信仰で結びついた人々により、織田信長に降伏するまで約100年に渡って自治を行うことになる加賀の一向一揆がおこった。
- ウ 土倉や馬借などの高利貸しに対して、農民たちが団結して借金の帳消しを求める正長の土一揆

がおこった。

エ 天明のききんに際して、年貢の軽減や不正を行う代官の交代を要求する天明の百姓一揆がおこった。

問9 下線部⑨に関連して、山城の国一揆に関する新資料が見つかった1450年から1590年の期間に、日本国内で起こった出来事として、誤っているものを次のア～エより一つ選び、記号で答えなさい。

ア 有力守護大名の対立に、将軍や管領家の後継争いが絡み合い、京都で応仁の乱が発生した。

イ ポルトガル人を乗せた中国の船が九州の種子島に来航し、日本国内への鉄砲普及が始まった。

ウ 全国統一を前にして、豊臣秀吉によって全国的な土地調査である太閤検地が始められた。

エ 明との勘合貿易で得た資金をもとにして、京都の北山に金閣が建てられた。

問10 下線部⑩に関連して、幕府が貿易を統制し日本人の出入国を禁止した、いわゆる「鎖国」政策下の日本国内で起こった出来事について述べた文章として、正しいものを次のア～エより一つ選び、記号で答えなさい。

ア 「鎖国」のもとでもオランダとの関係は続き、前野良沢・杉田玄白らは、オランダ語で書かれた解剖書を翻訳した『解体新書』を出版した。

イ 「鎖国」の体制の変更を求めて、イギリスからラクスマンが根室に派遣され、漂流民を届けるとともに日本に通商を求めた。

ウ 「鎖国」のなかでも完全に国をとざしたわけではなく、松前藩を窓口として、朝鮮との貿易が行われた。

エ アメリカのペリーが来航し、日本との間で日米修好通商条約が結ばれると、「鎖国」の体制はくずれることになった。

問11 下線部⑪に関連して、次の円グラフA・Bは「鎖国」体制が作られつつあった1636年のオランダ商館における輸出額・輸入額に占める各品目の割合を示しており、A・Bは輸出・輸入のいずれかです。グラフ中の空欄(X)・(Y)に当てはまる貿易品目として、正しい組合せを後のア～クより一つ選び、記号で答えなさい。

著作権の関係上、非表示にしています。

ア	X	生糸	Y	茶	イ	X	木綿	Y	茶
ウ	X	生糸	Y	銀	エ	X	木綿	Y	銀
オ	X	銀	Y	生糸	カ	X	金	Y	生糸
キ	X	銀	Y	木綿	ク	X	金	Y	木綿

- 問 12 下線部⑪に関連して、「北海道・北東北の縄文遺跡群」の構成資産の一つとされる、青森県にある縄文時代の巨大な集落あとの残る遺跡の名称を答えなさい。
- 問 13 下線部⑫に関連して、藤原定家が生きていた平安時代の終わりから鎌倉時代のはじめの時期(1162～1241年)に起きたできごとの説明として正しいものを次のア～エより一つ選び、記号で答えなさい。
- ア 保元の乱を受けて、朝廷の監視や京都の警備、西国の統治を行うための機関である六波羅探題が京都に置かれた。
- イ 鎌倉幕府の執権北条時宗が元のフビライ(クビライ)による服属要求をこぼむと、元軍は高麗軍とともに九州北部におし寄せた。
- ウ 源頼朝は後白河上皇にせまって、諸国に地頭を、荘園などには守護を任命することを認めさせ、武士の政権である鎌倉幕府が成立した。
- エ 北条泰時によって、公平に裁判を行うための基準として御成敗式目が作られ、源頼朝以来の先例や武家社会の慣習に基づいて法が定められた。
- 問 14 下線部⑬に関連して、『古今和歌集』は平安時代のはじめに紀貫之らによって編纂された和歌集です。以下の文化財・作品のうち、平安時代に作られたものとして、正しいものを次のア～エより一つ選び、記号で答えなさい。
- ア 聖武天皇により仏教の力で世の中の不安をしずめるために、東大寺に大仏が作られた。
- イ 紫式部により、貴族社会のありさまをえがいた小説である『源氏物語』が作られた。
- ウ 鴨長明により、世のはかなさやむなしさを思いえがいた随筆である『方丈記』が作られた。
- エ 運慶や快慶により、東大寺南大門のわきに金剛力士像が作られた。

#### 4 次の文章を読み、以下の設問に答えなさい。

①2024年は国内外で大型選挙が行われた「選挙イヤー」であった。11月に実施されたアメリカ大統領選挙をめぐっては「もしも( 1 )が再当選したら」という意味をもつ造語が作られるなど、日本国内でも大きな注目を集めた。アメリカとは違い、②日本の国政では議院内閣制が採られているため、大統領職が存在せず、もちろん大統領選挙もない。日本国内では7月に、東京都民が知事を選出する選挙と( 2 )を選出する補欠選挙(辞職や死去に伴う欠員を補充するための選挙であり、該当の選挙区でのみ実施される)がそれぞれ同時に行われた。このように日本の地方自治では、地方公共団体の長と( 2 )を、その地方公共団体の住民が直接選挙する二元代表制が採用されている。

日本国内の経済、社会に目を向けると、2024年は「持続可能な社会」を見通すうえで、大きな試練を突きつけられた1年となった。1人の女性が一生の間に産む子どもの数の平均推計値である( 3 )は、日本全体の最新の統計(2023年)で( 4 )となり、過去最低を記録し少子化が加速している。また、格差や貧困に注目するうえで、2023年8月に示された③厚生労働省「令和3年(2021年)所得再分配調査」も興味深い資料である。

- 問1 文章中の( 1 )に当てはまる人名と、( 2 )に当てはまる語句をそれぞれ答えなさい。
- 問2 文章中の( 3 )に当てはまる語句を漢字7字で答えなさい。また、( 4 )に当てはまる数値を次のア～エより一つ選び、記号で答えなさい。
- ア 0.99 イ 1.20 ウ 1.33 エ 1.57
- 問3 下線部①に関連して、2024年に行われた国内外の選挙についての説明として正しいものを次のA～Cからすべて選び、その組合せとして最も適当なものを、後のア～キより一つ選び、記号で

答えなさい。

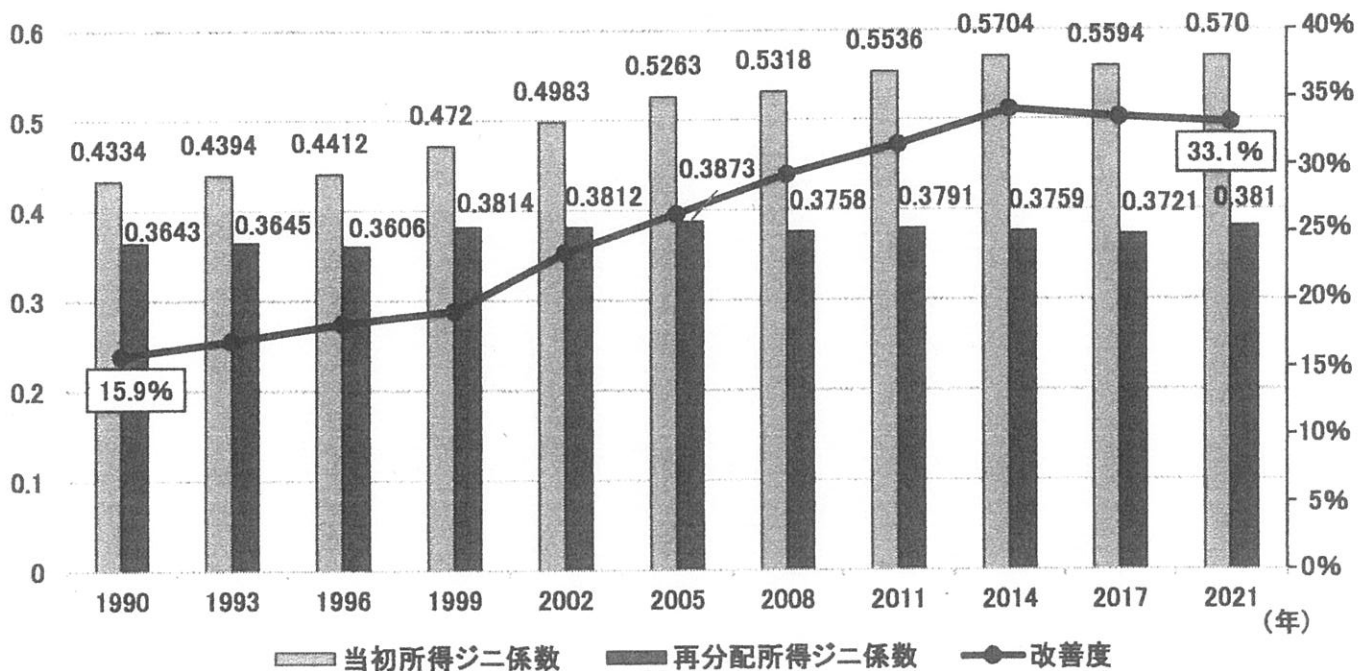
- A 日本で、衆議院解散総選挙が行われ、与党である自民党が選挙前よりも議席数を増やした。
  - B ロシアで、大統領選挙が行われ、長きにわたり国を引っ張ってきた指導者が交代した。
  - C イギリスで、議会下院選挙が行われ、政権交代が実現し労働党の新政権が発足した。
- ア A イ B ウ C エ AとB オ AとC カ BとC キ AとBとC

問4 下線部②に関連して、日本国憲法第 67 条に基づき行政の長の長がどのように選出されるかを、行政の長の役職名を明らかにしたうえで、25 字程度で説明しなさい。

問5 下線部③に関連して、後の「所得再分配によるジニ係数の改善の推移」のグラフを見て、グラフの読み取りとして正しいものを次のA～Cからすべて選び、その組合せとして最も適当なものを、下のア～キより一つ選び、記号で答えなさい。解答の際には、各用語の説明を参考にしなさい。

- ジニ係数…貧富の差を表す指標で、1に近いほど格差が大きく、格差がないときは0となる。
- 当初所得ジニ係数…国による所得の再分配がなされる前の不平等の程度を示す。
- 再分配所得ジニ係数…国による所得の再分配がなされたあとに、どの程度の不平等があるのかを示す。具体的には、当初所得から所得税などを引き、公的年金などの社会保障給付を加えたものが再分配所得である。

所得再分配によるジニ係数の改善の推移



厚生労働省HPより作成。

- A 当初所得ジニ係数を見ると、1990 年代に比べ、2000 年代以降は格差が縮小し「一億総中流社会」が形成されている。
  - B 再分配所得ジニ係数を見ると、リーマン・ショックが発生した統計年の方が、バブル崩壊後の直近の統計年よりもジニ係数が大きい。
  - C 所得再分配によるジニ係数の改善度を見ると、2000 年代以降改善度が 30%を下回った統計年はなく、社会保障・税の再分配機能に一定の効果があるといえる。
- ア A イ B ウ C エ AとB オ AとC カ BとC キ AとBとC

※このページには問題はありません。

※このページには問題はありません。

無断転載複写禁止



1

問1  問2

問3


問4

2

問1 ①  市 ②  問2  問3

3

問1  問2  問3  問4

問5


問6  問7  問8  問9  問10

問11  問12  問13  問14

4

問1 (1)  (2)

問2 (3)  (4)  問3

問4


問5



241114

↓ここにシールを貼ってください↓

ここに貼る

受験番号を記入してください。