

第1回入学試験問題

社 会

次のページを開き、試験開始の合図があるまでに、
〈解答上の注意〉を必ず読んでください。
なお、解答用紙は最終ページにはさみこんであります。

< 解答上の注意 >

- 1、問題冊子は1ページから24ページまであります。試験開始の合図後、ただちにページ数を確認してください。
- 2、問題冊子は試験終了後に回収します。
- 3、試験終了の合図で鉛筆を置き、指示に従って問題冊子と解答用紙を提出してください。
- 4、解答用紙は最終ページにはさみこんであります。

試験開始の合図があるまで次のページを開かないでください。

- 1 次の、中学3年生の淑子さんと、訪問先の博物館で学芸員を務める大宮さんとの会話文を読み、以下の問に答えなさい。

淑子：今日は、自由研究のテーマを決めるため、博物館にやって来ました。

大宮：それは、それは…。学問研究の入口として博物館を選んだのは、ナイス・アイデアでしたね。もちろん、何でもきいて下さい。

淑子：私は歴史上の人物が大好きで、その実像に迫る歴史学という学問に、大変興味があります。ですが、その歴史学自体も年々多様化してきている、と伺いました。具体的に、どのように変わってきているのですか？

大宮：時代が進むとそれだけで研究対象は^{ひろ}広がりますし、科学技術の進歩に伴って、分析手法も変化します。従来の研究対象は、(1) 考古学的発見や文献史料などが中心でしたが、今では、(2) 絵画や絵図、写真など、視覚的な史料も一次的な研究対象になってきています。例えば、新しい研究領域の1つに、歴史人口学というものがあります。これは、現代の(3) コンピュータの開発と進歩を受けて登場したのですが、今では歴史学の主流になりつつある、と言っても過言ではありません。

淑子：歴史人口学というのは、私、初めて聞きました。各時代の人口に注目すると、何が見えてくるのですか？

大宮：これまでの歴史学は、どうしても英雄の活躍が中心でした。ですが、この歴史人口学は、歴史上の英雄ではなく、名もなき一般人を主役の座にすえて歴史を見てみよう、という立場です。もちろん、これまでの歴史学だって民衆の姿を描いてきましたが、それらは(4) 戦争・動乱・飢饉・災害などに巻き込まれる、非常時の民衆の姿でした。でも、今は違います。平時の民衆の姿を分析し、そこから何が言えるのかを見ようとしているのです。

淑子：私たちのような、ごくごく普通の人たちが何を考え、どんなふう生きてきたのか…。記録にあまり残らない一般人の歴史を、人口の観点から知ろうとしているのですね。私ももっと深く知りたいです。

大宮：民衆は日々の生活に追われますし、のんびりと記録している余裕もありません。その上、昔は、(5) 文字の読み書きが十分でない人々が大多数を占めていました。なので代わりに、集団としての民衆のあり方を研究しようということになり、一躍、人口が脚光を浴びたのだと思います。

淑子：歴史人口学は、日本でどのように発展したのですか？

大宮：注目され始めたのは、つい最近のことです。経済史家の速水融^{はやみあきら}氏は、江戸時代の日本人すべてが登録された (6) に注目しました。その結果、農民は領主によって土地にしばりつけられ、貧困にあえいでいたイメージが強かったのですが、必ずしもそうではなかったことが明らかになりました。例えば、江戸時代の後半になると、西南日本の人口が増大します。

(7) 寒冷な東日本の農村に比べ、温暖で二毛作も可能な九州地域など、西南日本の農村の方が、はるかに一家族あたりの子どもの数が多くなっていたことなどが、次々に明らかになってきました。これらの指摘の1つひとつは、とても小さな発見かもしれませんが、こうした事実を積み上げていくと、やがては歴史の真実を解き明かす、大きなヒントにもなるのです。

淑子：これからは、統計学などの理系的な知識や教養も持たないと、歴史の真実を見失ってしまう可能性がある、ということですね。私も、生きた証^{あかし}をちゃんと残したいので、学校から与えられた自由研究の課題も、人一倍がんばります。もっと歴史人口学について、教えてください。

問1 波線部(1)について、次の図は、ある都道府県で発見された、縄文時代の「遮光器土偶」を模したものです。発見時より、その珍しい形状とかわいらしさが話題となり、今では観光名所として、駅のモニュメントにもなっています。この都道府県名を答えなさい。

著作権の関係上、非表示にしています。

問2 波線部(2)について、次の図は、飛鳥時代の文化を代表する「法隆寺金堂壁画」(模写)の一部です。インドの「アジャンター壁画」に似ており、評判となりましたが、実物は1949年に焼けてしまいました。この反省をいかし、翌年に制定された法令、もしくは締結された条約は何ですか。適当なものを1つ選び、ア～エの記号で答えなさい。


ア 世界遺産条約

イ ラムサール条約

ウ 文化財保護法

エ 景観法

著作権の関係上、非表示にしています。



問3 波線部(3)について、インターネットが普及する以前、情報は、どのようにして伝えられてきましたか。その進歩の過程を時代順に並べ替えた時、2番目にあたるものはどれですか。ア～エの記号で答えなさい。

著作権の関係上、非表示にしています。

問4 波線部(4)について、各地方公共団体は今後の災害の度合いを想定し、住民に対策を立ててもらうため、ホームページに掲載したり、関連する諸地域に事前に配布したりするための地図を作製しています。このような地図は、何とよばれますか。答えなさい。

問5 波線部(5)について、江戸時代の日本は、文字を読み書きできる人の割合が高かったと言われています。それは、「寺子屋」とよばれる庶民教育施設が普及していたからです。庶民を受け入れた学校の歴史はもっと古く、「綜芸種智院しゆげいしゆちいん」とよばれる学校がすでに空海によって開かれていました。空海の説明として適当でないものを1つ選び、ア～エの記号で答えなさい。

ア 奈良時代初期に唐へわたり、密教を学んだ彼は、高野山にこんごうぶじ金剛峯寺を開いて、真言宗を創設しました。

イ 書が得意であった彼は、「風信帖ふうしんじょう」などの唐様からようの書を数多く残して、後に三筆さんびつとよばれました。

ウ さが嵯峨天皇の信頼が厚く、京都の地を与えられた彼は、そこに教王護国寺とうじ(東寺)を開きました。

エ こうぼうだいし弘法大師ともよばれた彼は、地方を巡歴し、各地に不思議な伝説を残しました。

問6 (6)にあてはまる語句は何ですか。適当なものを1つ選び、ア～エの記号で答えなさい。

ア 検地帳(水帳)

イ 宗門改帳(宗旨人別改帳)

ウ 戸籍

エ 住民基本台帳

問7 波線部(7)について、

- ① 二毛作は、1年間の限られた期間の中で、同じ品種ではない別の作物を育てることを言います。二毛作は、米ともう1つ、主に何を育てていましたか。作物の名前を答えなさい。
- ② もし、このことが正しいのなら、そこからどのような事実が推測されますか。これについてまとめた、次の文章を読み、とにあてはまる文章を1つずつ選び、それぞれア～カの記号で答えなさい。ただし、同じ記号は1度しか使用してはいけません。

西南日本では、。そのことが、改革の機運を盛り上げたのでしょうか。
。そのため、明治維新の大変革を成し遂げることができました。

- ア 増加した人口を支えられなくなり、旧来の鎖国政策をあきらめて条約を結び、いわゆる開国を行って、国民を海外へ進出させようとなりました。
- イ 薩摩・長州・土佐・肥前など、いわゆる西南雄藩が次々に藩政改革を成功させ、東日本を中心とした、江戸幕府に味方する勢力を打ち破りました。
- ウ 飢饉も相次いだことで日常生活が苦しくなり、農村部では百姓一揆が、都市部では打ちこわしが頻繁におこるようになりました。
- エ 幕府の政策を見限り、これまであまり政治的権限を持たされなかった天皇をかつぎ出し、外国人を追い出そうとする尊王攘夷運動が高まりました。
- オ 人口増大という、至急解決を求められる深刻な危機を前にして、人々を飢えから救い、就業させるために、産業奨励策などを積極的に実施しました。
- カ 現代のような少子高齢化の時代とはまったく異なり、子どもにかかる医療費や教育費など、公費助成の議論が急激に巻きおこりました。

2 次の文章を読み、以下の間に答えなさい。

近年、新型コロナウイルス感染拡大により大きく減退していた観光客数の回復が進んでいます。2023年には、三重県にある伊勢神宮で4年ぶりに参拝客が700万人を超えたことが報じられました。

伊勢神宮は、古くから多くの信仰を集めていましたが、⁽¹⁾江戸時代には「お伊勢参り」が大流行し、多くの人々が伊勢神宮を訪れ、旅人の情報や文化交流の場として栄えました。お伊勢参りの人々に好まれたという赤福は、伊勢名物として現在でも三重県を代表する銘菓^{めいかに}となっており、これ以外にも伊勢えびや桑名^{くわな}のハマグリなど、県内で有名な特産品が数多くあります。こうしたグルメを楽しみに三重県を訪れる人々も少なくありません。

伊勢えびは三重県の県魚にも指定されており、三重県では主に県中東部にある志摩半島地域で漁獲されています。志摩半島にみられる海岸は□□□海岸とよばれ、ノコギリの歯のように複雑に入り組んでいます。このような海岸の入江付近は波が低く水深が深いため、⁽²⁾養殖漁業などが盛んです。また、志摩半島に位置する⁽³⁾鳥羽市には、飼育種類数が日本一で、約1200種、約3万点もの海や川の生き物を展示している鳥羽水族館などがあり、伊勢・志摩は三重県全体の中でも特に多くの観光客が訪れています。

これらの地域以外に、鈴鹿市や⁽⁴⁾亀山市など県北部の地域では、県下最大の工業都市である⁽⁵⁾四日市市を中心に工業も発達しています。その南にある県中部には、⁽⁶⁾県庁所在地の津市があります。津市は、古くは安濃津^{あのうづ}とよばれる港町で、江戸時代には津藩の城下町として、さらに伊勢街道の宿場町としても栄えました。現在も当時の石垣などが残されているほか、海と山に挟まれた自然の景観が広がっています。

このように三重県にはたくさんの魅力があり、それを利用した観光業は地域の経済を支える産業として重要な立ち位置にあります。また、皆さんが観光をすることでもたらされた利益は、恵まれた自然環境や、魅力ある景観・歴史を維持していくことにもつながります。こうした自然や歴史を守るためにも、観光地を訪れて、ぜひその土地の自然や文化を体感してみましょう。

著作権の関係上、非表示にしています。

問1 文中の□□□にあてはまる語句は何ですか。答えなさい。

問2 波線部(1)について、次のレポートは、江戸時代の三重県松阪市についてまとめたものです。レポートを見た野田さんと徳井さんの意見の正誤について述べた文章として適当なものを1つ選び、ア～エの記号で答えなさい。

松阪市についてまとめたレポート

【松阪市にゆかりのある人物】

・三井高利

三井グループの創業者とされる。14歳で江戸に出て呉服店で修業した後、出身地にもどって金融業をおこした。

・本居宣長

江戸時代の国学者。大きな商人の家に生まれたが商売の才能はなく、医者を目指し京都に出て医学を学んだ。『古事記』の研究を35年間行い、『古事記伝』を完成させた。

【松阪市の特産物】

・松阪木綿

縞模様は「松阪嶋」とよばれており、江戸で大流行した。松阪木綿を見たイギリス人からはジャパンプルーと称される美しい色合いであった。下にある歌川広重の「東都大伝馬街繁栄之図」に描かれた大伝馬町には、木綿問屋が集まっていた。そのため、越後屋などの有名な呉服店が江戸の町に店を構えていた。



(東京都立図書館 江戸・東京デジタルミュージアムより引用)

野田さんと徳井さんの意見

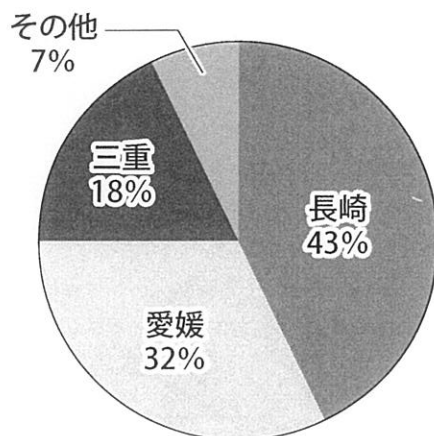
野田さん：大伝馬町の道行く人々の着物やこの街の暖簾のれんの色は、藍色あいに染められているものが多かったと考えられます。

徳井さん：松阪には商人は多かったですが、江戸時代に大流行した「お伊勢参り」の影響で、商業は次第に衰退していったようです。

- ア 野田さんの意見のみが正しい
- イ 徳井さんの意見のみが正しい
- ウ 野田さんと徳井さんの意見は、どちらも正しい
- エ 野田さんと徳井さんの意見は、どちらも正しくない

問3 波線部(2)について、三重県では志摩市を中心とする沿岸地域で、ある水産物の養殖が行われています。ある水産物とは何ですか。以下の資料1を参考にして適切なものを1つ選び、ア～エの記号で答えなさい。

資料1 令和4年 ある水産物の都道府県別収穫量の割合



(「農林水産省令和4年漁業・養殖業生産統計」より作成)

ア わかめ

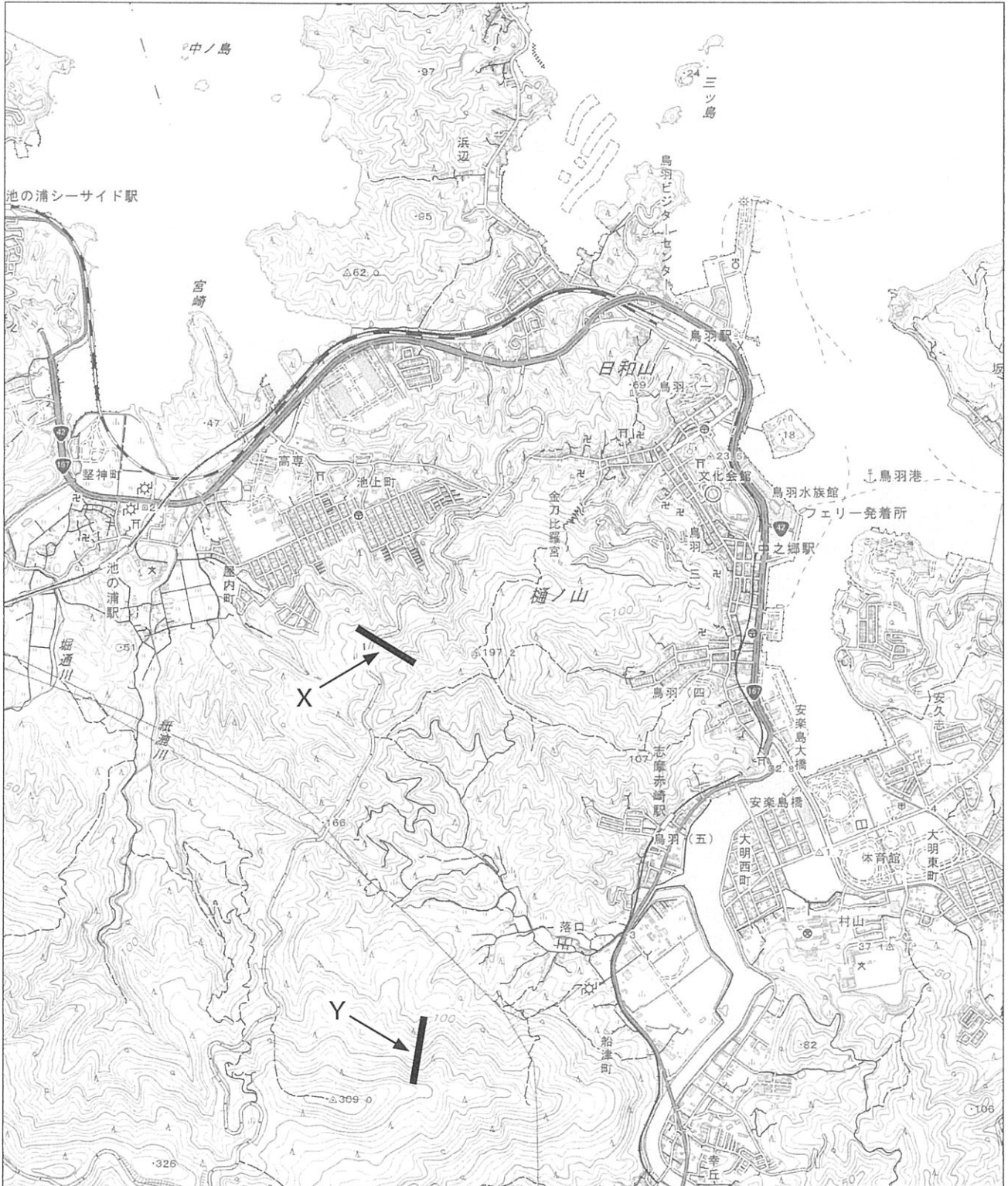
イ かき

ウ 真珠

エ くるまえび

問4 波線部(3)について、

- ① 次の地形図は鳥羽市のものです。地形図から読み取れることとして適当でないものを1つ選び、ア～エの記号で答えなさい。なお、下線部の情報には誤りはないものとします。



(国土地理院発行 2万5千分の1地形図「鳥羽」原寸より作成)

- ア 地形図中で鳥羽駅と大明東町にある体育館の距離を測定すると 9cm で、実際の距離は 2250m になります。
- イ 中之郷駅から志摩赤崎駅へ車で向かう場合、右手に郵便局を見ながら国道 167 号を道なりに進み、安楽島大橋の手前を右折します。
- ウ 地図上で同じ長さである X と Y の傾斜を比べると、X の斜面の方が、勾配がなだらかであることがわかります。
- エ 池の浦駅の北には灯台が設置されており、船舶に対して航行の安全を図っていることがうかがえます。

- ② 鳥羽市の漁業と観光の連携について、阿弥子さんが報告を行いました。文中の空欄 **A** にあてはまる語句として適当なものを答えなさい。
- また、空欄 **B** にあてはまる手段として適当なものを 5字以内で答えなさい。

【阿弥子さんの報告】

近年鳥羽市では、漁業と観光業の連携によって漁業自体の収入の向上を見込めています。鳥羽市としてもこれを後押しする形でエコツーリズムとの連携や観光復興を期待しています。

こうした漁業と観光業の連携について、実際に資料1にまとめてある仕事についている方々にインタビューを行いました。**A**として働いている方からは、「私たちの仕事は現在、国の重要無形民俗文化財に指定されています。伝統的な漁業のほかにもとれたての海産物を炭火で焼いて、その場で観光客に食事を提供するなど、観光業による売り上げが増えていると実感しています。」との回答が得られました。

また、2023（令和5）年は3年ぶりに外国船籍クルーズ船が鳥羽港へ入港した影響によって、外国人観光客数の増加が見られました。資料2はこの年のクルーズ船乗客者数をまとめたものです。実際に漁業関係者が外国人観光客へ接する機会が多くありますが、**B**ことでコミュニケーションが充分にとれているとインタビューで話をしていました。

著作権の関係上、非表示にしています。

著作権の関係上、非表示にしています。

問5 波線部(4)について、以前よりリニア中央新幹線の整備が進行しており、2037年に全線開業を目指しています。三重県内では、亀山市への駅設置をめざし、2022年度内にJR東海に対して駅候補地の要望を行いました。この新幹線が通る予定のない都道府県として適当なものを1つ選び、ア～エの記号で答えなさい。

著作権の関係上、非表示にしています。

問6 波線部(5)について、三重県四日市市を含む工業地域では、過去に公害問題が発生し、社会問題として新聞やニュースで取り上げられました。次の資料はある公害病についての経緯がまとめられた年表です。資料中の にあてはまる公害病の名称と が発生した都道府県の組み合わせとして適当なものを1つ選び、ア～エの記号で答えなさい。

ア C-イタイイタイ病 都道府県-富山県

イ C-イタイイタイ病 都道府県-熊本県

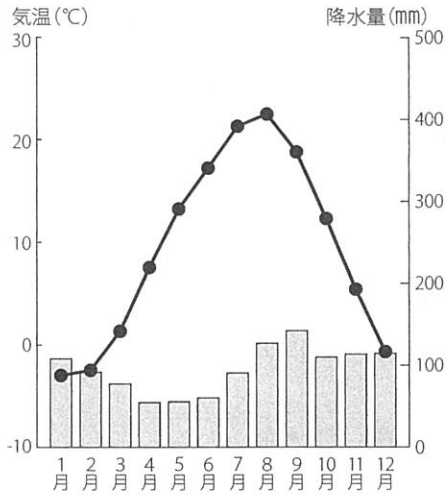
ウ C-水俣病 都道府県-富山県

エ C-水俣病 都道府県-熊本県

著作権の関係上、非表示にしています。

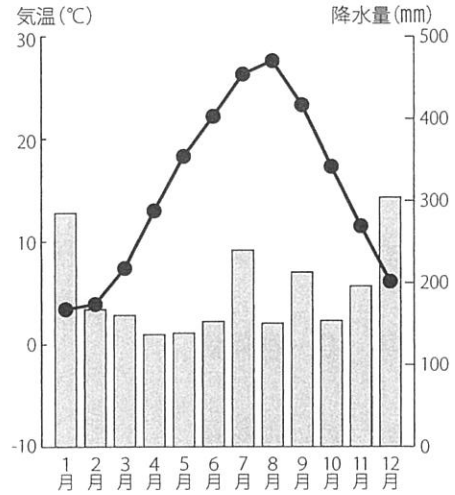
問7 波線部(6)について、津市の雨温図はどれですか。適当なものを1つ選び、ア～エの記号で答えなさい。

年平均気温: 9.2℃
年降水量: 1146.1mm



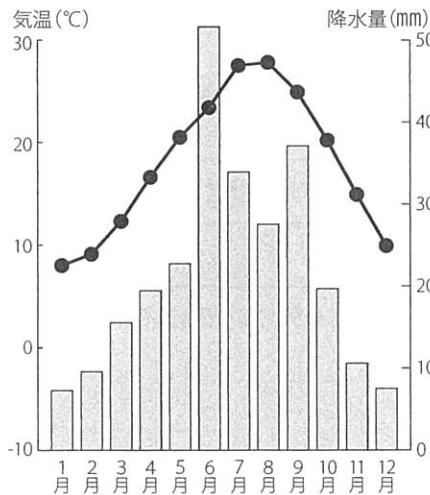
ア

年平均気温: 14.8℃
年降水量: 2299.6mm



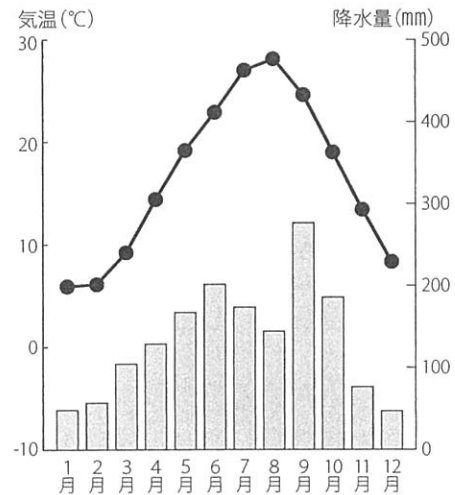
イ

年平均気温: 17.7℃
年降水量: 2625.5mm



ウ

年平均気温: 16.3℃
年降水量: 1612.9mm



エ

(気象庁HPより作成)

3 2016年に施行された女性活躍推進法や、2024年4月に施行された女性支援新法など、女性の活躍を後押しする社会整備が進んでいます。

問1 日本初の女性弁護士のみひとりである三淵嘉子^{みぶちよしこ}が、NHKの朝の連続テレビ小説で主人公のモデルとなりました。

著作権の関係上、非表示にしています。

① 三淵嘉子は、弁護士試験に女性で初めて合格しました。この時期までに、日本人女性が就いた就業として適当でないものを1つ選び、ア～エの記号で答えなさい。

ア 新聞記者

イ アナウンサー

ウ 国会議員

エ 医師

- ② 三淵嘉子は、東京地方裁判所の裁判官や新潟家庭裁判所の裁判長などを歴任しました。裁判に関する説明として適当でないものを1つ選び、ア～エの記号で答えなさい。

ア 弾劾裁判の裁判員は、衆議院と参議院からそれぞれ選出されます。

イ 最高裁判所のみが、違憲立法審査権を保持しています。

ウ 一般の刑事事件において、第一審から第二審を求めることを控訴とよびます。

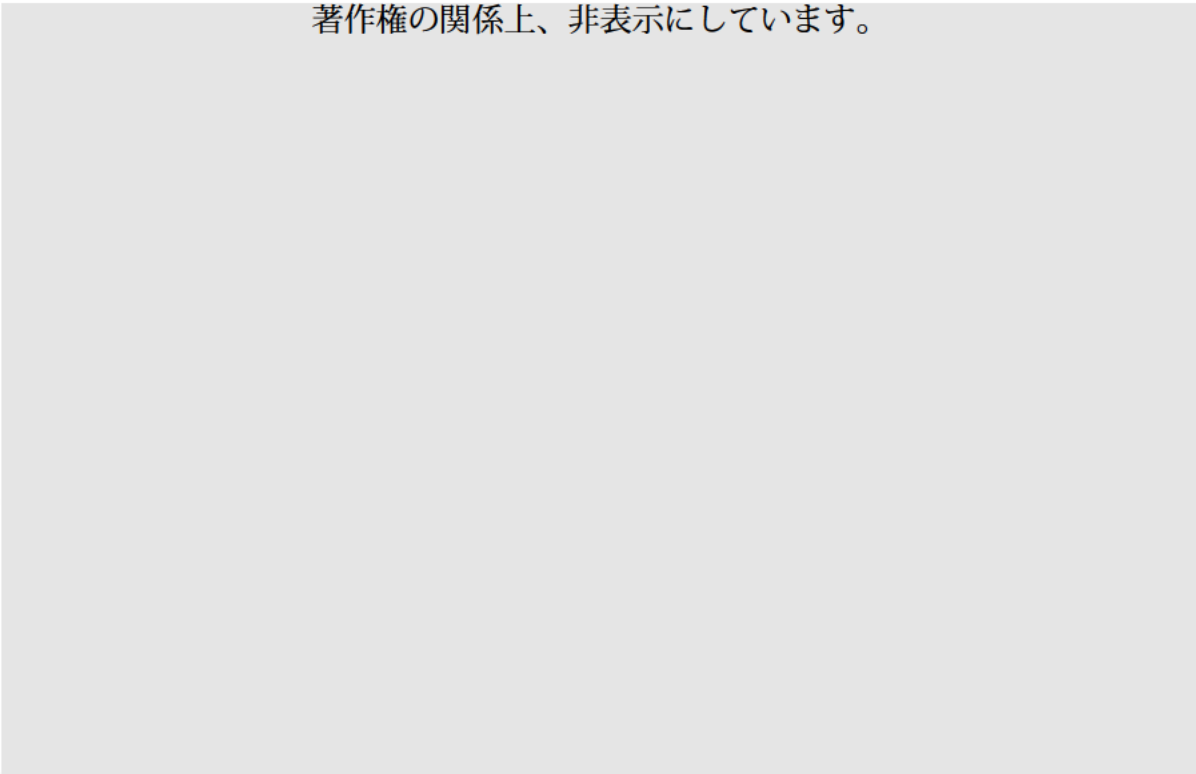
エ 最高裁判所の裁判官は、衆議院議員総選挙の際に行われる国民審査の結果により、罷免される場合があります。

問2 2024年7月7日に東京都知事選挙が行われ、現職の小池百合子氏が再選されました。

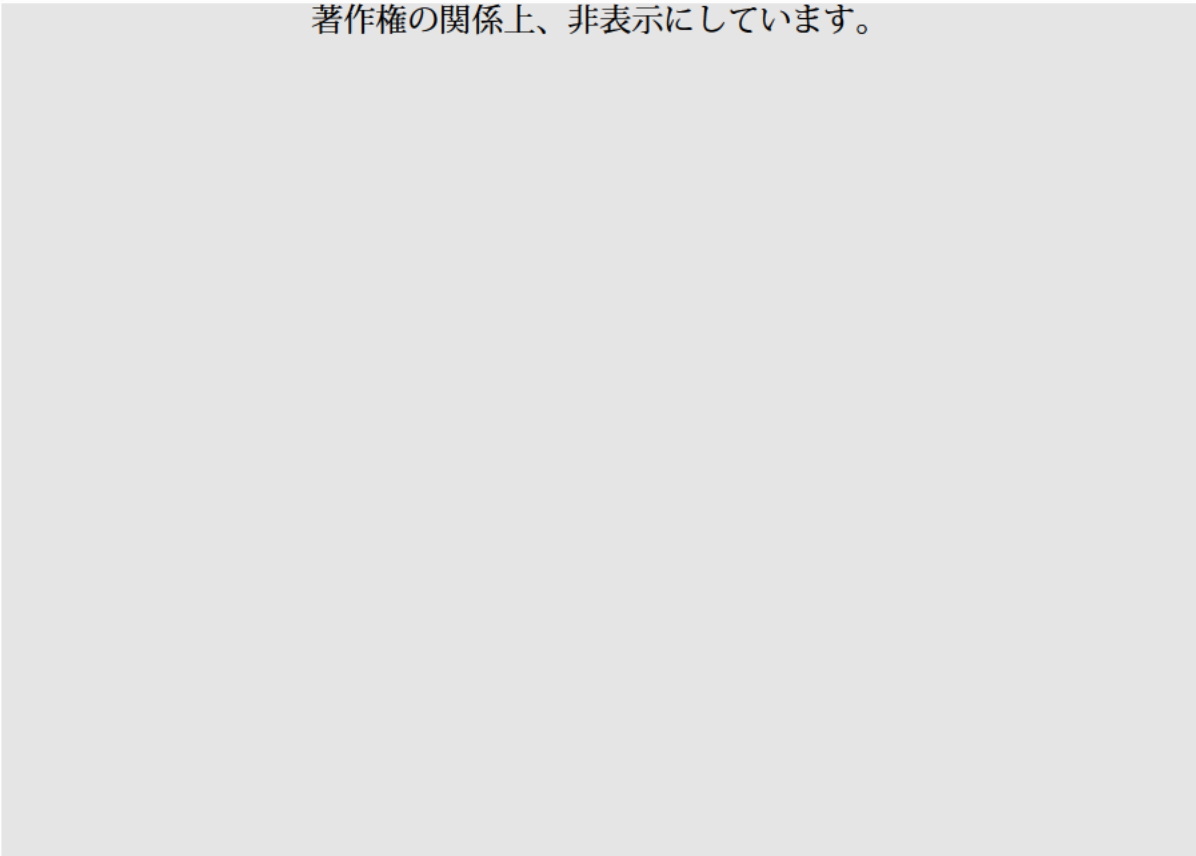
- ① 東京都知事選挙では、都内の地域(青梅市、清瀬市、渋谷区のいずれか)別に見ると資料1のような得票率になりました。また、資料2は、各候補者の演説に使われた言葉の数に応じて文字サイズが変化するテキストマイニングを用いて作成されたものです。大きい文字は演説で何度も用いられた言葉を表しています。地図を参考に、資料1・2から読み取れるものとして、適当でないものを1つ選び、ア～エの記号で答えなさい。

著作権の関係上、非表示にしています。

著作権の関係上、非表示にしています。



著作権の関係上、非表示にしています。



- ア 候補者Aは3地区すべてにおいて、高い得票率を示していることから、幅広い地域で支持を集めていることがわかります。
- イ 候補者Bは、「政治」「始まる」以外はほぼ同じ大きさの文字で書いてあるため、いろいろな言葉を用いてさまざまな話題で演説していたと推測できます。
- ウ 候補者Cは、「子供」「暮らし」「若い人」などが目立ち、Z地区の得票率が一番高いことから、この地区には子育て世帯が多いと推測できます。
- エ 他の地区と比べた時に、X地区では候補者Aに対する得票率が特に高く、昔から東京に住んでいる「都民」が感染症対策を期待して投票したと推測できます。

② 地方自治は民主主義の学校であると言われていています。次の文章のうち、地方自治の説明として適当でないものを1つ選び、ア～エの記号で答えなさい。

- ア ある地域の条例を制定または改廃する際は、そこに住む有権者の50分の1以上の署名を集め、首長に請求することができます。
- イ オンブズマン制度は住民からの要求により地方自治体に改善を勧告する仕組みであり、一部の地方自治体で導入されています。
- ウ 地方議員と首長は解職請求に基づき、住民投票を行い、その結果、そこに住む有権者の3分の2以上の賛成があれば解職させることができます。
- エ 国庫支出金は国から交付される財源ですが、その使い道は国が決めているため、地方自治の自主性が損なわれる恐れが指摘されています。

問3 日本のジェンダーギャップ指数(経済・政治・教育・健康)によると、他国と比較した際に低く、2024年は経済分野が4項目の中で最も低い結果となりました。

① 男女労働者の間に生じている格差を是正しようと、ポジティブ・アクションとよばれる取り組みを進めています。この取り組みを積極的に推進している省はどこですか、漢字で答えなさい。

② 日本と海外を比較する際に用いられる経済指数があります。日本の指数は、2023年にドイツに抜かれ、世界4位に後退しました。その指数とは何ですか。

□□□□□にあてはまる語句を漢字5文字で答えなさい。

③ 経済分野の結果が低い理由として、「女性の管理職や役職などへの登用の遅れ」が指摘されています。次の資料1・2から読み取れる文章の正誤の組み合わせとして適当なものを1つ選び、ア～エの記号で答えなさい。

I 民間企業では、係長・課長・部長といった女性の役職者の割合は徐々に増え続けています。

II 民間企業で女性の役職者の割合が増えてきたのは、20代の女性の就業率が高くなってきたからです。

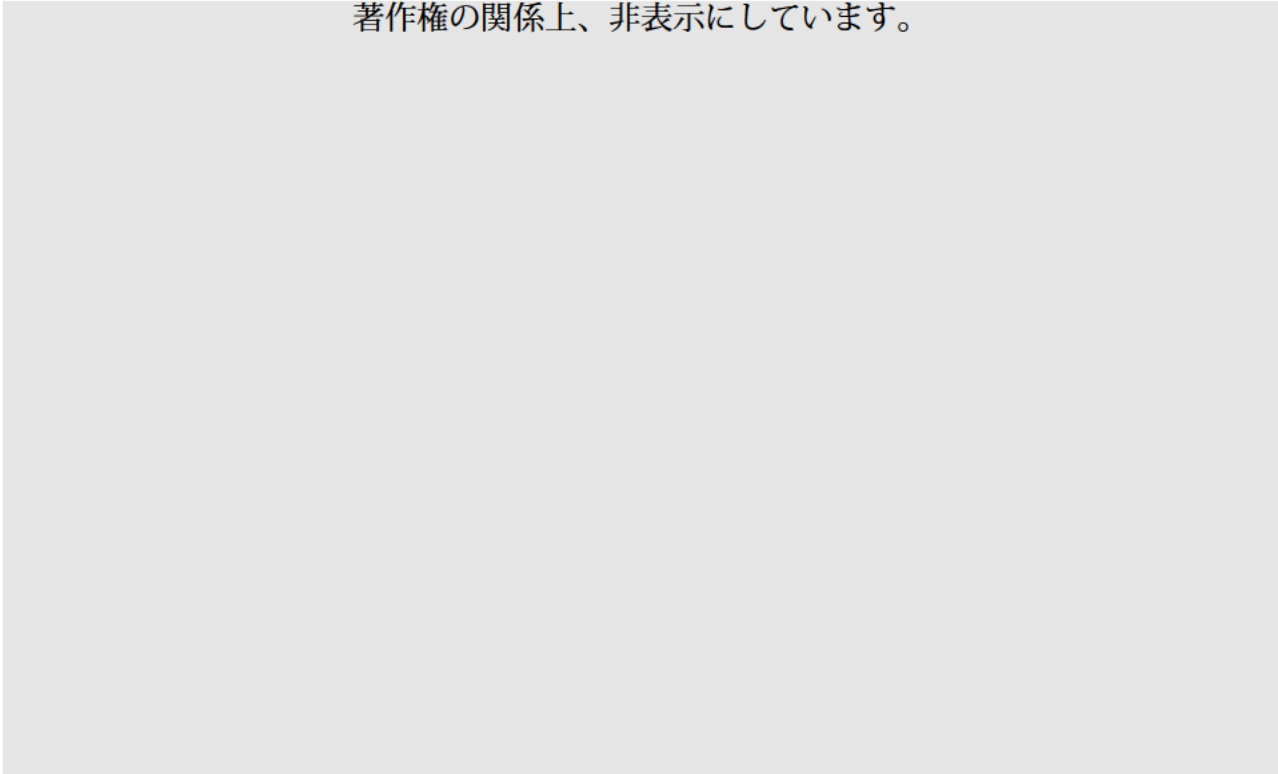
ア I - 正 II - 正

イ I - 正 II - 誤

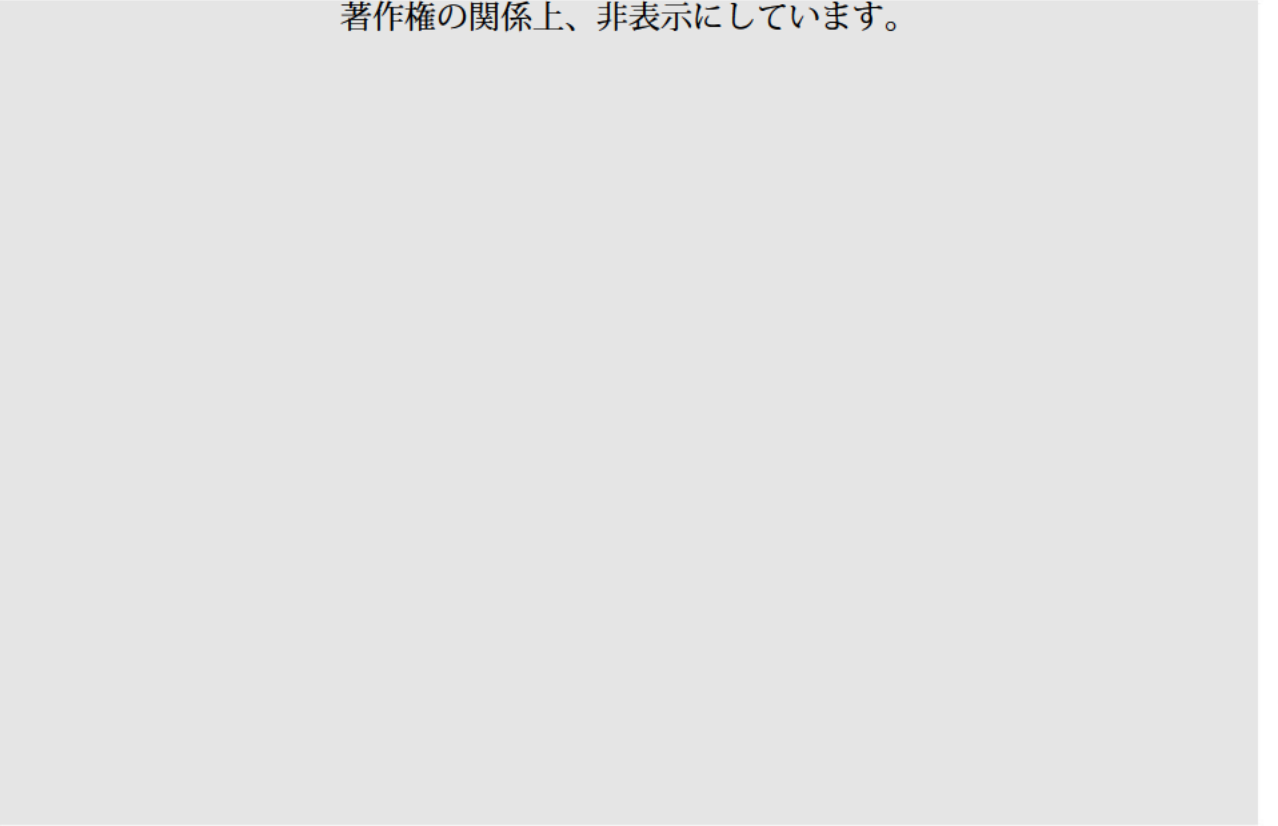
ウ I - 誤 II - 正

エ I - 誤 II - 誤

著作権の関係上、非表示にしています。



著作権の関係上、非表示にしています。



1

問1 問2 問3

問4 問5 問6

問7 ① ② A B

2

問1 問2 問3

問4 ① ② A B

問5 問6 問7

3

問1 ① ② 問2 ① ②

問3 ① 省 ② ③

↓ ここにシールを貼ってください ↓



250140

受験番号

氏名